



小数のわり算 6

● 小数点以下1けたの
帯小数 ÷ 2けたの整数



日にち： 月 日

名まえ _____

・ 次の計算をしなさい。（うすい字はなぞりましょう。）

①

			2	6
2	4)	6	2.4
			4	8
			1	4
			1	4
				0

②

			3	
1	8)	5	7.6
			5	4
			3	6

③ 49.6 ÷ 16

)	4	9.6

④ 85.8 ÷ 66

)		

⑤ 51.3 ÷ 27

⑥ 34.5 ÷ 23

2	3)	3	4.5





小数のわり算 6

○ 小数点以下1けたの
帯小数 ÷ 2けたの整数



日にち： 月 日

名まえ _____

・ 次の計算をしなさい。（うすい字はなぞりましょう。）

①

			5	.		
1	4)	8	1	.	2
			7	0		
			1	1	2	

②

				1	.	
3	7)	6	2	.	9
			3	7		
			2	5		

③ $68.8 \div 43$

)	6	8	8

④ $62.1 \div 23$

)			

⑤ $61.2 \div 36$

⑥ $84.6 \div 47$

)			



小数のわり算 6

○ 小数点以下1けたの
帯小数 ÷ 2けたの整数



日にち： 月 日

名まえ _____

・ 次の計算をしなさい。（うすい字はなぞりましょう。）

①

			3.
1	6)	54.4
			48

②

3	8)	68.4	

③ 85.1 ÷ 23

)	85.1

④ 33.6 ÷ 12

)	

⑤ 32.2 ÷ 14

⑥ 64.8 ÷ 24

)	



小数のわり算 6

● 小数点以下1けたの
帯小数 ÷ 2けたの整数



日にち： 月 日

名まえ _____

・ 次の計算をしなさい。（うすい字はなぞりましょう。）

①

2	9)	6	0	.	9

②

1	9)	6	4	.	6

③ 33.6 ÷ 14

)	3	3	.	6

④ 89.3 ÷ 19

)			.	

⑤ 41.4 ÷ 23

)			.	

⑥ 43.2 ÷ 27

)			.	



小数のわり算 6

● 小数点以下1けたの
帯小数 ÷ 2けたの整数



日にち： 月 日

名まえ _____

・ 次の計算をしなさい。（うすい字はなぞりましょう。）

①

1	4)	8	8	.	2

②

3	3)	5	2	.	8

③ $61.1 \div 47$

)	6	1	.	1

④ $81.2 \div 14$

)			.	

⑤ $86.4 \div 24$

)			.	

⑥ $55.9 \div 13$

)			.	



小数のわり算 6

● 小数点以下1けたの
帯小数 ÷ 2けたの整数



日にち： 月 日

名まえ _____

・ 次の計算をしなさい。（うすい字はなぞりましょう。）

①

1	7)	6	2	.	9

②

1	6)	6	0	.	8

③ 70.4 ÷ 32

)	7	0	.	4

④ 61.1 ÷ 13

)	6	1	.	1

⑤ 47.5 ÷ 19

)	4	7	.	5

⑥ 41.4 ÷ 23

)	4	1	.	4



小数のわり算 6

● 小数点以下1けたの
帯小数 ÷ 2けたの整数



日にち： 月 日

名まえ _____

・ 次の計算をしなさい。（うすい字はなぞりましょう。）

①

2	6)	9	6	.	2

②

1	7)	4	2	.	5

③

73.5 ÷ 15

)	7	3	.	5

④

46.8 ÷ 18

)	4	6	.	8

⑤

64.8 ÷ 36

)	6	4	.	8

⑥

40.6 ÷ 29

)	4	0	.	6



小数のわり算 6

● 小数点以下1けたの
帯小数 ÷ 2けたの整数



日にち： 月 日

名まえ _____

・ 次の計算をしなさい。

①

1	8)	7	3	.	8

②

2	6)	9	8	.	8

③ $40.8 \div 17$

④ $60.8 \div 32$

⑤ $42.5 \div 25$

⑥ $82.8 \div 18$



小数のわり算 6

● 小数点以下1けたの
帯小数 ÷ 2けたの整数



日にち： 月 日

名まえ _____

・ 次の計算をしなさい。

①

2	3)	8	5	.	1

②

2	7)	4	5	.	9

③ $79.8 \div 21$

④ $37.7 \div 13$

⑤ $77.4 \div 18$

⑥ $60.8 \div 16$



小数のわり算 6

● 小数点以下1けたの
帯小数 ÷ 2けたの整数



日にち： 月 日

名まえ _____

・ 次の計算をしなさい。

①

1	3)	3	1	.	2

②

5)	2	4	.	5

③ $94.8 \div 12$

④ $45.6 \div 8$

⑤ $45.1 \div 11$

⑥ $51.8 \div 37$



小数のわり算 6

● 小数点以下1けたの
帯小数 ÷ 2けたの整数



日にち： 月 日

名まえ _____

・ 次の計算をしなさい。

①

3	1)	8	6	.	8

②

7)	6	0	.	9

③

45.6 ÷ 19

④

66.7 ÷ 23

⑤

61.2 ÷ 36

⑥

47.6 ÷ 7



小数のわり算 6

● 小数点以下1けたの
帯小数 ÷ 2けたの整数



日にち： 月 日

名まえ _____

・ 次の計算をしなさい。

①

1	6)	2	2.4

②

4)	3	8.8	

③

34.5 ÷ 15

④

40.8 ÷ 6

⑤

58.5 ÷ 15

⑥

75.6 ÷ 27



小数のわり算 6

● 小数点以下1けたの
帯小数 ÷ 2けたの整数



日にち： 月 日

名まえ _____

・ 次の計算をしなさい。

①

1	5)	3	4	.	5

②

3)	1	7	.	7

③

$55.2 \div 12$

④

$64.8 \div 36$

⑤

$54.6 \div 14$

⑥

$60.8 \div 8$



小数のわり算 6

○ 小数点以下1けたの
帯小数 ÷ 2けたの整数



日にち： 月 日

名まえ

・ 次の計算をしなさい。

①

1	3)	8	7	.1

②

9)	7	4	.	7

③ $75.4 \div 13$

④ $34.8 \div 6$

⑤ $85.8 \div 39$

⑥ $44.2 \div 17$



小数のわり算 6

○ 小数点以下1けたの
帯小数 ÷ 2けたの整数



目指せ80点!



名まえ _____

・ 次の計算をしなさい。(各20点)

①

5)	1	8	.5



②

3	3)	7	9	.2

③ $28.8 \div 8$

④ $83.2 \div 26$

⑤ $44.8 \div 14$





小数のわり算 6

○ 小数点以下1けたの
帯小数 ÷ 2けたの整数



目指せ80点!



名まえ _____

・ 次の計算をしなさい。(各20点)

①

4)	31	.6



②

13)	35	.1

③ $46.2 \div 6$

④ $36.4 \div 13$

⑤ $59.5 \div 35$





小数のわり算 6

● 小数点以下1けたの
帯小数 ÷ 2けたの整数



日にち： 月 日

名まえ _____

・ 次の計算をしなさい。（うすい字はなぞりましょう。）

①

			2.6
24)	62.4	
		48	
		144	
		144	
			0

②

			3.2
18)	57.6	
		54	
		36	
		36	
			0

③ $49.6 \div 16$

			3.1
16)	49.6	
		48	
		16	
		16	
			0

④ $85.8 \div 66$

			1.3
66)	85.8	
		66	
		198	
		198	
			0

⑤ $51.3 \div 27$

			1.9
27)	51.3	
		27	
		243	
		243	
			0

⑥ $34.5 \div 23$

			1.5
23)	34.5	
		23	
		115	
		115	
			0





小数のわり算 6

○ 小数点以下1けたの
帯小数 ÷ 2けたの整数



日にち： 月 日

名まえ _____

・ 次の計算をしなさい。（うすい字はなぞりましょう。）

①

			5	.	8	
1	4)	8	1	.	2
			7	0		
			1	1	2	
			1	1	2	
					0	

②

			1	.	7	
3	7)	6	2	.	9
			3	7		
			2	5	9	
			2	5	9	
					0	

③ $68.8 \div 43$

			1	.	6	
4	3)	6	8	.	8
			4	3		
			2	5	8	
			2	5	8	
					0	

④ $62.1 \div 23$

			2	.	7	
2	3)	6	2	.	1
			4	6		
			1	6	1	
			1	6	1	
					0	

⑤ $61.2 \div 36$

			1	.	7	
3	6)	6	1	.	2
			3	6		
			2	5	2	
			2	5	2	
					0	

⑥ $84.6 \div 47$

			1	.	8	
4	7)	8	4	.	6
			4	7		
			3	7	6	
			3	7	6	
					0	





小数のわり算 6

● 小数点以下1けたの
帯小数 ÷ 2けたの整数



日にち： 月 日

名まえ _____

・ 次の計算をしなさい。（うすい字はなぞりましょう。）

①

			3	.	4	
1	6)	5	4	.	4
			4	8		

			6	4		
			6	4		

					0	

②

					1	.	8
3	8)	6	8	.	4	
			3	8			

			3	0	4		
			3	0	4		

						0	

③ $85.1 \div 23$

			3	.	7	
2	3)	8	5	.	1
			6	9		

			1	6	1	
			1	6	1	

					0	

④ $33.6 \div 12$

			2	.	8	
1	2)	3	3	.	6
			2	4		

			9	6		
			9	6		

					0	

⑤ $32.2 \div 14$

			2	.	3	
1	4)	3	2	.	2
			2	8		

			4	2		
			4	2		

					0	

⑥ $64.8 \div 24$

			2	.	7	
2	4)	6	4	.	8
			4	8		

			1	6	8	
			1	6	8	

					0	





小数のわり算 6

○ 小数点以下1けたの
帯小数 ÷ 2けたの整数



日にち： 月 日

名まえ _____

・ 次の計算をしなさい。（うすい字はなぞりましょう。）

①

			2	.	1	
2	9)	6	0	.	9
			5	8		
			2	9		
			2	9		
						0

②

			3	.	4	
1	9)	6	4	.	6
			5	7		
			7	6		
			7	6		
						0

③ $33.6 \div 14$

			2	.	4	
1	4)	3	3	.	6
			2	8		
			5	6		
			5	6		
						0

④ $89.3 \div 19$

			4	.	7	
1	9)	8	9	.	3
			7	6		
			1	3	3	
			1	3	3	
						0

⑤ $41.4 \div 23$

			1	.	8	
2	3)	4	1	.	4
			2	3		
			1	8	4	
			1	8	4	
						0

⑥ $43.2 \div 27$

			1	.	6	
2	7)	4	3	.	2
			2	7		
			1	6	2	
			1	6	2	
						0





小数のわり算 6

○ 小数点以下1けたの
帯小数 ÷ 2けたの整数



日にち： 月 日

名まえ _____

・ 次の計算をしなさい。（うすい字はなぞりましょう。）

①

			6	.	3	
1	4)	8	8	.	2
			8	4		
			4	2		
			4	2		
						0

②

					1	.	6
3	3)	5	2	.	8	
			3	3			
			1	9	8		
			1	9	8		
						0	

③ $61.1 \div 47$

					1	.	3
4	7)	6	1	.	1	
			4	7			
			1	4	1		
			1	4	1		
						0	

④ $81.2 \div 14$

					5	.	8
1	4)	8	1	.	2	
			7	0			
			1	1	2		
			1	1	2		
						0	

⑤ $86.4 \div 24$

					3	.	6
2	4)	8	6	.	4	
			7	2			
			1	4	4		
			1	4	4		
						0	

⑥ $55.9 \div 13$

					4	.	3
1	3)	5	5	.	9	
			5	2			
					3	9	
					3	9	
						0	



小数のわり算 6

○ 小数点以下1けたの
帯小数 ÷ 2けたの整数



日にち： 月 日

名まえ _____

・ 次の計算をしなさい。（うすい字はなぞりましょう。）

①

			3	.	7	
1	7)	6	2	.	9
			5	1		
			1	1	9	
			1	1	9	
					0	

②

			3	.	8	
1	6)	6	0	.	8
			4	8		
			1	2	8	
			1	2	8	
					0	

③ $70.4 \div 32$

			2	.	2	
3	2)	7	0	.	4
			6	4		
			6	4		
			6	4		
					0	

④ $61.1 \div 13$

			4	.	7	
1	3)	6	1	.	1
			5	2		
			9	1		
			9	1		
					0	

⑤ $47.5 \div 19$

			2	.	5	
1	9)	4	7	.	5
			3	8		
			9	5		
			9	5		
					0	

⑥ $41.4 \div 23$

			1	.	8	
2	3)	4	1	.	4
			2	3		
			1	8	4	
			1	8	4	
					0	



小数のわり算 6

○ 小数点以下1けたの
帯小数 ÷ 2けたの整数



日にち： 月 日

名まえ _____

・ 次の計算をしなさい。（うすい字はなぞりましょう。）

①

			3	.	7	
2	6)	9	6	.	2
			7	8		
			1	8	2	
			1	8	2	
					0	

②

			2	.	5	
1	7)	4	2	.	5
			3	4		
				8	5	
				8	5	
					0	

③ $73.5 \div 15$

			4	.	9	
1	5)	7	3	.	5
			6	0		
			1	3	5	
			1	3	5	
					0	

④ $46.8 \div 18$

			2	.	6	
1	8)	4	6	.	8
			3	6		
				1	0	8
				1	0	8
					0	

⑤ $64.8 \div 36$

			1	.	8	
3	6)	6	4	.	8
			3	6		
			2	8	8	
			2	8	8	
					0	

⑥ $40.6 \div 29$

			1	.	4	
2	9)	4	0	.	6
			2	9		
				1	1	6
				1	1	6
					0	



小数のわり算 6

○ 小数点以下1けたの
帯小数 ÷ 2けたの整数



日にち： 月 日

名まえ _____

・ 次の計算をしなさい。

①

			4	.	1	
1	8)	7	3	.	8
			7	2		
				1	8	
				1	8	
					0	

②

			3	.	8	
2	6)	9	8	.	8
			7	8		
				2	0	8
				2	0	8
						0

③ $40.8 \div 17$

			2	.	4	
1	7)	4	0	.	8
			3	4		
				6	8	
				6	8	
					0	

④ $60.8 \div 32$

			1	.	9	
3	2)	6	0	.	8
			3	2		
				2	8	8
				2	8	8
						0

⑤ $42.5 \div 25$

			1	.	7	
2	5)	4	2	.	5
			2	5		
				1	7	5
				1	7	5
						0

⑥ $82.8 \div 18$

			4	.	6	
1	8)	8	2	.	8
			7	2		
				1	0	8
				1	0	8
						0



小数のわり算 6

○ 小数点以下1けたの
帯小数 ÷ 2けたの整数



日にち： 月 日

名まえ _____

・ 次の計算をしなさい。

①

			3	.	7	
2	3)	8	5	.	1
			6	9		
			1	6	1	
			1	6	1	
					0	

②

			1	.	7	
2	7)	4	5	.	9
			2	7		
			1	8	9	
			1	8	9	
					0	

③ $79.8 \div 21$

			3	.	8	
2	1)	7	9	.	8
			6	3		
			1	6	8	
			1	6	8	
					0	

④ $37.7 \div 13$

			2	.	9	
1	3)	3	7	.	7
			2	6		
			1	1	7	
			1	1	7	
					0	

⑤ $77.4 \div 18$

			4	.	3	
1	8)	7	7	.	4
			7	2		
			5	4		
			5	4		
					0	

⑥ $60.8 \div 16$

			3	.	8	
1	6)	6	0	.	8
			4	8		
			1	2	8	
			1	2	8	
					0	



小数のわり算 6

○ 小数点以下1けたの
帯小数 ÷ 2けたの整数



日にち： 月 日

名まえ _____

・ 次の計算をしなさい。

①

			2	4		
1	3)	3	1	.	2
			2	6		
				5	2	
				5	2	
					0	

②

			4	9		
5)	2	4	.	5	
			2	0		
				4	5	
				4	5	
					0	

③ $94.8 \div 12$

			7	9		
1	2)	9	4	.	8
			8	4		
				1	0	8
				1	0	8
						0

④ $45.6 \div 8$

			5	7		
8)	4	5	.	6	
			4	0		
				5	6	
				5	6	
						0

⑤ $45.1 \div 11$

			4	.	1	
1	1)	4	5	.	1
			4	4		
					1	1
					1	1
						0

⑥ $51.8 \div 37$

			1	.	4		
3	7)	5	1	.	8	
			3	7			
					1	4	8
					1	4	8
							0



小数のわり算 6

○ 小数点以下1けたの
帯小数 ÷ 2けたの整数



日にち： 月 日

名まえ _____

・ 次の計算をしなさい。

①

			2.8
31)	86.8	
		62	
		248	
		248	
			0

②

			8.7
7)	60.9	
		56	
		49	
		49	
			0

③ $45.6 \div 19$

			2.4
19)	45.6	
		38	
		76	
		76	
			0

④ $66.7 \div 23$

			2.9
23)	66.7	
		46	
		207	
		207	
			0

⑤ $61.2 \div 36$

			1.7
36)	61.2	
		36	
		252	
		252	
			0

⑥ $47.6 \div 7$

			6.8
7)	47.6	
		42	
		56	
		56	
			0



小数のわり算 6

○ 小数点以下1けたの
帯小数 ÷ 2けたの整数



日にち： 月 日

名まえ _____

・ 次の計算をしなさい。

①

			1.4
16)	22.4	
		16	
		64	
		64	
		0	

②

			9.7
4)	38.8	
		36	
		28	
		28	
		0	

③ $34.5 \div 15$

			2.3
15)	34.5	
		30	
		45	
		45	
		0	

④ $40.8 \div 6$

			6.8
6)	40.8	
		36	
		48	
		48	
		0	

⑤ $58.5 \div 15$

			3.9
15)	58.5	
		45	
		135	
		135	
		0	

⑥ $75.6 \div 27$

			2.8
27)	75.6	
		54	
		216	
		216	
		0	



小数のわり算 6

○ 小数点以下1けたの
帯小数 ÷ 2けたの整数



日にち： 月 日

名まえ _____

・ 次の計算をしなさい。

①

			2.3
15)	34.5	
		30	
		45	
		45	
		0	

②

			5.9
3)	17.7	
		15	
		27	
		27	
		0	

③ $55.2 \div 12$

			4.6
12)	55.2	
		48	
		72	
		72	
		0	

④ $64.8 \div 36$

			1.8
36)	64.8	
		36	
		288	
		288	
		0	

⑤ $54.6 \div 14$

			3.9
14)	54.6	
		42	
		126	
		126	
		0	

⑥ $60.8 \div 8$

			7.6
8)	60.8	
		56	
		48	
		48	
		0	



小数のわり算 6

○ 小数点以下1けたの
帯小数 ÷ 2けたの整数



日にち： 月 日

名まえ _____

・ 次の計算をしなさい。

①

			6.7
1	3)	87.1
			78
			91
			91
			0

②

			8.3
9)	74.7	
			72
			27
			27
			0

③ $75.4 \div 13$

			5.8
1	3)	75.4
			65
			104
			104
			0

④ $34.8 \div 6$

			5.8
6)	34.8	
			30
			48
			48
			0

⑤ $85.8 \div 39$

			2.2
3	9)	85.8
			78
			78
			0

⑥ $44.2 \div 17$

			2.6
1	7)	44.2
			34
			102
			102
			0



小数のわり算 6

○ 小数点以下1けたの
帯小数 ÷ 2けたの整数

15

目指せ80点!



名まえ _____

・ 次の計算をしなさい。(各20点)

①

		3.7
5)	18.5
		15
		35
		35
		0

②

			2.4
33)	79.2	
		66	
		132	
		132	
		0	

③ $28.8 \div 8$



		3.6
8)	28.8
		24
		48
		48
		0

④ $83.2 \div 26$

			3.2
26)	83.2	
		78	
		52	
		52	
		0	

⑤ $44.8 \div 14$

		3.2
14)	44.8
		42
		28
		28
		0





小数のわり算 6

○ 小数点以下1けたの
帯小数 ÷ 2けたの整数



目指せ80点!



名まえ _____

・ 次の計算をしなさい。(各20点)

①

		7	.	9	
4)	3	1	.	6
		2	8		
		<hr/>			
		3	6		
		3	6		
		<hr/>			
			0		

②

				2	.	7
1	3)	3	5	.	1
			2	6		
			<hr/>			
			9	1		
			9	1		
			<hr/>			
				0		

③ $46.2 \div 6$

		7	.	7	
6)	4	6	.	2
		4	2		
		<hr/>			
		4	2		
		4	2		
		<hr/>			
			0		

④ $36.4 \div 13$

				2	.	8
1	3)	3	6	.	4
			2	6		
			<hr/>			
			1	0	4	
			1	0	4	
			<hr/>			
				0		

⑤ $59.5 \div 35$

				1	.	7
3	5)	5	9	.	5
			3	5		
			<hr/>			
			2	4	5	
			2	4	5	
			<hr/>			
				0		

