



小数のわり算 7

● 商が真小数になる
帯小数 ÷ 2けたの整数



日にち： 月 日

名まえ _____

・ 次の計算をしなさい。（うすい字はなぞりましょう。）

①

			0	6
2	3)	1	3.8
			1	3
				8
				0

②

			0	
4	7)	1	8.8

③ 88.2 ÷ 98

)	8	8.2

④ 34.5 ÷ 69

)		

⑤ 36.8 ÷ 46

)		

⑥ 38.4 ÷ 96

)		

⑦ 17.2 ÷ 86

)		

⑧ 37.8 ÷ 63

6	3)	3	7.8



小数のわり算 7

● 商が真小数になる
帯小数 ÷ 2けたの整数



日にち： 月 日

名まえ _____

・ 次の計算をしなさい。（うすい字はなぞりましょう。）

①

			0.6
23)	13.8	
		138	
		0	

②

			0.4
47)	18.8	
		188	
		0	

③ 88.2 ÷ 98

			0.9
98)	88.2	
		882	
		0	

④ 34.5 ÷ 69

			0.5
69)	34.5	
		345	
		0	

⑤ 36.8 ÷ 46

			0.8
46)	36.8	
		368	
		0	

⑥ 38.4 ÷ 96

			0.4
96)	38.4	
		384	
		0	

⑦ 17.2 ÷ 86

			0.2
86)	17.2	
		172	
		0	

⑧ 37.8 ÷ 63

			0.6
63)	37.8	
		378	
		0	



小数のわり算 7

● 商が真小数になる
帯小数 ÷ 2けたの整数



日にち： 月 日

名まえ _____

・ 次の計算をしなさい。（うすい字はなぞりましょう。）

①

			0	9
8	5)	7	6.5

②

			0	
7	4)	6	6.6

③ 26.5 ÷ 53

5	3)	2	6.5

④ 76.5 ÷ 85

)		

⑤ 36.8 ÷ 92

)		

⑥ 43.5 ÷ 87

)		

⑦ 12.9 ÷ 43

)		

⑧ 79.2 ÷ 88

)		



小数のわり算 7

● 商が真小数になる
帯小数 ÷ 2けたの整数



日にち： 月 日

名まえ _____

・ 次の計算をしなさい。（うすい字はなぞりましょう。）

①

			0.9
8	5)	76.5
			765
			0

②

			0.9
7	4)	66.6
			666
			0

③ $26.5 \div 53$

			0.5
5	3)	26.5
			265
			0

④ $76.5 \div 85$

			0.9
8	5)	76.5
			765
			0

⑤ $36.8 \div 92$

			0.4
9	2)	36.8
			368
			0

⑥ $43.5 \div 87$

			0.5
8	7)	43.5
			435
			0

⑦ $12.9 \div 43$

			0.3
4	3)	12.9
			129
			0

⑧ $79.2 \div 88$

			0.9
8	8)	79.2
			792
			0



小数のわり算 7

● 商が真小数になる
帯小数 ÷ 2けたの整数



日にち： 月 日

名まえ _____

・ 次の計算をしなさい。（うすい字はなぞりましょう。）

①

			0.	
5	6)	3	3.6

②

			0.	
4	1)	3	6.9

③ 59.2 ÷ 74

7	4)	5	9.2

④ 22.5 ÷ 45

)		

⑤ 19.8 ÷ 33

⑥ 25.2 ÷ 36

⑦ 10.2 ÷ 34

⑧ 46.8 ÷ 78

)		



小数のわり算 7

● 商が真小数になる
帯小数 ÷ 2けたの整数



日にち： 月 日

名まえ _____

・ 次の計算をしなさい。（うすい字はなぞりましょう。）

①

			0.6
5	6)	33.6
			336
			0

②

			0.9
4	1)	36.9
			369
			0

③ 59.2 ÷ 74

			0.8
7	4)	59.2
			592
			0

④ 22.5 ÷ 45

			0.5
4	5)	22.5
			225
			0

⑤ 19.8 ÷ 33

			0.6
3	3)	19.8
			198
			0

⑥ 25.2 ÷ 36

			0.7
3	6)	25.2
			252
			0

⑦ 10.2 ÷ 34

			0.3
3	4)	10.2
			102
			0

⑧ 46.8 ÷ 78

			0.6
7	8)	46.8
			468
			0



小数のわり算 7

● 商が真小数になる
帯小数 ÷ 2けたの整数



日にち： 月 日

名まえ _____

・ 次の計算をしなさい。（うすい字はなぞりましょう。）

①

			0.	
4	4)	3	5.2

②

3	8)	2	6.6

③ 76.8 ÷ 96

9	6)	7	6.8

④ 14.4 ÷ 36

)		

⑤ 47.4 ÷ 79

⑥ 19.4 ÷ 97

⑦ 25.2 ÷ 42

⑧ 36.8 ÷ 46

)		



小数のわり算 7

● 商が真小数になる
帯小数 ÷ 2けたの整数



日にち： 月 日

名まえ _____

・ 次の計算をしなさい。（うすい字はなぞりましょう。）

①

			0.8
4	4)	35.2
			352
			0

②

			0.7
3	8)	26.6
			266
			0

③ 76.8 ÷ 96

			0.8
9	6)	76.8
			768
			0

④ 14.4 ÷ 36

			0.4
3	6)	14.4
			144
			0

⑤ 47.4 ÷ 79

			0.6
7	9)	47.4
			474
			0

⑥ 19.4 ÷ 97

			0.2
9	7)	19.4
			194
			0

⑦ 25.2 ÷ 42

			0.6
4	2)	25.2
			252
			0

⑧ 36.8 ÷ 46

			0.8
4	6)	36.8
			368
			0



小数のわり算 7

● 商が真小数になる
帯小数 ÷ 2けたの整数



日にち： 月 日

名まえ _____

・ 次の計算をしなさい。（うすい字はなぞりましょう。）

①

4	6)	4	1.4

②

8	6)	3	4.4

③ $33.6 \div 56$

)	3	3.6

④ $40.8 \div 68$

)		

⑤ $43.2 \div 48$

⑥ $28.2 \div 94$

⑦ $24.5 \div 49$

⑧ $25.2 \div 36$



小数のわり算 7

● 商が真小数になる
帯小数 ÷ 2けたの整数



日にち： 月 日

名まえ _____

・ 次の計算をしなさい。（うすい字はなぞりましょう。）

①

			0.9
4	6)	41.4
			414
			0

②

			0.4
8	6)	34.4
			344
			0

③ 33.6 ÷ 56

			0.6
5	6)	33.6
			336
			0

④ 40.8 ÷ 68

			0.6
6	8)	40.8
			408
			0

⑤ 43.2 ÷ 48

			0.9
4	8)	43.2
			432
			0

⑥ 28.2 ÷ 94

			0.3
9	4)	28.2
			282
			0

⑦ 24.5 ÷ 49

			0.5
4	9)	24.5
			245
			0

⑧ 25.2 ÷ 36

			0.7
3	6)	25.2
			252
			0



小数のわり算 7

● 商が真小数になる
帯小数 ÷ 2けたの整数



日にち： 月 日

名まえ _____

・ 次の計算をしなさい。(うすい字はなぞりましょう。)

①

3	6)	3	2.4

②

5	7)	1	1.4

③ 13.8 ÷ 46

)	1	3.8

④ 42.5 ÷ 85

⑤ 17.5 ÷ 35

⑥ 76.8 ÷ 96

⑦ 12.9 ÷ 43

⑧ 36.8 ÷ 46



小数のわり算 7

● 商が真小数になる
帯小数 ÷ 2けたの整数



日にち： 月 日

名まえ _____

・ 次の計算をしなさい。（うすい字はなぞりましょう。）

①

			0.9
3	6)	32.4
			324
			0

②

			0.2
5	7)	11.4
			114
			0

③ $13.8 \div 46$

			0.3
4	6)	13.8
			138
			0

④ $42.5 \div 85$

			0.5
8	5)	42.5
			425
			0

⑤ $17.5 \div 35$

			0.5
3	5)	17.5
			175
			0

⑥ $76.8 \div 96$

			0.8
9	6)	76.8
			768
			0

⑦ $12.9 \div 43$

			0.3
4	3)	12.9
			129
			0

⑧ $36.8 \div 46$

			0.8
4	6)	36.8
			368
			0



小数のわり算 7

● 商が真小数になる
帯小数 ÷ 2けたの整数



日にち： 月 日

名まえ _____

・ 次の計算をしなさい。（うすい字はなぞりましょう。）

①

2	7)	1	3.5

②

6	8)	6	1.2

③ 17.6 ÷ 44

)	1	7.6

④ 35.1 ÷ 39

⑤ 50.4 ÷ 84

⑥ 19.5 ÷ 65

⑦ 17.4 ÷ 87

⑧ 63.2 ÷ 79



小数のわり算 7

● 商が真小数になる
帯小数 ÷ 2けたの整数



日にち： 月 日

名まえ _____

・ 次の計算をしなさい。（うすい字はなぞりましょう。）

①

			0.5
27)	13.5	
		135	
			0

②

			0.9
68)	61.2	
		612	
			0

③ 17.6 ÷ 44

			0.4
44)	17.6	
		176	
			0

④ 35.1 ÷ 39

			0.9
39)	35.1	
		351	
			0

⑤ 50.4 ÷ 84

			0.6
84)	50.4	
		504	
			0

⑥ 19.5 ÷ 65

			0.3
65)	19.5	
		195	
			0

⑦ 17.4 ÷ 87

			0.2
87)	17.4	
		174	
			0

⑧ 63.2 ÷ 79

			0.8
79)	63.2	
		632	
			0



小数のわり算 7

● 商が真小数になる
帯小数 ÷ 2けたの整数



日にち： 月 日

名まえ _____

・ 次の計算をしなさい。

①

6	8)	4	0.8

②

5	9)	3	5.4

③ $37.8 \div 54$

④ $21.2 \div 53$

⑤ $25.2 \div 28$

⑥ $67.2 \div 84$

⑦ $31.2 \div 78$

⑧ $19.2 \div 64$



小数のわり算 7

● 商が真小数になる
帯小数 ÷ 2けたの整数



日にち： 月 日

名まえ _____

・ 次の計算をしなさい。

①

			0.6
6	8)	40.8
			408
			0

②

			0.6
5	9)	35.4
			354
			0

③ 37.8 ÷ 54

			0.7
5	4)	37.8
			378
			0

④ 21.2 ÷ 53

			0.4
5	3)	21.2
			212
			0

⑤ 25.2 ÷ 28

			0.9
2	8)	25.2
			252
			0

⑥ 67.2 ÷ 84

			0.8
8	4)	67.2
			672
			0

⑦ 31.2 ÷ 78

			0.4
7	8)	31.2
			312
			0

⑧ 19.2 ÷ 64

			0.3
6	4)	19.2
			192
			0



小数のわり算 7

● 商が真小数になる
帯小数 ÷ 2けたの整数



日にち： 月 日

名まえ _____

・ 次の計算をしなさい。

①

2	5)	2	2.5

②

7	2)	6	4.8

③ $65.1 \div 93$

④ $13.2 \div 66$

⑤ $15.6 \div 39$

⑥ $24.5 \div 35$

⑦ $40.8 \div 68$

⑧ $26.8 \div 67$



小数のわり算 7

● 商が真小数になる
帯小数 ÷ 2けたの整数



日にち： 月 日

名まえ _____

・ 次の計算をしなさい。

①

			0.9
25)	22.5	
		225	
			0

②

			0.9
72)	64.8	
		648	
			0

③ $65.1 \div 93$

			0.7
93)	65.1	
		651	
			0

④ $13.2 \div 66$

			0.2
66)	13.2	
		132	
			0

⑤ $15.6 \div 39$

			0.4
39)	15.6	
		156	
			0

⑥ $24.5 \div 35$

			0.7
35)	24.5	
		245	
			0

⑦ $40.8 \div 68$

			0.6
68)	40.8	
		408	
			0

⑧ $26.8 \div 67$

			0.4
67)	26.8	
		268	
			0



小数のわり算 7

● 商が真小数になる
帯小数 ÷ 2けたの整数



日にち： 月 日

名まえ _____

・ 次の計算をしなさい。

①

3	2)	2	8.8

②

5	6)	5	0.4

③

10.4 ÷ 26

④

34.3 ÷ 49

⑤

73.5 ÷ 21

⑥

84.8 ÷ 16

⑦

55.3 ÷ 79

⑧

29.6 ÷ 37



小数のわり算 7

● 商が真小数になる
帯小数 ÷ 2けたの整数



日にち： 月 日

名まえ _____

・ 次の計算をしなさい。

①

			0.9
3	2)	28.8
			288
			0

②

			0.9
5	6)	50.4
			504
			0

③ 10.4 ÷ 26

			0.4
2	6)	10.4
			104
			0

④ 34.3 ÷ 49

			0.7
4	9)	34.3
			343
			0

⑤ 73.5 ÷ 21

			3.5
2	1)	73.5
			63
			105
			105
			0

⑥ 84.8 ÷ 16

			5.3
1	6)	84.8
			80
			48
			48
			0

⑦ 55.3 ÷ 79

			0.7
7	9)	55.3
			553
			0

⑧ 29.6 ÷ 37

			0.8
3	7)	29.6
			296
			0



小数のわり算 7

● 商が真小数になる
帯小数 ÷ 2けたの整数



日にち： 月 日

名まえ _____

・ 次の計算をなさい。

①

4	6)	3	6.8

②

8	7)	1	7.4

③

64.5 ÷ 15

④

58.9 ÷ 31

⑤

13.2 ÷ 22

⑥

58.2 ÷ 97

⑦

19.2 ÷ 32

⑧

11.7 ÷ 39



小数のわり算 7

◎ 商が真小数になる
帯小数 ÷ 2けたの整数



日にち： 月 日

名まえ _____

・ 次の計算をなさい。

①

			0.8
4	6)	36.8
			368
			0

②

			0.2
8	7)	17.4
			174
			0

③ 64.5 ÷ 15

			4.3
1	5)	64.5
			60
			45
			45
			0

④ 58.9 ÷ 31

			1.9
3	1)	58.9
			31
			279
			279
			0

⑤ 13.2 ÷ 22

			0.6
2	2)	13.2
			132
			0

⑥ 58.2 ÷ 97

			0.6
9	7)	58.2
			582
			0

⑦ 19.2 ÷ 32

			0.6
3	2)	19.2
			192
			0

⑧ 11.7 ÷ 39

			0.3
3	9)	11.7
			117
			0



小数のわり算 7

● 商が真小数になる
帯小数 ÷ 2けたの整数



日にち： 月 日

名まえ _____

・ 次の計算をしなさい。

①

6	7)	20	.1

②

7	7)	61	.6

③

55.8 ÷ 62

④

44.4 ÷ 74

⑤

68.6 ÷ 14

⑥

48.1 ÷ 13

⑦

49.5 ÷ 55

⑧

16.2 ÷ 54



小数のわり算 7

◎ 商が真小数になる
帯小数 ÷ 2けたの整数



日にち： 月 日

名まえ _____

・ 次の計算をしなさい。

①

			0.3
6	7)	20.1
			201
			0

②

			0.8
7	7)	61.6
			616
			0

③ 55.8 ÷ 62

			0.9
6	2)	55.8
			558
			0

④ 44.4 ÷ 74

			0.6
7	4)	44.4
			444
			0

⑤ 68.6 ÷ 14

			4.9
1	4)	68.6
			56
			126
			126
			0

⑥ 48.1 ÷ 13

			3.7
1	3)	48.1
			39
			91
			91
			0

⑦ 49.5 ÷ 55

			0.9
5	5)	49.5
			495
			0

⑧ 16.2 ÷ 54

			0.3
5	4)	16.2
			162
			0



小数のわり算 7

● 商が真小数になる
帯小数 ÷ 2けたの整数



日にち： 月 日

名まえ _____

・ 次の計算をなさい。

①

9	1)	3	6.4

②

5	7)	2	8.5

③

$54.6 \div 14$

④

$66.7 \div 23$

⑤

$33.6 \div 56$

⑥

$17.4 \div 87$

⑦

$23.6 \div 59$

⑧

$19.6 \div 28$



小数のわり算 7

◎ 商が真小数になる
帯小数 ÷ 2けたの整数



日にち： 月 日

名まえ _____

・ 次の計算をなさい。

①

			0.4
91)	36.4	
		364	
		0	

②

			0.5
57)	28.5	
		285	
		0	

③ 54.6 ÷ 14

			3.9
14)	54.6	
		42	
		126	
		126	
		0	

④ 66.7 ÷ 23

			2.9
23)	66.7	
		46	
		207	
		207	
		0	

⑤ 33.6 ÷ 56

			0.6
56)	33.6	
		336	
		0	

⑥ 17.4 ÷ 87

			0.2
87)	17.4	
		174	
		0	

⑦ 23.6 ÷ 59

			0.4
59)	23.6	
		236	
		0	

⑧ 19.6 ÷ 28

			0.7
28)	19.6	
		196	
		0	



小数のわり算 7

● 商が真小数になる
帯小数 ÷ 2けたの整数



日にち： 月 日

名まえ _____

・ 次の計算をしなさい。

①

4	9)	2	4.5

②

2	4)	1	4.4

③

31.2 ÷ 39

④

27.5 ÷ 55

⑤

59.4 ÷ 18

⑥

77.7 ÷ 21

⑦

17.4 ÷ 29

⑧

43.2 ÷ 72



小数のわり算 7

● 商が真小数になる
帯小数 ÷ 2けたの整数



日にち： 月 日

名まえ _____

・ 次の計算をしなさい。

①

			0.5
4	9)	24.5
			245
			0

②

			0.6
2	4)	14.4
			144
			0

③ $31.2 \div 39$

			0.8
3	9)	31.2
			312
			0

④ $27.5 \div 55$

			0.5
5	5)	27.5
			275
			0

⑤ $59.4 \div 18$

			3.3
1	8)	59.4
			54
			54
			0

⑥ $77.7 \div 21$

			3.7
2	1)	77.7
			63
			147
			147
			0

⑦ $17.4 \div 29$

			0.6
2	9)	17.4
			174
			0

⑧ $43.2 \div 72$

			0.6
7	2)	43.2
			432
			0



小数のわり算 7

● 商が真小数になる
帯小数 ÷ 2けたの整数



目指せ80点!



名まえ _____

・ 次の計算をしなさい。(各20点)

①

7	7)	15.4	



②

8	1)	72.9	

③ $78.4 \div 14$

④ $46.8 \div 13$

⑤ $29.2 \div 73$





小数のわり算 7

● 商が真小数になる
帯小数 ÷ 2けたの整数

15

目指せ80点!



名まえ _____

・ 次の計算をしなさい。(各20点)

①

			0.2
7	7)	15.4
			154
			0

②

			0.9
8	1)	72.9
			729
			0

③ $78.4 \div 14$



			5.6
1	4)	78.4
			70
			84
			84
			0

④ $46.8 \div 13$

			3.6
1	3)	46.8
			39
			78
			78
			0

⑤ $29.2 \div 73$

			0.4
7	3)	29.2
			292
			0





小数のわり算 7

● 商が真小数になる
帯小数 ÷ 2けたの整数



目指せ80点!



名まえ _____

・ 次の計算をしなさい。(各20点)

①

6	5)	5	8.5



②

4	3)	2	1.5

③ $37.4 \div 17$

④ $44.8 \div 32$

⑤ $41.3 \div 59$





小数のわり算 7

● 商が真小数になる
帯小数 ÷ 2けたの整数

16

目指せ80点!



名まえ _____

・ 次の計算をしなさい。(各20点)

①

				0.9
6	5)	5	8.5
			5	8
				5
				0

②

				0.5
4	3)	2	1.5
			2	1
				5
				0

③ $37.4 \div 17$

				2.2
1	7)	3	7.4
			3	4
				3
				4
				0

④ $44.8 \div 32$

				1.4
3	2)	4	4.8
			3	2
				1
				2
				8
				0

⑤ $41.3 \div 59$

				0.7
5	9)	4	1.3
			4	1
				3
				0

