



小数のわり算 8

● 小数第二位までの
帯小数 ÷ 1けたの整数



日にち： 月 日

名まえ _____

・ 次の計算をなさい。（うすい字はなぞりましょう。）

①

	2	4	8
3)	7.4	4
	6		
	1	4	
	1	2	
		2	4
		2	4
			0

②

	0	6	
8)	4.9	6
	4	8	
		1	6

③

7)	9.3	8

④ $3.28 \div 4$

4)	3.2	8

⑤ $6.45 \div 5$

)			

⑥ $9.42 \div 6$

6)	9.4	2



小数のわり算 8

● 小数第二位までの
帯小数 ÷ 1けたの整数



日にち： 月 日

名まえ _____

・ 次の計算をしなさい。（うすい字はなぞりましょう。）

①

	1	4	
5)	7.25	
		5	
		2	2
		2	0
			25

②

	0	7	
4)	3.12	
		2	8
			3

③

3)	8.34	

④ 5.81 ÷ 7

)	5.81	

⑤ 7.92 ÷ 3

)		

⑥ 8.58 ÷ 6

6)	8.58	



小数のわり算 8

● 小数第二位までの
帯小数 ÷ 1けたの整数



日にち： 月 日

名まえ _____

・ 次の計算をしなさい。（うすい字はなぞりましょう。）

①

	2	.		
3)	8	.	1 6
		6		
		2	1	

②

	0	.		
6)	2	.	8 8

③

6)	7	.	6 2

④ $2.16 \div 8$

)			

⑤ $9.15 \div 5$

)			

⑥ $7.44 \div 6$

)			



小数のわり算 8

● 小数第二位までの
帯小数 ÷ 1けたの整数



日にち： 月 日

名まえ _____

・ 次の計算をなさい。（うすい字はなぞりましょう。）

①

3	.		
2)	7.48	
6			

②

0	.		
6)	2.94	

③

	.		
7)	9.73	

④ $5.04 \div 9$

	.		
)			

⑤ $8.52 \div 6$

	.		
)			

⑥ $7.02 \div 3$

	.		
)			



小数のわり算 8

● 小数第二位までの
帯小数 ÷ 1けたの整数



日にち： 月 日

名まえ _____

・ 次の計算をしなさい。（うすい字はなぞりましょう。）

①

	3		
2)	7.0	2

②

4)	7.0	8

③

3)	2.6	1

④ $5.16 \div 4$

4)	5.1	6

⑤ $9.76 \div 4$

⑥ $3.95 \div 5$



小数のわり算 8

● 小数第二位までの
帯小数 ÷ 1けたの整数



日にち： 月 日

名まえ _____

・ 次の計算をしなさい。（うすい字はなぞりましょう。）

①

6)	7.44	

②

4)	6.72	

③

6)	3.48	

④

7.98 ÷ 7

7)	7.98	

⑤

6.94 ÷ 2

)	6.94	

⑥

3.12 ÷ 4

)	3.12	



小数のわり算 8

● 小数第二位までの
帯小数 ÷ 1けたの整数



日にち： 月 日

名まえ _____

・ 次の計算をしなさい。（うすい字はなぞりましょう。）

①

4)	7	.	9	2

②

4)	9	.	6	4

③

6)	3	.	4	2

④

$9.56 \div 4$

)	9	.	5	6

⑤

$8.96 \div 7$

)	8	.	9	6

⑥

$5.74 \div 2$

)	5	.	7	4





小数のわり算 8

● 小数第二位までの
帯小数 ÷ 1けたの整数



日にち： 月 日

名まえ _____

・ 次の計算をしなさい。

①

6)	8	.	9	4

②

3)	8	.	5	5

③

7)	5	.	7	4

④

$9.51 \div 3$

⑤

$7.74 \div 2$

⑥

$3.36 \div 4$



小数のわり算 8

● 小数第二位までの
帯小数 ÷ 1けたの整数



日にち： 月 日

名まえ _____

・ 次の計算をしなさい。

①

3)	8	.	6	7

②

7)	9	.	4	5

③

7)	3	.	4	3

④

9.28 ÷ 4

⑤

8.82 ÷ 6

⑥

5.85 ÷ 9



小数のわり算 8

● 小数第二位までの
帯小数 ÷ 1けたの整数



日にち： 月 日

名まえ _____

・ 次の計算をしなさい。

① $9.75 \div 5$

② $81.6 \div 3$

③ $59.5 \div 7$

④ $6.75 \div 5$

⑤ $5.79 \div 3$

⑥ $7.29 \div 9$



小数のわり算 8

● 小数第二位までの
帯小数 ÷ 1けたの整数



日にち： 月 日

名まえ _____

・ 次の計算をしなさい。

① $7.92 \div 6$

② $20.3 \div 7$

③ $7.12 \div 4$

④ $7.15 \div 5$

⑤ $81.6 \div 3$

⑥ $3.96 \div 6$





小数のわり算 8

● 小数第二位までの
帯小数 ÷ 1けたの整数



日にち： 月 日

名まえ _____

・ 次の計算をしなさい。

① $7.74 \div 3$

② $75.6 \div 4$

③ $20.7 \div 9$

④ $6.64 \div 4$

⑤ $7.25 \div 5$

⑥ $5.28 \div 6$



小数のわり算 8

● 小数第二位までの
帯小数 ÷ 1けたの整数



日にち： 月 日

名まえ _____

・ 次の計算をしなさい。

① $5.34 \div 3$

② $62.1 \div 9$

③ $7.38 \div 6$

④ $6.87 \div 3$

⑤ $89.1 \div 3$

⑥ $6.02 \div 7$



小数のわり算 8

● 小数第二位までの
帯小数 ÷ 1けたの整数



日にち： 月 日

名まえ _____

・ 次の計算をしなさい。

① $8.82 \div 6$

② $70.2 \div 3$

③ $19.2 \div 3$

④ $8.26 \div 7$

⑤ $8.16 \div 3$

⑥ $5.95 \div 7$





小数のわり算 8

● 小数第二位までの
帯小数 ÷ 1けたの整数

15


目指せ80点!



名まえ

・ 次の計算をしなさい。(各20点)


① $5.67 \div 3$



② $9.28 \div 4$





③ $66.8 \div 4$



④ $28.2 \div 3$



⑤ $5.28 \div 8$





小数のわり算 8

● 小数第二位までの
帯小数 ÷ 1けたの整数

16

目指せ80点!



名まえ

・ 次の計算をしなさい。(各20点)


① $73.5 \div 3$

② $5.52 \div 4$

③ $9.15 \div 5$

④ $26.6 \div 7$

⑤ $3.28 \div 4$





小数のわり算 8

● 小数第二位までの
帯小数 ÷ 1けたの整数



日にち： 月 日

名まえ _____

・ 次の計算をしなさい。（うすい字はなぞりましょう。）

①

	2	4	8
3)	7	.44
	6		
	1	4	
	1	2	
		2	4
		2	4
			0

②

	0	6	2
8)	4	.96
	4	8	
		1	6
		1	6
			0

③

	1	3	4
7)	9	.38
	7		
	2	3	
	2	1	
		2	8
		2	8
			0

④ $3.28 \div 4$

	0	8	2
4)	3	.28
	3	2	
			8
			8
			0

⑤ $6.45 \div 5$

	1	2	9
5)	6	.45
	5		
	1	4	
	1	0	
		4	5
		4	5
			0

⑥ $9.42 \div 6$

	1	5	7
6)	9	.42
	6		
	3	4	
	3	0	
		4	2
		4	2
			0





小数のわり算 8

● 小数第二位までの
帯小数 ÷ 1けたの整数



日にち： 月 日

名まえ _____

・ 次の計算をしなさい。（うすい字はなぞりましょう。）

①

	1	.	4	5	
5)	7	.	2	5
		5			
		2	2		
		2	0		
			2	5	
			2	5	
				0	

②

	0	.	7	8	
4)	3	.	1	2
		2	8		
			3	2	
			3	2	
				0	

③

	2	.	7	8	
3)	8	.	3	4
		6			
		2	3		
		2	1		
			2	4	
			2	4	
				0	

④ $5.81 \div 7$

	0	.	8	3	
7)	5	.	8	1
		5	6		
			2	1	
			2	1	
				0	

⑤ $7.92 \div 3$

	2	.	6	4	
3)	7	.	9	2
		6			
		1	9		
		1	8		
			1	2	
			1	2	
				0	

⑥ $8.58 \div 6$

	1	.	4	3	
6)	8	.	5	8
		6			
		2	5		
		2	4		
			1	8	
			1	8	
				0	



小数のわり算 8

● 小数第二位までの
帯小数 ÷ 1けたの整数



日にち： 月 日

名まえ _____

・ 次の計算をしなさい。（うすい字はなぞりましょう。）

①

	2	7	2
3)	8	.16
	6		
	2	1	
	2	1	
			6
			6
			0

②

	0	4	8
6)	2	.88
	2	4	
		4	8
		4	8
			0

③

	1	2	7	
6)	7	.62	
	6			
	1	6		
	1	2		
			4	2
			4	2
				0

④ $2.16 \div 8$

	0	2	7
8)	2	.16
	1	6	
		5	6
		5	6
			0

⑤ $9.15 \div 5$

	1	8	3	
5)	9	.15	
	5			
	4	1		
	4	0		
			1	5
			1	5
				0

⑥ $7.44 \div 6$

	1	2	4	
6)	7	.44	
	6			
	1	4		
	1	2		
			2	4
			2	4
				0



小数のわり算 8

● 小数第二位までの
帯小数 ÷ 1けたの整数



日にち： 月 日

名まえ _____

・ 次の計算をしなさい。（うすい字はなぞりましょう。）

①

	3	.	7	4	
2)	7	.	4	8
	6				
	1	4			
	1	4			
				8	
				8	
				0	

②

	0	.	4	9	
6)	2	.	9	4
	2	4			
		5	4		
		5	4		
				0	

③

	1	.	3	9	
7)	9	.	7	3
	7				
	2	7			
	2	1			
		6	3		
		6	3		
				0	

④ $5.04 \div 9$

	0	.	5	6	
9)	5	.	0	4
	4	5			
		5	4		
		5	4		
				0	

⑤ $8.52 \div 6$

	1	.	4	2	
6)	8	.	5	2
	6				
	2	5			
	2	4			
		1	2		
		1	2		
				0	

⑥ $7.02 \div 3$

	2	.	3	4	
3)	7	.	0	2
	6				
	1	0			
		9			
		1	2		
		1	2		
				0	



小数のわり算 8

● 小数第二位までの
帯小数 ÷ 1けたの整数



日にち： 月 日

名まえ _____

・ 次の計算をしなさい。（うすい字はなぞりましょう。）

①

		3	.	5	1
2)	7	.	0	2
		6			
		1	0		
		1	0		
					2
					2
					0

②

		1	.	7	7
4)	7	.	0	8
		4			
		3	0		
		2	8		
					2
					8
					0

③

		0	.	8	7
3)	2	.	6	1
		2	4		
					2
					1
					2
					1
					0

④ $5.16 \div 4$

		1	.	2	9
4)	5	.	1	6
		4			
		1	1		
					8
					3
					6
					3
					6
					0

⑤ $9.76 \div 4$

		2	.	4	4
4)	9	.	7	6
		8			
		1	7		
					1
					6
					1
					6
					0

⑥ $3.95 \div 5$

		0	.	7	9
5)	3	.	9	5
		3	5		
					4
					5
					4
					5
					0



小数のわり算 8

● 小数第二位までの
帯小数 ÷ 1けたの整数



日にち： 月 日

名まえ _____

・ 次の計算をなさい。（うすい字はなぞりましょう。）

①

	1	.	2	4	
6)	7	.	4	4
		6			
		1	4		
		1	2		
			2	4	
			2	4	
				0	

②

	1	.	6	8	
4)	6	.	7	2
		4			
		2	7		
		2	4		
			3	2	
			3	2	
				0	

③

	0	.	5	8	
6)	3	.	4	8
		3	0		
			4	8	
			4	8	
				0	

④ $7.98 \div 7$

	1	.	1	4	
7)	7	.	9	8
		7			
			9		
			7		
			2	8	
			2	8	
				0	

⑤ $6.94 \div 2$

	3	.	4	7	
2)	6	.	9	4
		6			
			9		
			8		
			1	4	
			1	4	
				0	

⑥ $3.12 \div 4$

	0	.	7	8	
4)	3	.	1	2
		2	8		
			3	2	
			3	2	
				0	





小数のわり算 8

● 小数第二位までの
帯小数 ÷ 1けたの整数



日にち： 月 日

名まえ _____

・ 次の計算をしなさい。（うすい字はなぞりましょう。）

①

	1	9	8
4)	7	.92
		4	
		3	9
		3	6
			32
			32
			0

②

	2	4	1
4)	9	.64
		8	
		1	6
		1	6
			4
			4
			0

③

	0	5	7
6)	3	.42
		3	0
			42
			42
			0

④ $9.56 \div 4$

	2	3	9
4)	9	.56
		8	
		1	5
		1	2
			36
			36
			0

⑤ $8.96 \div 7$

	1	2	8
7)	8	.96
		7	
		1	9
		1	4
			56
			56
			0

⑥ $5.74 \div 2$

	2	8	7
2)	5	.74
		4	
		1	7
		1	6
			14
			14
			0



小数のわり算 8

● 小数第二位までの
帯小数 ÷ 1けたの整数



日にち： 月 日

名まえ _____

・ 次の計算をしなさい。

①

	1	4	9	
6)	8	9	4
		6		
		2	9	
		2	4	
			5	4
			5	4
				0

②

	2	8	5	
3)	8	5	5
		6		
		2	5	
		2	4	
			1	5
			1	5
				0

③

	0	8	2	
7)	5	7	4
		5	6	
			1	4
			1	4
				0

④ $9.51 \div 3$

	3	1	7	
3)	9	5	1
		9		
			5	
			3	
			2	1
			2	1
				0

⑤ $7.74 \div 2$

	3	8	7	
2)	7	7	4
		6		
		1	7	
		1	6	
			1	4
			1	4
				0

⑥ $3.36 \div 4$

	0	8	4	
4)	3	3	6
		3	2	
			1	6
			1	6
				0





小数のわり算 8

● 小数第二位までの
帯小数 ÷ 1けたの整数



日にち： 月 日

名まえ _____

・ 次の計算をしなさい。

①

	2	8	9
3)	8	.67
	6		
	2	6	
	2	4	
		2	7
		2	7
			0

②

	1	3	5
7)	9	.45
	7		
	2	4	
	2	1	
		3	5
		3	5
			0

③

	0	4	9
7)	3	.43
	2	8	
		6	3
		6	3
			0

④ $9.28 \div 4$

	2	3	2
4)	9	.28
	8		
	1	2	
	1	2	
			8
			8
			0

⑤ $8.82 \div 6$

	1	4	7
6)	8	.82
	6		
	2	8	
	2	4	
		4	2
		4	2
			0

⑥ $5.85 \div 9$

	0	6	5
9)	5	.85
	5	4	
		4	5
		4	5
			0





小数のわり算 8

● 小数第二位までの
帯小数 ÷ 1けたの整数



日にち： 月 日

名まえ _____

・ 次の計算をしなさい。

① $9.75 \div 5$

	1	.	9	5	
5)	9	.	7	5
		5			
		4	7		
		4	5		
			2	5	
			2	5	
				0	

② $81.6 \div 3$

	2	7	.	2	
3)	8	1	.	6
		6			
		2	1		
		2	1		
				6	
				6	
				0	

③ $59.5 \div 7$

		8	.	5	
7)	5	9	.	5
		5	6		
			3	5	
			3	5	
				0	

④ $6.75 \div 5$

	1	.	3	5	
5)	6	.	7	5
		5			
		1	7		
		1	5		
			2	5	
			2	5	
				0	

⑤ $5.79 \div 3$

	1	.	9	3	
3)	5	.	7	9
		3			
		2	7		
		2	7		
				9	
				9	
				0	

⑥ $7.29 \div 9$

	0	.	8	1	
9)	7	.	2	9
		7	2		
				9	
				9	
				0	





小数のわり算 8

● 小数第二位までの
帯小数 ÷ 1けたの整数



日にち： 月 日

名まえ _____

・ 次の計算をしなさい。

① $7.92 \div 6$

	1	.	3	2			
6)	7	.	9	2		
		6					
			1	9			
				1	8		
					1	2	
						1	2
							0

② $20.3 \div 7$

		2	.	9	
7)	2	0	.	3
		1	4		
			6	3	
			6	3	
				0	

③ $7.12 \div 4$

	1	.	7	8			
4)	7	.	1	2		
		4					
			3	1			
				2	8		
					3	2	
						3	2
							0

④ $7.15 \div 5$

	1	.	4	3			
5)	7	.	1	5		
		5					
			2	1			
				2	0		
					1	5	
						1	5
							0

⑤ $81.6 \div 3$

	2	7	.	2			
3)	8	1	.	6		
		6					
			2	1			
				2	1		
					6		
						6	
							0

⑥ $3.96 \div 6$

	0	.	6	6		
6)	3	.	9	6	
		3	6			
				3	6	
					3	6
						0



小数のわり算 8

● 小数第二位までの
帯小数 ÷ 1けたの整数



日にち： 月 日

名まえ _____

・ 次の計算をしなさい。

① $7.74 \div 3$

	2	5	8
3)	7	.74
	6		
	1	7	
	1	5	
		2	4
		2	4
			0

② $75.6 \div 4$

	1	8	9
4)	7	5.6
	4		
	3	5	
	3	2	
		3	6
		3	6
			0

③ $20.7 \div 9$

		2	3
9)	2	0.7
		1	8
		2	7
		2	7
			0

④ $6.64 \div 4$

	1	6	6
4)	6	.64
	4		
	2	6	
	2	4	
		2	4
		2	4
			0

⑤ $7.25 \div 5$

	1	4	5
5)	7	.25
	5		
	2	2	
	2	0	
		2	5
		2	5
			0

⑥ $5.28 \div 6$

	0	8	8
6)	5	.28
	4	8	
		4	8
		4	8
			0





小数のわり算 8

● 小数第二位までの
帯小数 ÷ 1けたの整数



日にち： 月 日

名まえ _____

・ 次の計算をしなさい。

① $5.34 \div 3$

	1	7	8
3)	5	.34
	3		
	2	3	
	2	1	
		2	4
		2	4
			0

② $62.1 \div 9$

		6	9
9)	6	2.1
	5	4	
		8	1
		8	1
			0

③ $7.38 \div 6$

	1	2	3
6)	7	.38
	6		
	1	3	
	1	2	
		1	8
		1	8
			0

④ $6.87 \div 3$

	2	2	9
3)	6	.87
	6		
		8	
		6	
		2	7
		2	7
			0

⑤ $89.1 \div 3$

	2	9	7
3)	8	9.1
	6		
	2	9	
	2	7	
		2	1
		2	1
			0

⑥ $6.02 \div 7$

	0	8	6
7)	6	.02
	5	6	
		4	2
		4	2
			0





小数のわり算 8

● 小数第二位までの
帯小数 ÷ 1けたの整数



日にち： 月 日

名まえ _____

・ 次の計算をしなさい。

① $8.82 \div 6$

	1	.	4	7	
6)	8	.	8	2
		6			
		2	8		
		2	4		
			4	2	
			4	2	
				0	

② $70.2 \div 3$

	2	3	.	4	
3)	7	0	.	2
		6			
		1	0		
			9		
			1	2	
			1	2	
				0	

③ $19.2 \div 3$

		6	.	4	
3)	1	9	.	2
		1	8		
			1	2	
			1	2	
				0	

④ $8.26 \div 7$

	1	.	1	8	
7)	8	.	2	6
		7			
		1	2		
			7		
			5	6	
			5	6	
				0	

⑤ $8.16 \div 3$

	2	.	7	2	
3)	8	.	1	6
		6			
		2	1		
			2	1	
				6	
				6	
				0	

⑥ $5.95 \div 7$

	0	.	8	5	
7)	5	.	9	5
		5	6		
			3	5	
			3	5	
				0	





小数のわり算 8

● 小数第二位までの
帯小数 ÷ 1けたの整数

15

目指せ80点!



名まえ

・ 次の計算をしなさい。(各20点)

① $5.67 \div 3$

	1	.	8	9	
3)	5	.	6	7
		3			
		2	6		
		2	4		
			2	7	
			2	7	
				0	

② $9.28 \div 4$

	2	.	3	2	
4)	9	.	2	8
		8			
		1	2		
		1	2		
				8	
				8	
				0	

③ $66.8 \div 4$



	1	6	.	7	
4)	6	.	6	8
		4			
		2	6		
		2	4		
			2	8	
			2	8	
				0	

④ $28.2 \div 3$

		9	.	4	
3)	2	8	.	2
		2	7		
			1	2	
			1	2	
				0	

⑤ $5.28 \div 8$

		0	.	6	6
8)	5	.	2	8
		4	8		
			4	8	
				0	





小数のわり算 8

● 小数第二位までの
帯小数 ÷ 1けたの整数

16

目指せ80点!



名まえ

・ 次の計算をしなさい。(各20点)

① $73.5 \div 3$

	2	4	5
3)	7	3.5
	6		
	1	3	
	1	2	
		1	5
		1	5
			0

② $5.52 \div 4$

	1	3	8
4)	5	5.2
	4		
	1	5	
	1	2	
		3	2
		3	2
			0

③ $9.15 \div 5$

	1	8	3
5)	9	1.5
	5		
	4	1	
	4	0	
		1	5
		1	5
			0

④ $26.6 \div 7$

	3	8
7)	26.6
	2	1
	5	6
	5	6
		0

⑤ $3.28 \div 4$

	0	8	2
4)	3	2.8
	3	2	
		8	
		8	
			0

