



# 小数の表し方 6

㊦ cmをmで表す

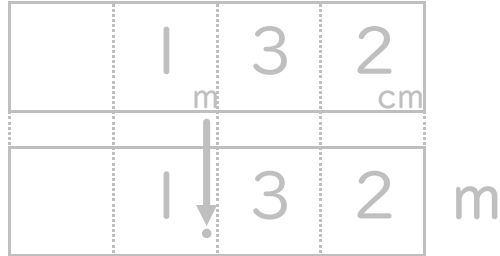


日にち：          月          日

名まえ \_\_\_\_\_

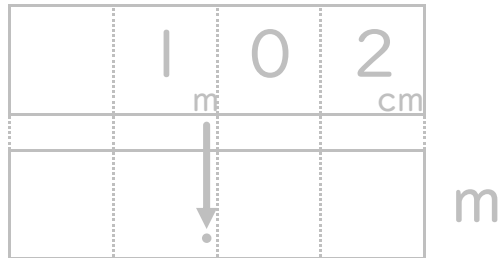
・ 次の長さを、小数を使ってmで表しましょう。(うすい字はなぞりましょう。)

① 1 m 3 2 c m



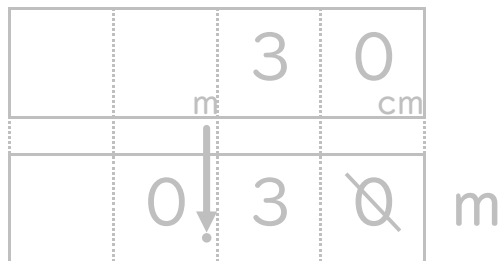
答え 1.32m

② 1 m 2 c m



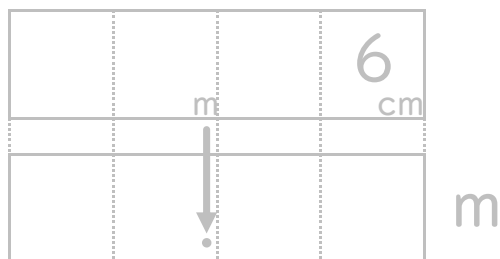
答え \_\_\_\_\_

③ 3 0 c m



答え \_\_\_\_\_

④ 6 c m



答え \_\_\_\_\_





# 小数の表し方6

◎ cmをmで表す

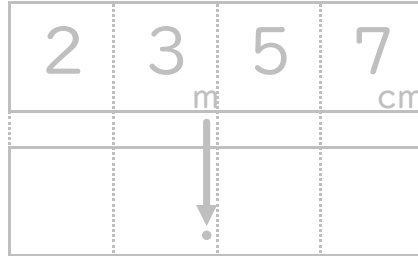


日にち：      月      日

名まえ \_\_\_\_\_

・ 次の長さを、小数を使ってmで表しましょう。(うすい字はなぞりましょう。)

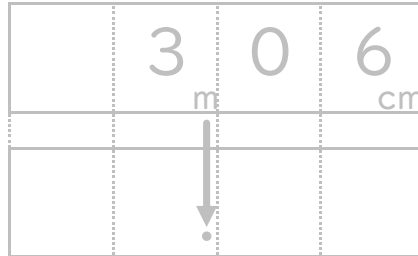
① 23m57cm



m

答え \_\_\_\_\_

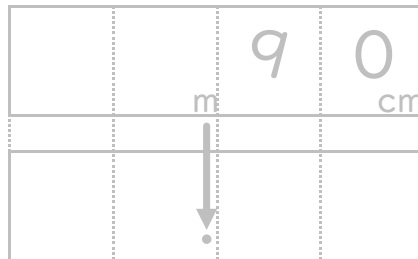
② 3m6cm



m

答え \_\_\_\_\_

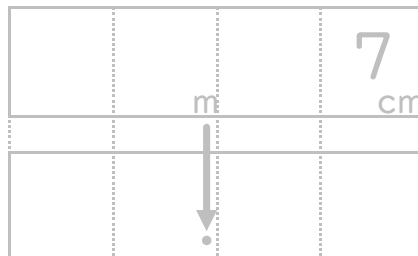
③ 90cm



m

答え \_\_\_\_\_

④ 7cm



m

答え \_\_\_\_\_





# 小数の表し方 6

㊦ cmをmで表す



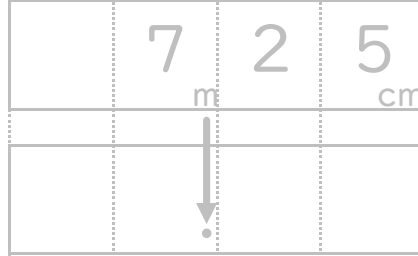
日にち：      月      日

名まえ

---

・ 次の長さを、小数を使ってmで表しましょう。(うすい字はなぞりましょう。)

① 7 m 2 5 c m

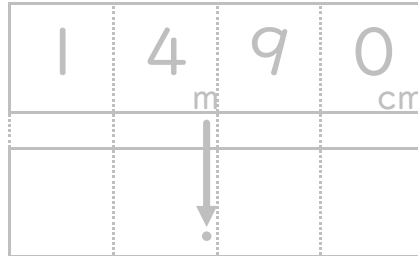


m

答え

---

② 1 4 m 9 0 c m

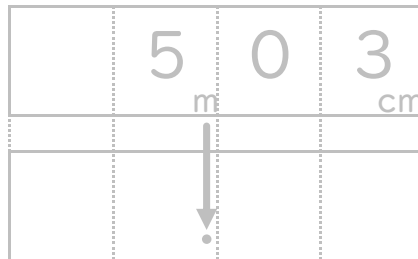


m

答え

---

③ 5 m 3 c m

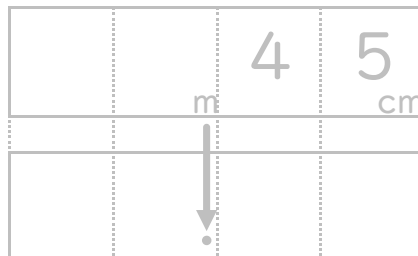


m

答え

---

④ 4 5 c m



m

答え

---





# 小数の表し方 6

◎ cmをmで表す



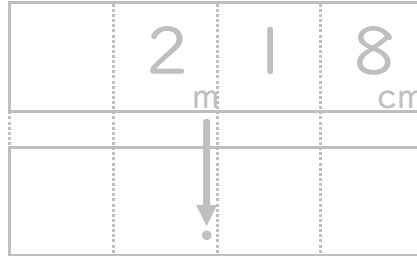
日にち：      月      日

名まえ

---

・ 次の長さを、小数を使ってmで表しましょう。(うすい字はなぞりましょう。)

① 2 m 1 8 c m

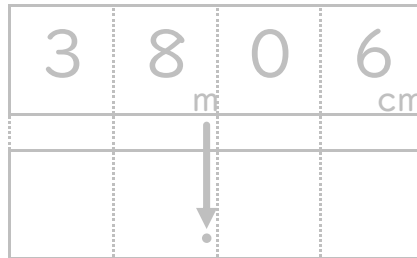


m

答え

---

② 3 8 m 6 c m

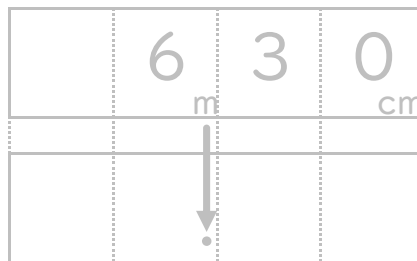


m

答え

---

③ 6 m 3 0 c m

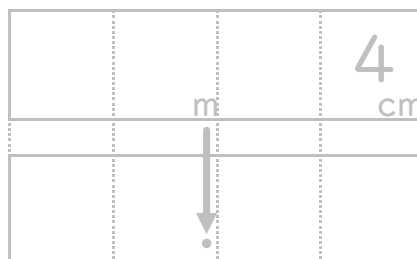


m

答え

---

④ 4 c m



m

答え

---





# 小数の表し方 6

◎ cmをmで表す

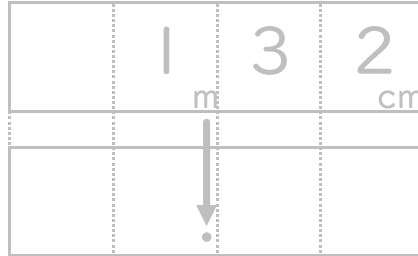


日にち：      月      日

名まえ \_\_\_\_\_

・ 次の長さを、小数を使ってmで表しましょう。(うすい字はなぞりましょう。)

① 1 m 3 2 c m



m

答え \_\_\_\_\_

② 1 2 m 5 c m

答え \_\_\_\_\_

③ 3 m 5 7 c m

答え \_\_\_\_\_

④ 3 2 c m

答え \_\_\_\_\_

⑤ 1 m 5 0 c m

答え \_\_\_\_\_

⑥ 7 2 c m

答え \_\_\_\_\_

⑦ 2 3 m 1 8 c m

答え \_\_\_\_\_

⑧ 9 4 c m

答え \_\_\_\_\_





# 小数の表し方 6

◎ cmをmで表す

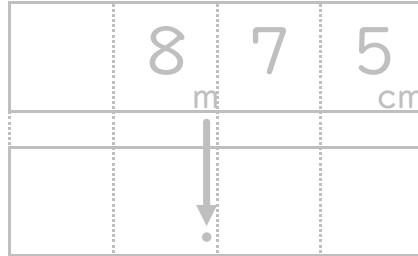


日にち：        月        日

名まえ \_\_\_\_\_

・ 次の長さを、小数を使ってmで表しましょう。(うすい字はなぞりましょう。)

① 8 m 7 5 c m



m

答え \_\_\_\_\_

② 2 4 m 8 c m

答え \_\_\_\_\_

③ 2 m 6 c m

答え \_\_\_\_\_

④ 3 7 c m

答え \_\_\_\_\_

⑤ 1 m 2 0 c m

答え \_\_\_\_\_

⑥ 8 0 c m

答え \_\_\_\_\_

⑦ 1 9 m 5 c m

答え \_\_\_\_\_

⑧ 7 9 c m

答え \_\_\_\_\_





# 小数の表し方 6

◎ cmをmで表す

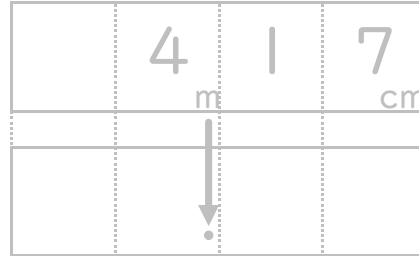


日にち：      月      日

名まえ \_\_\_\_\_

・ 次の長さを、小数を使ってmで表しましょう。(うすい字はなぞりましょう。)

① 4 m | 7 c m



m

答え \_\_\_\_\_

② 3 m 5 c m

答え \_\_\_\_\_

③ 1 4 m 5 0 c m

答え \_\_\_\_\_

④ 7 3 c m

答え \_\_\_\_\_

⑤ 8 m 4 c m

答え \_\_\_\_\_

⑥ 4 2 c m

答え \_\_\_\_\_

⑦ 3 2 m 6 7 c m

答え \_\_\_\_\_

⑧ 2 1 c m

答え \_\_\_\_\_





# 小数の表し方 6

◎ cmをmで表す

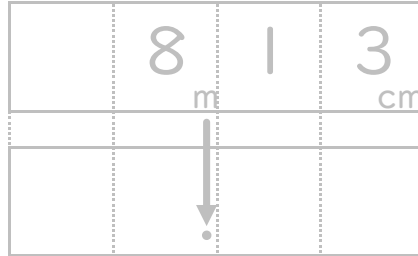


日にち：      月      日

名まえ \_\_\_\_\_

・ 次の長さを、小数を使ってmで表しましょう。(うすい字はなぞりましょう。)

① 8 m | 3 c m



m

答え \_\_\_\_\_

② 7 m 9 c m

答え \_\_\_\_\_

③ 5 | m 6 c m

答え \_\_\_\_\_

④ 4 5 c m

答え \_\_\_\_\_

⑤ 7 m | 0 c m

答え \_\_\_\_\_

⑥ 2 4 c m

答え \_\_\_\_\_

⑦ 1 9 m 5 6 c m

答え \_\_\_\_\_

⑧ 7 0 c m

答え \_\_\_\_\_







# 小数の表し方 6

◎ cmをmで表す

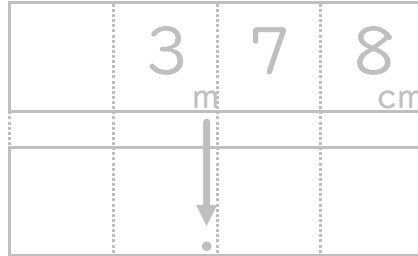


日にち：      月      日

名まえ \_\_\_\_\_

・ 次の長さを、小数を使ってmで表しましょう。(うすい字はなぞりましょう。)

① 3 m 7 8 c m



m

答え \_\_\_\_\_

② 1 m 4 0 c m

答え \_\_\_\_\_

③ 2 4 m 3 9 c m

答え \_\_\_\_\_

④ 5 6 c m

答え \_\_\_\_\_

⑤ 3 4 m 7 c m

答え \_\_\_\_\_

⑥ 7 7 c m

答え \_\_\_\_\_

⑦ 8 1 m 9 c m

答え \_\_\_\_\_

⑧ 5 0 c m

答え \_\_\_\_\_





# 小数の表し方6

◎ cmをmで表す



日にち：        月        日

名まえ \_\_\_\_\_

1. 次の長さを、小数を使ってmで表しましょう。

① 1 m 3 2 c m

答え \_\_\_\_\_

② 1 2 m 4 0 c m

答え \_\_\_\_\_

③ 1 m 2 c m

答え \_\_\_\_\_

④ 3 2 c m

答え \_\_\_\_\_

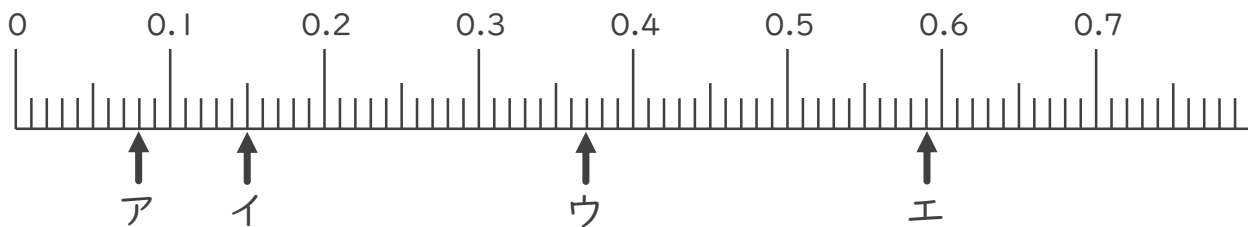
⑤ 6 c m

答え \_\_\_\_\_

⑥ 2 m 8 c m

答え \_\_\_\_\_

2. 次の数直線でア～オが表す数を答えましょう。



ア 0.08

イ \_\_\_\_\_

ウ \_\_\_\_\_

エ \_\_\_\_\_





# 小数の表し方6

㊦ cmをmで表す



日にち：        月        日

名まえ \_\_\_\_\_

1. 次の長さを、小数を使ってmで表しましょう。

① 2 m 5 4 c m

答え \_\_\_\_\_

② 2 4 m 3 0 c m

答え \_\_\_\_\_

③ 3 m 5 c m

答え \_\_\_\_\_

④ 8 7 c m

答え \_\_\_\_\_

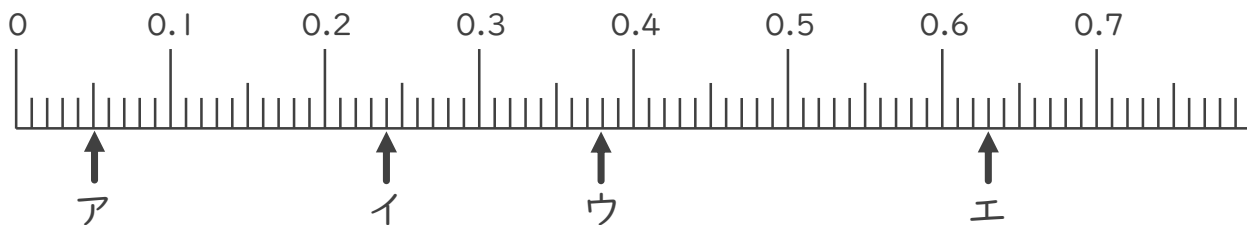
⑤ 6 c m

答え \_\_\_\_\_

⑥ 4 m 9 c m

答え \_\_\_\_\_

2. 次の数直線でア～オが表す数を答えましょう。



ア \_\_\_\_\_

イ \_\_\_\_\_

ウ \_\_\_\_\_

エ \_\_\_\_\_





# 小数の表し方6

㊦ cmをmで表す



日にち：          月          日

名まえ

---

1. 次の長さを、小数を使ってmで表しましょう。

① 1 m 1 3 c m

答え

---

② 3 7 m 6 c m

答え

---

③ 7 m 8 c m

答え

---

④ 9 5 c m

答え

---

⑤ 9 c m

答え

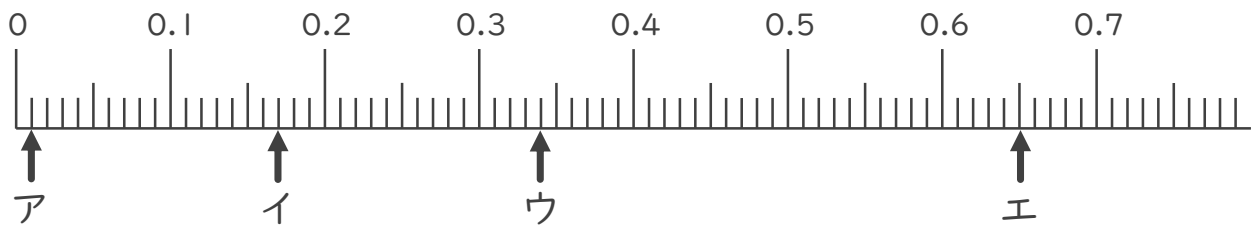
---

⑥ 2 m 2 c m

答え

---

2. 次の数直線でア～オが表す数を答えましょう。



ア

---

イ

---

ウ

---

エ

---





# 小数の表し方6

㊦ cmをmで表す

13

日にち：      月      日

名まえ

---

1. 次の長さを、小数を使ってmで表しましょう。

① 8 m 2 3 c m

答え

---

② 4 m 1 c m

答え

---

③ 3 4 m 3 c m

答え

---

④ 2 8 c m

答え

---

⑤ 5 c m

答え

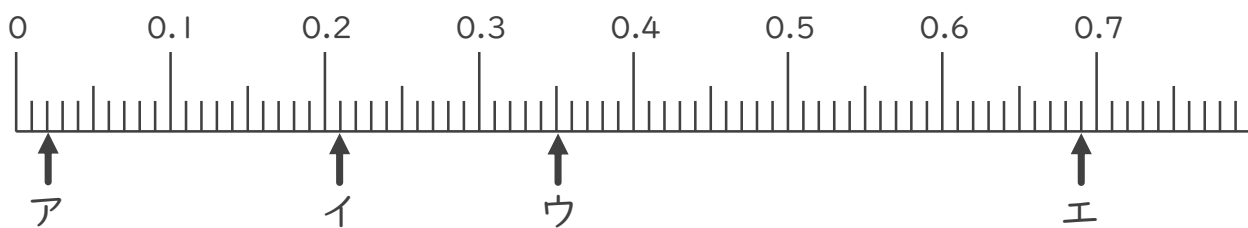
---

⑥ 1 m 2 7 c m

答え

---

2. 次の数直線でア～オが表す数を答えましょう。



ア

---

イ

---

ウ

---

エ

---





# 小数の表し方6

㊦ cmをmで表す



日にち：        月        日

名まえ \_\_\_\_\_

1. 次の長さを、小数を使ってmで表しましょう。

① 5 m 3 4 c m

答え \_\_\_\_\_

② 3 2 m 1 0 c m

答え \_\_\_\_\_

③ 7 m 5 c m

答え \_\_\_\_\_

④ 9 2 c m

答え \_\_\_\_\_

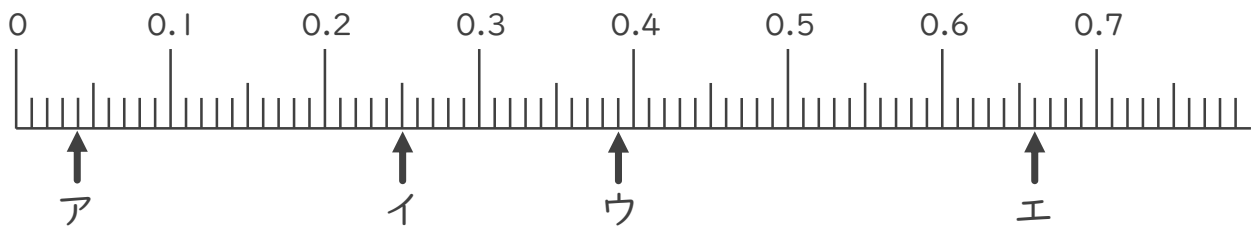
⑤ 8 c m

答え \_\_\_\_\_

⑥ 1 2 m 7 c m

答え \_\_\_\_\_

2. 次の数直線でア～オが表す数を答えましょう。



ア \_\_\_\_\_

イ \_\_\_\_\_

ウ \_\_\_\_\_

エ \_\_\_\_\_





# 小数の表し方 6

◎ cmをmで表す

15

名まえ \_\_\_\_\_

1. 次の長さを、小数を使ってmで表しましょう。(各10点)

① 1 m 7 8 c m

答え \_\_\_\_\_

② 2 3 m 6 0 c m

答え \_\_\_\_\_

③ 6 m 5 c m

答え \_\_\_\_\_

④ 3 c m

答え \_\_\_\_\_

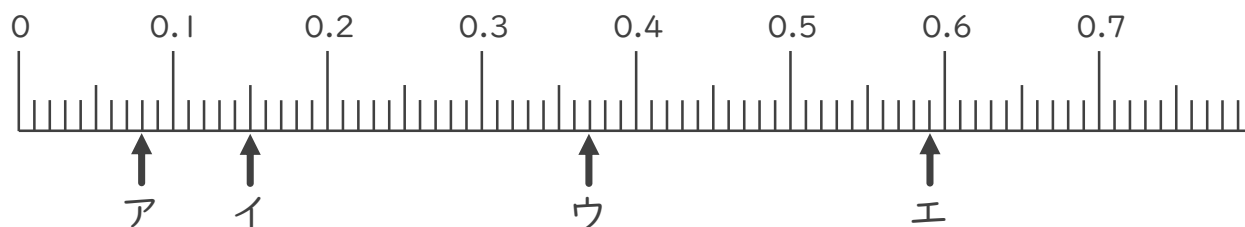
⑤ 2 0 c m

答え \_\_\_\_\_

⑥ 2 m 8 c m

答え \_\_\_\_\_

2. 次の数直線でア～オが表す数を答えましょう。(各10点)



ア \_\_\_\_\_

イ \_\_\_\_\_

ウ \_\_\_\_\_

エ \_\_\_\_\_





# 小数の表し方6

◎ cmをmで表す

16

目指せ90点!



名まえ \_\_\_\_\_

1. 次の長さを、小数を使ってmで表しましょう。(各10点)

① 5 m 2 4 c m

答え \_\_\_\_\_

② 2 m 3 c m

答え \_\_\_\_\_

③ 8 9 m 1 c m

答え \_\_\_\_\_

④ 3 5 c m

答え \_\_\_\_\_

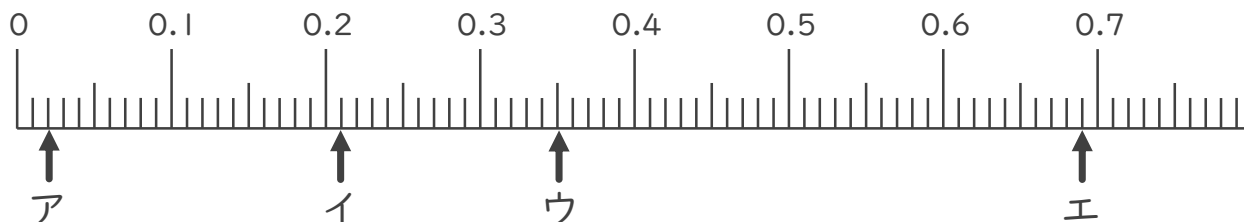
⑤ 6 c m

答え \_\_\_\_\_

⑥ 3 m 3 7 c m

答え \_\_\_\_\_

2. 次の数直線でア～オが表す数を答えましょう。(各10点)



ア \_\_\_\_\_

イ \_\_\_\_\_

ウ \_\_\_\_\_

エ \_\_\_\_\_







# 小数の表し方6

◎ cmをmで表す

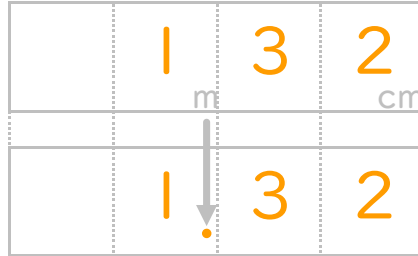


日にち：      月      日

名まえ \_\_\_\_\_

・ 次の長さを、小数を使ってmで表しましょう。(うすい字はなぞりましょう。)

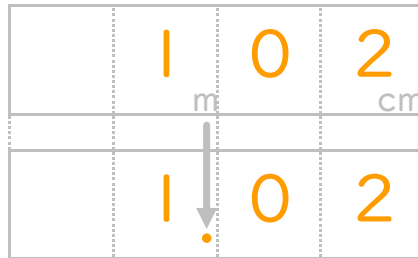
① 1 m 3 2 c m



m

答え 1.32m

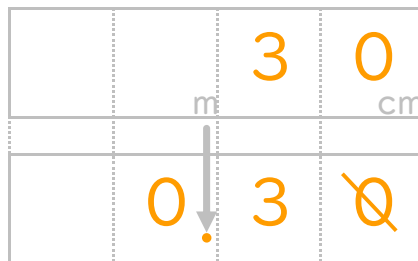
② 1 m 2 c m



m

答え 1.02m

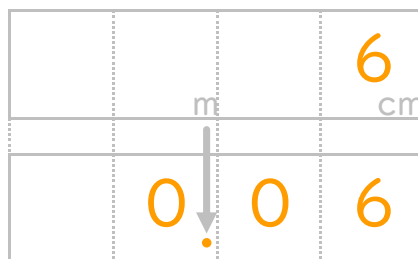
③ 3 0 c m



m

答え 0.3m

④ 6 c m



m

答え 0.06m





# 小数の表し方6

◎ cmをmで表す

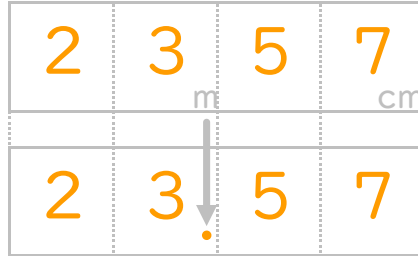


日にち：          月          日

名まえ \_\_\_\_\_

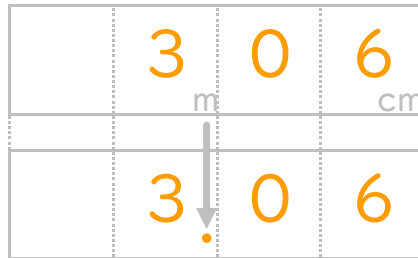
・ 次の長さを、小数を使ってmで表しましょう。(うすい字はなぞりましょう。)

① 23m57cm



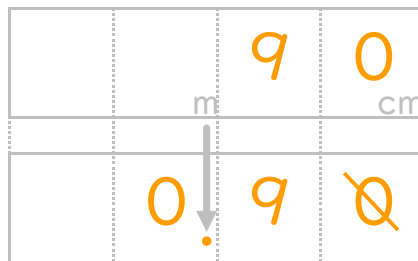
答え 23.57m

② 3m6cm



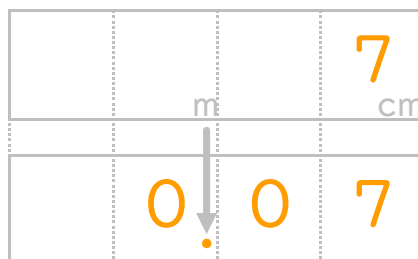
答え 3.06m

③ 90cm



答え 0.9m

④ 7cm



答え 0.07m





# 小数の表し方 6

◎ cmをmで表す

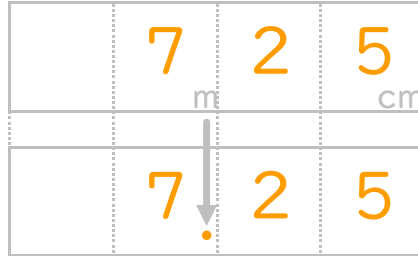


日にち：      月      日

名まえ \_\_\_\_\_

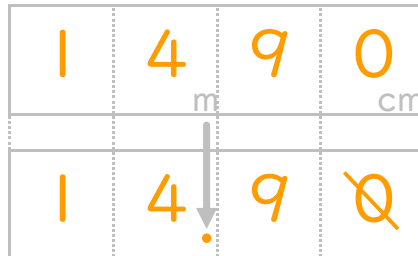
・ 次の長さを、小数を使ってmで表しましょう。(うすい字はなぞりましょう。)

① 7 m 2 5 c m



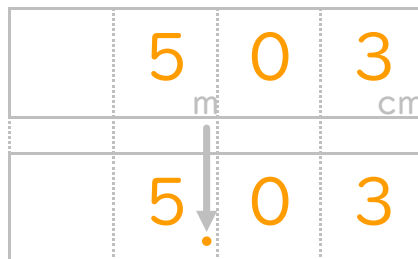
答え 7.25 m

② 1 4 m 9 0 c m



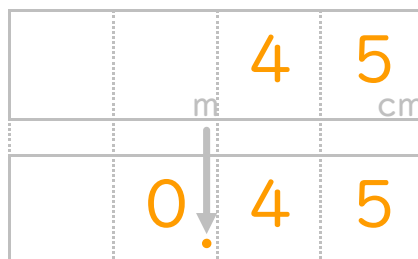
答え 14.9 m

③ 5 m 3 c m



答え 5.03 m

④ 4 5 c m



答え 0.45 m





# 小数の表し方6

◎ cmをmで表す



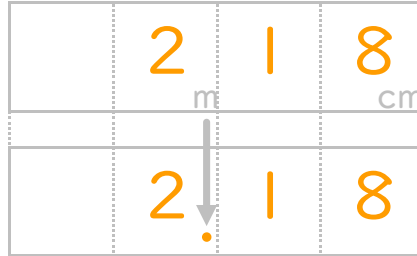
日にち：      月      日

名まえ

---

・ 次の長さを、小数を使ってmで表しましょう。(うすい字はなぞりましょう。)

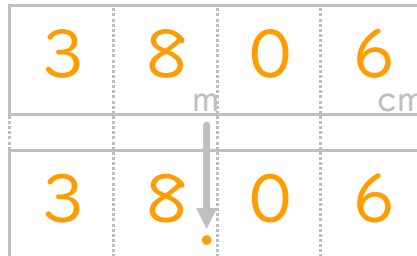
① 2 m 1 8 c m



m

答え 2.18m

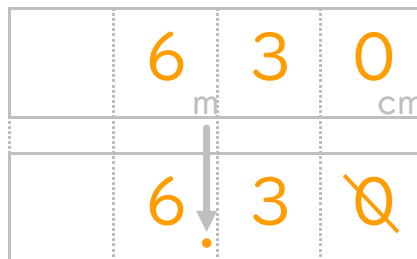
② 3 8 m 6 c m



m

答え 38.06m

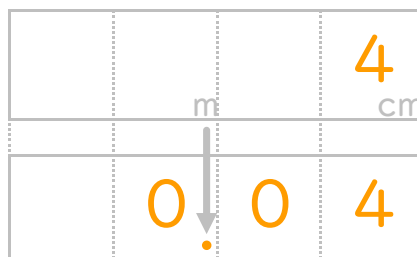
③ 6 m 3 0 c m



m

答え 6.3m

④ 4 c m



m

答え 0.04m





# 小数の表し方 6

◎ cmをmで表す



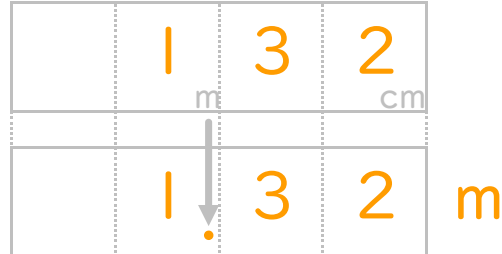
日にち：      月      日

名まえ

---

・ 次の長さを、小数を使ってmで表しましょう。(うすい字はなぞりましょう。)

① 1 m 3 2 c m



答え 1.32m

② 1 2 m 5 c m

答え 12.05m

③ 3 m 5 7 c m

答え 3.57m

④ 3 2 c m

答え 0.32m

⑤ 1 m 5 0 c m

答え 1.5m

⑥ 7 2 c m

答え 0.72m

⑦ 2 3 m 1 8 c m

答え 23.18m

⑧ 9 4 c m

答え 0.94m





# 小数の表し方 6

◎ cmをmで表す



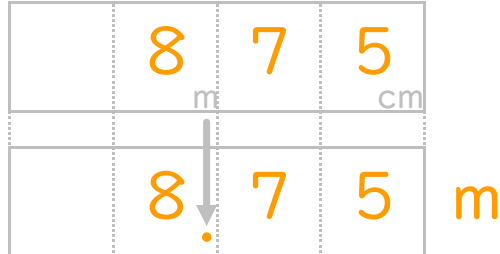
日にち：      月      日

名まえ

---

・ 次の長さを、小数を使ってmで表しましょう。(うすい字はなぞりましょう。)

① 8 m 7 5 c m



答え 8.75m

② 2 4 m 8 c m

答え 24.8m

③ 2 m 6 c m

答え 2.06m

④ 3 7 c m

答え 0.37m

⑤ 1 m 2 0 c m

答え 1.2m

⑥ 8 0 c m

答え 0.8m

⑦ 1 9 m 5 c m

答え 19.05m

⑧ 7 9 c m

答え 0.79m





# 小数の表し方 6

◎ cmをmで表す



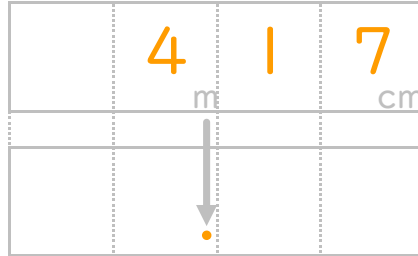
日にち：      月      日

名まえ

---

・ 次の長さを、小数を使ってmで表しましょう。(うすい字はなぞりましょう。)

① 4 m | 7 c m



m

答え 4.17m

② 3 m 5 c m

答え 3.05m

③ 1 4 m 5 0 c m

答え 14.5m

④ 7 3 c m

答え 0.73m

⑤ 8 m 4 c m

答え 8.04m

⑥ 4 2 c m

答え 0.42m

⑦ 3 2 m 6 7 c m

答え 32.67m

⑧ 2 1 c m

答え 0.21m





# 小数の表し方 6

◎ cmをmで表す

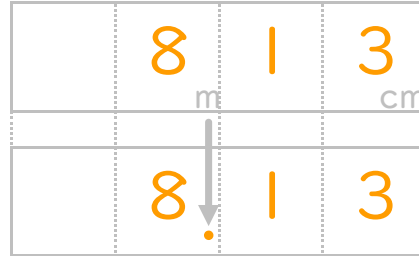


日にち：      月      日

名まえ \_\_\_\_\_

・ 次の長さを、小数を使ってmで表しましょう。(うすい字はなぞりましょう。)

① 8 m | 3 c m



答え 8.13m

② 7 m 9 c m

答え 7.09m

③ 5 | m 6 c m

答え 51.06m

④ 4 5 c m

答え 0.45m

⑤ 7 m | 0 c m

答え 7.1m

⑥ 2 4 c m

答え 0.24m

⑦ 1 9 m 5 6 c m

答え 19.56m

⑧ 7 0 c m

答え 0.7m







# 小数の表し方 6

◎ cmをmで表す



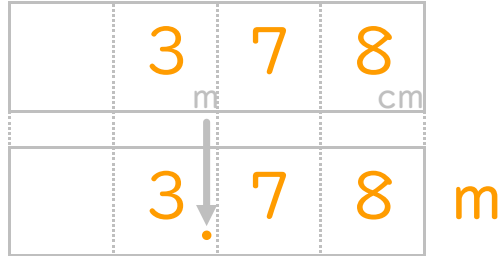
日にち：      月      日

名まえ

---

・ 次の長さを、小数を使ってmで表しましょう。(うすい字はなぞりましょう。)

① 3 m 7 8 c m



答え 3.78 m

② 1 m 4 0 c m

答え 1.4 m

③ 2 4 m 3 9 c m

答え 24.39 m

④ 5 6 c m

答え 0.56 m

⑤ 3 4 m 7 c m

答え 34.07 m

⑥ 7 7 c m

答え 0.77 m

⑦ 8 1 m 9 c m

答え 81.09 m

⑧ 5 0 c m

答え 0.5 m





# 小数の表し方6

◎ cmをmで表す



日にち：      月      日

名まえ

1. 次の長さを、小数を使ってmで表しましょう。

① 1 m 3 2 c m

答え 1.32 m

② 1 2 m 4 0 c m

答え 12.4 m

③ 1 m 2 c m

答え 1.02 m

④ 3 2 c m

答え 0.32 m

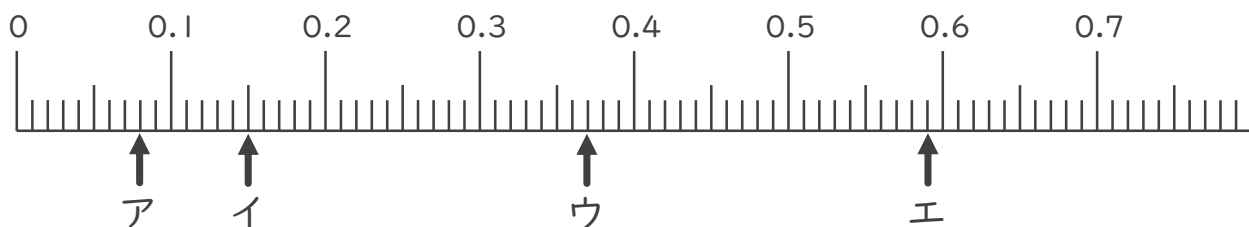
⑤ 6 c m

答え 0.06 m

⑥ 2 m 8 c m

答え 2.08 m

2. 次の数直線でア～オが表す数を答えましょう。



ア 0.08

イ 0.15

ウ 0.37

エ 0.59





# 小数の表し方6

㊦ cmをmで表す



日にち： 月 日

名まえ

1. 次の長さを、小数を使ってmで表しましょう。

① 2 m 5 4 c m

答え 2.54 m

② 2 4 m 3 0 c m

答え 24.3 m

③ 3 m 5 c m

答え 3.05 m

④ 8 7 c m

答え 0.87 m

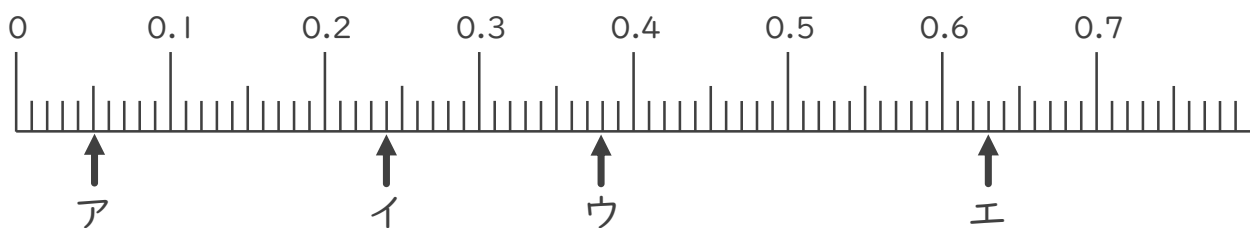
⑤ 6 c m

答え 0.06 m

⑥ 4 m 9 c m

答え 4.09 m

2. 次の数直線でア～オが表す数を答えましょう。



ア 0.05

イ 0.24

ウ 0.38

エ 0.63





# 小数の表し方6

◎ cmをmで表す

12

日にち： 月 日

名まえ

1. 次の長さを、小数を使ってmで表しましょう。

① 1 m 1 3 c m

答え 1.13m

② 3 7 m 6 c m

答え 37.06m

③ 7 m 8 c m

答え 7.08m

④ 9 5 c m

答え 0.95m

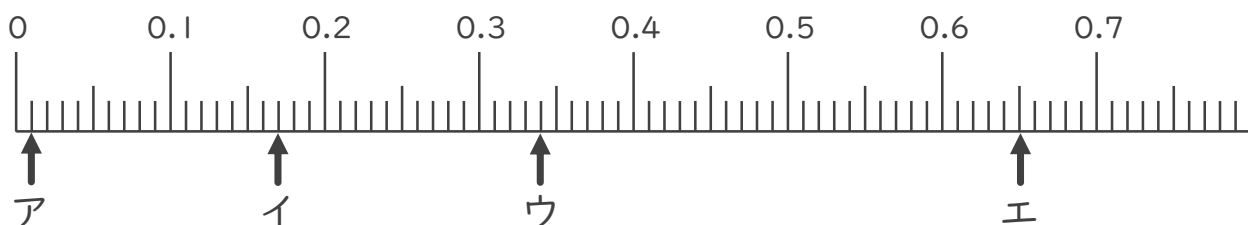
⑤ 9 c m

答え 0.09m

⑥ 2 m 2 c m

答え 2.02m

2. 次の数直線でア～オが表す数を答えましょう。



ア 0.01

イ 0.17

ウ 0.34

エ 0.65





# 小数の表し方6

㊦ cmをmで表す

13

日にち：      月      日

名まえ

1. 次の長さを、小数を使ってmで表しましょう。

① 8 m 2 3 c m

答え 8.23 m

② 4 m 1 c m

答え 4.01 m

③ 3 4 m 3 c m

答え 34.03 m

④ 2 8 c m

答え 0.28 m

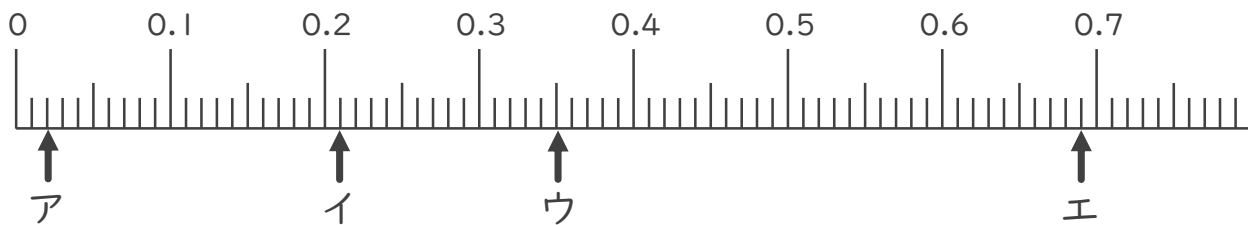
⑤ 5 c m

答え 0.05 m

⑥ 1 m 2 7 c m

答え 1.27 m

2. 次の数直線でア～オが表す数を答えましょう。



ア 0.02

イ 0.21

ウ 0.35

エ 0.69





# 小数の表し方6

㊦ cmをmで表す

14

日にち： 月 日

名まえ

1. 次の長さを、小数を使ってmで表しましょう。

① 5 m 3 4 c m

答え 5.34 m

② 3 2 m 1 0 c m

答え 32.1 m

③ 7 m 5 c m

答え 7.05 m

④ 9 2 c m

答え 0.92 m

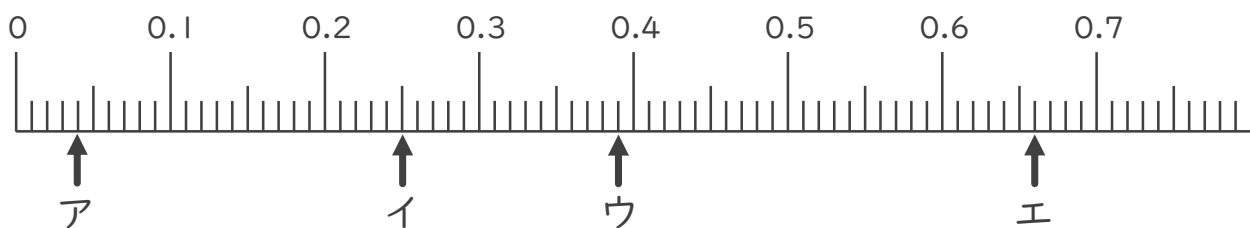
⑤ 8 c m

答え 0.08 m

⑥ 1 2 m 7 c m

答え 12.07 m

2. 次の数直線でア～オが表す数を答えましょう。



ア 0.04

イ 0.25

ウ 0.39

エ 0.66





# 小数の表し方 6

◎ cmをmで表す

15

目指せ90点!



名まえ \_\_\_\_\_

1. 次の長さを、小数を使ってmで表しましょう。(各10点)

① 1 m 7 8 c m

答え 1.78 m

② 2 3 m 6 0 c m

答え 23.6 m

③ 6 m 5 c m

答え 6.05 m

④ 3 c m

答え 0.03 m

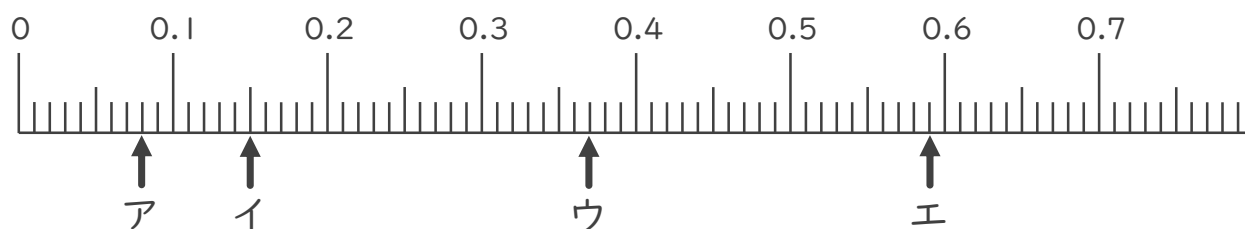
⑤ 2 0 c m

答え 0.2 m

⑥ 2 m 8 c m

答え 2.08 m

2. 次の数直線でア～オが表す数を答えましょう。(各10点)



ア 0.08

イ 0.15

ウ 0.37

エ 0.59





# 小数の表し方6

◎ cmをmで表す

16

目指せ90点!



名まえ

1. 次の長さを、小数を使ってmで表しましょう。(各10点)

① 5 m 2 4 c m

答え 5.24 m

② 2 m 3 c m

答え 2.03 m

③ 8 9 m 1 c m

答え 89.01 m

④ 3 5 c m

答え 0.35 m

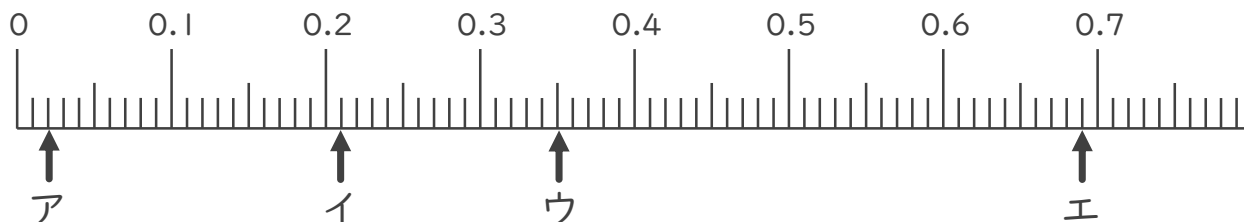
⑤ 6 c m

答え 0.06 m

⑥ 3 m 3 7 c m

答え 3.37 m

2. 次の数直線でア～オが表す数を答えましょう。(各10点)



ア 0.02

イ 0.21

ウ 0.35

エ 0.69

