



小数の表し方⑨

◎ mをkmで, gをkgで表す

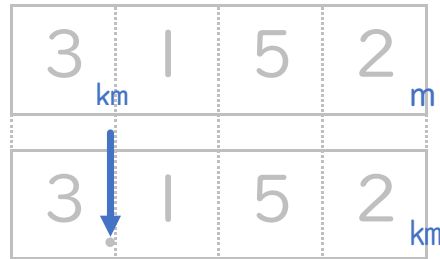


日にち： 月 日

名まえ _____

・ 次の長さを、小数を使ってkmで表しましょう。(うすい字はなぞりましょう。)

① 3 km | 5 2 m



答え 3.152 km

② 3 | 7 m



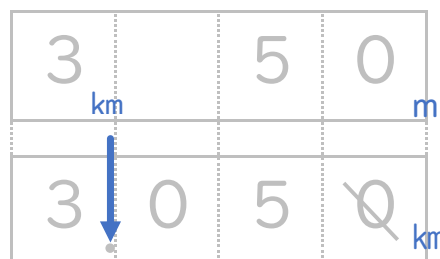
答え 0.317 km

③ 5 0 m



答え 0.05 km

④ 3 km 5 0 m



答え _____ km





小数の表し方⑨

◎ mをkmで、gをkgで表す



日にち： 月 日

名まえ

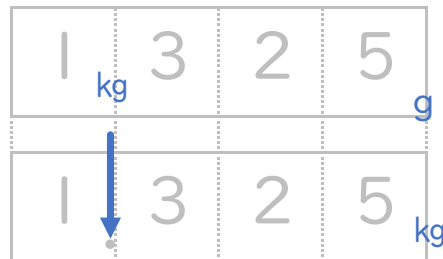
・ 次の重さを、小数を使ってkgで表しましょう。(うすい字はなぞりましょう。)

① 3 2 5 g



答え 0.325 kg

② 1 3 2 5 g



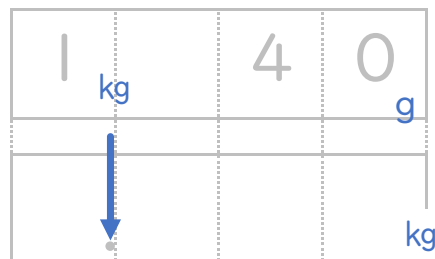
答え 1.325 kg

③ 1 kg 4 2 8 g



答え kg

④ 1 kg 4 0 g



答え





小数の表し方⑨

◎ mをkmで、gをkgで表す




日にち： 月 日

名まえ

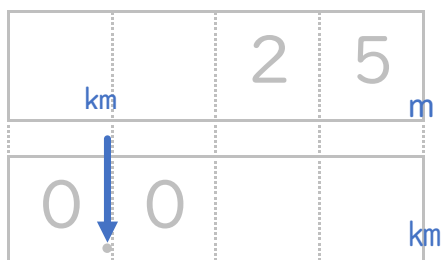
・ 次の長さを、小数を使ってkmで表しましょう。(うすい字はなぞりましょう。)

① 400 m



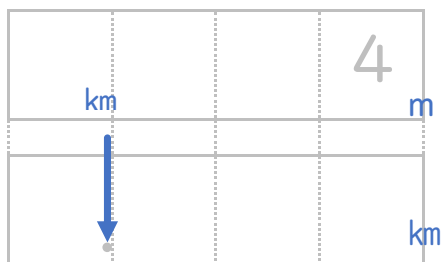
答え 0.4 km

② 25 m



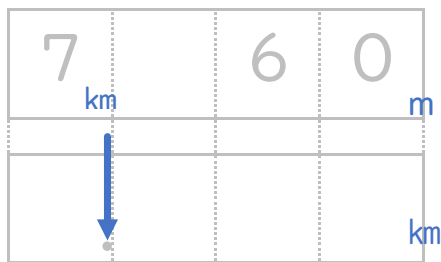
答え km

③ 4 m



答え km

④ 7 km 60 m



答え





小数の表し方⑨

◎ mをkmで、gをkgで表す



日にち： 月 日

名まえ

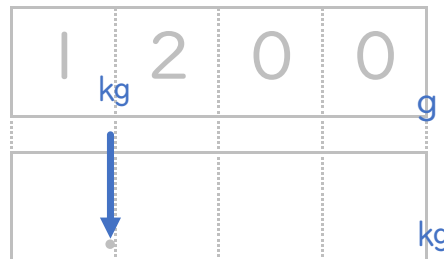
・ 次の重さを、小数を使ってkgで表しましょう。(うすい字はなぞりましょう。)

① 1 2 3 g



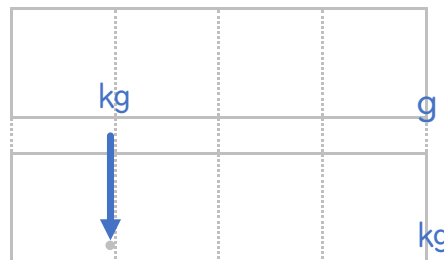
答え 0.123 kg

② 1 2 0 0 g



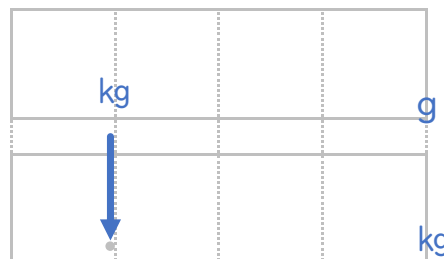
答え kg

③ 3 kg 6 0 g



答え

④ 2 kg 3 0 5 g



答え





小数の表し方⑨

◎ mをkmで、gをkgで表す



日にち： 月 日

名まえ

・ 次の長さを、小数を使ってkmで表しましょう。(うすい字はなぞりましょう。)

① 600m



答え km

② 90m



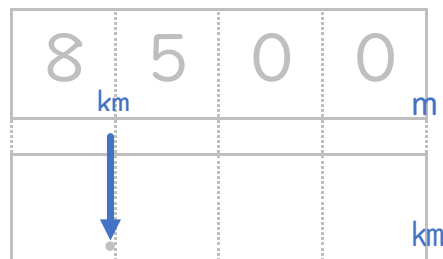
答え

③ 1275m



答え

④ 8km500m



答え





小数の表し方⑨

◎ mをkmで、gをkgで表す

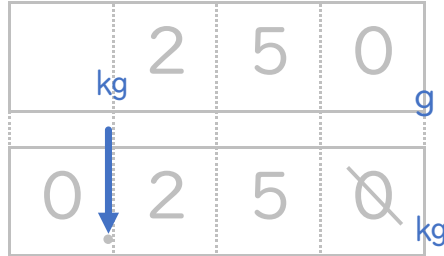


日にち： 月 日

名まえ _____

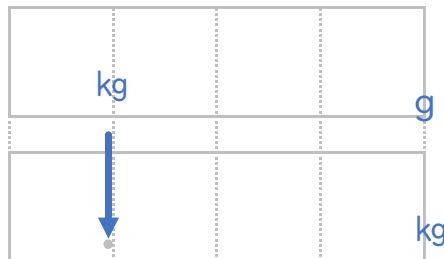
・ 次の重さを、小数を使ってkgで表しましょう。(うすい字はなぞりましょう。)

① 2 5 0 g



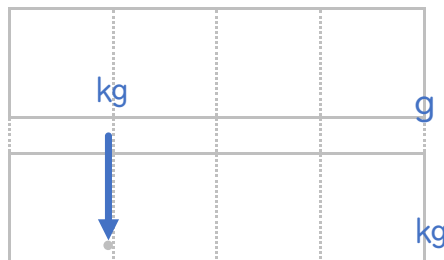
答え _____ kg

② 2 3 0 5 g



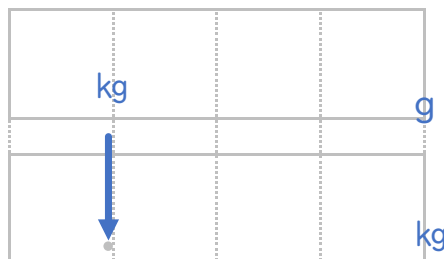
答え _____

③ 5 kg 4 0 0 g



答え _____

④ 1 kg 2 0 g



答え _____





小数の表し方⑨

◎ mをkmで、gをkgで表す



日にち： 月 日

名まえ _____

・ 次の長さを、小数を使ってkmで表しましょう。(うすい字はなぞりましょう。)

① 200m



答え _____ km

② 80m

答え _____

③ 4190m

答え _____

④ 3km243m

答え _____

⑤ 600m

答え _____

⑥ 2km50m

答え _____

⑦ 53m

答え _____

⑧ 3m

答え _____





小数の表し方⑨

◎ mをkmで、gをkgで表す

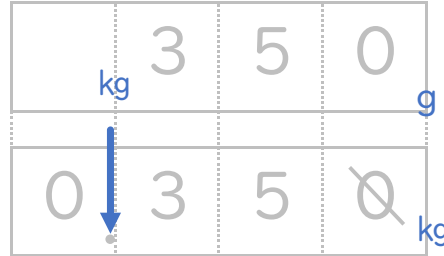


日にち： 月 日

名まえ _____

・ 次の重さを、小数を使ってkgで表しましょう。(うすい字はなぞりましょう。)

① 3 5 0 g



答え _____

② 4 0 g

答え _____

③ 2 3 6 0 g

答え _____

④ 4 kg 8 5 g

答え _____

⑤ 7 0 0 g

答え _____

⑥ 1 kg 9 g

答え _____

⑦ 3 4 g

答え _____

⑧ 7 g

答え _____





小数の表し方9

◎ mをkmで, gをkgで表す

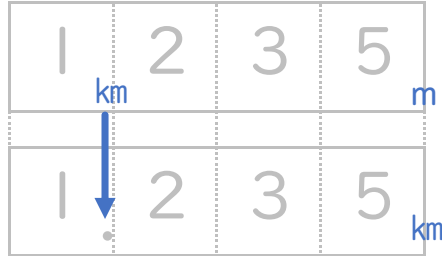


日にち： 月 日

名まえ _____

・ 次の長さを、小数を使ってkmで表しましょう。(うすい字はなぞりましょう。)

① 1 2 3 5 m



答え _____

② 9 0 m

答え _____

③ 2 3 0 4 m

答え _____

④ 2 km 6 0 m

答え _____

⑤ 3 5 0 m

答え _____

⑥ 5 km 4 m

答え _____

⑦ 1 0 m

答え _____

⑧ 2 m

答え _____





小数の表し方9

◎ mをkmで、gをkgで表す



日にち： 月 日

名まえ

1. 次の重さを、小数を使ってkgで表しましょう。

① 70 g

答え

② 4900 g

答え

③ 15 g

答え

④ 2kg50 g

答え

⑤ 452 g

答え

2. 次の長さを、小数を使ってmで表しましょう。

① 4 m 17 cm

答え

② 25 m 10 cm

答え

③ 2 m 5 cm

答え

④ 60 cm

答え

⑤ 9 cm

答え





小数の表し方⑨

◎ mをkmで、gをkgで表す



日にち： 月 日

名まえ

1. 次の長さを、小数を使ってkmで表しましょう。

① 50 m

答え

② 1200 m

答え

③ 37 m

答え

④ 4 km 61 m

答え

⑤ 863 m

答え

2. 次の長さを、小数を使ってmで表しましょう。

① 5 m 28 cm

答え

② 13 m 20 cm

答え

③ 4 m 6 cm

答え

④ 90 cm

答え

⑤ 3 cm

答え





小数の表し方⑨

◎ mをkmで, gをkgで表す



日にち： 月 日

名まえ _____

1. 次の重さを、小数を使ってkgで表しましょう。

① 80 g

答え _____

② 3200 g

答え _____

③ 56 g

答え _____

④ 1 kg 40 g

答え _____

⑤ 789 g

答え _____

2. 次の長さを、小数を使ってmで表しましょう。

① 1 m 32 cm

答え _____

② 12 m 40 cm

答え _____

③ 1 m 2 cm

答え _____

④ 32 cm

答え _____

⑤ 6 cm

答え _____





小数の表し方⑨

◎ mをkmで、gをkgで表す

13

日にち： 月 日

名まえ _____

1. 次の長さを、小数を使ってkmで表しましょう。

① 50 m

答え _____

② 2350 m

答え _____

③ 2km476 m

答え _____

④ 390 m

答え _____

⑤ 5 m

答え _____

2. 次の長さを、小数を使ってmで表しましょう。

① 3m24 cm

答え _____

② 24m30 cm

答え _____

③ 3m5 cm

答え _____

④ 87 cm

答え _____

⑤ 6 cm

答え _____





小数の表し方⑨

◎ mをkmで, gをkgで表す



日にち： 月 日

名まえ _____

1. 次の重さを、小数を使ってkgで表しましょう。

① 6 g

答え _____

② 2 4 5 6 g

答え _____

③ 3 0 g

答え _____

④ 3 kg 6 0 0 g

答え _____

⑤ 5 6 0 g

答え _____

2. 次の長さを、小数を使ってmで表しましょう。

① 2 m 3 cm

答え _____

② 1 5 cm

答え _____

③ 3 m 6 0 cm

答え _____

④ 4 5 cm

答え _____

⑤ 9 cm

答え _____





小数の表し方9

◎ mをkmで, gをkgで表す

15

目指せ80点!



名まえ _____

1. 次の長さを、小数を使ってkmで表しましょう。(各10点)

① 173 m

答え _____

② 1 km 600 m

答え _____

③ 890 m

答え _____

④ 47 m

答え _____

⑤ 2304 m

答え _____

2. 次の長さを、小数を使ってmで表しましょう。(各10点)

① 5 m 34 cm

答え _____

② 32 m 10 cm

答え _____

③ 7 m 5 cm

答え _____

④ 92 cm

答え _____

⑤ 8 cm

答え _____





小数の表し方9

◎ mをkmで, gをkgで表す

16

目指せ80点!



名まえ _____

1. 次の重さを、小数を使ってkgで表しましょう。(各10点)

① 610g

答え _____

② 3425g

答え _____

③ 90g

答え _____

④ 7kg500g

答え _____

⑤ 8g

答え _____

2. 次の長さを、小数を使ってmで表しましょう。(各10点)

① 8cm

答え _____

② 47cm

答え _____

③ 3m50cm

答え _____

④ 73cm

答え _____

⑤ 1m2cm

答え _____





小数の表し方⑨

◎ mをkmで, gをkgで表す



日にち： 月 日

名まえ

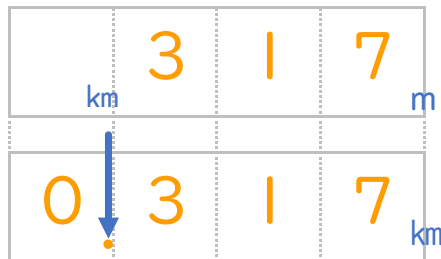
・ 次の長さを、小数を使ってkmで表しましょう。(うすい字はなぞりましょう。)

① 3 km | 5 2 m



答え 3.152 km

② 3 | 7 m



答え 0.317 km

③ 5 0 m



答え 0.05 km

④ 3 km 5 0 m



答え 3.05 km





小数の表し方⑨

◎ mをkmで, gをkgで表す



日にち： 月 日

名まえ

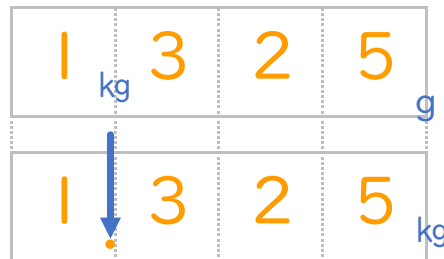
・ 次の重さを、小数を使ってkgで表しましょう。(うすい字はなぞりましょう。)

① 3 2 5 g



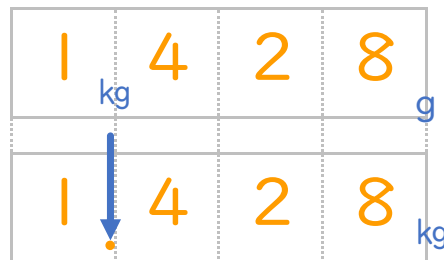
答え 0.325 kg

② 1 3 2 5 g



答え 1.325 kg

③ 1 kg 4 2 8 g



答え 1.428 kg

④ 1 kg 4 0g



答え 1.04 kg





小数の表し方⑨

◎ mをkmで、gをkgで表す

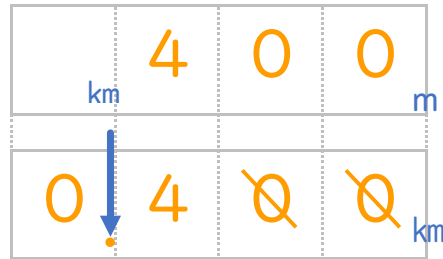


日にち： 月 日

名まえ

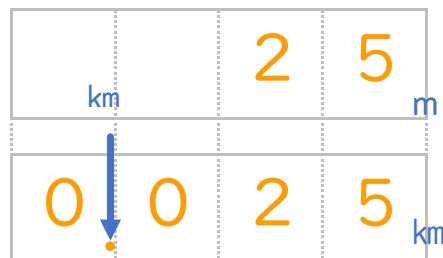
・ 次の長さを、小数を使ってkmで表しましょう。(うすい字はなぞりましょう。)

① 400 m



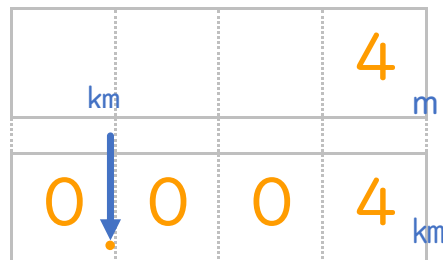
答え 0.4 km

② 25 m



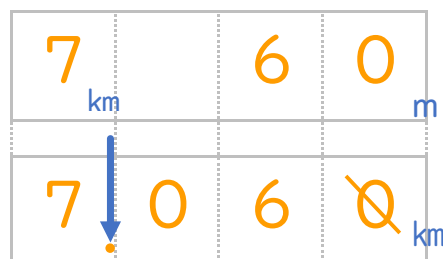
答え 0.025 km

③ 4 m



答え 0.004 km

④ 7 km 60 m



答え 7.06 km

③ 確認 答え



すらすらぷりんと



小数の表し方⑨

◎ mをkmで、gをkgで表す



日にち： 月 日

名まえ

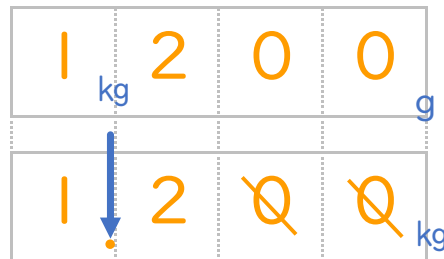
・ 次の重さを、小数を使ってkgで表しましょう。(うすい字はなぞりましょう。)

① 1 2 3 g



答え 0.123 kg

② 1 2 0 0 g



答え 1.2 kg

③ 3 kg 6 0 g



答え 3.06 kg

④ 2 kg 3 0 5 g



答え 2.305 kg





小数の表し方⑨

◎ mをkmで、gをkgで表す



日にち： 月 日

名まえ _____

・ 次の長さを、小数を使ってkmで表しましょう。(うすい字はなぞりましょう。)

① 600m



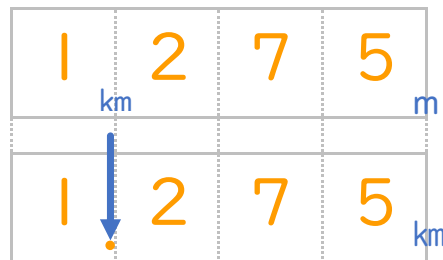
答え 0.6 km

② 90m



答え 0.09 km

③ 1275m



答え 1.275 km

④ 8km500m



答え 8.5 km

⑤ 確認 答え





小数の表し方

◎ mをkmで、gをkgで表す



日にち： 月 日

名まえ

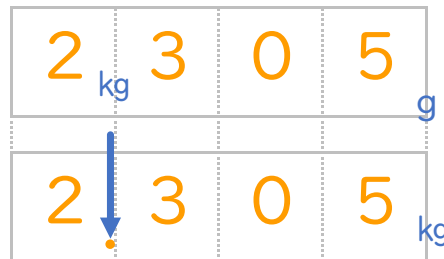
・ 次の重さを、小数を使ってkgで表しましょう。(うすい字はなぞりましょう。)

① 250g



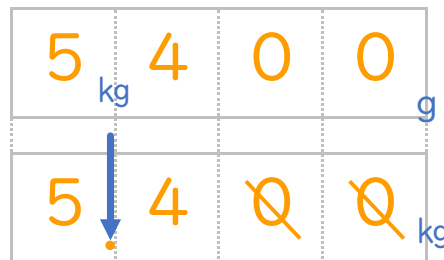
答え 0.2 kg

② 2305g



答え 2.305 kg

③ 5kg400g



答え 5.4 kg

④ 1kg20g



答え 1.02 kg





小数の表し方⑨

◎ mをkmで、gをkgで表す



日にち： 月 日

名まえ _____

・ 次の長さを、小数を使ってkmで表しましょう。(うすい字はなぞりましょう。)

① 200m



答え 0.2 km

② 80m

答え 0.08 km

③ 4190m

答え 4.19 km

④ 3km243m

答え 3.243 km

⑤ 600m

答え 0.6 km

⑥ 2km50m

答え 2.05 km

⑦ 53m

答え 0.053 km

⑧ 3m

答え 0.003 km





小数の表し方⑨

◎ mをkmで、gをkgで表す



日にち： 月 日

名まえ _____

・ 次の重さを、小数を使ってkgで表しましょう。(うすい字はなぞりましょう。)

① 3 5 0 g



答え 0.35 kg

② 4 0 g

答え 0.04 kg

③ 2 3 6 0 g

答え 2.36 kg

④ 4 kg 8 5 g

答え 4.085 kg

⑤ 7 0 0 g

答え 0.7 kg

⑥ 1 kg 9 g

答え 1.009 kg

⑦ 3 4 g

答え 0.034 kg

⑧ 7 g

答え 0.007 kg





小数の表し方9

◎ mをkmで、gをkgで表す



日にち： 月 日

名まえ _____

・ 次の長さを、小数を使ってkmで表しましょう。(うすい字はなぞりましょう。)

① 1 2 3 5 m



答え 1.235 km

② 9 0 m

答え 0.09 km

③ 2 3 0 4 m

答え 2.304 km

④ 2 km 6 0 m

答え 2.06 km

⑤ 3 5 0 m

答え 0.35 km

⑥ 5 km 4 m

答え 5.004 km

⑦ 1 0 m

答え 0.01 km

⑧ 2 m

答え 0.002 km





小数の表し方⑨

◎ mをkmで、gをkgで表す



日にち： 月 日

名まえ

1. 次の重さを、小数を使ってkgで表しましょう。

① 70 g

答え 0.07 kg

② 4900 g

答え 4.9 kg

③ 15 g

答え 0.015 kg

④ 2kg50 g

答え 2.05 kg

⑤ 452 g

答え 0.452 kg

2. 次の長さを、小数を使ってmで表しましょう。

① 4 m 17 cm

答え 4.17 m

② 25 m 10 cm

答え 25.1 m

③ 2 m 5 cm

答え 2.05 m

④ 60 cm

答え 0.6 m

⑤ 9 cm

答え 0.09 m





小数の表し方⑨

◎ mをkmで、gをkgで表す



日にち： 月 日

名まえ

1. 次の長さを、小数を使ってkmで表しましょう。

① 50 m

答え 0.05 km

② 1200 m

答え 1.2 km

③ 37 m

答え 0.037 km

④ 4 km 61 m

答え 4.61 km

⑤ 863 m

答え 0.863 km

2. 次の長さを、小数を使ってmで表しましょう。

① 5 m 28 cm

答え 5.28 m

② 13 m 20 cm

答え 13.2 m

③ 4 m 6 cm

答え 4.06 m

④ 90 cm

答え 0.9 m

⑤ 3 cm

答え 0.03 m





小数の表し方⑨

◎ mをkmで、gをkgで表す

12

日にち： 月 日

名まえ

1. 次の重さを、小数を使ってkgで表しましょう。

① 80 g

答え 0.08 kg

② 3200 g

答え 3.2 kg

③ 56 g

答え 0.056 kg

④ 1kg40 g

答え 1.04 kg

⑤ 789 g

答え 0.789 kg

2. 次の長さを、小数を使ってmで表しましょう。

① 1m32 cm

答え 1.32 m

② 12m40cm

答え 12.4 m

③ 1m2 cm

答え 1.02 m

④ 32 cm

答え 0.32 m

⑤ 6 cm

答え 0.06 m





小数の表し方9

◎ mをkmで, gをkgで表す

13

日にち： 月 日

名まえ

1. 次の長さを、小数を使ってkmで表しましょう。

① 50 m

答え 0.05 km

② 2350 m

答え 2.35 km

③ 2km476 m

答え 2.476 km

④ 390 m

答え 0.39 km

⑤ 5 m

答え 0.005 km

2. 次の長さを、小数を使ってmで表しましょう。

① 3m24 cm

答え 3.24 m

② 24m30 cm

答え 24.3 m

③ 3m5 cm

答え 3.05 m

④ 87 cm

答え 0.87 m

⑤ 6 cm

答え 0.06 m





小数の表し方9

◎ mをkmで, gをkgで表す

14

日にち： 月 日

名まえ

1. 次の重さを、小数を使ってkgで表しましょう。

① 6 g

答え 0.006 kg

② 2 4 5 6 g

答え 2.456 kg

③ 3 0 g

答え 0.03 kg

④ 3 kg 6 0 0 g

答え 3.6 kg

⑤ 5 6 0 g

答え 0.56 kg

2. 次の長さを、小数を使ってmで表しましょう。

① 2 m 3 cm

答え 2.03 m

② 1 5 cm

答え 0.15 m

③ 3 m 6 0 cm

答え 3.6 m

④ 4 5 cm

答え 0.45 m

⑤ 9 cm

答え 0.09 m






小数の表し方9

◎ mをkmで、gをkgで表す

15

目指せ80点!



名まえ _____

1. 次の長さを、小数を使ってkmで表しましょう。(各10点)

① 173 m

答え 0.173 km

② 1 km 600 m

答え 1.6 km

③ 890 m

答え 0.89 km

④ 47 m

答え 0.047 km

⑤ 2304 m

答え 2.304 km

2. 次の長さを、小数を使ってmで表しましょう。(各10点)

① 5 m 34 cm

答え 5.34 m

② 32 m 10 cm

答え 32.1 m

③ 7 m 5 cm

答え 7.05 m

④ 92 cm

答え 0.92 m

⑤ 8 cm

答え 0.08 m





小数の表し方⑨

◎ mをkmで, gをkgで表す

16

目指せ80点!



名まえ _____

1. 次の重さを、小数を使ってkgで表しましょう。(各10点)

① 610g

答え 0.61 kg

② 3425g

答え 3.425 kg

③ 90g

答え 0.09 kg

④ 7kg500g

答え 7.5 kg

⑤ 8g

答え 0.008 kg

2. 次の長さを、小数を使ってmで表しましょう。(各10点)

① 8cm

答え 0.08 m

② 47cm

答え 0.47 m

③ 3m50cm

答え 3.5 m

④ 73cm

答え 0.73 m

⑤ 1m2cm

答え 1.02 m

