



# 折れ線グラフと表 4

2本の折れ線グラフを  
比べよう

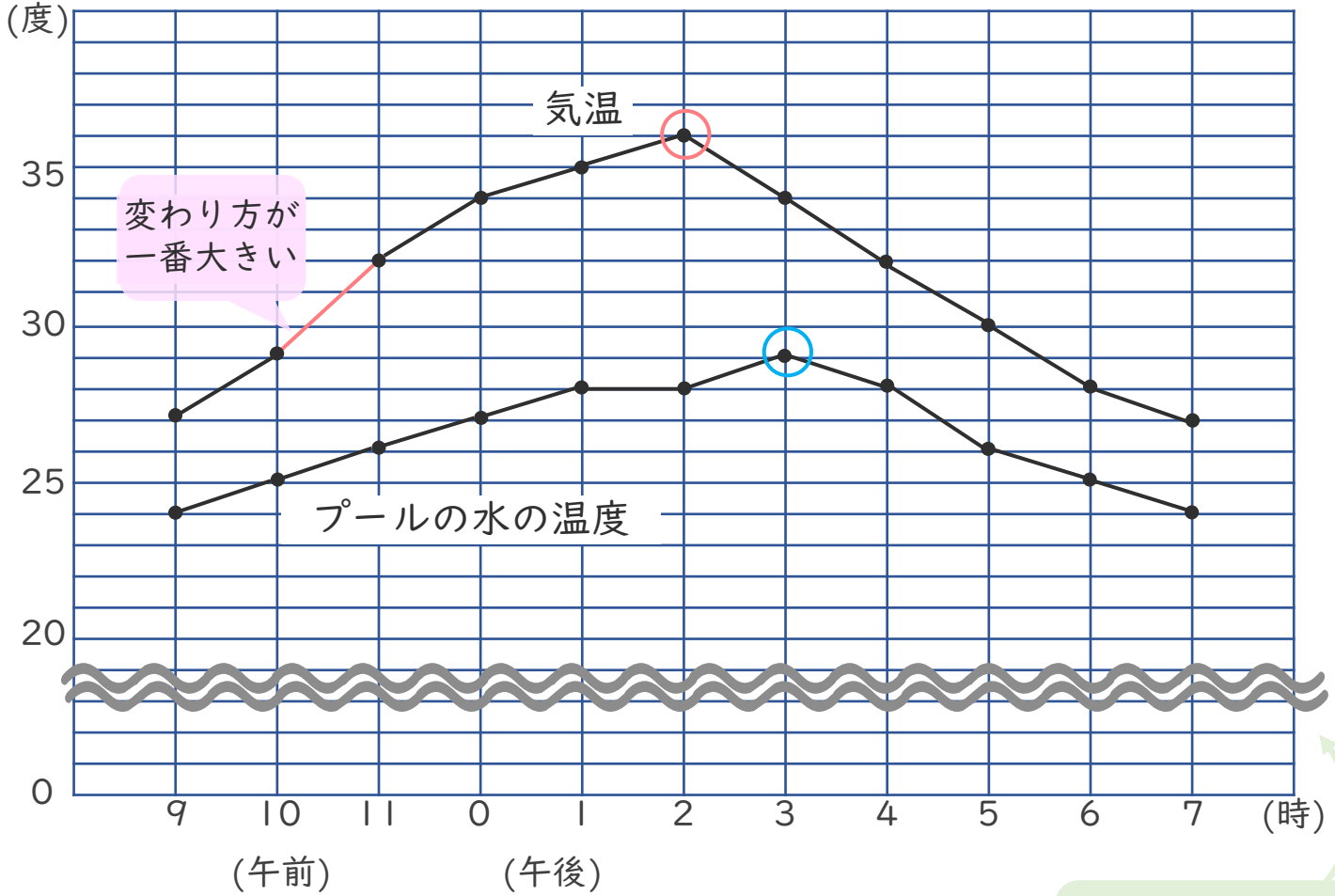


日にち： 月 日

名まえ \_\_\_\_\_

- 折れ線グラフを見て、にあう言葉を書きましょう。  
(うすい字はなぞりましょう。)

### 気温とプールの水の温度



~~~~~ を使って  
メモリのとちゅうを  
省いているよ!

- ① 気温が一番高かったのは  です。
- ② プールの水の温度が一番高かったのは  です。
- ③ 1時間の気温の変わり方が一番大きいのは  
 から  です。
- ④ 気温と水の温度で、温度の変化が大きい方は  です。





# 折れ線グラフと表 4

2本の折れ線グラフを  
比べよう

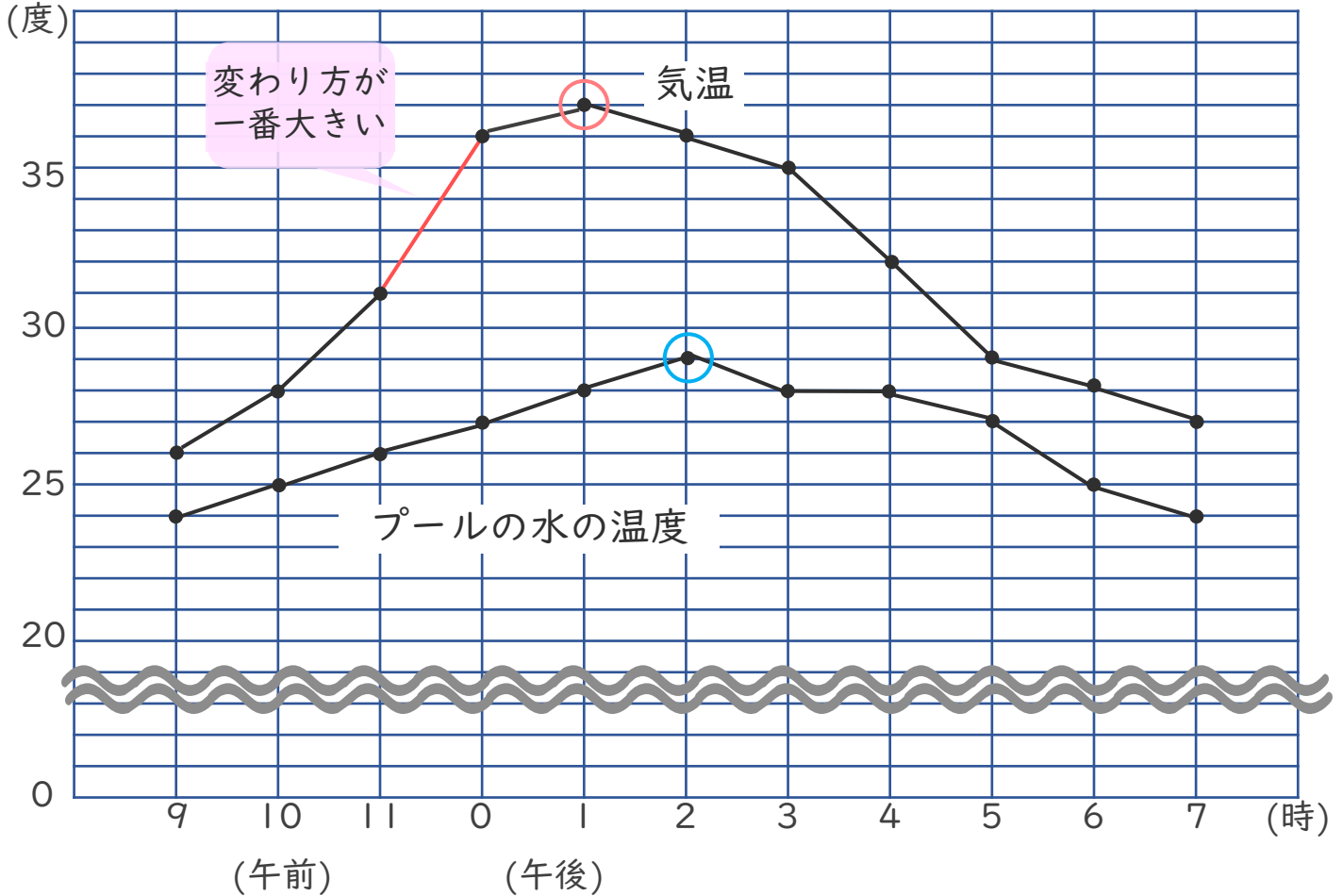


日にち： 月 日

名まえ \_\_\_\_\_

- 折れ線グラフを見て、にあう言葉を書きましょう。  
(うすい字はなぞりましょう。)

### 気温とプールの水の温度



- ① 気温が一番高かったのは  午後  時 です。
- ② プールの水の温度が一番高かったのは  です。
- ③ 1時間の気温の変わり方が一番大きいのは  午前11時 から  です。
- ④ 気温と水の温度で、温度の変化が大きい方は  です。





# 折れ線グラフと表 4

2本の折れ線グラフを  
比べよう

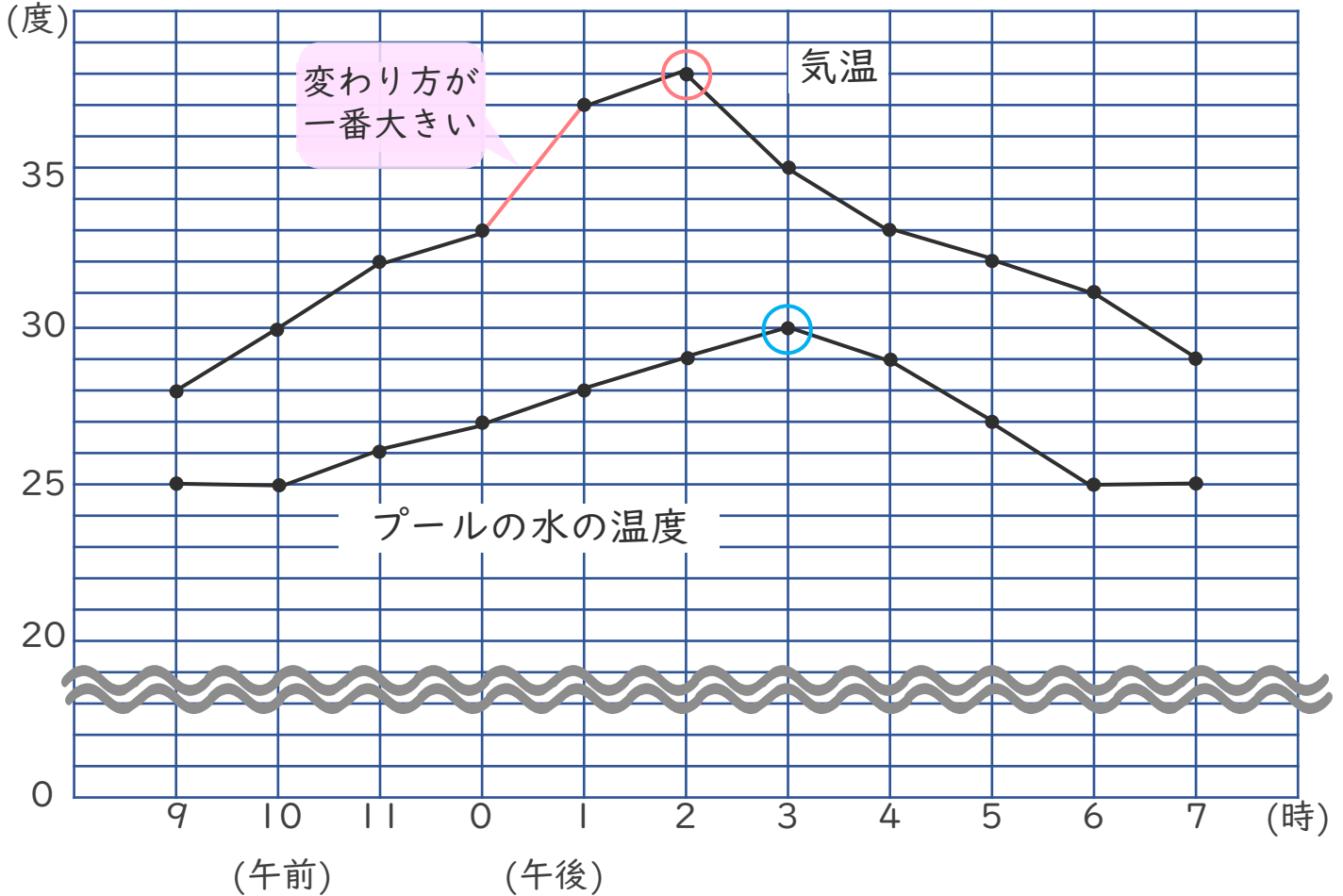


日にち： 月 日

名まえ \_\_\_\_\_

・ 折れ線グラフを見て、 にあう言葉を書きましょう。

### 気温とプールの水の温度



- ① 気温が一番高かったのは  です。
- ② プールの水の温度が一番高かったのは  です。
- ③ 1時間の気温の変わり方が一番大きいのは  から  です。
- ④ 気温と水の温度で、温度の変化が大きい方は  です。





# 折れ線グラフと表 4

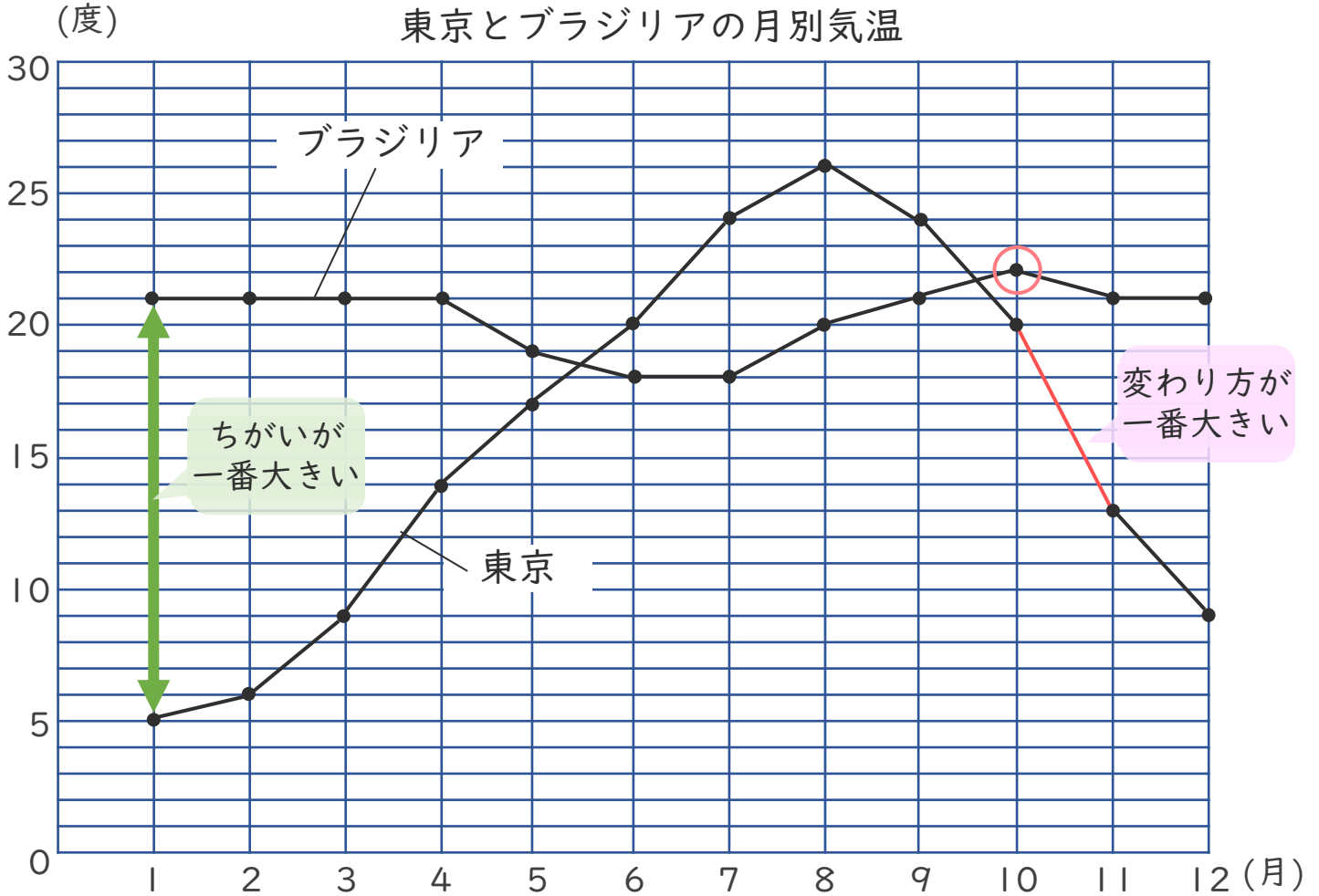
2本の折れ線グラフを  
比べよう



日にち： 月 日

名まえ \_\_\_\_\_

- 折れ線グラフを見て、にあう言葉を書きましょう。  
(うすい字はなぞりましょう。)



① ブラジリアで気温が一番高かった月は  です。

② 東京とブラジリアの気温のちがいが一番大きい月は  です。

③ 1か月間の気温の変わり方が一番大きいのは

↓○をつける

{  ・  } で、  から  の間です。

④ 確認



すらすらぷりんと



# 折れ線グラフと表 4

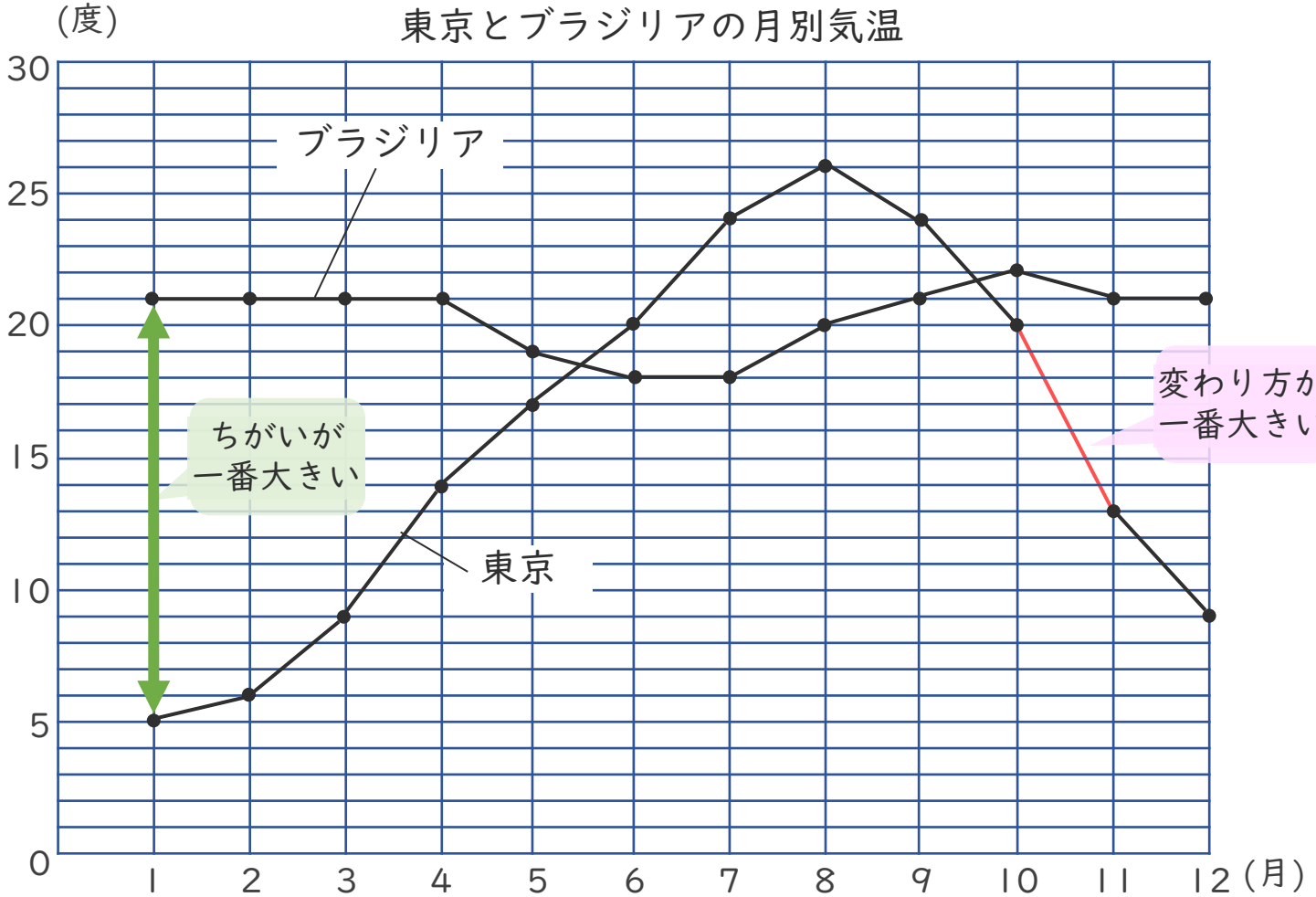
2本の折れ線グラフを  
比べよう



日にち： 月 日

名まえ \_\_\_\_\_

- 折れ線グラフを見て、にあう言葉を書きましょう。  
(うすい字はなぞりましょう。)



- 東京で気温が一番高かった月は  です。
- 東京とブラジリアの気温のちがいが一番大きい月は  月 です。
- 1か月間の気温の変わり方が一番大きいのは  
↓○をつける  
{  ・  } で、 月から  月の間です。





# 折れ線グラフと表 4

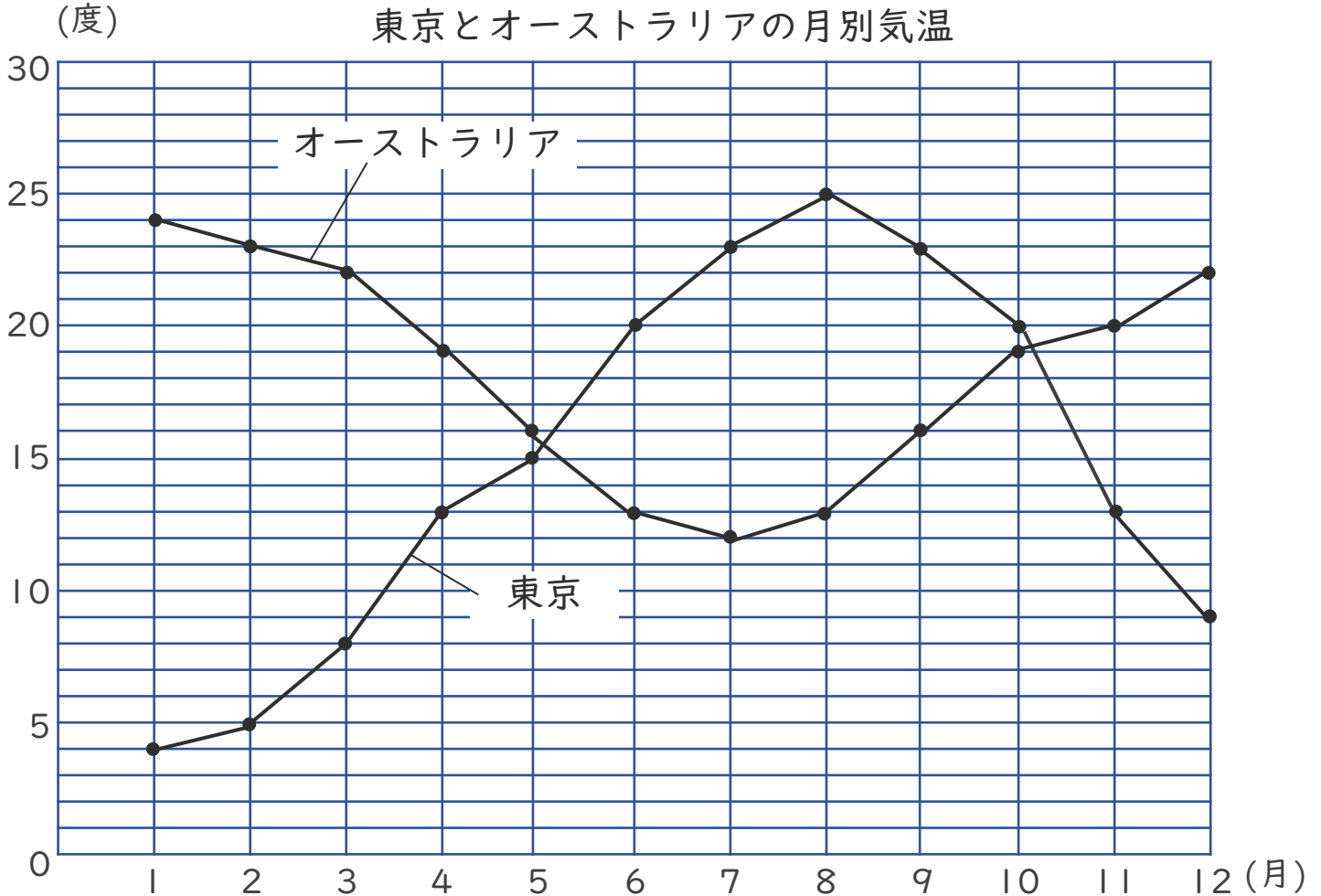
2本の折れ線グラフを  
比べよう



日にち： 月 日

名まえ \_\_\_\_\_

・ 折れ線グラフを見て、にあう言葉を書きましょう。



① オーストラリアで気温が一番高かった月は  です。

② 東京とオーストラリアの気温のちがいが一番大きい月は  です。

③ 1か月間の気温の変わり方が一番大きいのは

↓○をつける

{ 東京 ・ オーストラリア } で、  月 から  月 の間です。





# 折れ線グラフと表 4

2本の折れ線グラフを  
比べよう

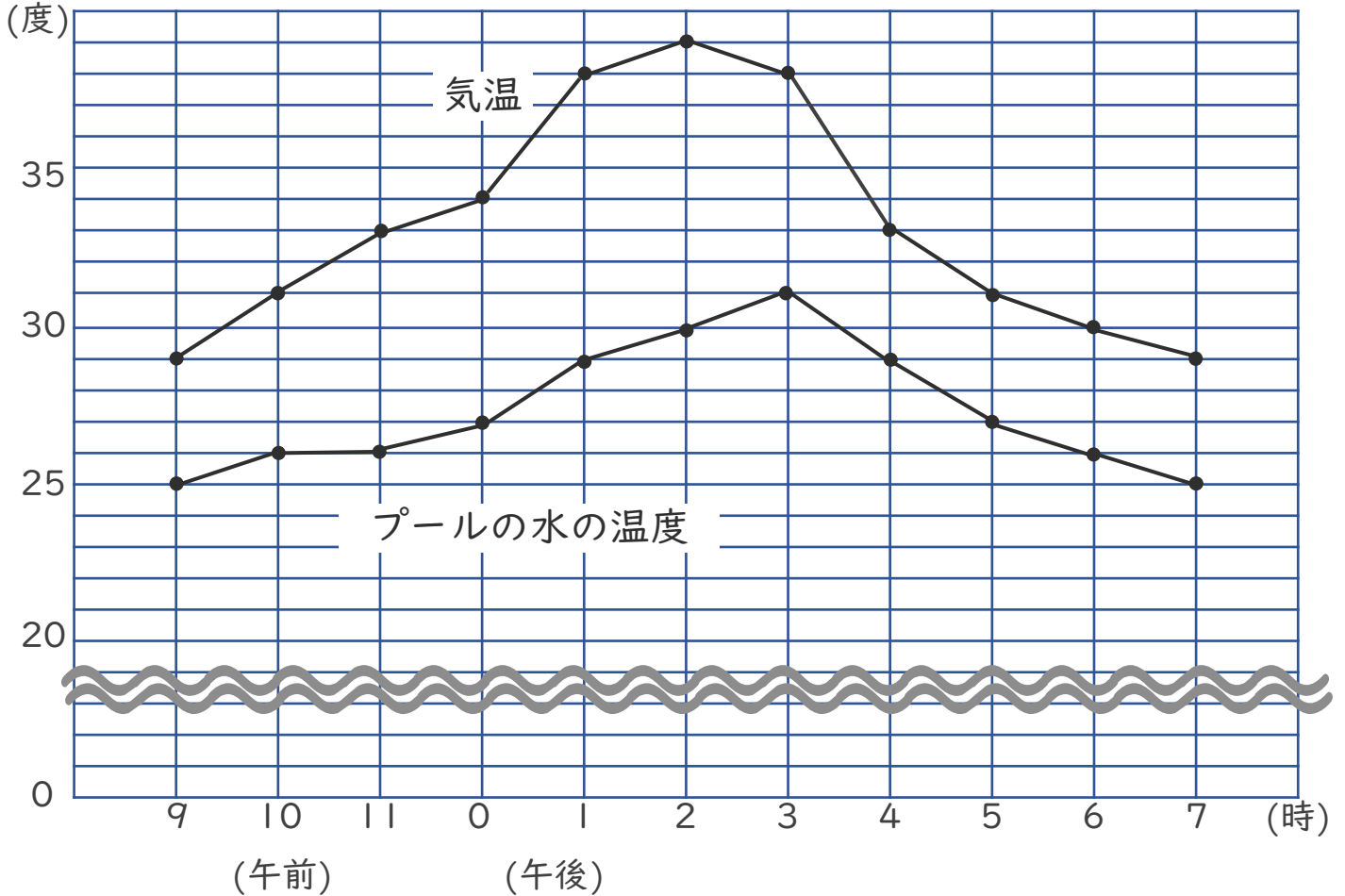


日にち： 月 日

名まえ \_\_\_\_\_

・ 折れ線グラフを見て、にあう言葉を書きましょう。

### 気温とプールの水の温度



- ① 気温が一番高かったのは  です。
- ② プールの水の温度が一番高かったのは  です。
- ③ 1時間の気温の変わり方が一番大きいのは  から  です。
- ④ 気温と水の温度で、温度の変化が大きい方は  です。





# 折れ線グラフと表 4

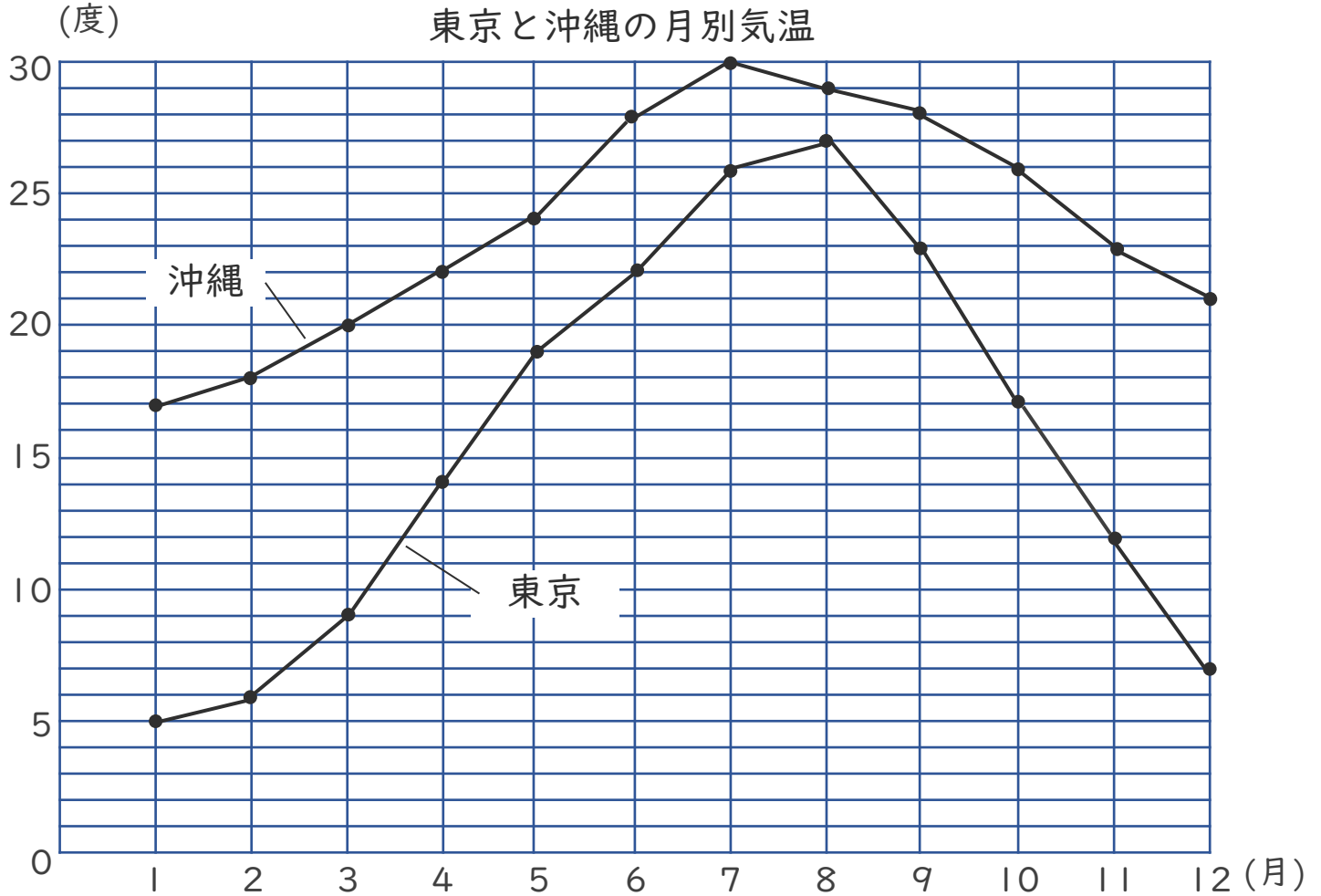
2本の折れ線グラフを  
比べよう



日にち： 月 日

名まえ \_\_\_\_\_

・ 折れ線グラフを見て、にあう言葉を書きましょう。



① 沖縄で気温が一番高かった月は  です。

② 東京と沖縄の気温のちがいが一番大きい月は  です。

③ 1か月間の気温の変わり方が一番大きいのは

↓○をつける

{ 東京 ・ 沖縄 } で、  月から  月の間です。







# 折れ線グラフと表 4

2本の折れ線グラフを  
比べよう

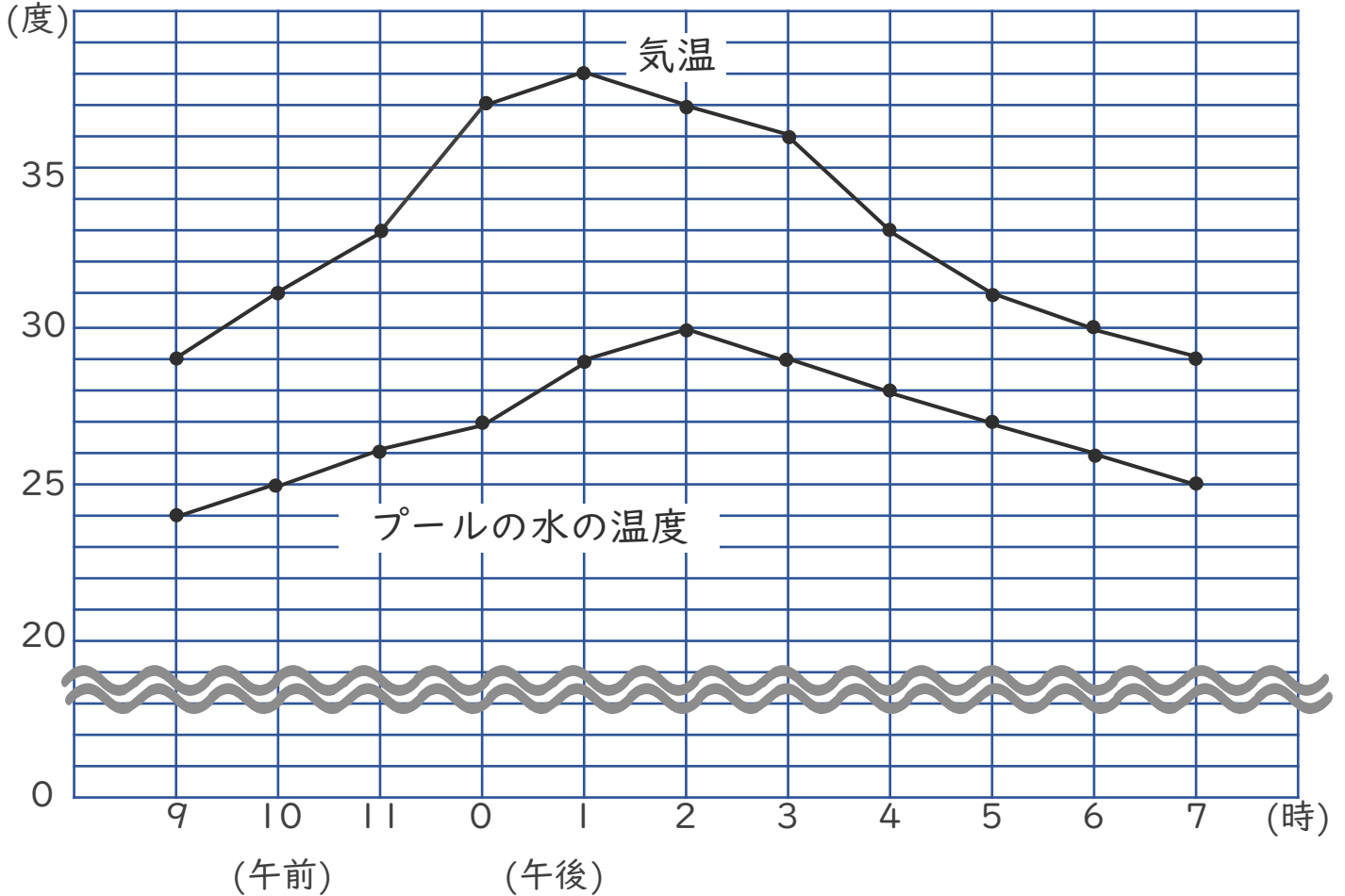


日にち： 月 日

名まえ \_\_\_\_\_

・ 折れ線グラフを見て、 にあう言葉を書きましょう。

### 気温とプールの水の温度



- ① 気温が一番高かったのは  です。
- ② プールの水の温度が一番高かったのは  です。
- ③ 1時間の気温の変わり方が一番大きいのは  から  です。
- ④ 気温と水の温度で、温度の変化が大きい方は  です。





# 折れ線グラフと表 4

2本の折れ線グラフを  
比べよう

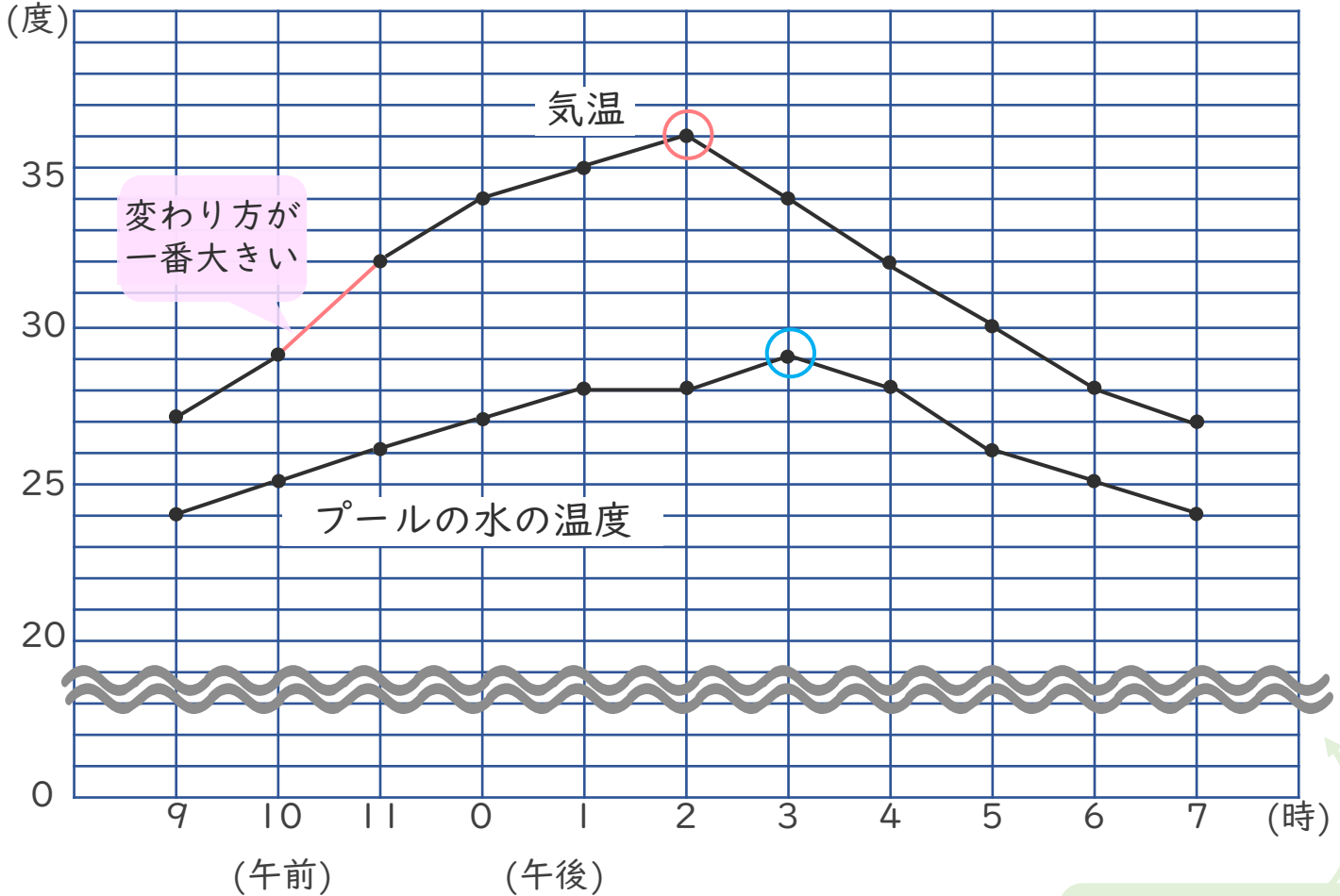


日にち： 月 日

名まえ \_\_\_\_\_

- 折れ線グラフを見て、にあう言葉を書きましょう。  
(うすい字はなぞりましょう。)

### 気温とプールの水の温度



~~~~~ を使って  
メモリのとちゅうを  
省いているよ!

- ① 気温が一番高かったのは **午後 2 時** です。
- ② プールの水の温度が一番高かったのは **午後 3 時** です。
- ③ 1時間の気温の変わり方が一番大きいのは  
**午前 10 時** から **午前 11 時** です。
- ④ 気温と水の温度で、温度の変化が大きい方は **気温** です。





# 折れ線グラフと表 4

2本の折れ線グラフを  
比べよう

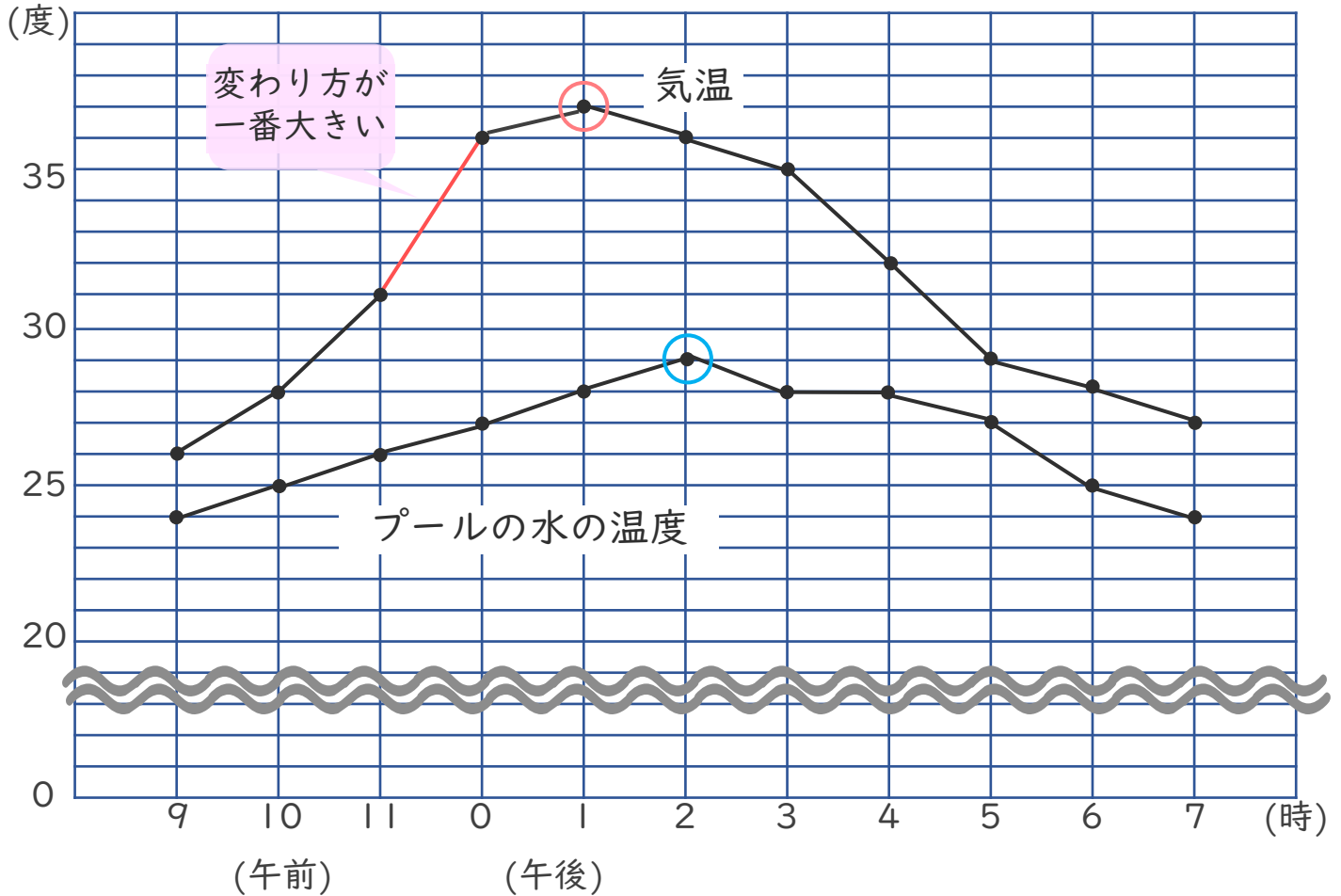


日にち： 月 日

名まえ \_\_\_\_\_

- 折れ線グラフを見て、にあう言葉を書きましょう。  
(うすい字はなぞりましょう。)

### 気温とプールの水の温度



- ① 気温が一番高かったのは **午後 1 時** です。
- ② プールの水の温度が一番高かったのは **午後 2 時** です。
- ③ 1時間の気温の変わり方が一番大きいのは **午前 11 時** から **午後 0 時** です。
- ④ 気温と水の温度で、温度の変化が大きい方は **気温** です。





# 折れ線グラフと表 4

2本の折れ線グラフを  
比べよう

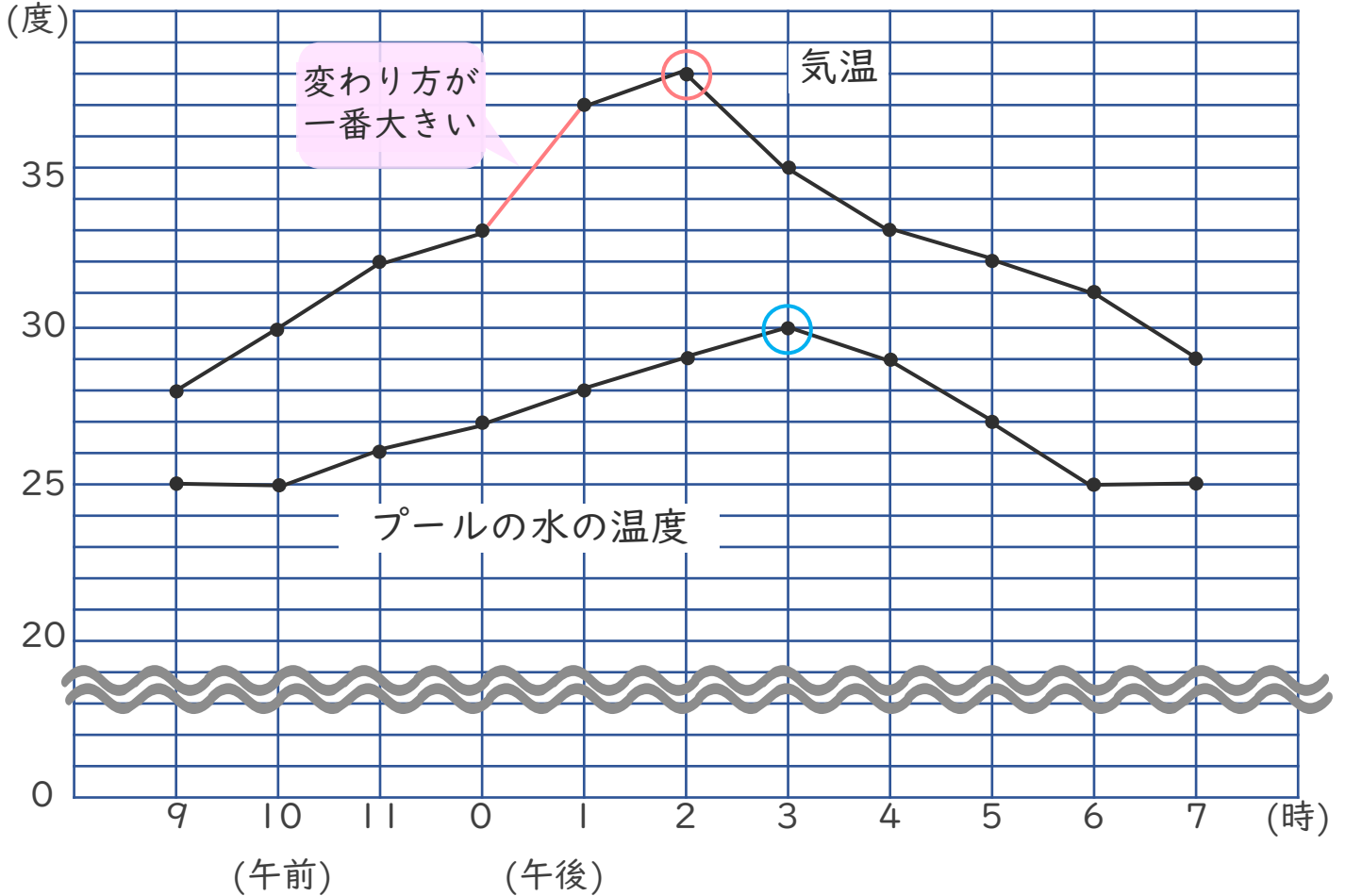


日にち： 月 日

名まえ \_\_\_\_\_

・ 折れ線グラフを見て、□にあう言葉を書きましょう。

### 気温とプールの水の温度



① 気温が一番高かったのは **午後 2 時** です。

② プールの水の温度が一番高かったのは **午後 3 時** です。

③ 1時間の気温の変わり方が一番大きいのは

**午後 0 時** から **午後 1 時** です。

④ 気温と水の温度で、温度の変化が大きい方は **気温** です。





# 折れ線グラフと表 4

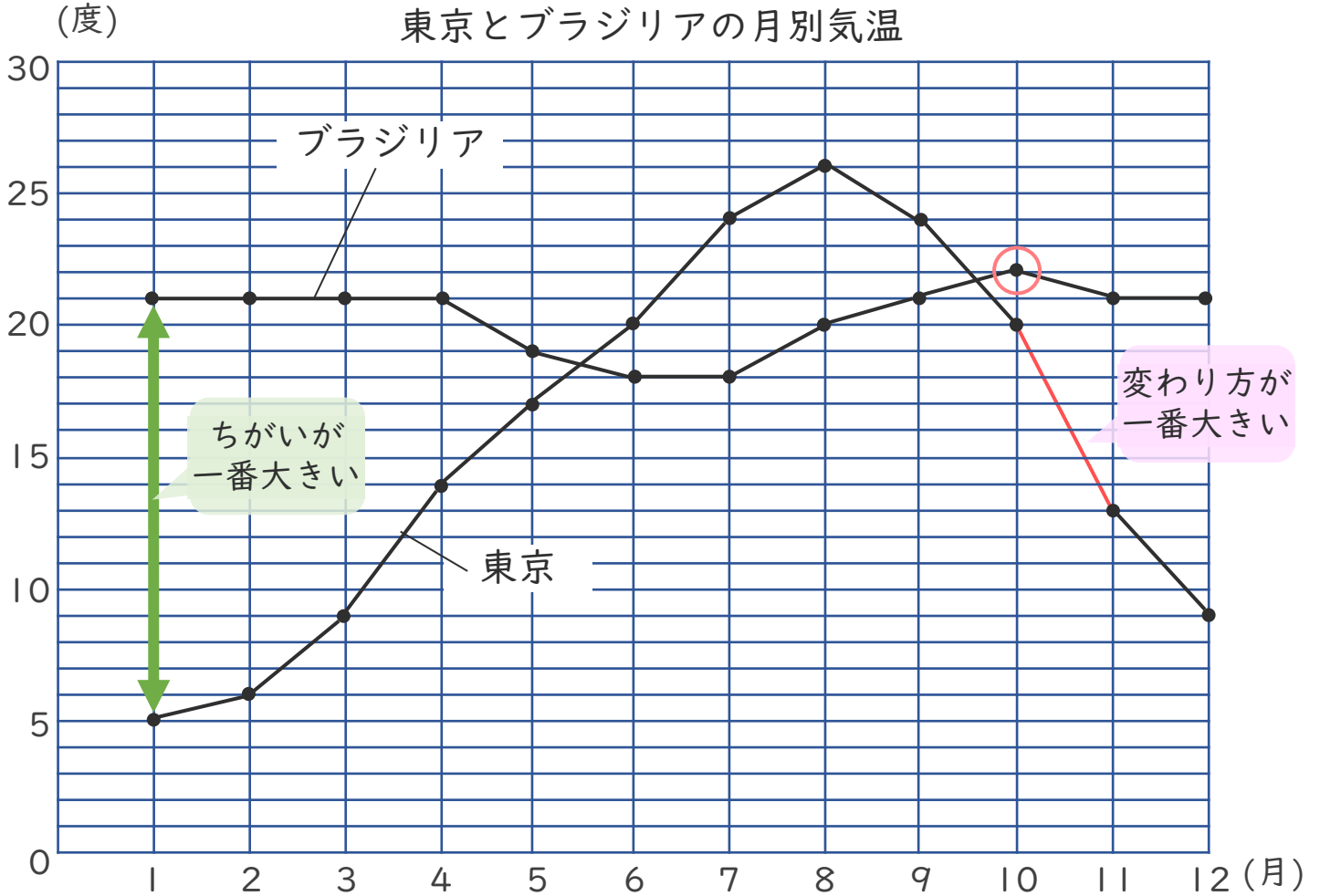
2本の折れ線グラフを  
比べよう



日にち： 月 日

名まえ \_\_\_\_\_

- 折れ線グラフを見て、□にあう言葉を書きましょう。  
(うすい字はなぞりましょう。)



① ブラジリアで気温が一番高かった月は **10月** です。

② 東京とブラジリアの気温のちがいが一番大きい月は **1月** です。

③ 1か月間の気温の変わり方が一番大きいのは

↓○をつける

{ **東京** ・ ブラジリア } で、 **10月** から **11月** の間です。

④ 確認 答え



すらすらぷりんと



# 折れ線グラフと表 4

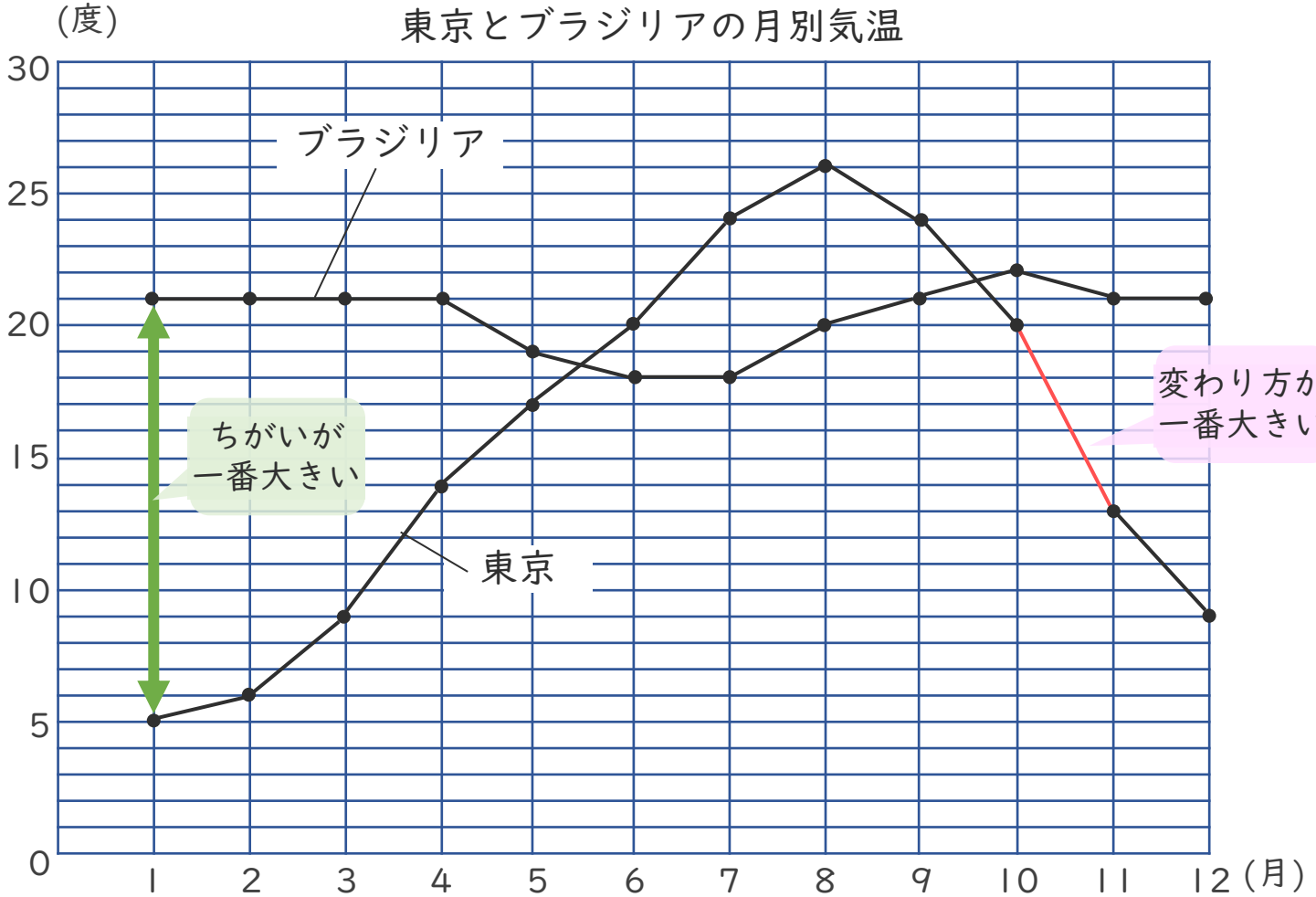
2本の折れ線グラフを  
比べよう



日にち： 月 日

名まえ \_\_\_\_\_

- 折れ線グラフを見て、□にあう言葉を書きましょう。  
(うすい字はなぞりましょう。)



① 東京で気温が一番高かった月は **8月** です。

② 東京とブラジリアの気温のちがいが一番大きい月は **1月** です。

③ 1か月間の気温の変わり方が一番大きいのは

↓○をつける

{ **東京** ・ ブラジリア } で、 **10月** から **11月** の間です。





# 折れ線グラフと表 4

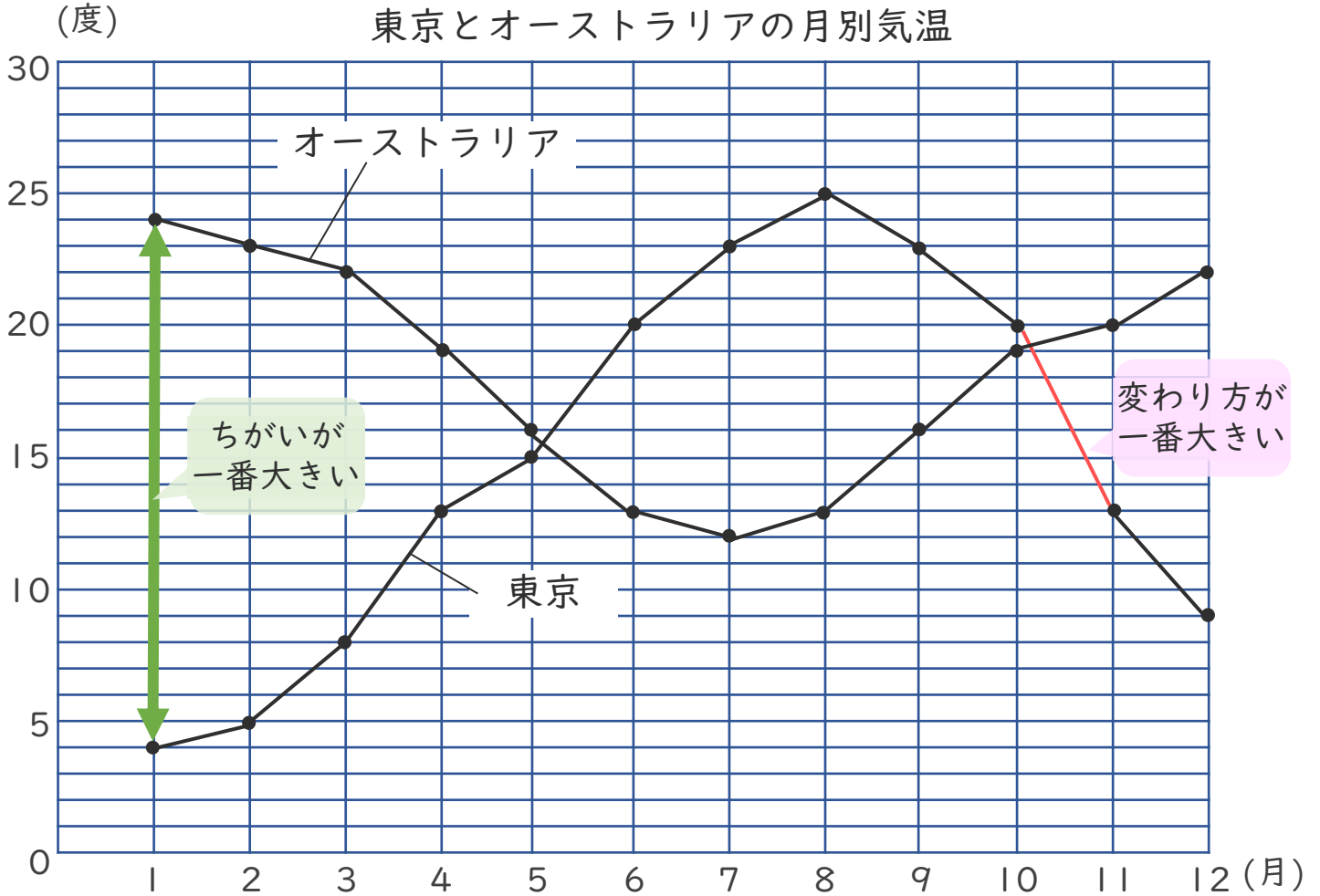
2本の折れ線グラフを  
比べよう



日にち： 月 日

名まえ \_\_\_\_\_

・ 折れ線グラフを見て、□にあう言葉を書きましょう。



① オーストラリアで気温が一番高かった月は **1月** です。

② 東京とオーストラリアの気温のちがいが一番大きい月は **1月** です。

③ 1か月間の気温の変わり方が一番大きいのは

↓○をつける

{ **東京** ・ オーストラリア } で、 **10月** から **11月** の間です。





# 折れ線グラフと表 4

2本の折れ線グラフを  
比べよう

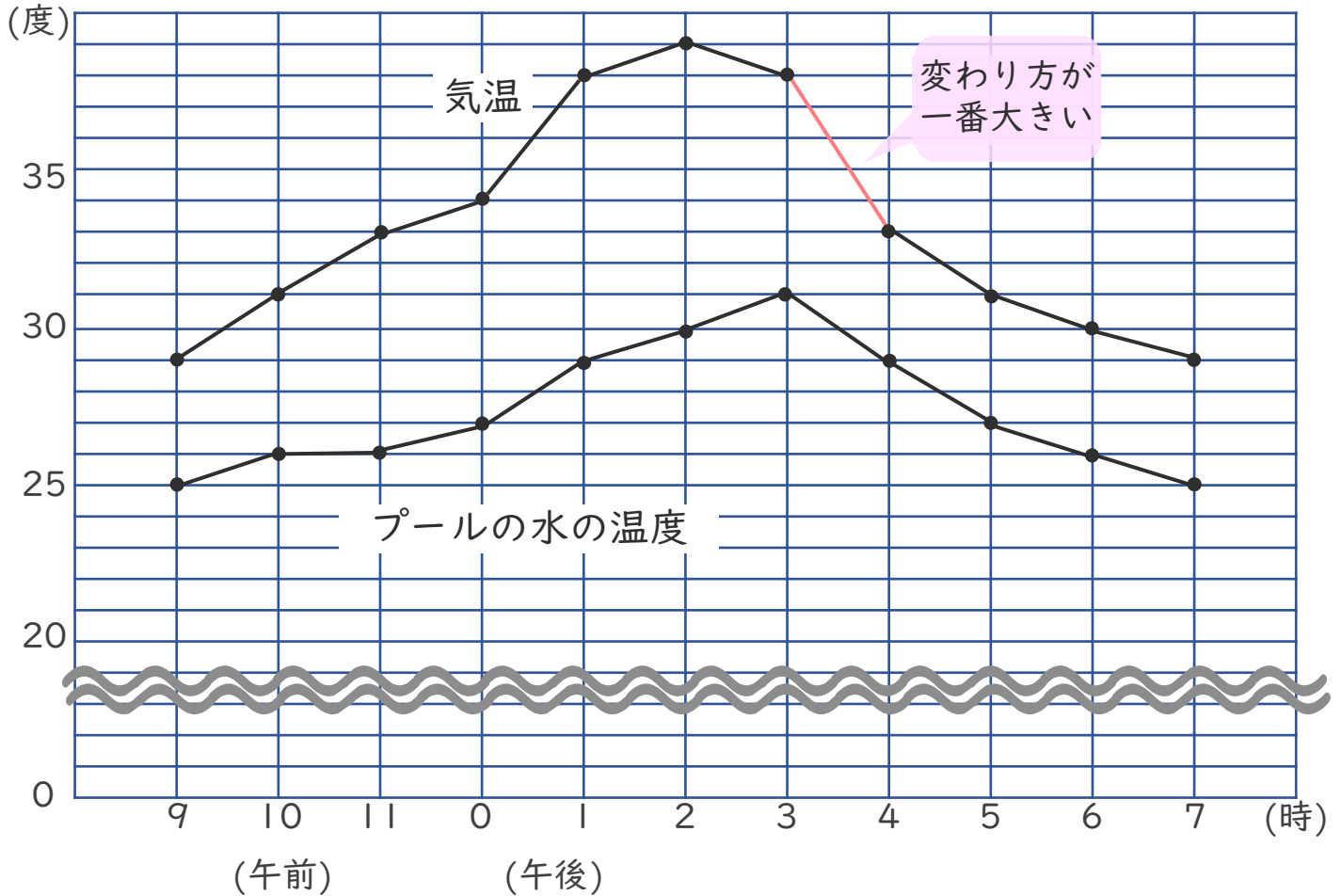


日にち： 月 日

名まえ \_\_\_\_\_

・ 折れ線グラフを見て、にあう言葉を書きましょう。

### 気温とプールの水の温度



① 気温が一番高かったのは **午後 2 時** です。

② プールの水の温度が一番高かったのは **午後 3 時** です。

③ 1時間の気温の変わり方が一番大きいのは

**午後 3 時** から **午後 4 時** です。

④ 気温と水の温度で、温度の変化が大きい方は **気温** です。







# 折れ線グラフと表 4

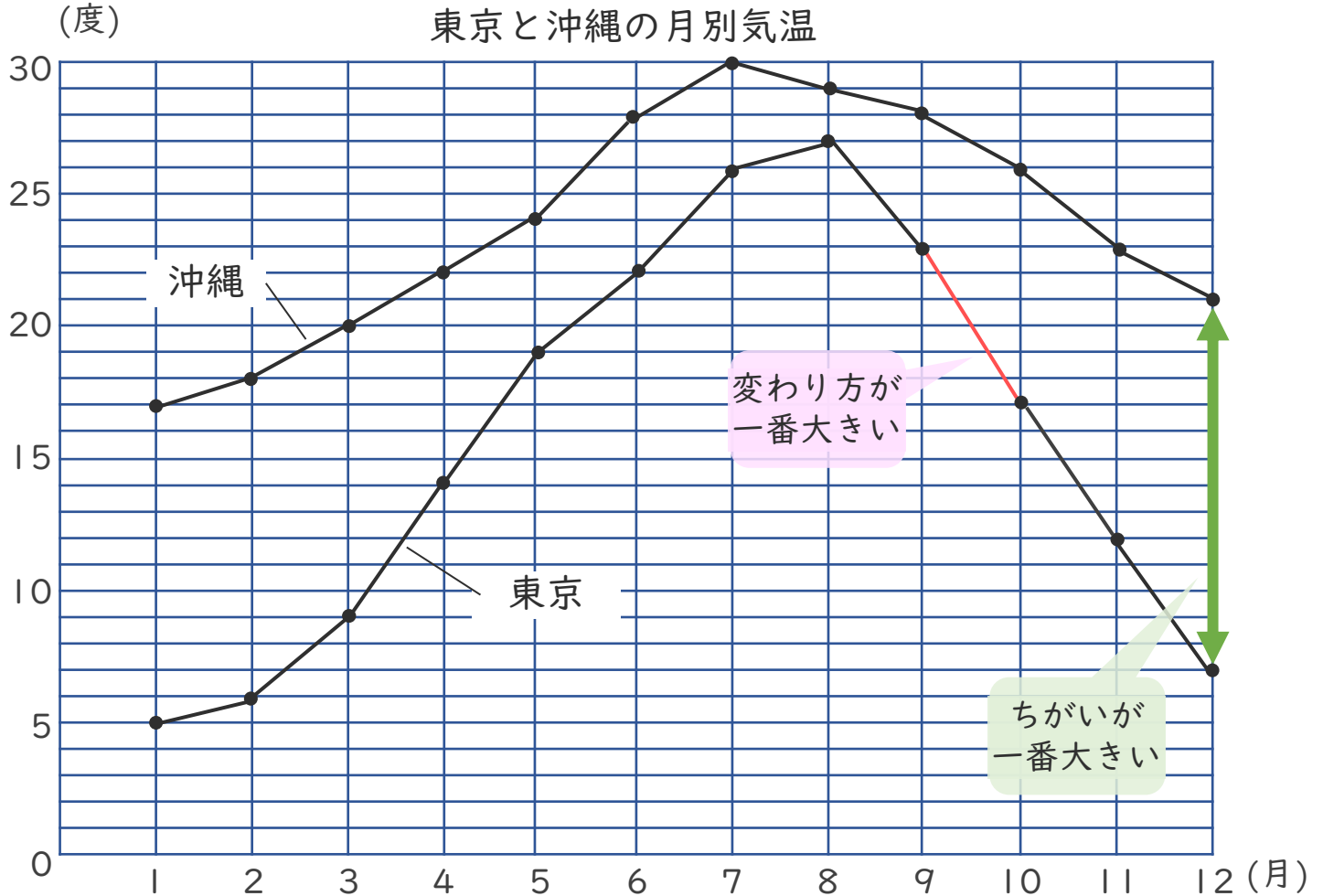
2本の折れ線グラフを  
比べよう



日にち： 月 日

名まえ \_\_\_\_\_

・ 折れ線グラフを見て、□にあう言葉を書きましょう。



① 沖縄で気温が一番高かった月は **7月** です。

② 東京と沖縄の気温のちがいが一番大きい月は **12月** です。

③ 1か月間の気温の変わり方が一番大きいのは

↓○をつける

{ **東京** ・ 沖縄 } で、 **9** 月 から **10** 月 の間です。





# 折れ線グラフと表 4

2本の折れ線グラフを  
比べよう

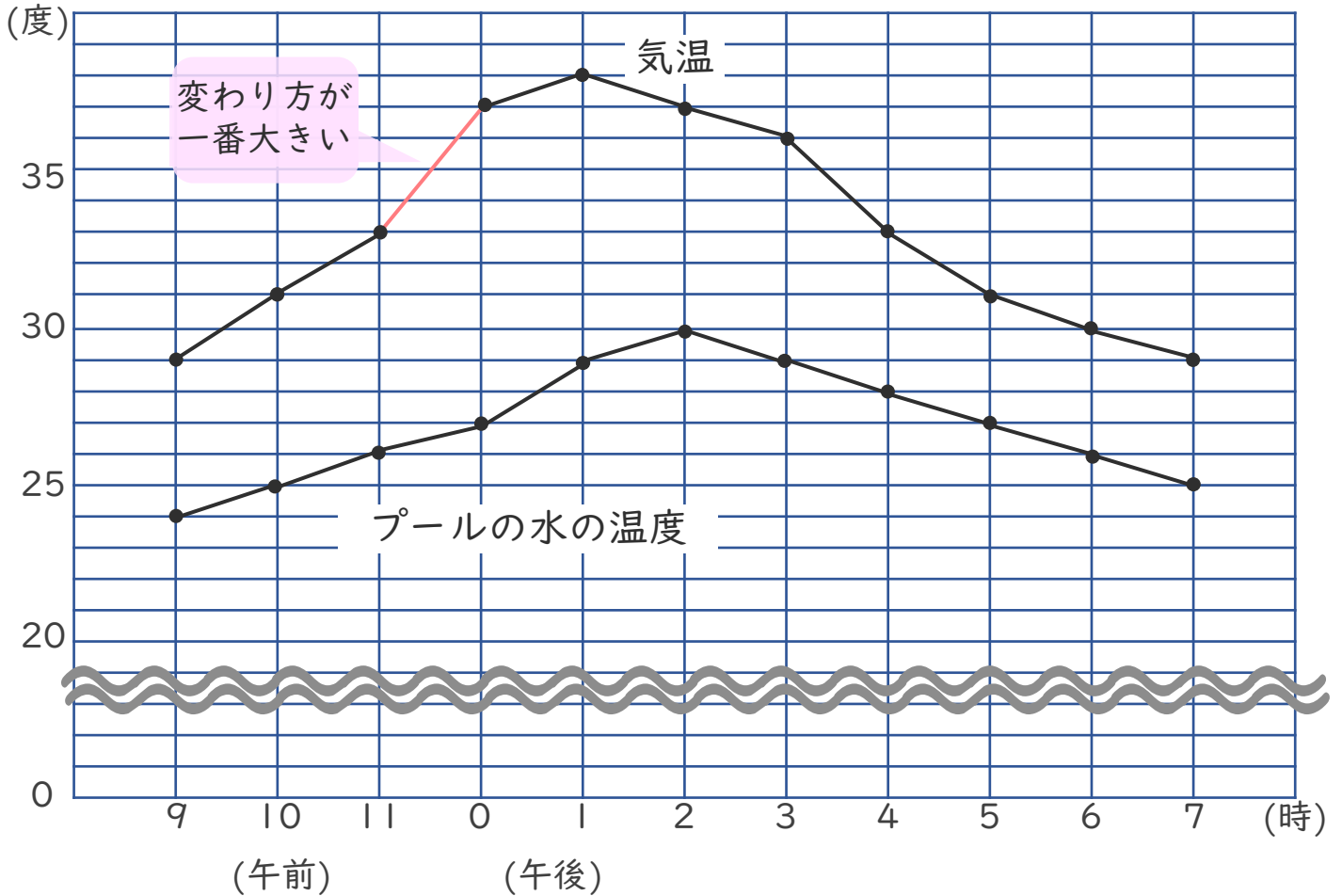


日にち： 月 日

名まえ \_\_\_\_\_

・ 折れ線グラフを見て、□にあう言葉を書きましょう。

### 気温とプールの水の温度



① 気温が一番高かったのは **午後1時** です。

② プールの水の温度が一番高かったのは **午後2時** です。

③ 1時間の気温の変わり方が一番大きいのは

**午前11時** から **午後0時** です。

④ 気温と水の温度で、温度の変化が大きい方は **気温** です。

