



# 折れ線グラフと表 6

●メモリのとちゅうを  
省いたグラフを書こう



日にち： 月 日

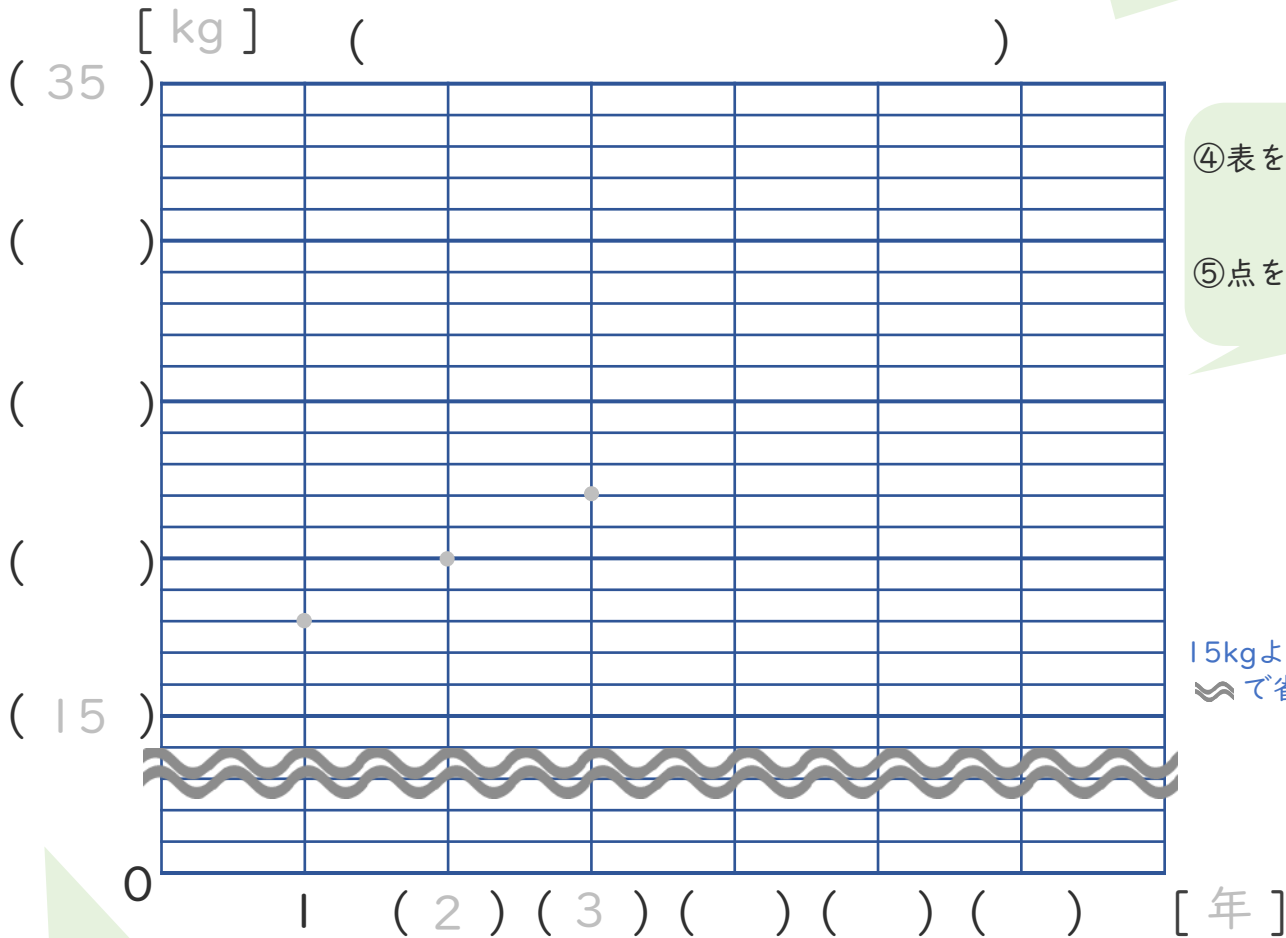
名まえ \_\_\_\_\_

・ 次の表を、折れ線グラフに表しましょう。(うすい字はなぞりましょう。)

### とも子さんの体重の変化

|        |    |    |    |    |    |    |
|--------|----|----|----|----|----|----|
| 学年(年)  | 1  | 2  | 3  | 4  | 5  | 6  |
| 体重(kg) | 18 | 20 | 22 | 26 | 30 | 34 |

①グラフの表題を書く。



④表を見て、  
点をうつ。

⑤点を直線でつなく。

15kgより下のメモリは  
で省くよ!



③たてじく  
一番重い34kgが  
表せるようメモリを  
つける。

②横じく学年を書く。





# 折れ線グラフと表 6

● めもりのとちゅうを  
省いたグラフを書こう



日にち： 月 日

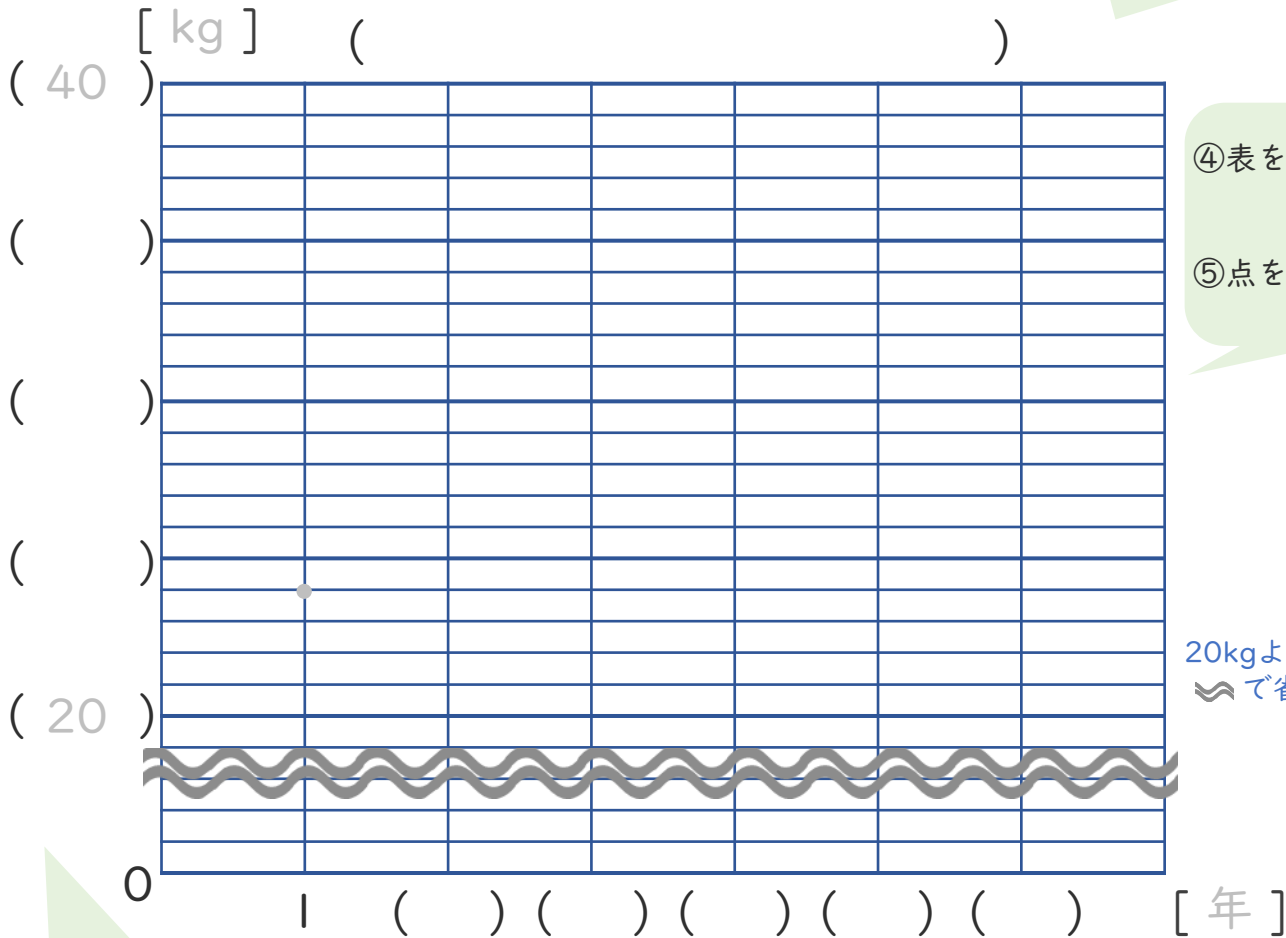
名まえ \_\_\_\_\_

・ 次の表を、折れ線グラフに表しましょう。(うすい字はなぞりましょう。)

### けんじさんの体重の変化

|        |    |    |    |    |    |    |
|--------|----|----|----|----|----|----|
| 学年(年)  | 1  | 2  | 3  | 4  | 5  | 6  |
| 体重(kg) | 24 | 26 | 28 | 32 | 36 | 40 |

①グラフの表題を書く。



④表を見て、  
点をうつ。

⑤点を直線でつなく。

20kgより下のめもりは  
〰で省くよ!



③たてじく  
一番重い40kgが  
表せるようめもりを  
つける。

②横じく学年を書く。



# 折れ線グラフと表 6

●メモリのとちゅうを  
省いたグラフを書こう



日にち： 月 日

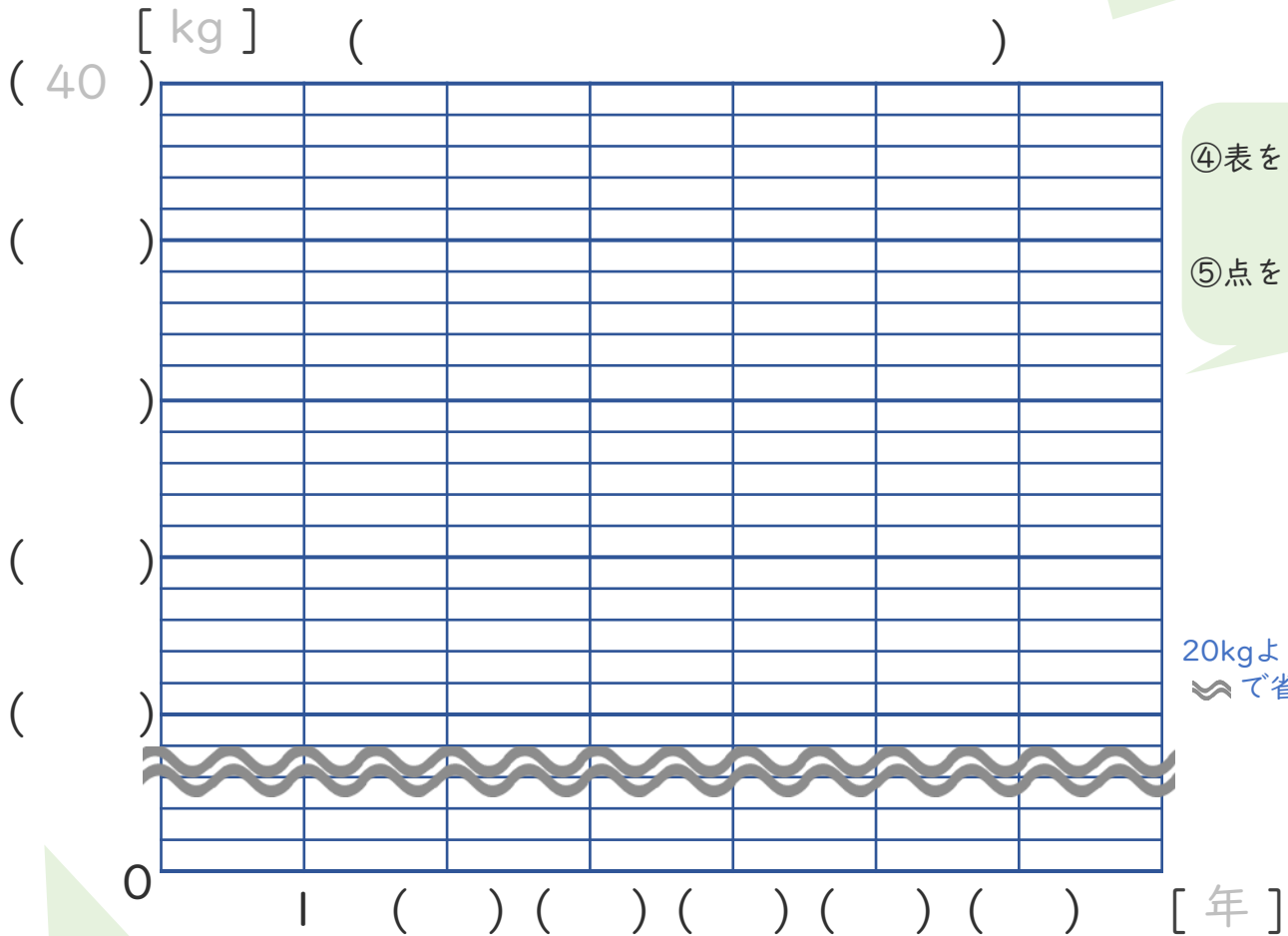
名まえ \_\_\_\_\_

・ 次の表を、折れ線グラフに表しましょう。(うすい字はなぞりましょう。)

### まなさんの体重の変化

|        |    |    |    |    |    |    |
|--------|----|----|----|----|----|----|
| 学年(年)  | 1  | 2  | 3  | 4  | 5  | 6  |
| 体重(kg) | 20 | 24 | 28 | 30 | 34 | 39 |

①グラフの表題を書く。



④表を見て、  
点をうつ。

⑤点を直線でつなく。

20kgより下のメモリは  
で省くよ!



③たてじくに  
一番重い39kgが  
表せるようメモリを  
つける。

②横じく学年を書く。

















# 折れ線グラフと表 6

●メモリのとちゅうを省いたグラフを書こう



日にち： 月 日

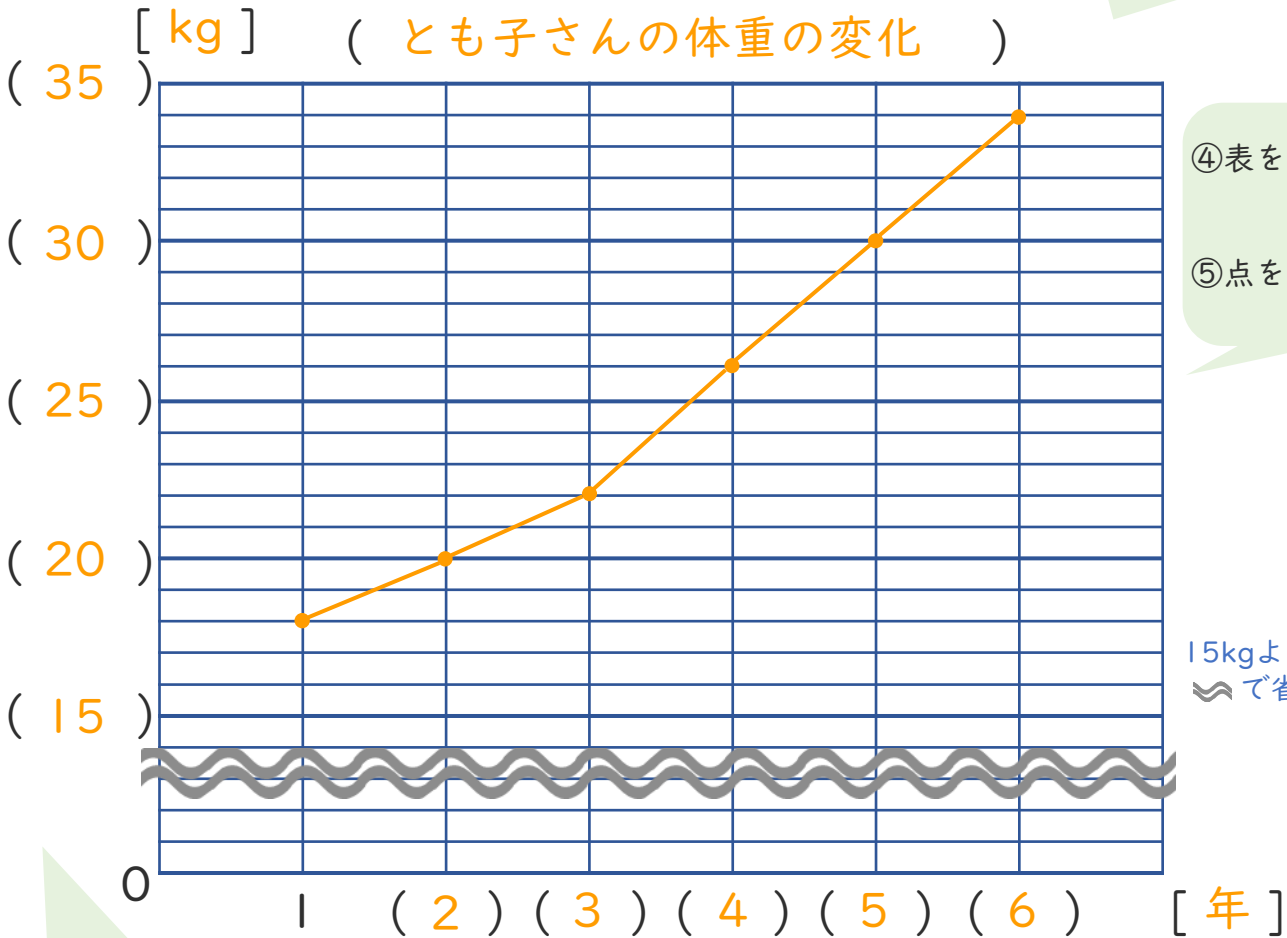
名まえ \_\_\_\_\_

・ 次の表を、折れ線グラフに表しましょう。(うすい字はなぞりましょう。)

### とも子さんの体重の変化

|        |    |    |    |    |    |    |
|--------|----|----|----|----|----|----|
| 学年(年)  | 1  | 2  | 3  | 4  | 5  | 6  |
| 体重(kg) | 18 | 20 | 22 | 26 | 30 | 34 |

①グラフの表題を書く。



15kgより下のメモリは で省くよ!



③たてじくが一番重い34kgが表せるようメモリをつける。

②横じく学年を書く。





# 折れ線グラフと表 6

●メモリのとちゅうを  
省いたグラフを書こう



日にち： 月 日

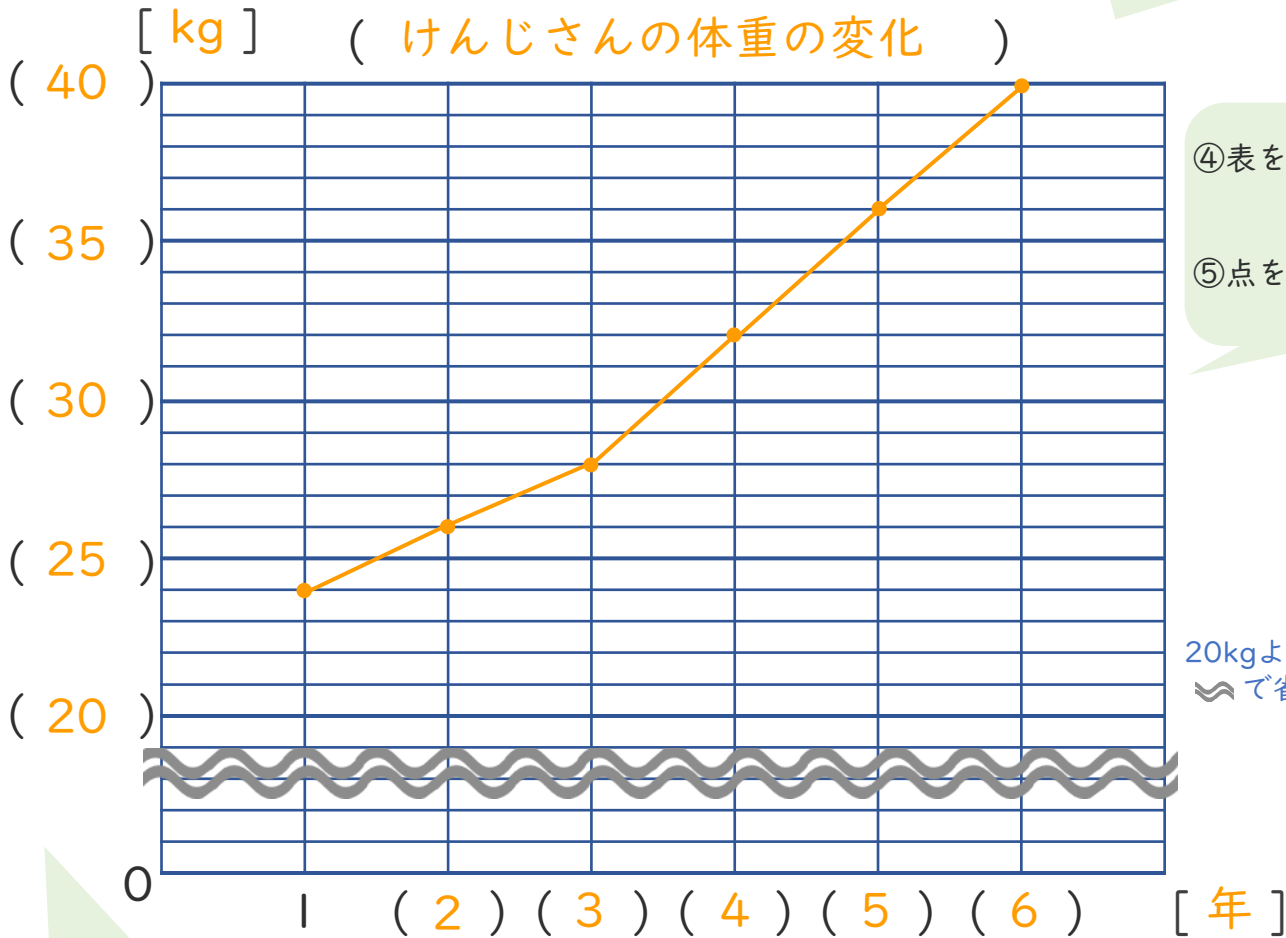
名まえ \_\_\_\_\_

・ 次の表を、折れ線グラフに表しましょう。(うすい字はなぞりましょう。)

### けんじさんの体重の変化

|        |    |    |    |    |    |    |
|--------|----|----|----|----|----|----|
| 学年(年)  | 1  | 2  | 3  | 4  | 5  | 6  |
| 体重(kg) | 24 | 26 | 28 | 32 | 36 | 40 |

①グラフの表題を書く。



④表を見て、  
点をうつ。  
⑤点を直線でつなく。

20kgより下のメモリは  
で省くよ!



③たてじく  
一番重い40kgが  
表せるようメモリを  
つける。

②横じく学年を書く。



# 折れ線グラフと表 6

●メモリのとちゅうを  
省いたグラフを書こう



日にち： 月 日

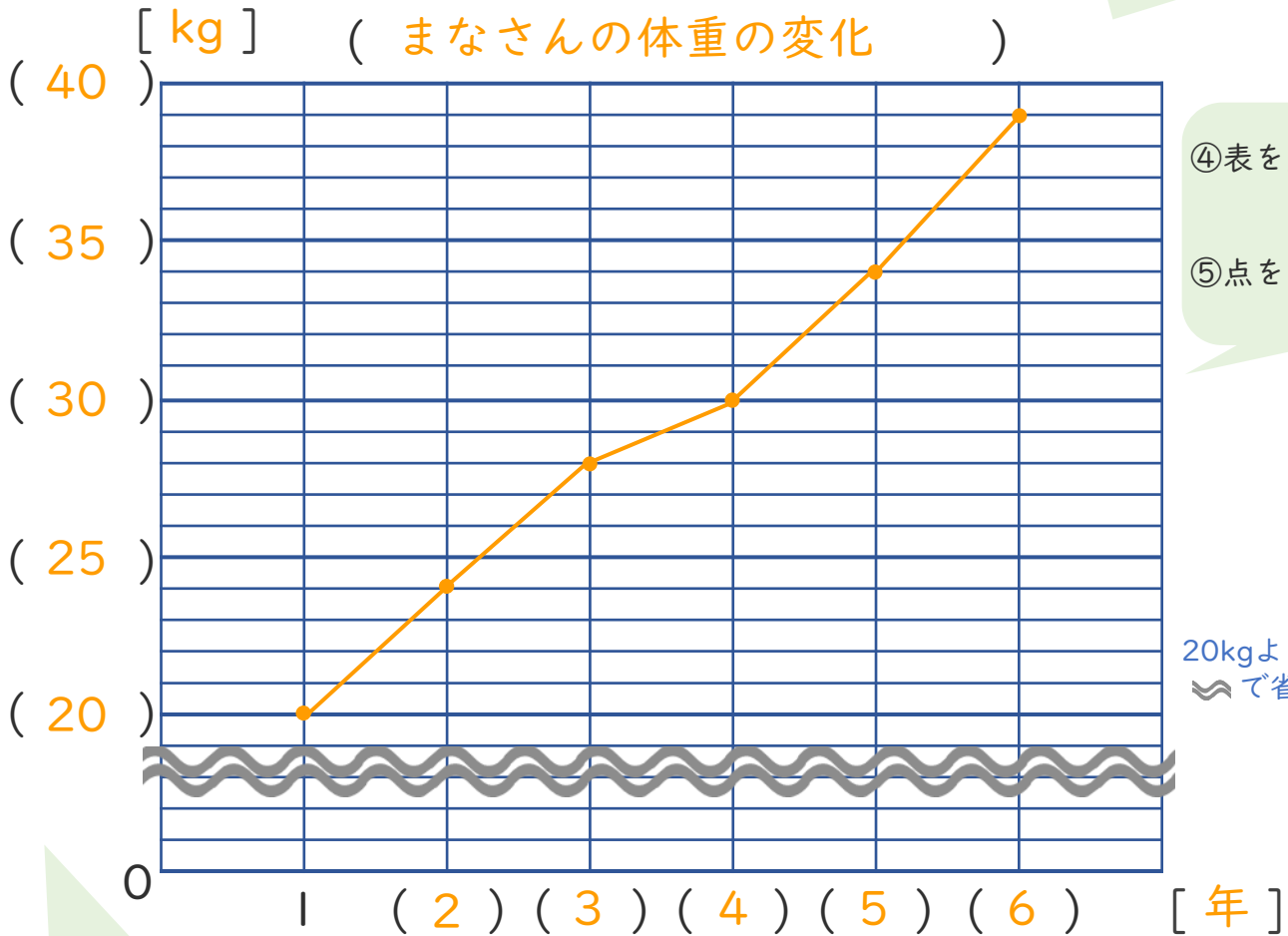
名まえ \_\_\_\_\_

・ 次の表を、折れ線グラフに表しましょう。(うすい字はなぞりましょう。)

### まなさんの体重の変化

|        |    |    |    |    |    |    |
|--------|----|----|----|----|----|----|
| 学年(年)  | 1  | 2  | 3  | 4  | 5  | 6  |
| 体重(kg) | 20 | 24 | 28 | 30 | 34 | 39 |

①グラフの表題を書く。



③たてじくに一番重い39kgが表せるようメモリをつける。

②横じく学年を書く。





# 折れ線グラフと表 6

●メモリのとちゅうを  
省いたグラフを書こう



日にち： 月 日

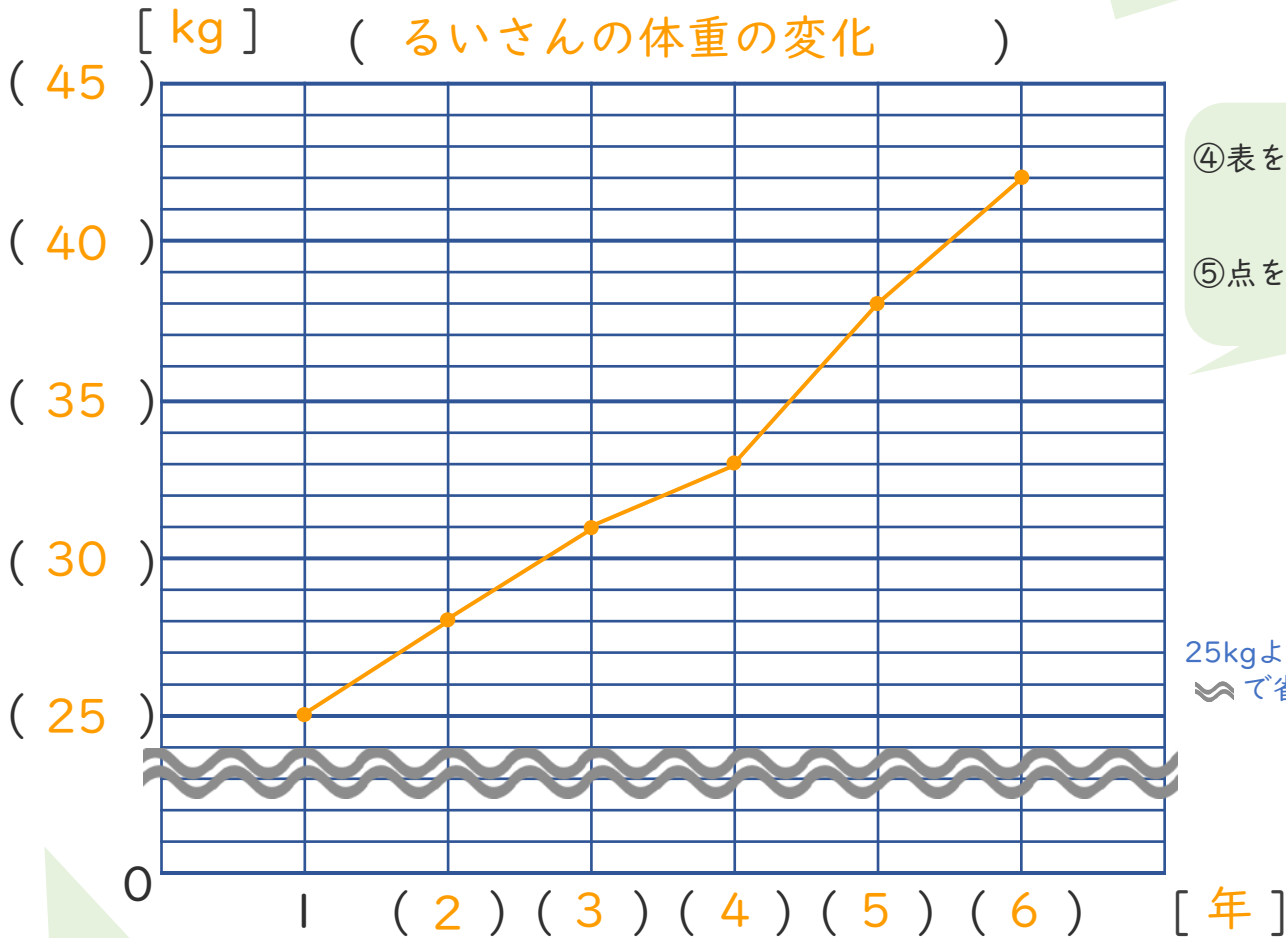
名まえ \_\_\_\_\_

・ 次の表を、折れ線グラフに表しましょう。

### るいさんの体重の変化

|        |    |    |    |    |    |    |
|--------|----|----|----|----|----|----|
| 学年(年)  | 1  | 2  | 3  | 4  | 5  | 6  |
| 体重(kg) | 25 | 28 | 31 | 33 | 38 | 42 |

①グラフの表題を書く。



25kgより下のメモリは  
で省くよ!



③たてじくが一番重い42kgが表せるようメモリをつける。

②横じく学年を書く。





# 折れ線グラフと表 6

●メモリのとちゅうを  
省いたグラフを書こう



日にち：            月            日

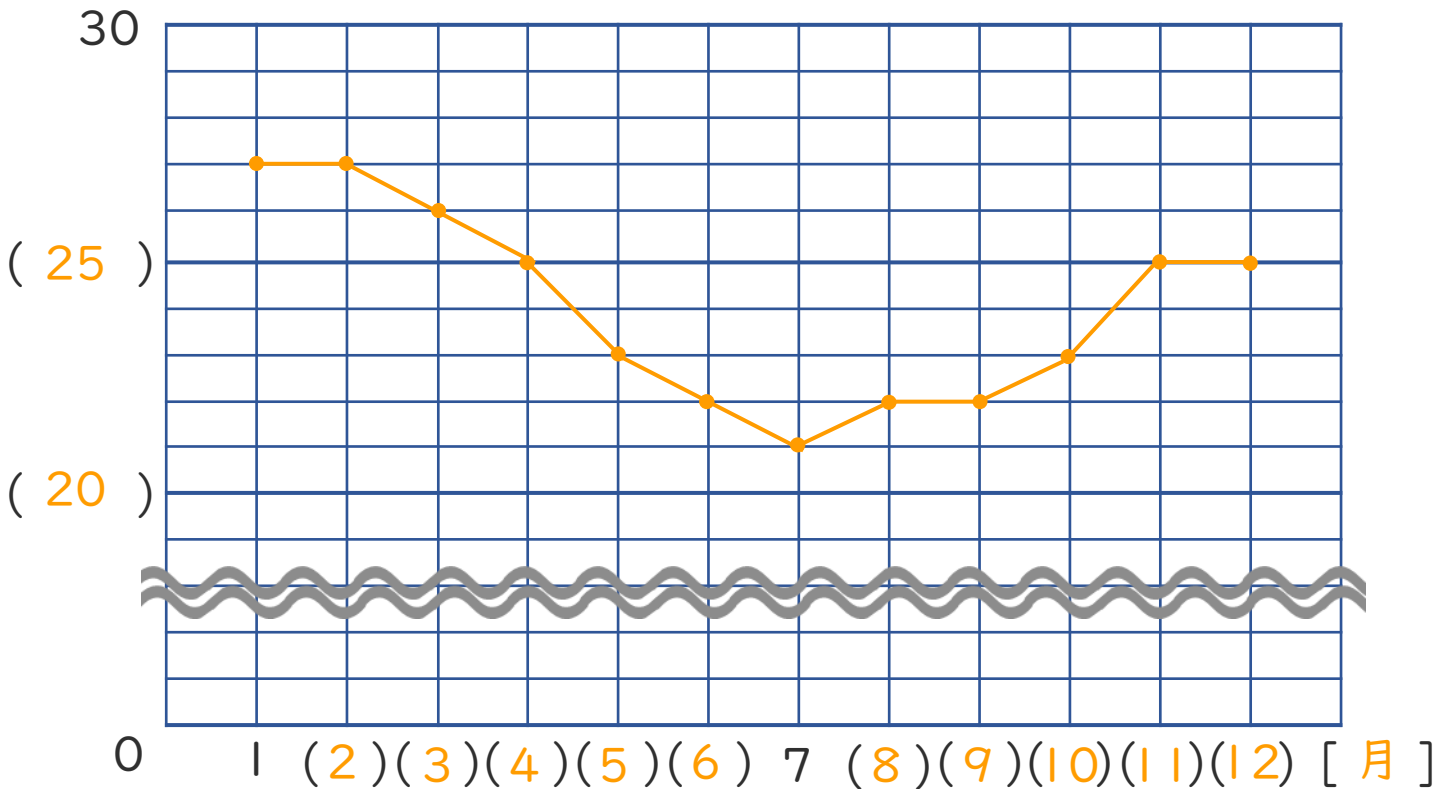
名まえ \_\_\_\_\_

・ 次の表を、折れ線グラフに表しましょう。(うすい字はなぞりましょう。)

1年間の気温の変わり方(リオデジャネイロ)

|       |    |    |    |    |    |    |    |    |    |    |    |    |
|-------|----|----|----|----|----|----|----|----|----|----|----|----|
| 月(月)  | 1  | 2  | 3  | 4  | 5  | 6  | 7  | 8  | 9  | 10 | 11 | 12 |
| 気温(度) | 27 | 27 | 26 | 25 | 23 | 22 | 21 | 22 | 22 | 23 | 25 | 25 |

[度] (1年間の気温の変わり方(リオデジャネイロ))





# 折れ線グラフと表 6

●メモリのとちゅうを  
省いたグラフを書こう



日にち：            月            日

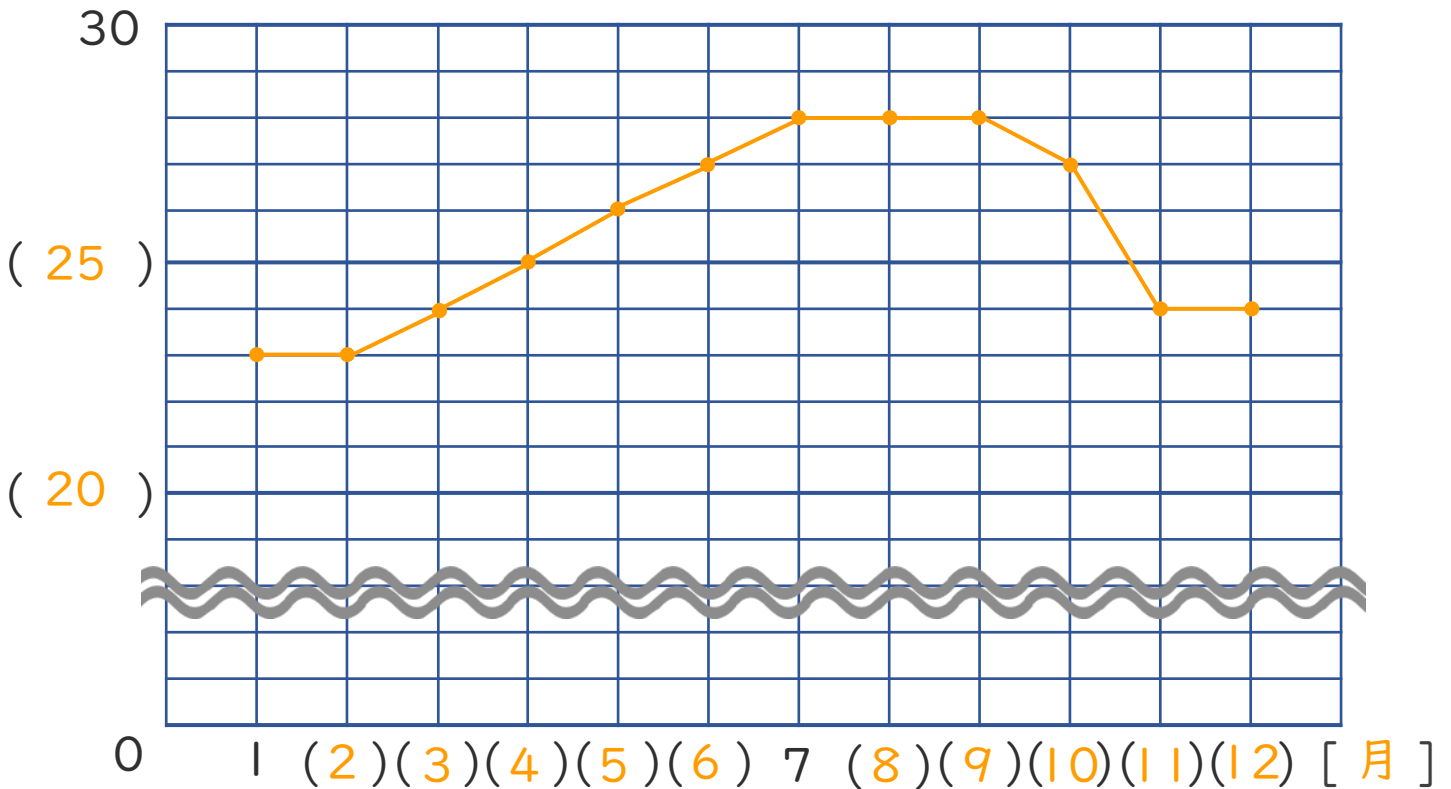
名まえ \_\_\_\_\_

・ 次の表を、折れ線グラフに表しましょう。(うすい字はなぞりましょう。)

1年間の気温の変わり方(ホノルル)

|       |    |    |    |    |    |    |    |    |    |    |    |    |
|-------|----|----|----|----|----|----|----|----|----|----|----|----|
| 月(月)  | 1  | 2  | 3  | 4  | 5  | 6  | 7  | 8  | 9  | 10 | 11 | 12 |
| 気温(度) | 23 | 23 | 24 | 25 | 26 | 27 | 28 | 28 | 28 | 27 | 24 | 24 |

[ 度 ] ( 1年間の気温の変わり方(ホノルル) )





# 折れ線グラフと表 6

● めもりのとちゅうを  
省いたグラフを書こう



日にち：            月            日

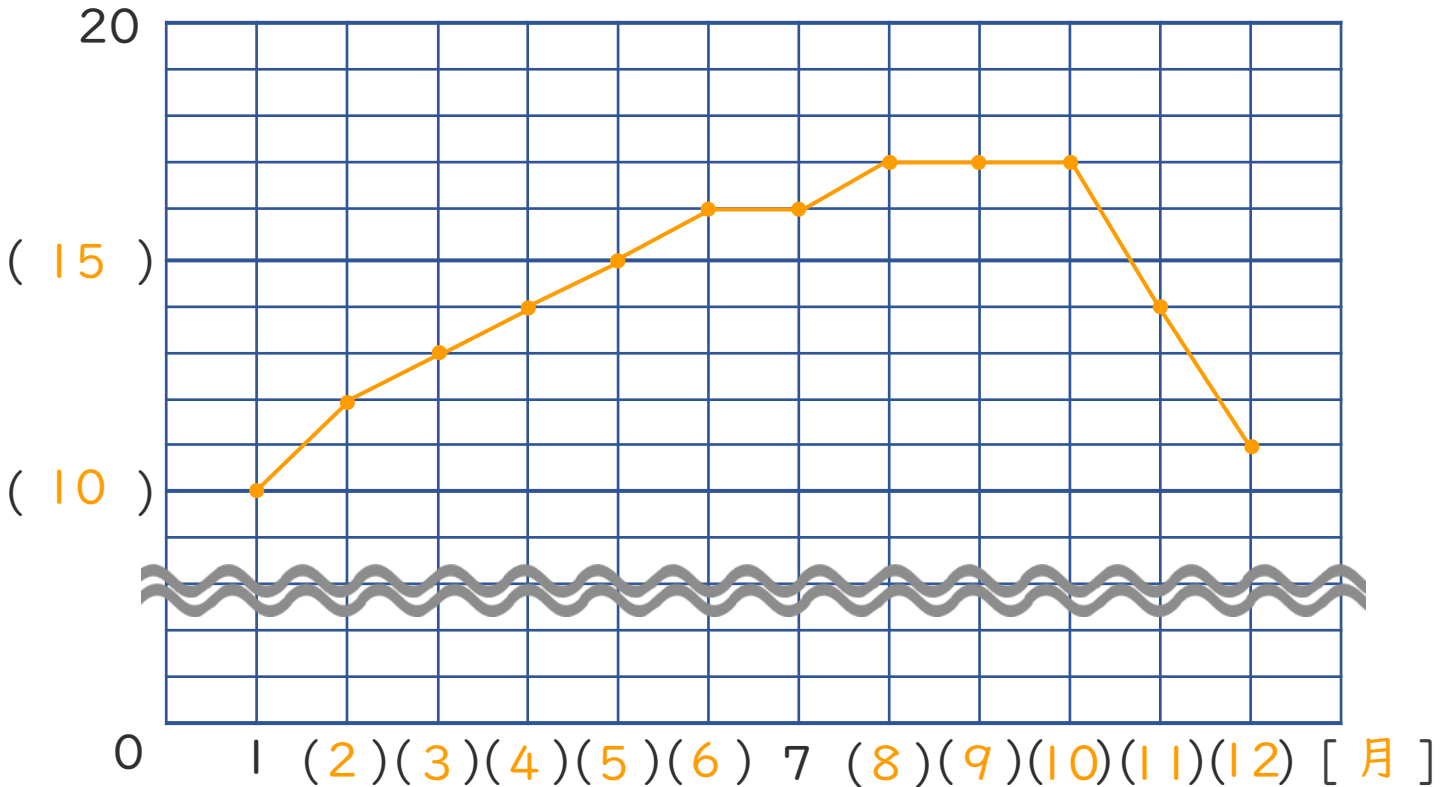
名まえ \_\_\_\_\_

・ 次の表を、折れ線グラフに表しましょう。

1年間の気温の変わり方(サンフランシスコ)

|       |    |    |    |    |    |    |    |    |    |    |    |    |
|-------|----|----|----|----|----|----|----|----|----|----|----|----|
| 月(月)  | 1  | 2  | 3  | 4  | 5  | 6  | 7  | 8  | 9  | 10 | 11 | 12 |
| 気温(度) | 10 | 12 | 13 | 14 | 15 | 16 | 16 | 17 | 17 | 17 | 14 | 11 |

[ 度 ] (1年間の気温の変わり方(サンフランシスコ))







# 折れ線グラフと表 6

●メモりのとちゅうを  
省いたグラフを書こう



日にち：            月            日

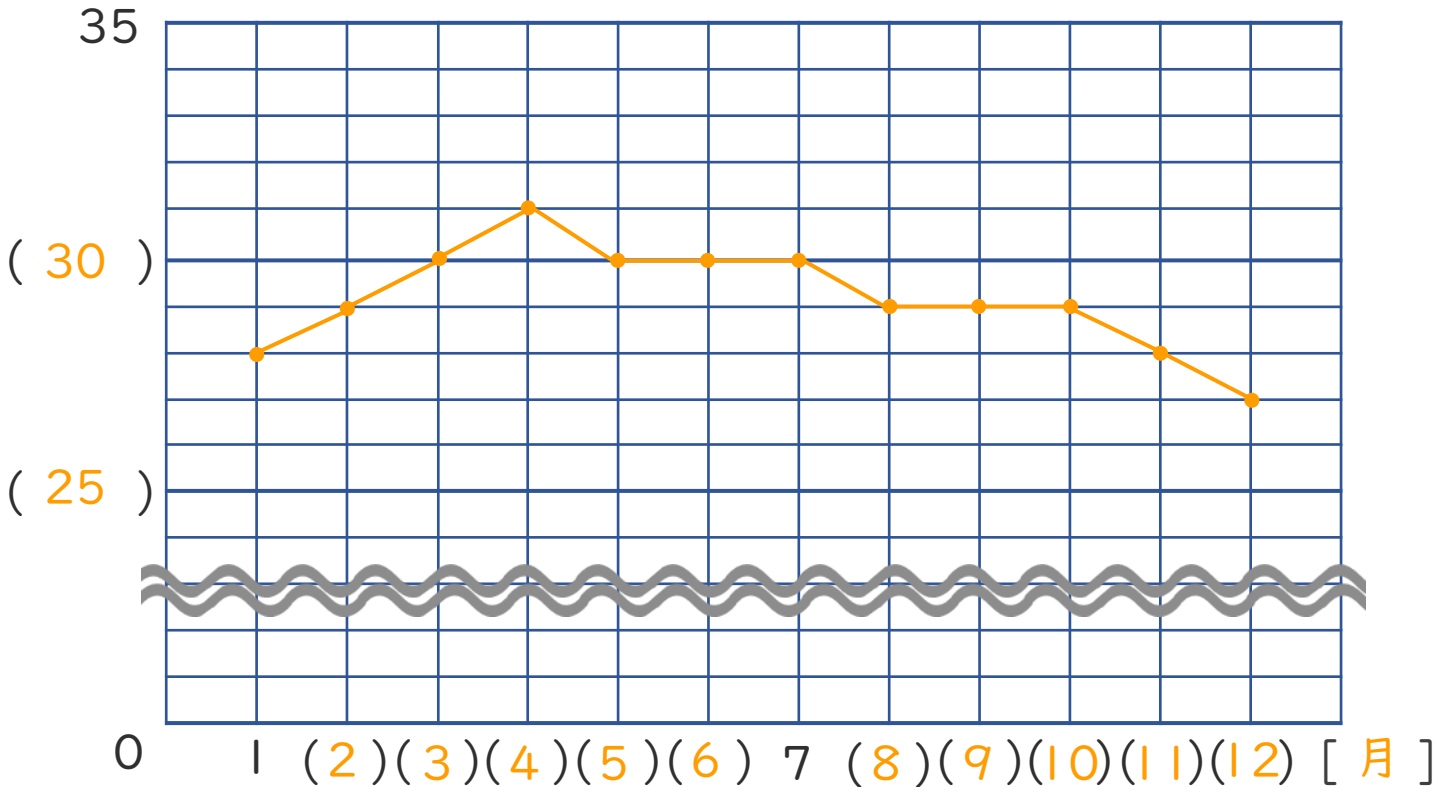
名まえ \_\_\_\_\_

・ 次の表を、折れ線グラフに表しましょう。

1年間の気温の変わり方(バンコク)

|       |    |    |    |    |    |    |    |    |    |    |    |    |
|-------|----|----|----|----|----|----|----|----|----|----|----|----|
| 月(月)  | 1  | 2  | 3  | 4  | 5  | 6  | 7  | 8  | 9  | 10 | 11 | 12 |
| 気温(度) | 28 | 29 | 30 | 31 | 30 | 30 | 30 | 29 | 29 | 29 | 28 | 27 |

[ 度 ] ( 1年間の気温の変わり方(バンコク) )





# 折れ線グラフと表 6

●メモリのとちゅうを  
省いたグラフを書こう



日にち：            月            日

名まえ \_\_\_\_\_

・ 次の表を、折れ線グラフに表しましょう。

1年間の気温の変わり方(リオデジャネイロ)

|       |    |    |    |    |    |    |    |    |    |    |    |    |
|-------|----|----|----|----|----|----|----|----|----|----|----|----|
| 月(月)  | 1  | 2  | 3  | 4  | 5  | 6  | 7  | 8  | 9  | 10 | 11 | 12 |
| 気温(度) | 27 | 27 | 26 | 25 | 22 | 21 | 20 | 21 | 22 | 24 | 24 | 26 |

[度] (1年間の気温の変わり方(リオデジャネイロ))

