



# 角の大きさ 〇〇

● 時計回りの角の作図

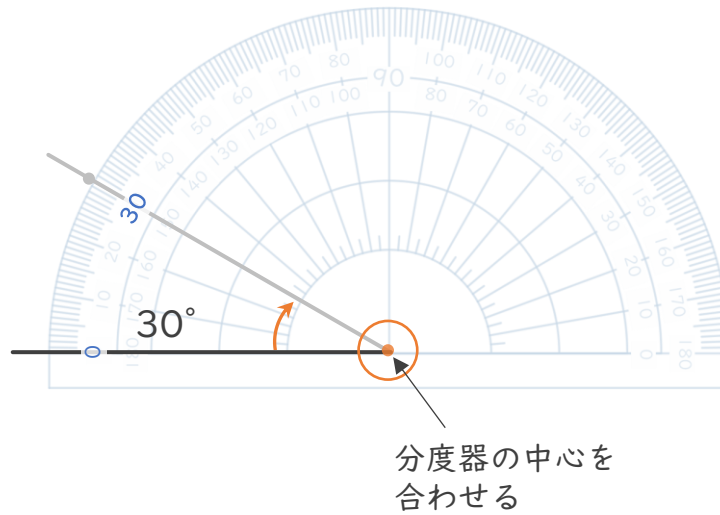


日にち：            月            日

名まえ \_\_\_\_\_

・ 次の角をかきましょう。(うすい点や線はなぞりましょう。)


①  $30^\circ$



②  $60^\circ$



③  $120^\circ$





# 角の大きさ 00

● 時計回りの角の作図

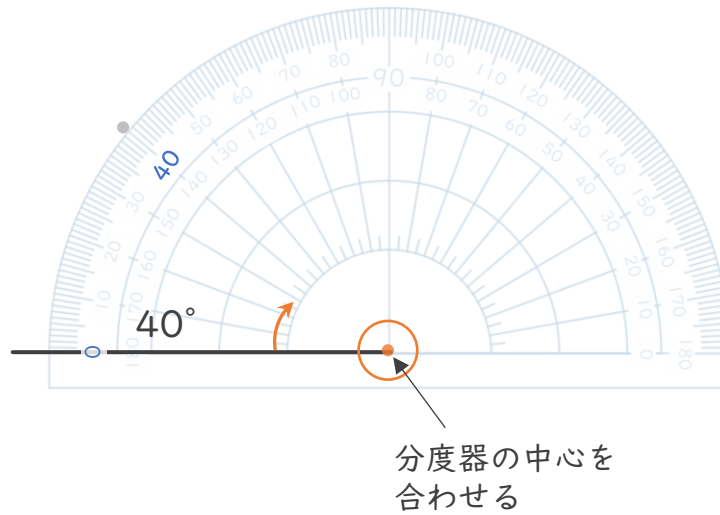


日にち：            月            日


名まえ \_\_\_\_\_

・ 次の角をかきましょう。(うすい点はなぞりましょう。)


①  $40^\circ$



②  $45^\circ$



③  $100^\circ$





# 角の大きさ 〇〇

● 時計回りの角の作図

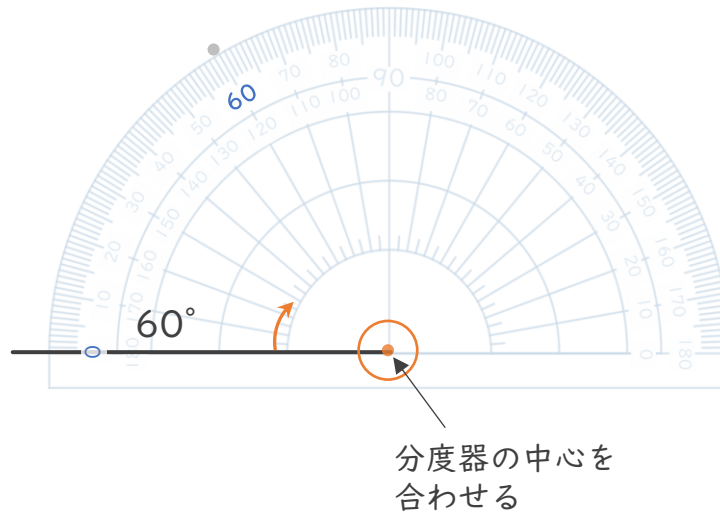


日にち：            月            日

名まえ \_\_\_\_\_

・ 次の角をかきましょう。(うすい点はなぞりましょう。)


①  $60^\circ$



②  $75^\circ$



③  $150^\circ$





# 角の大きさ 00

● 時計回りの角の作図

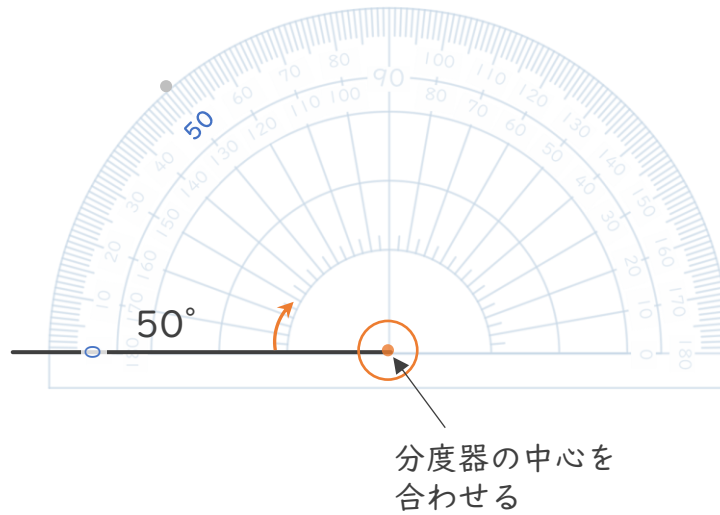


日にち：            月            日


名まえ \_\_\_\_\_

・ 次の角をかきましょう。(うすい点はなぞりましょう。)

①  $50^\circ$



②  $25^\circ$



③  $110^\circ$





# 角の大きさ 00

● 時計回りの角の作図



日にち：            月            日

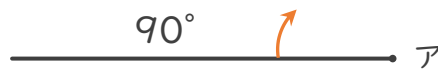
名まえ \_\_\_\_\_

・ 点アを頂点として、次の大きさの角をかきましょう。

①  $45^\circ$



②  $90^\circ$



③  $135^\circ$





# 角の大きさ 〇〇

● 時計回りの角の作図



日にち：            月            日

名まえ \_\_\_\_\_

・ 点アを頂点として、次の大きさの角をかきましょう。

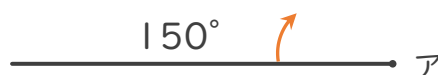
①  $75^\circ$



②  $100^\circ$



③  $150^\circ$





# 角の大きさ 00

● 時計回りの角の作図



日にち：            月            日

名まえ \_\_\_\_\_

・ 点アを頂点として、次の大きさの角をかきましょう。

①  $65^\circ$



②  $140^\circ$



③  $30^\circ$





# 角の大きさ 00

● 時計回りの角の作図



日にち：            月            日


名まえ \_\_\_\_\_

・ 点アを頂点として、次の大きさの角をかきましょう。

①  $45^\circ$



②  $135^\circ$



③  $70^\circ$







# 角の大きさ 〇〇

● 時計回りの角の作図



日にち：            月            日

名まえ \_\_\_\_\_

・ 点アを頂点として、次の大きさの角をかきましょう。

①  $50^\circ$



②  $160^\circ$



③  $85^\circ$





# 角の大きさ 11

● 時計回りの角の作図




日にち：            月            日

名まえ \_\_\_\_\_

・ 点アを頂点として、次の大きさの角をかきましょう。

①  $50^\circ$

②  $90^\circ$



③  $70^\circ$

④  $110^\circ$





# 角の大きさ 〇〇

● 時計回りの角の作図




日にち：            月            日

名まえ \_\_\_\_\_

・ 点アを頂点として、次の大きさの角をかきましょう。

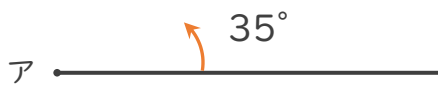
①  $40^\circ$

②  $110^\circ$



③  $35^\circ$

④  $105^\circ$





# 角の大きさ 00

● 時計回りの角の作図




日にち：            月            日

名まえ \_\_\_\_\_

・ 点アを頂点として、次の大きさの角をかきましょう。

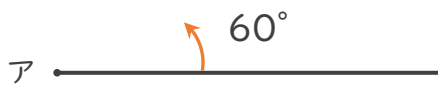
①  $90^\circ$

②  $125^\circ$



③  $60^\circ$

④  $100^\circ$





# 角の大きさ 00

● 時計回りの角の作図




日にち：            月            日

名まえ \_\_\_\_\_

・ 点アを頂点として、次の大きさの角をかきましょう。

①  $50^\circ$

②  $140^\circ$



③  $20^\circ$

④  $95^\circ$





# 角の大きさ 00

● 時計回りの角の作図





日にち：            月            日

名まえ \_\_\_\_\_

・ 点アを頂点として、次の大きさの角をかきましょう。

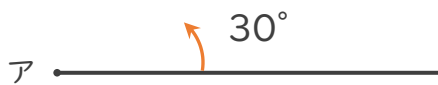
①  $70^\circ$

②  $115^\circ$



③  $30^\circ$

④  $75^\circ$





# 角の大きさ 00

● 時計回りの角の作図

15

めざせ75点!




名まえ \_\_\_\_\_

・ 点アを頂点として、次の大きさの角をかきましょう。(各25点)

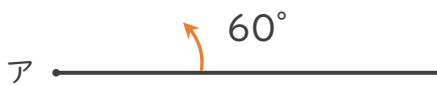
①  $80^\circ$

②  $125^\circ$



③  $60^\circ$

④  $105^\circ$





# 角の大きさ 00

● 時計回りの角の作図

16

めざせ75点!

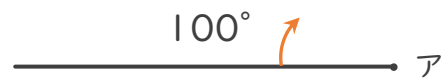



名まえ \_\_\_\_\_

・ 点アを頂点として、次の大きさの角をかきましょう。(各25点)

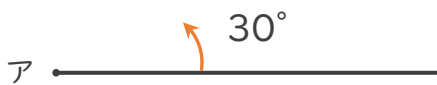
①  $50^\circ$

②  $100^\circ$



③  $30^\circ$

④  $135^\circ$







# 角の大きさ 〇〇

● 時計回りの角の作図

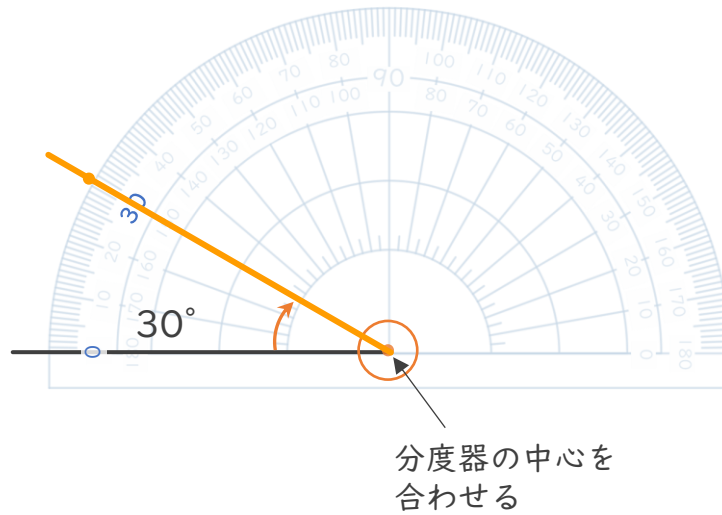


日にち：            月            日

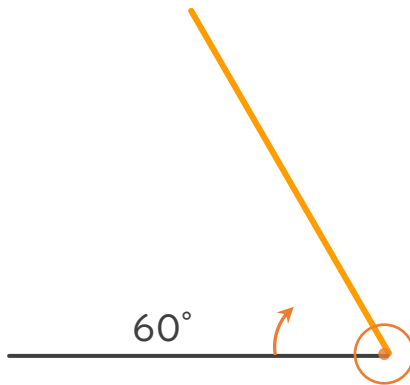
名まえ \_\_\_\_\_

・ 次の角をかきましょう。(うすい点や線はなぞりましょう。)

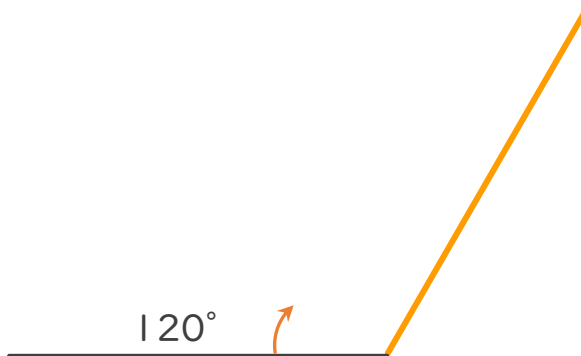
①  $30^\circ$



②  $60^\circ$



③  $120^\circ$





# 角の大きさ 〇〇

● 時計回りの角の作図

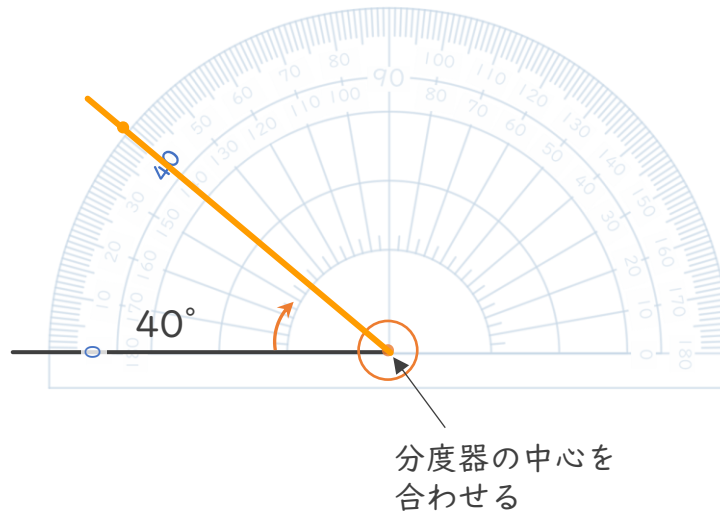


日にち：            月            日

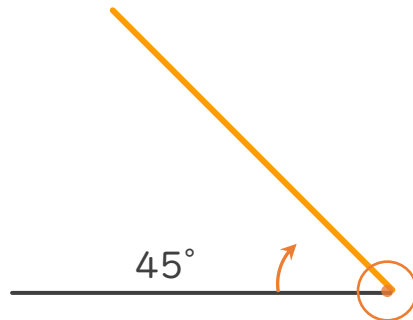
名まえ \_\_\_\_\_

・ 次の角をかきましょう。(うすい点はなぞりましょう。)

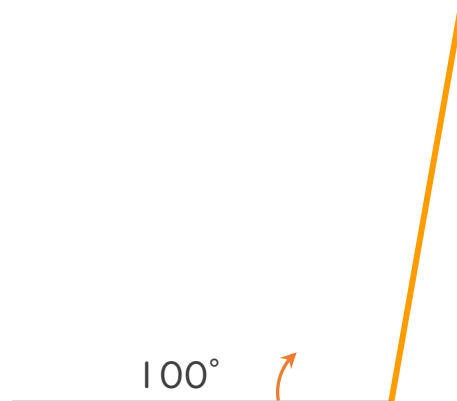
①  $40^\circ$



②  $45^\circ$



③  $100^\circ$





# 角の大きさ 00

● 時計回りの角の作図

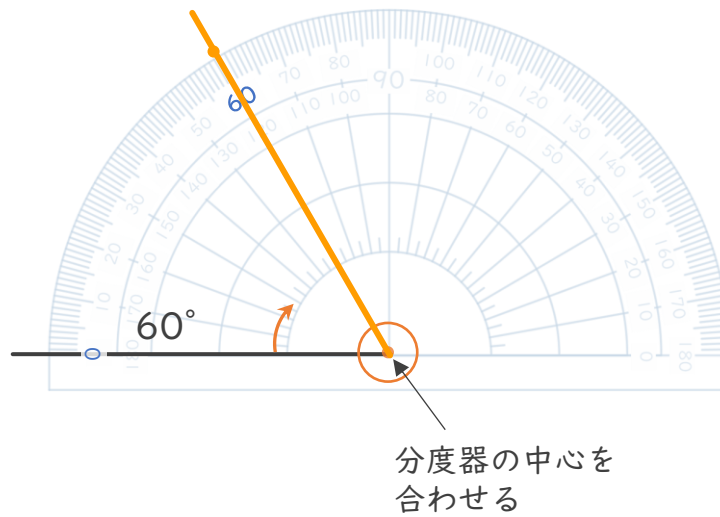


日にち：            月            日

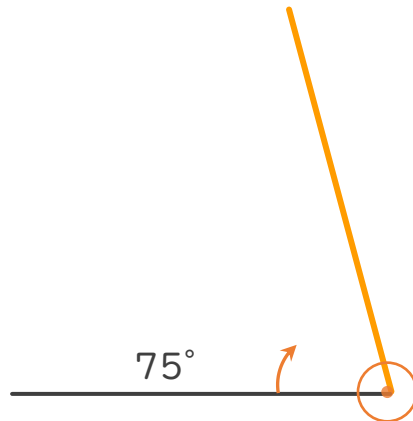
名まえ \_\_\_\_\_

・ 次の角をかきましょう。(うすい点はなぞりましょう。)


①  $60^\circ$



②  $75^\circ$



③  $150^\circ$





# 角の大きさ 〇〇

● 時計回りの角の作図

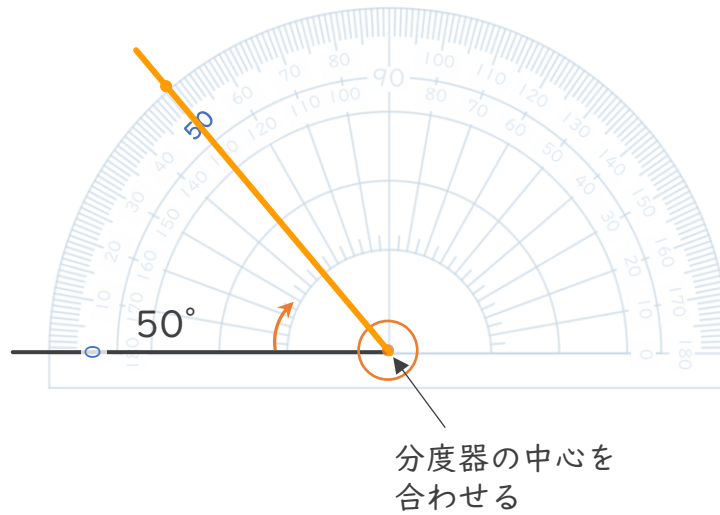


日にち：            月            日

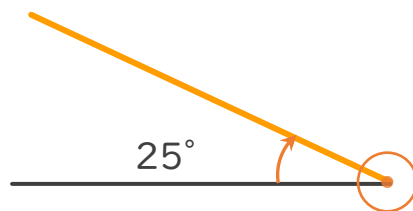
名まえ \_\_\_\_\_

・ 次の角をかきましょう。(うすい点はなぞりましょう。)

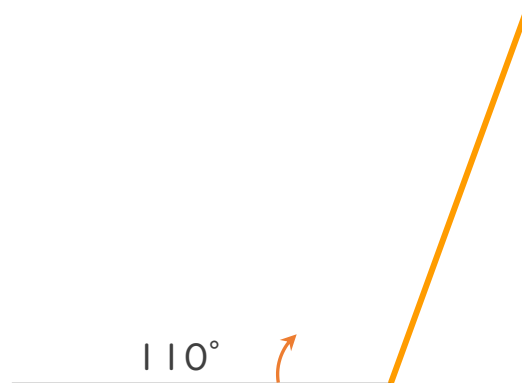
①  $50^\circ$



②  $25^\circ$



③  $110^\circ$



④ 確認 答え





# 角の大きさ 00

● 時計回りの角の作図

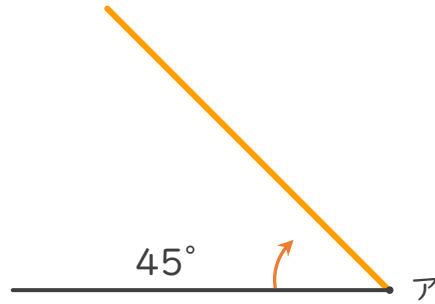


日にち：            月            日

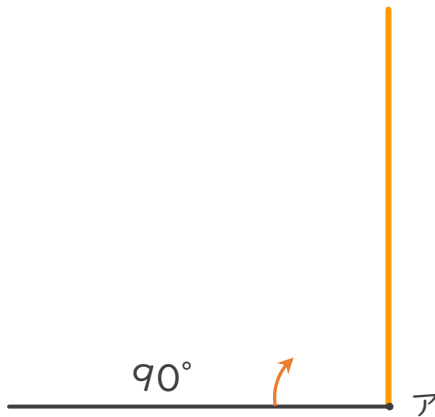
名まえ \_\_\_\_\_

・ 点アを頂点として、次の大きさの角をかきましょう。

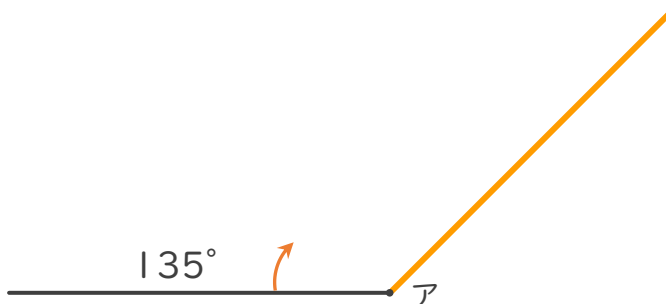
①  $45^\circ$



②  $90^\circ$



③  $135^\circ$





# 角の大きさ 11

● 時計回りの角の作図

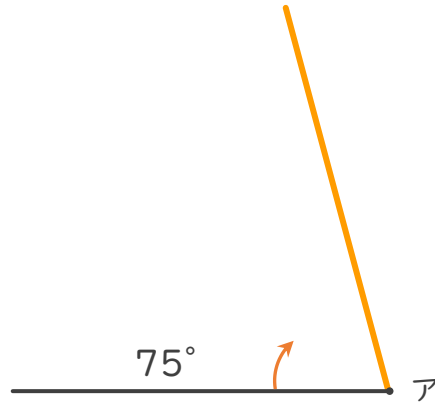


日にち：            月            日

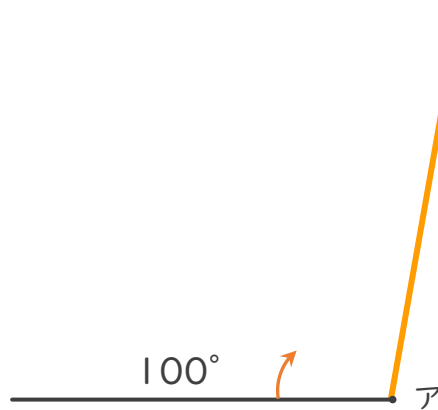
名まえ \_\_\_\_\_

・ 点アを頂点として、次の大きさの角をかきましょう。

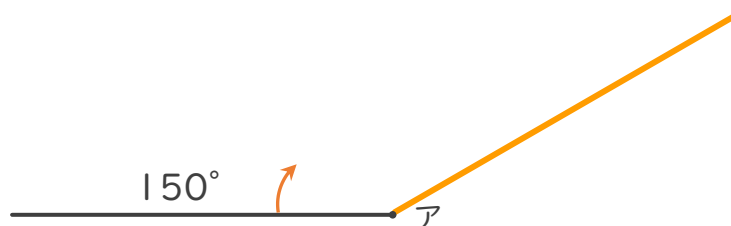
①  $75^\circ$



②  $100^\circ$



③  $150^\circ$





# 角の大きさ 〇〇

● 時計回りの角の作図

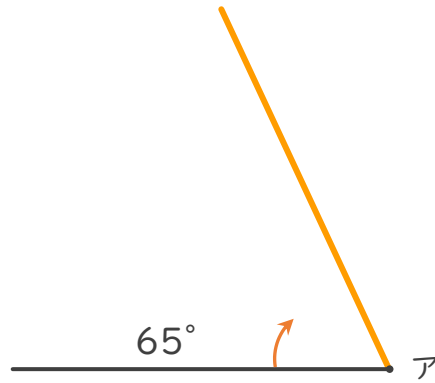


日にち：            月            日

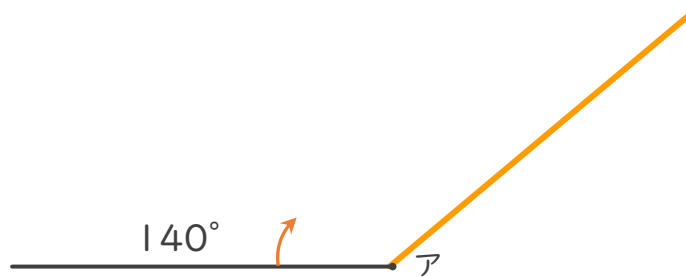
名まえ \_\_\_\_\_

・ 点アを頂点として、次の大きさの角をかきましょう。

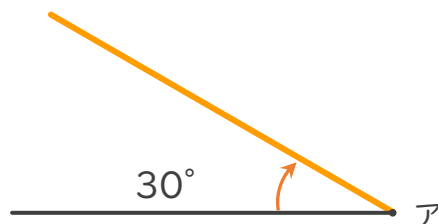
①  $65^\circ$



②  $140^\circ$



③  $30^\circ$





# 角の大きさ 00

● 時計回りの角の作図

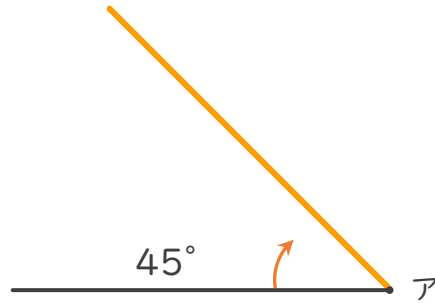


日にち：            月            日

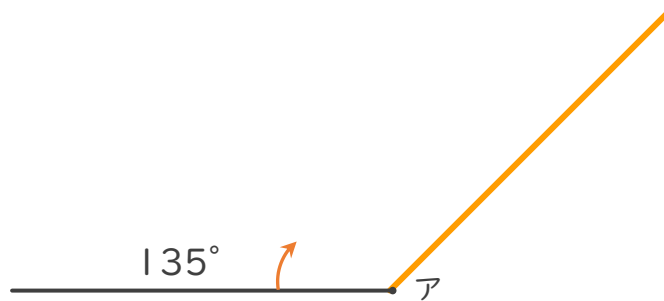
名まえ \_\_\_\_\_

・ 点アを頂点として、次の大きさの角をかきましょう。

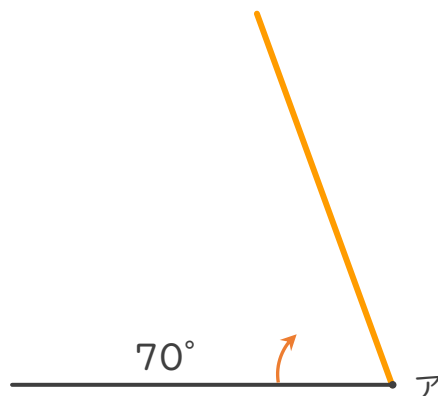
①  $45^\circ$



②  $135^\circ$



③  $70^\circ$







# 角の大きさ 00

● 時計回りの角の作図

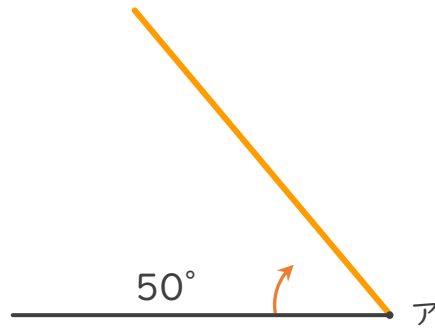


日にち：            月            日

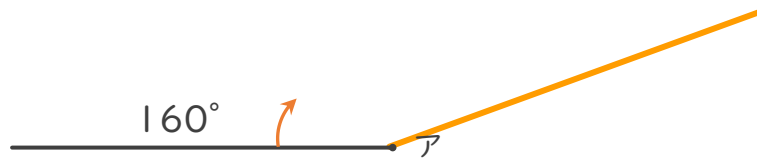
名まえ \_\_\_\_\_

・ 点アを頂点として、次の大きさの角をかきましょう。

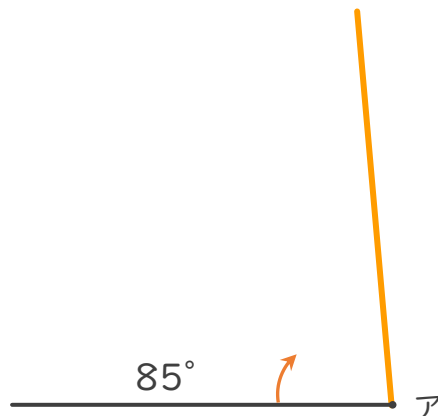
①  $50^\circ$



②  $160^\circ$



③  $85^\circ$





# 角の大きさ 11

● 時計回りの角の作図



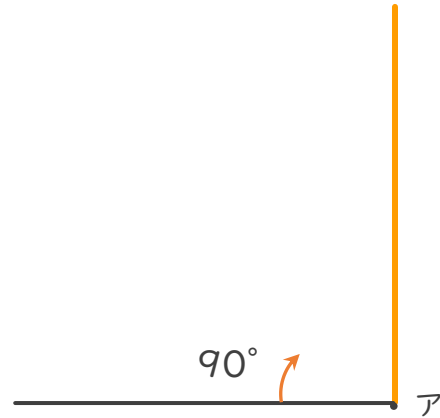
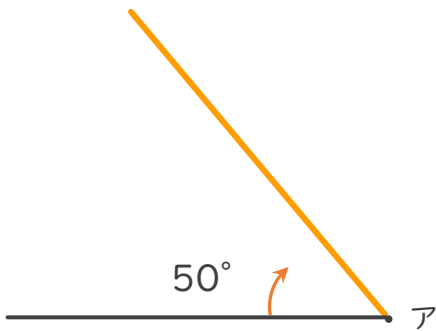
日にち：            月            日

名まえ \_\_\_\_\_

・ 点アを頂点として、次の大きさの角をかきましょう。

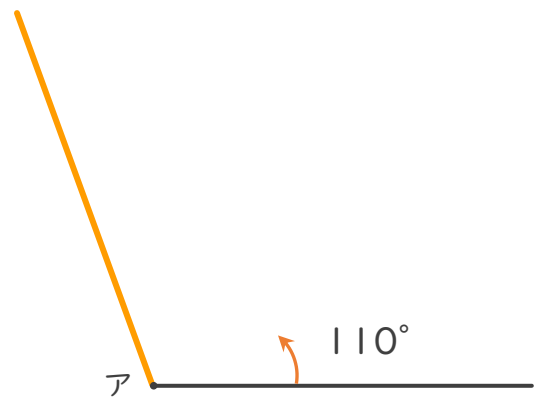
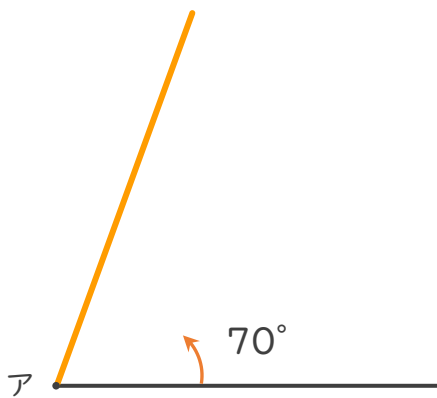
①  $50^\circ$

②  $90^\circ$



③  $70^\circ$

④  $110^\circ$





# 角の大きさ 〇〇

● 時計回りの角の作図



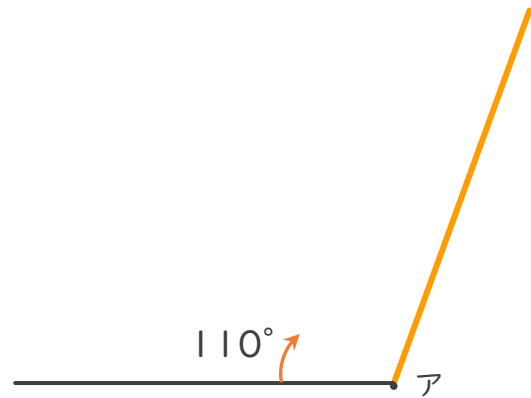
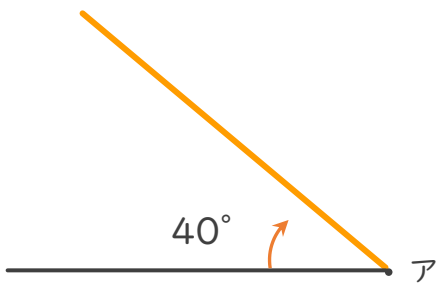
日にち：            月            日

名まえ \_\_\_\_\_

・ 点アを頂点として、次の大きさの角をかきましょう。

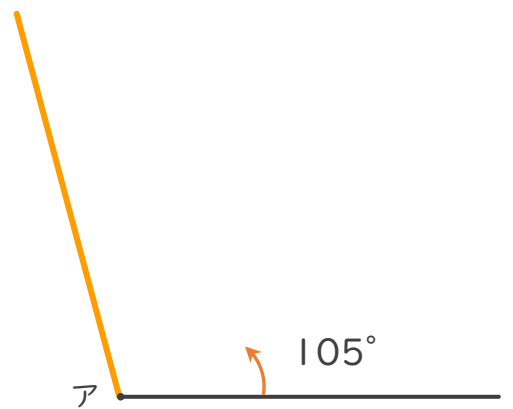
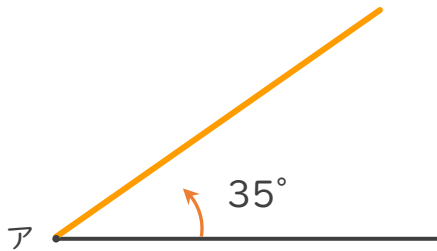
①  $40^\circ$

②  $110^\circ$



③  $35^\circ$

④  $105^\circ$





# 角の大きさ 00

● 時計回りの角の作図



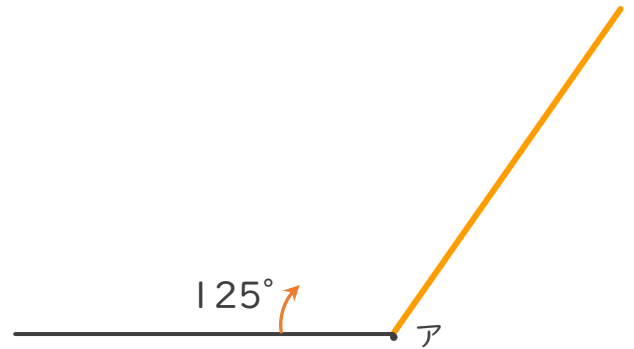
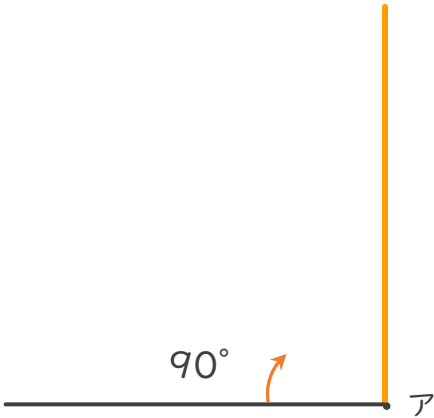
日にち：            月            日

名まえ \_\_\_\_\_

・ 点アを頂点として、次の大きさの角をかきましょう。

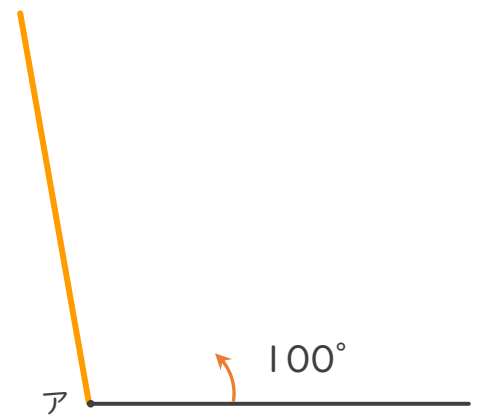
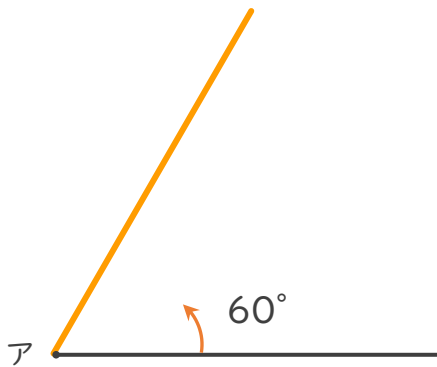
①  $90^\circ$

②  $125^\circ$



③  $60^\circ$

④  $100^\circ$





# 角の大きさ 00

● 時計回りの角の作図

13

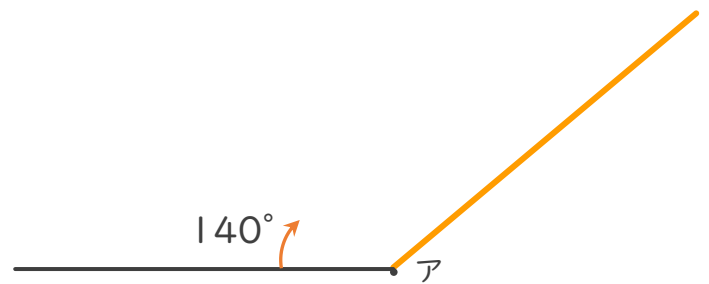
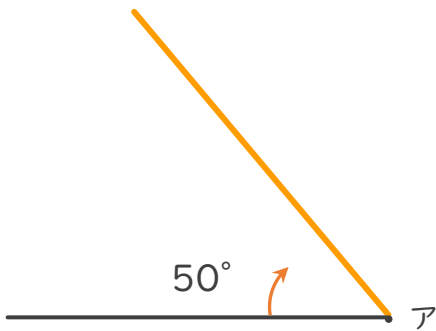
日にち：            月            日

名まえ \_\_\_\_\_

・ 点アを頂点として、次の大きさの角をかきましょう。

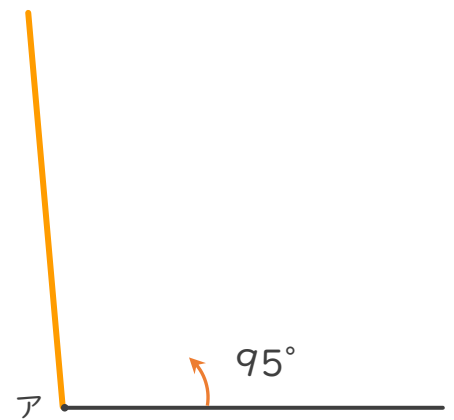
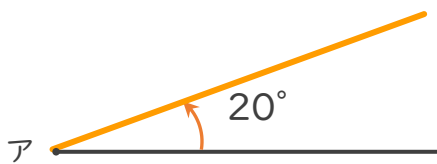
①  $50^\circ$

②  $140^\circ$



③  $20^\circ$

④  $95^\circ$





# 角の大きさ 00

● 時計回りの角の作図

14

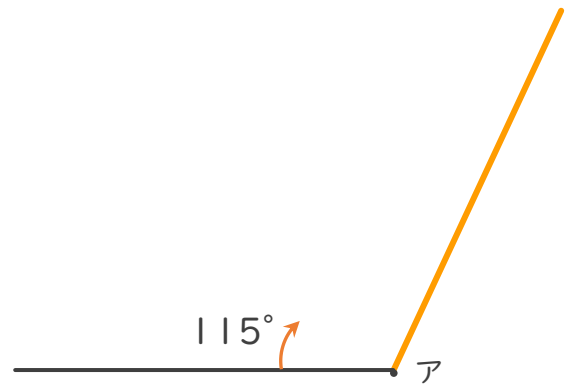
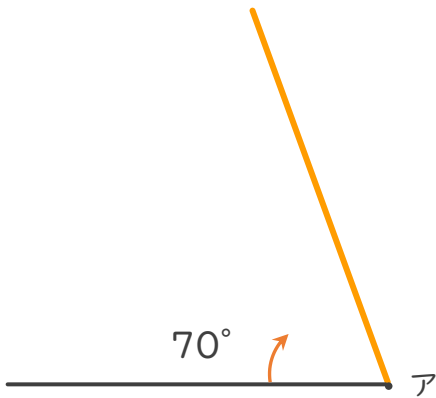
日にち：            月            日

名まえ \_\_\_\_\_

・ 点アを頂点として、次の大きさの角をかきましょう。

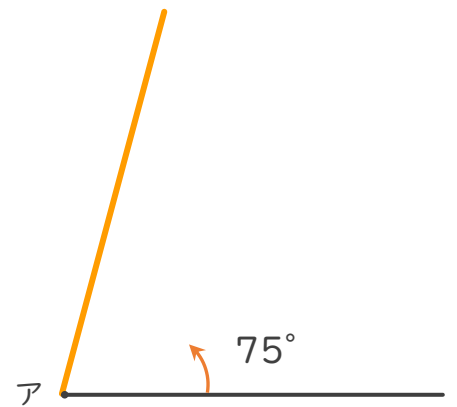
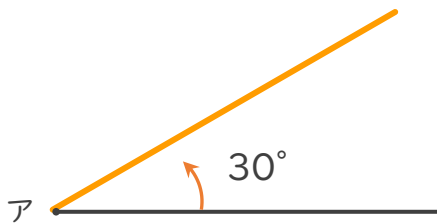
①  $70^\circ$

②  $115^\circ$



③  $30^\circ$

④  $75^\circ$





# 角の大きさ 00

● 時計回りの角の作図

15

めざせ75点!

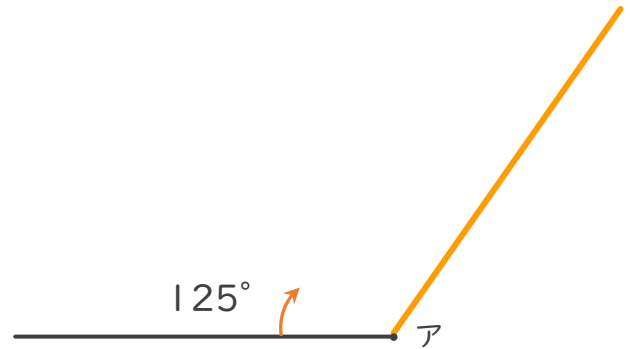
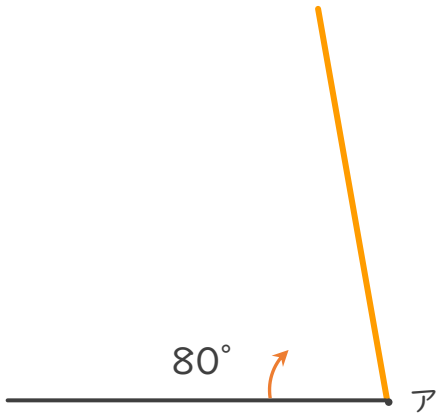


名まえ \_\_\_\_\_

・ 点アを頂点として、次の大きさの角をかきましょう。(各25点)

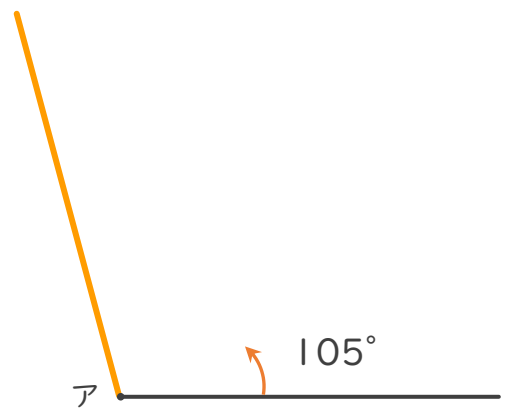
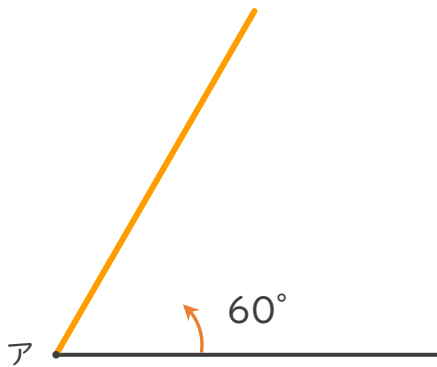
①  $80^\circ$

②  $125^\circ$



③  $60^\circ$

④  $105^\circ$





# 角の大きさ 〇〇

● 時計回りの角の作図

16

めざせ75点!



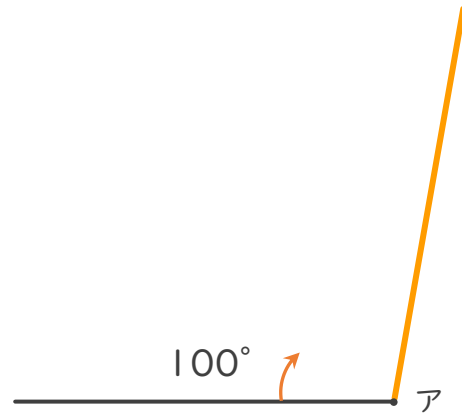
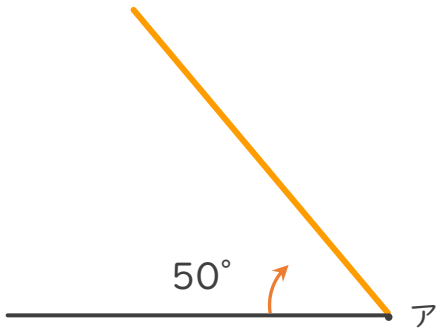
てん

名まえ \_\_\_\_\_

・ 点アを頂点として、次の大きさの角をかきましょう。(各25点)

①  $50^\circ$

②  $100^\circ$



③  $30^\circ$

④  $135^\circ$

