



角の大きさ 4

● 分度器で角度をはかる
(分度器より短い角)

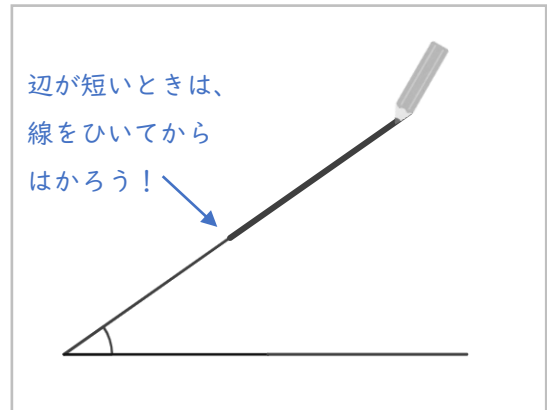
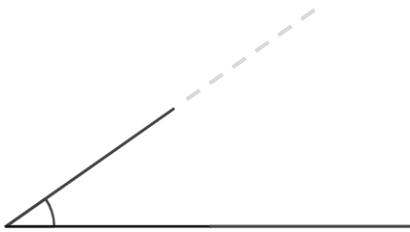


日にち： 月 日

名まえ _____

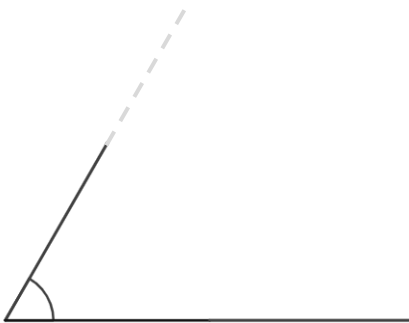
・ 次の角度をくふうしてはかりましょう。(うすい字はなぞりましょう。)

①



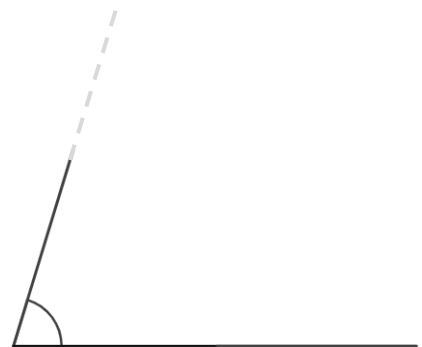
答え (35°)

②



答え ()

③



答え ()



角の大きさ 4

● 分度器で角度をはかる
(分度器より短い角)

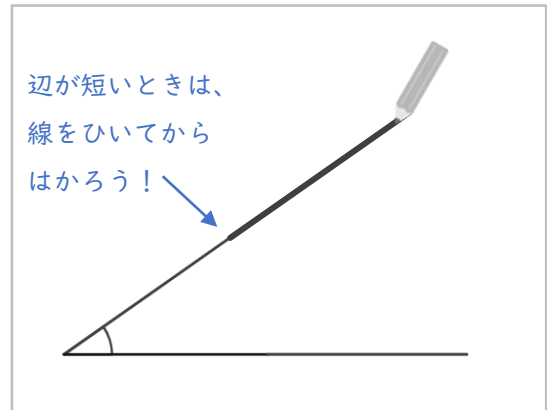
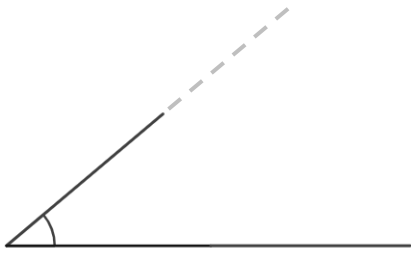


日にち： 月 日

名まえ _____


・ 次の角度をくふうしてはかりましょう。(うすい字はなぞりましょう。)

①




答え (40°)

②



答え ()

③



答え ()



角の大きさ 4

● 分度器で角度をはかる
(分度器より短い角)

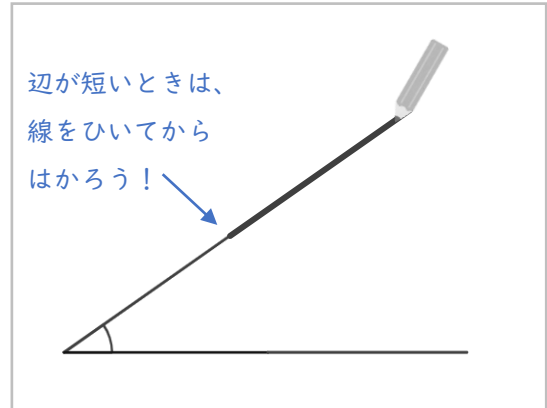
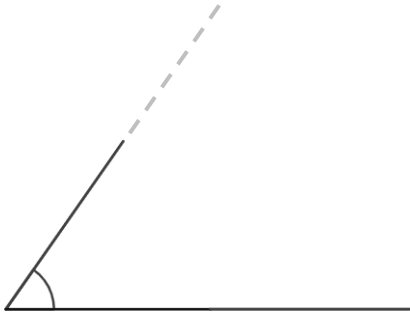


日にち： 月 日

名まえ _____

・ 次の角度をくふうしてはかりましょう。(うすい字はなぞりましょう。)

①




答え ()

②



答え ()

③



答え ()



角の大きさ 4

● 分度器で角度をはかる
(分度器より短い角)

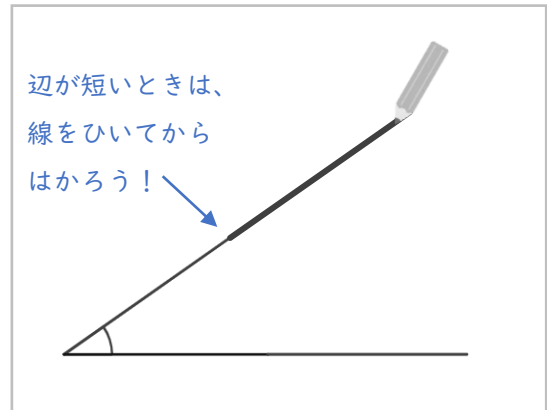
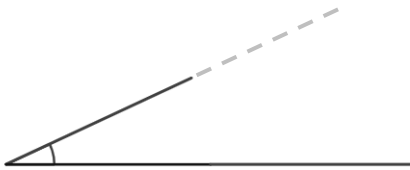


日にち： 月 日

名まえ _____


・ 次の角度をくふうしてはかりましょう。(うすい字はなぞりましょう。)

①



答え ()

②



答え ()

③



答え ()



角の大きさ 4

● 分度器で角度をはかる
(分度器より短い角)

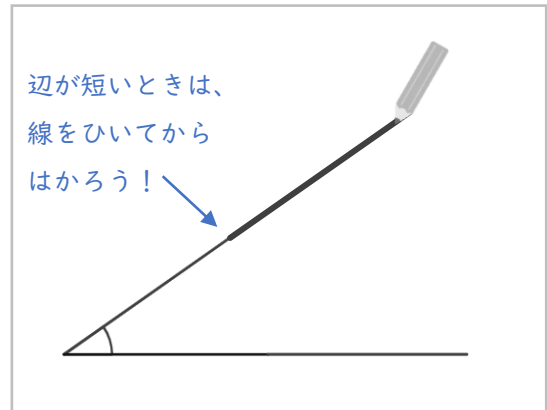
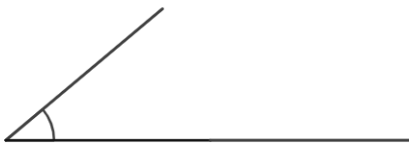


日にち： 月 日

名まえ _____


・ 次の角度をくふうしてはかりましょう。

①




答え ()

②



答え ()

③



答え ()



角の大きさ 4

● 分度器で角度をはかる
(分度器より短い角)

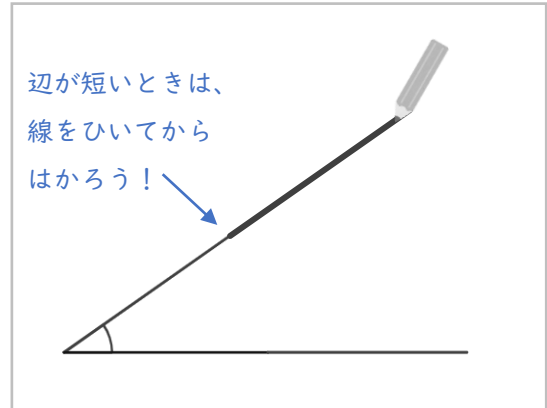


日にち： 月 日

名まえ _____

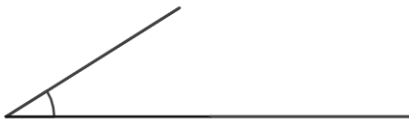
・ 次の角度をくふうしてはかりましょう。

①




答え ()

②



答え ()

③



答え ()



角の大きさ 4

● 分度器で角度をはかる
(分度器より短い角)

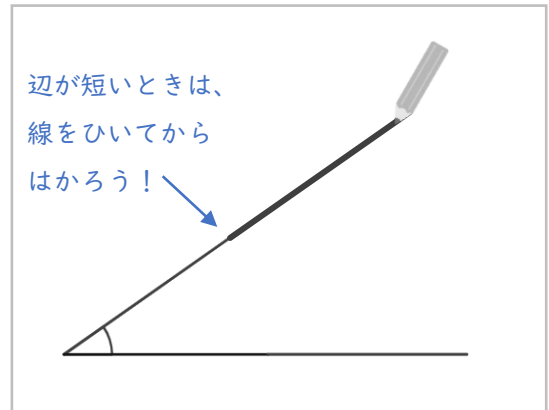


日にち： 月 日

名まえ _____


・ 次の角度をくふうしてはかりましょう。

①



答え ()

②



答え ()

③



答え ()



角の大きさ 4

● 分度器で角度をはかる
(分度器より短い角)

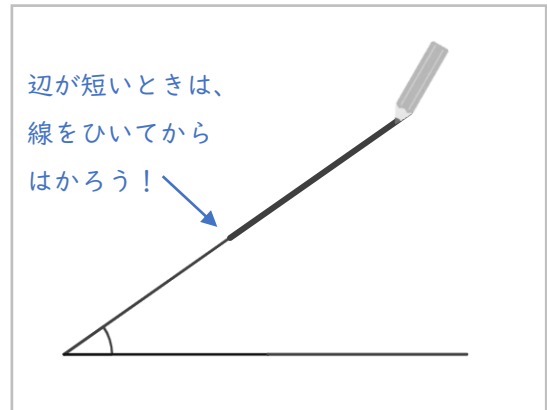
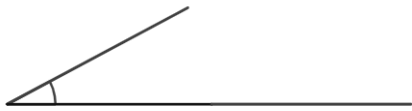


日にち： 月 日

名まえ _____


・ 次の角度をくふうしてはかりましょう。

①



答え ()

②



答え ()

③



答え ()



角の大きさ 4

● 分度器で角度をはかる
(分度器より短い角)

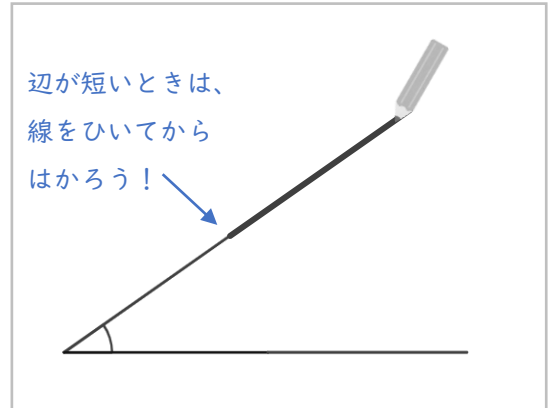


日にち： 月 日

名まえ _____

・ 次の角度をくふうしてはかりましょう。

①



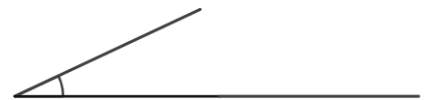
答え ()

②



答え ()

③



答え ()



角の大きさ 4

● 分度器で角度をはかる
(分度器より短い角)

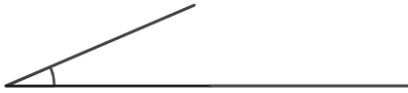


日にち： 月 日

名まえ _____

・ 次の角度をくふうしてはかりましょう。

①



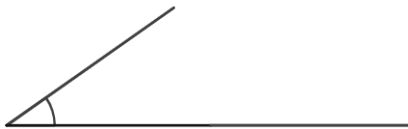
答え ()

②




答え ()

③



答え ()

④



答え ()



角の大きさ 4

● 分度器で角度をはかる
(分度器より短い角)

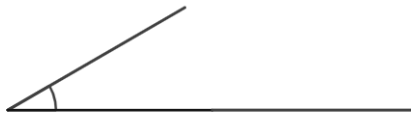


日にち： 月 日

名まえ _____

・ 次の角度をくふうしてはかりましょう。

①



答え ()

②



答え ()

③



答え ()

④



答え ()



角の大きさ 4

● 分度器で角度をはかる
(分度器より短い角)

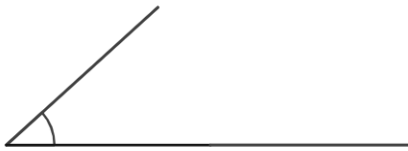


日にち： 月 日

名まえ _____

・ 次の角度をくふうしてはかりましょう。

①




答え ()

②



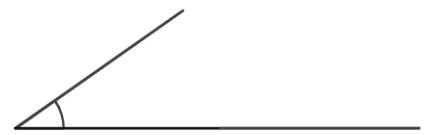
答え ()

③



答え ()

④



答え ()



角の大きさ 4

● 分度器で角度をはかる
(分度器より短い角)

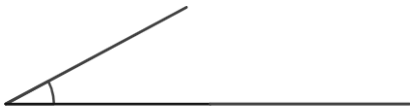


日にち： 月 日

名まえ _____

・ 次の角度をくふうしてはかりましょう。

①



答え ()

②



答え ()

③



答え ()

④



答え ()



角の大きさ 4

● 分度器で角度をはかる
(分度器より短い角)



日にち： 月 日

名まえ _____

・ 次の角度をくふうしてはかりましょう。

①




答え ()

②



答え ()

③



答え ()

④



答え ()



角の大きさ 4

● 分度器で角度をはかる
(分度器より短い角)

15

めざせ75点!



名まえ _____

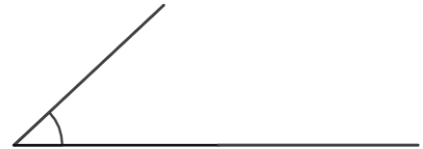
・ 次の角度をくふうしてはかりましょう。(各25点)

①



答え ()

②




答え ()

③



答え ()

④



答え ()



角の大きさ 4

● 分度器で角度をはかる
(分度器より短い角)



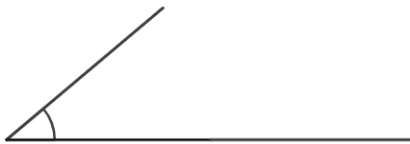
めざせ75点!



名まえ _____


・ 次の角度をくふうしてはかりましょう。(各25点)

①




答え ()

②



答え ()

③



答え ()

④



答え ()



角の大きさ 4

● 分度器で角度をはかる
(分度器より短い角)

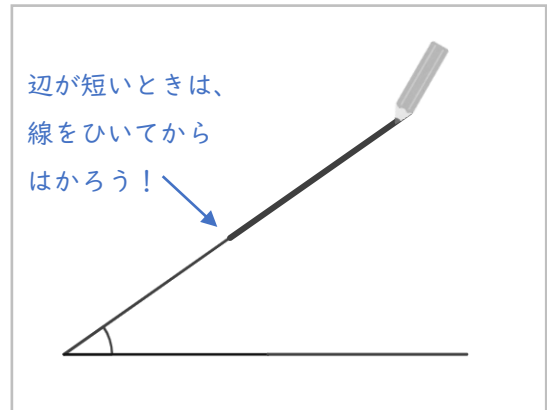
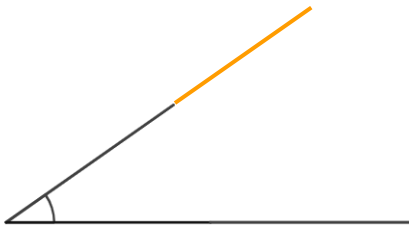


日にち： 月 日

名まえ _____

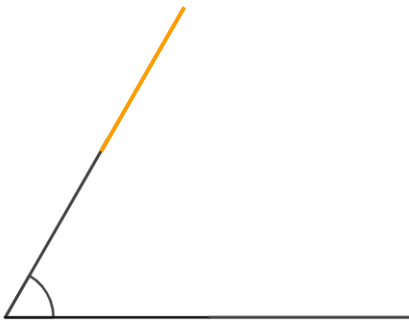
・ 次の角度をくふうしてはかりましょう。(うすい字はなぞりましょう。)

①



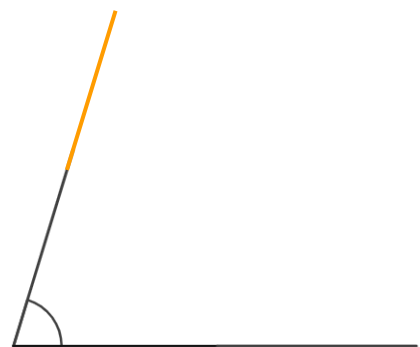
答え (35°)

②



答え (60°)

③



答え (73°)



角の大きさ 4

● 分度器で角度をはかる
(分度器より短い角)

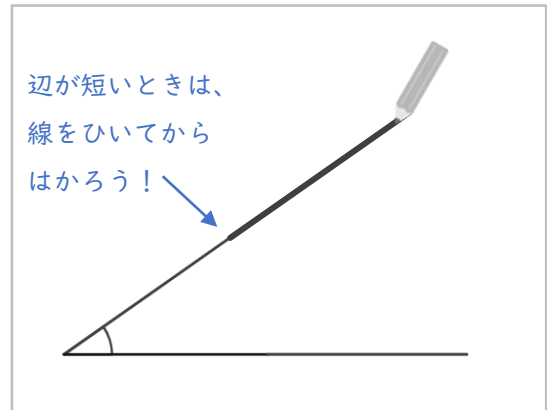
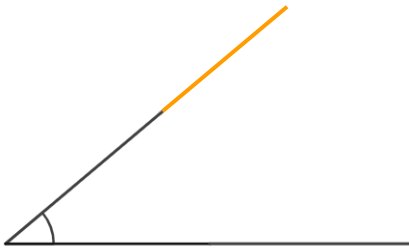


日にち： 月 日

名まえ _____

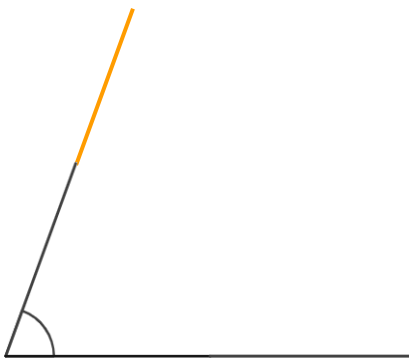
・ 次の角度をくふうしてはかりましょう。(うすい字はなぞりましょう。)

①



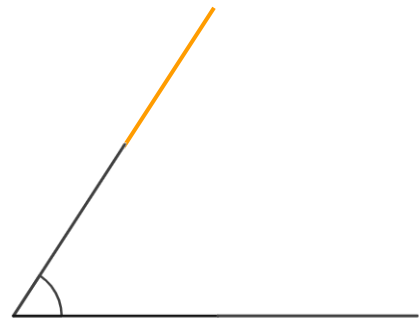
答え (40°)

②



答え (70°)

③



答え (57°)



角の大きさ 4

● 分度器で角度をはかる
(分度器より短い角)

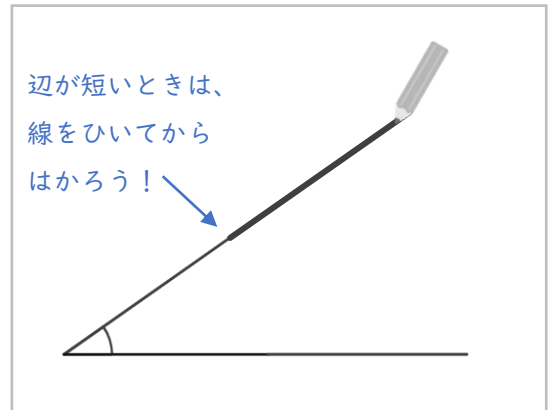
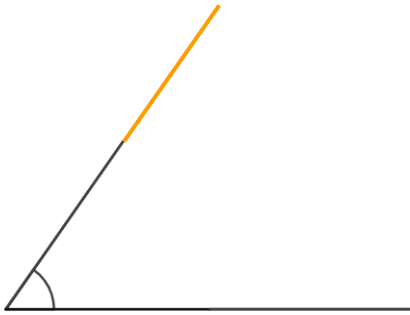


日にち： 月 日

名まえ _____

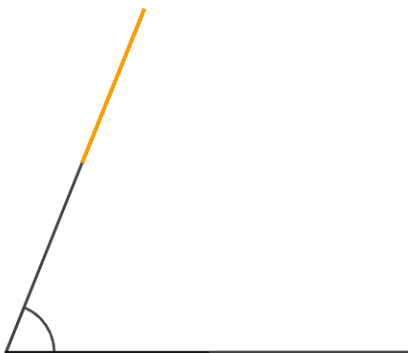
・ 次の角度をくふうしてはかりましょう。(うすい字はなぞりましょう。)

①



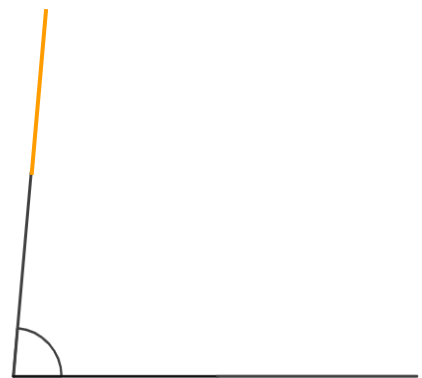
答え (**55°**)

②



答え (**68°**)

③



答え (**85°**)



角の大きさ 4

● 分度器で角度をはかる
(分度器より短い角)

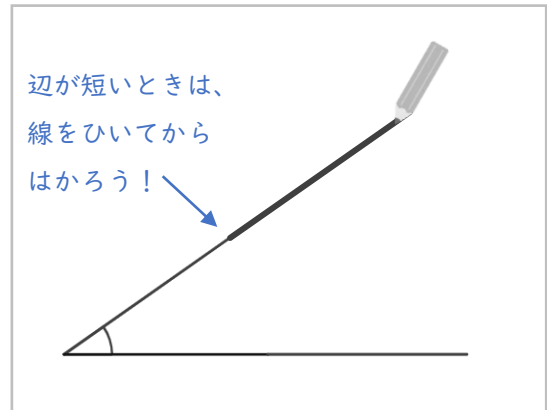
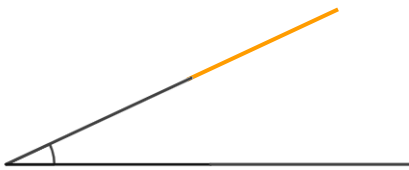


日にち： 月 日

名まえ _____

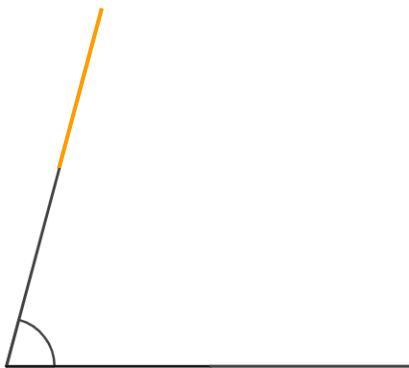
・ 次の角度をくふうしてはかりましょう。(うすい字はなぞりましょう。)

①




答え (25°)

②



答え (75°)

③



答え (103°)



角の大きさ 4

● 分度器で角度をはかる
(分度器より短い角)

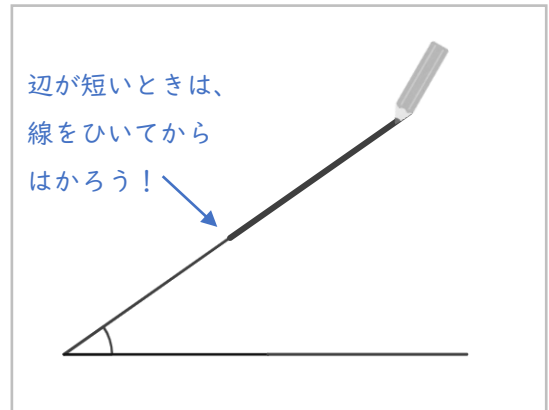
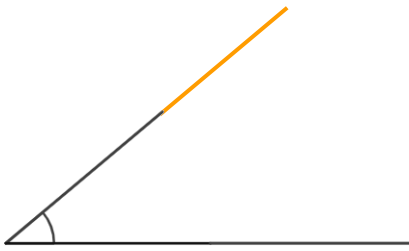


日にち： 月 日

名まえ _____

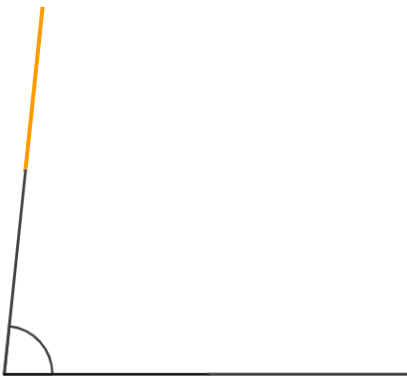
・ 次の角度をくふうしてはかりましょう。

①



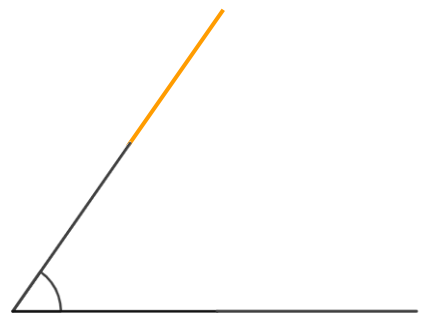
答え (40°)

②



答え (84°)

③



答え (55°)



角の大きさ 4

● 分度器で角度をはかる
(分度器より短い角)

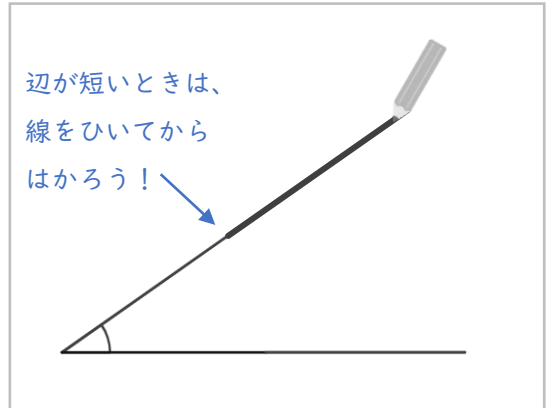
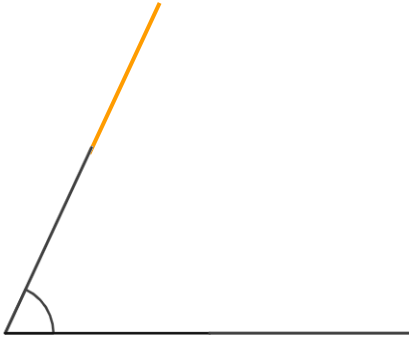


日にち： 月 日

名まえ _____

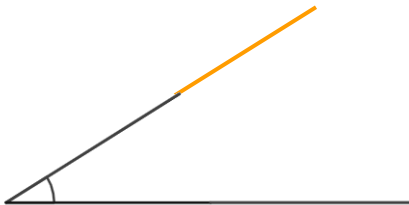
・ 次の角度をくふうしてはかりましょう。

①



答え (65°)

②



答え (32°)

③



答え (95°)



角の大きさ 4

● 分度器で角度をはかる
(分度器より短い角)

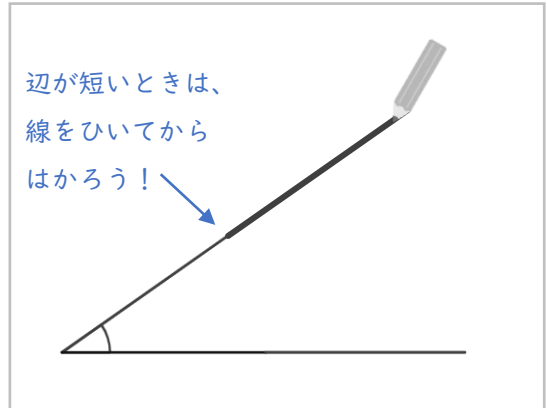
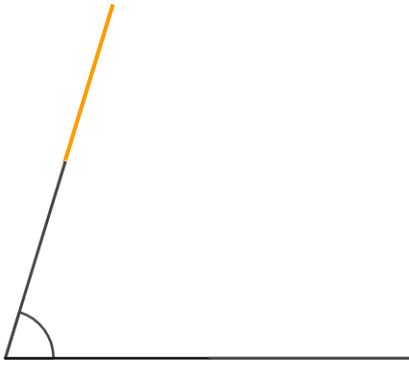


日にち： 月 日

名まえ _____

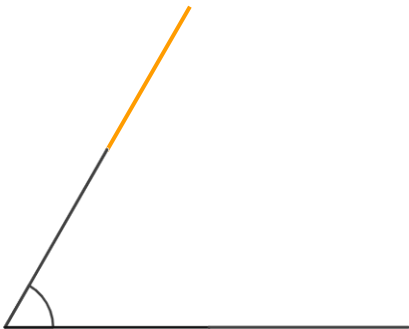
・ 次の角度をくふうしてはかりましょう。

①



答え (**73°**)

②



答え (**60°**)

③



答え (**90°**)



角の大きさ 4

● 分度器で角度をはかる
(分度器より短い角)

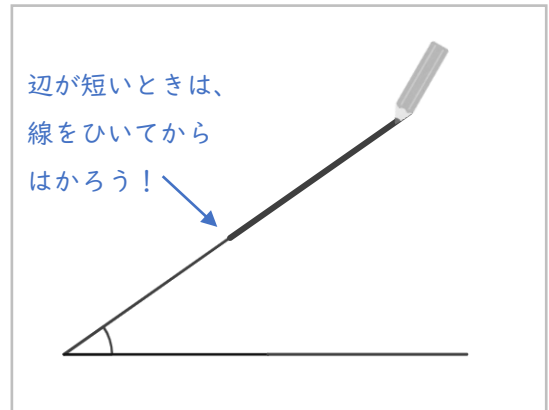
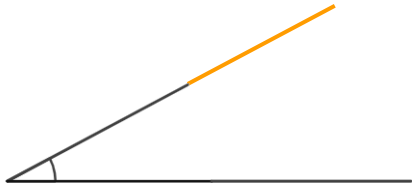


日にち： 月 日

名まえ _____

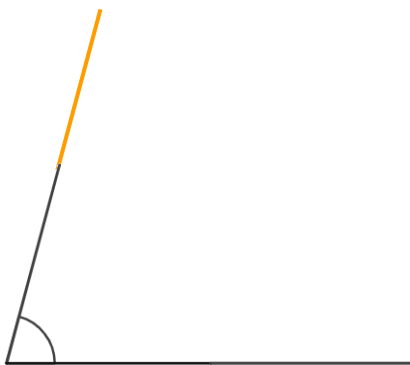
・ 次の角度をくふうしてはかりましょう。

①




答え (28°)

②



答え (75°)

③



答え (100°)



角の大きさ 4

● 分度器で角度をはかる
(分度器より短い角)

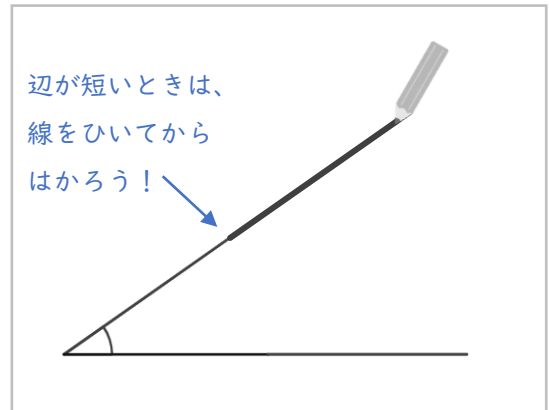
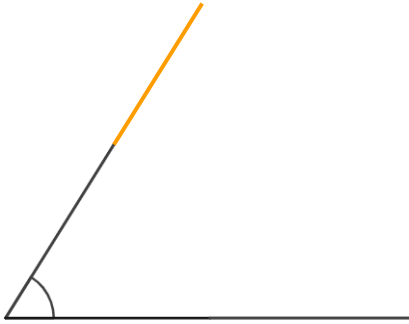


日にち： 月 日

名まえ _____

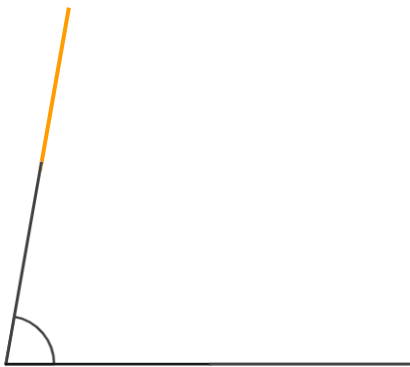
・ 次の角度をくふうしてはかりましょう。

①

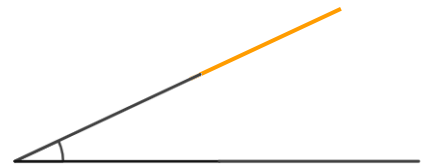


答え (58°)

②



③



答え (80°)

答え (25°)



角の大きさ 4

● 分度器で角度をはかる
(分度器より短い角)

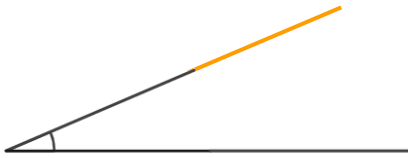


日にち： 月 日

名まえ _____

・ 次の角度をくふうしてはかりましょう。

①



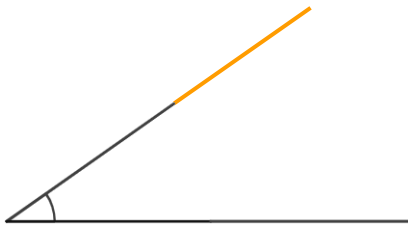
答え (23°)

②



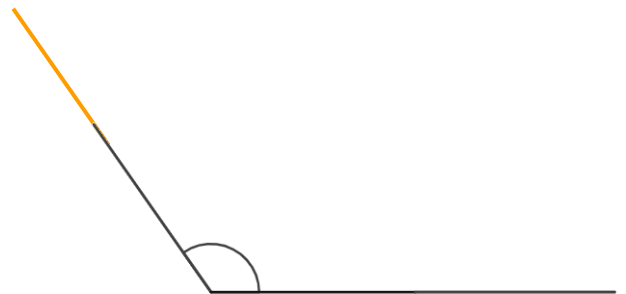
答え (90°)

③



答え (35°)

④



答え (125°)





角の大きさ 4

● 分度器で角度をはかる
(分度器より短い角)

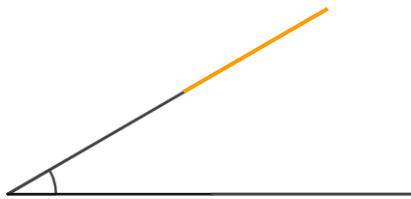


日にち： 月 日

名まえ _____

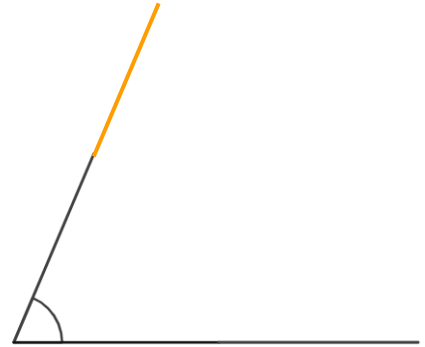
・ 次の角度をくふうしてはかりましょう。

①



答え (30°)

②



答え (67°)

③



答え (95°)

④



答え (103°)



角の大きさ 4

● 分度器で角度をはかる
(分度器より短い角)

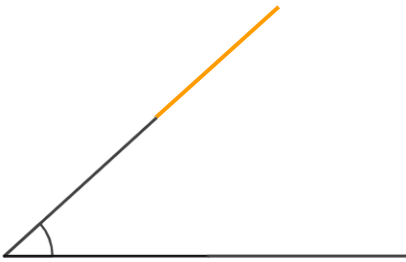
12

日にち： 月 日

名まえ _____

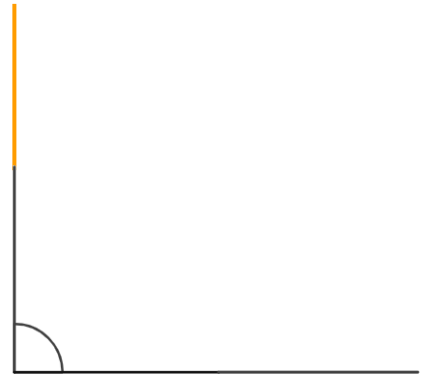
・ 次の角度をくふうしてはかりましょう。

①



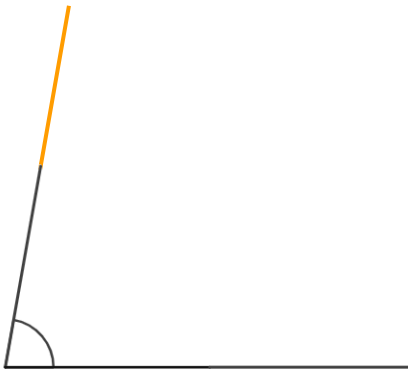
答え (42°)

②



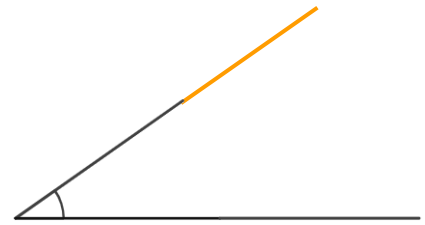
答え (90°)

③



答え (80°)

④



答え (35°)



角の大きさ 4

● 分度器で角度をはかる
(分度器より短い角)

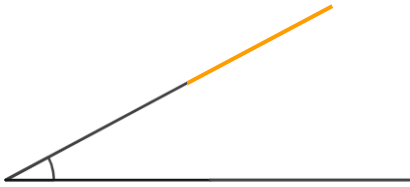


日にち： 月 日

名まえ _____

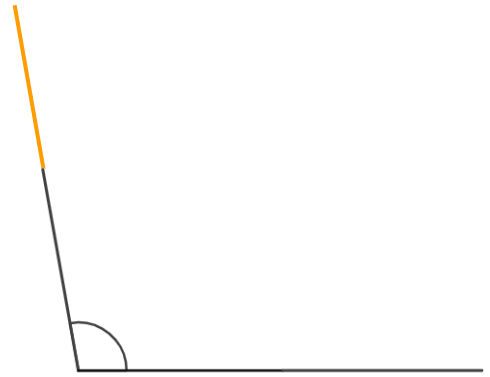
・ 次の角度をくふうしてはかりましょう。

①



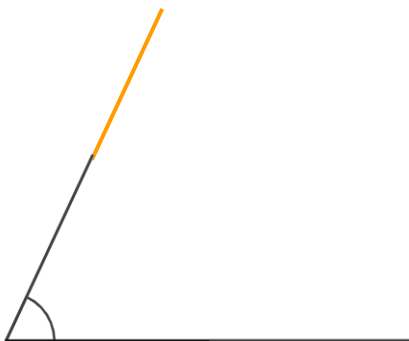
答え (28°)

②




答え (100°)

③



答え (65°)

④



答え (40°)



角の大きさ 4

● 分度器で角度をはかる
(分度器より短い角)

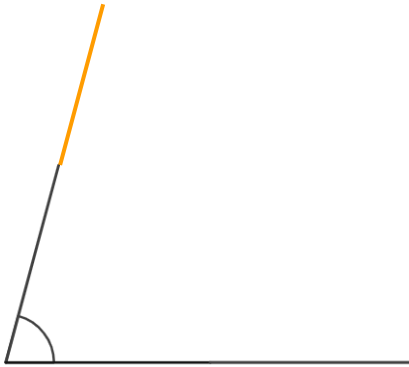
14

日にち： 月 日

名まえ _____

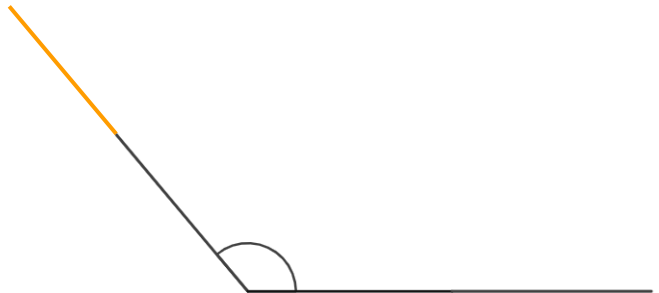
・ 次の角度をくふうしてはかりましょう。

①



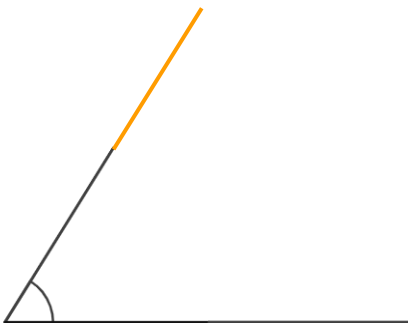
答え (75°)

②



答え (130°)

③



答え (58°)

④



答え (20°)



角の大きさ 4

● 分度器で角度をはかる
(分度器より短い角)

15

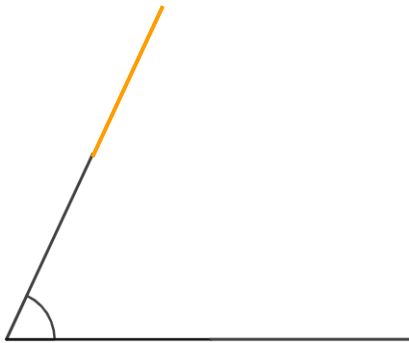
めざせ75点!



名まえ _____


・ 次の角度をくふうしてはかりましょう。(各25点)

①



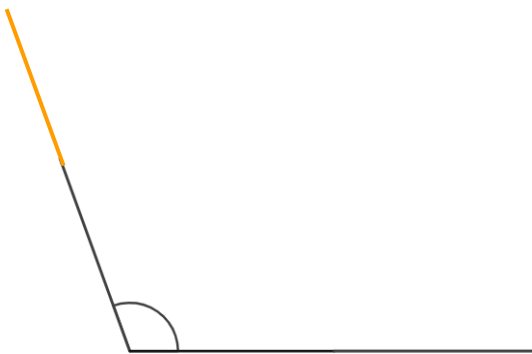
答え (65°)

②



答え (43°)

③



答え (110°)

④



答え (15°)



角の大きさ 4

● 分度器で角度をはかる
(分度器より短い角)

16

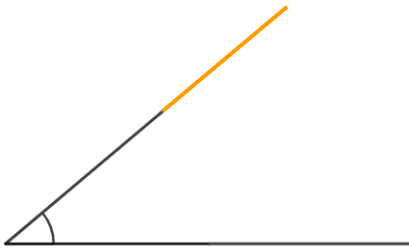
めざせ75点!



名まえ _____

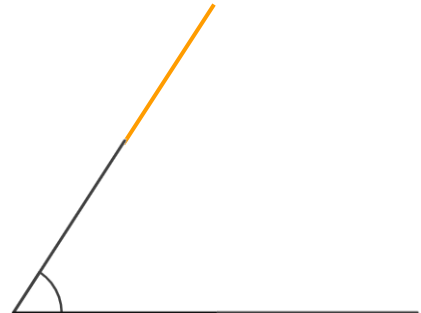
・ 次の角度をくふうしてはかりましょう。(各25点)

①



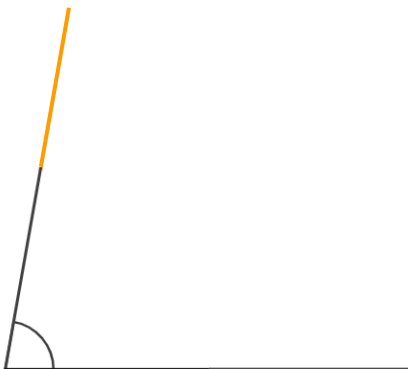
答え (40°)

②




答え (57°)

③



答え (80°)

④



答え (103°)

