



角の大きさ 5

◎ 直角・半回転・
1回転の角度

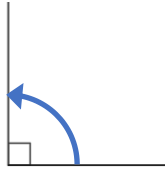


日にち： 月 日

名まえ _____

・ □ にあてはまる数をかきましょう。(うすい字はなぞりましょう。)

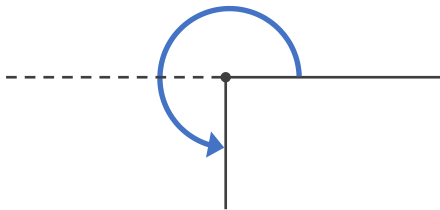
① 1 直角 = °



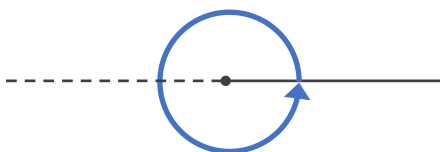
② 直角 = ° . . . 半回転の角度



③ 直角 = °



④ 直角 = ° . . . 1回転の角度





角の大きさ 5

◎ 直角・半回転・
1回転の角度

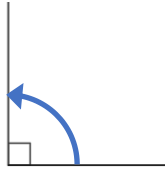


日にち： 月 日

名まえ _____

・ □ にあてはまる数をかきましょう。(うすい字はなぞりましょう。)

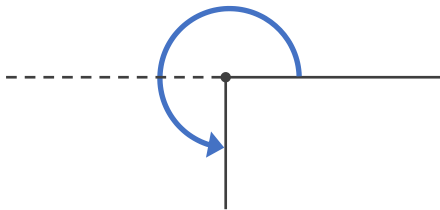
① 1 直角 = °



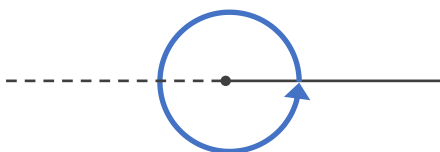
② 直角 = ° . . . 半回転の角度



③ 直角 = °



④ 直角 = ° . . . 1回転の角度





角の大きさ 5

◎ 直角・半回転・
1回転の角度

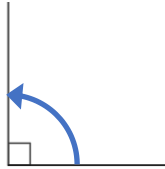


日にち： 月 日

名まえ _____

・ □ にあてはまる数をかきましょう。(うすい字はなぞりましょう。)

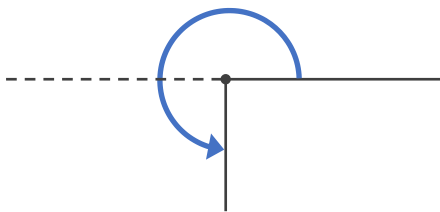
① 1 直角 = °



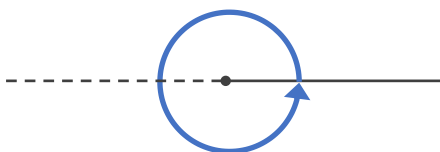
② 2 直角 = ° . . . 半回転の角度



③ 直角 = °



④ 直角 = ° . . . 1回転の角度





角の大きさ 5

◎ 直角・半回転・
1回転の角度

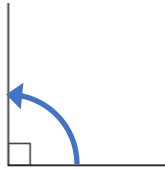


日にち： 月 日

名まえ _____

・ □ にあてはまる数をかきましょう。

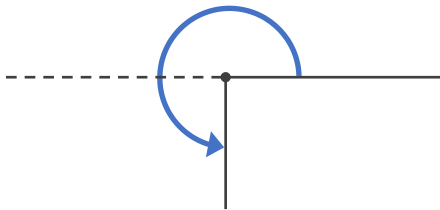
① 1 直角 = □ °



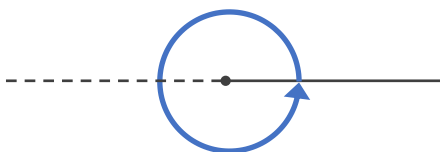
② □ 直角 = □ ° . . . 半回転の角度



③ □ 直角 = □ °



④ □ 直角 = □ ° . . . 1回転の角度





角の大きさ 5

◎ 直角・半回転・
1回転の角度

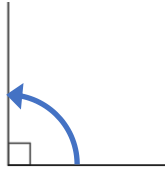


日にち： 月 日

名まえ _____

・ □ にあてはまる数をかきましょう。(うすい字はなぞりましょう。)

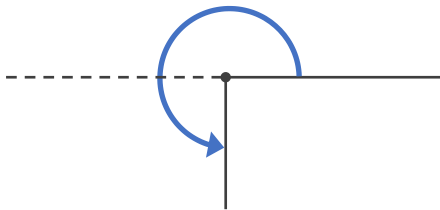
① 1 直角 = 90°



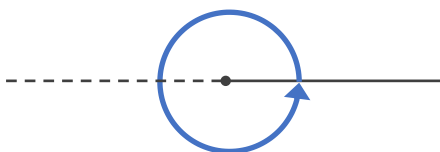
② 2 直角 = 180° . . . 半回転の角度



③ 3 直角 = 270°



④ 4 直角 = 360° . . . 1回転の角度





角の大きさ 5

◎ 直角・半回転・
1回転の角度

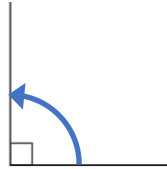


日にち： 月 日

名まえ _____

・ □ にあてはまる数をかきましょう。(うすい字はなぞりましょう。)

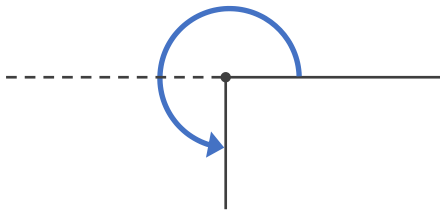
① 1 直角 = 90°



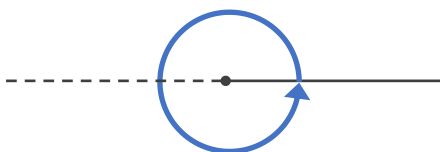
② 2 直角 = 180° . . . 半回転の角度



③ 3 直角 = 270°



④ 4 直角 = 360° . . . 1回転の角度





角の大きさ 5

◎ 直角・半回転・
1回転の角度

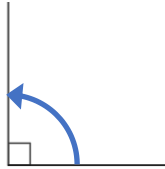


日にち： 月 日

名まえ _____

・ □ にあてはまる数をかきましょう。(うすい字はなぞりましょう。)

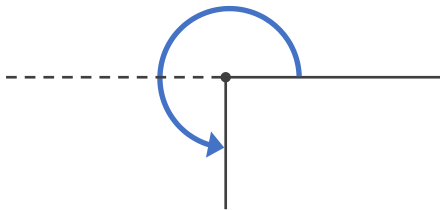
① 1 直角 = 90°



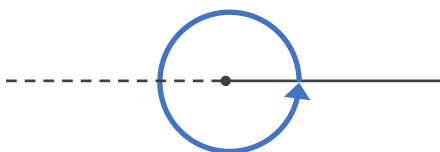
② 2 直角 = 180° . . . 半回転の角度



③ 3 直角 = 270°



④ 4 直角 = 360° . . . 1回転の角度





角の大きさ 5

◎ 直角・半回転・
1回転の角度

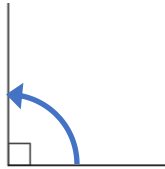
4

日にち： 月 日

名まえ _____

・ □ にあてはまる数をかきましょう。

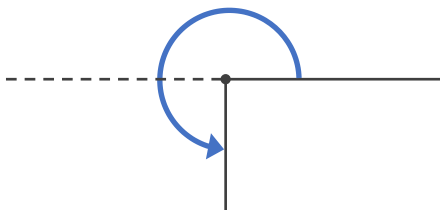
① 1 直角 = 90°



② 2 直角 = 180° . . . 半回転の角度



③ 3 直角 = 270°



④ 4 直角 = 360° . . . 1回転の角度

