



面積の はかり方と表し方 ①

● 広さくらべ

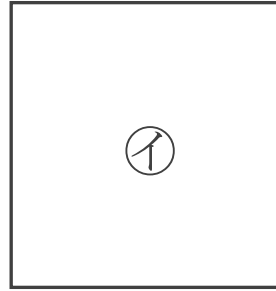



日にち： 月 日

名まえ _____

・どちらが広いかくらべましょう。(うすい字はなぞりましょう。)


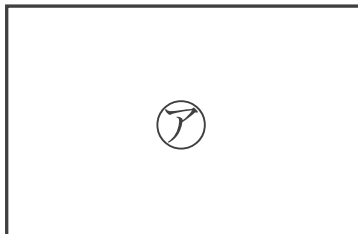
①



答え：



②



答え：





面積の
はかり方と表し方 ①

● 広さくらべ

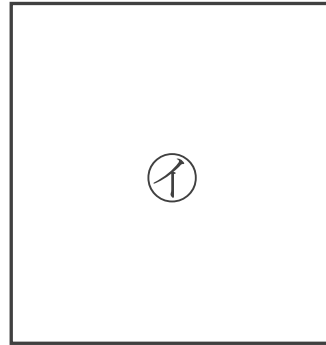
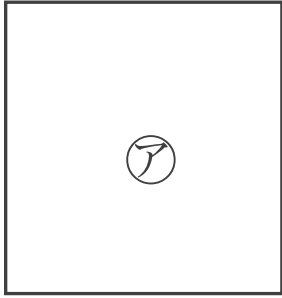


日にち： 月 日

名まえ _____

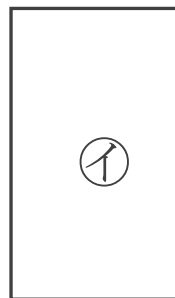
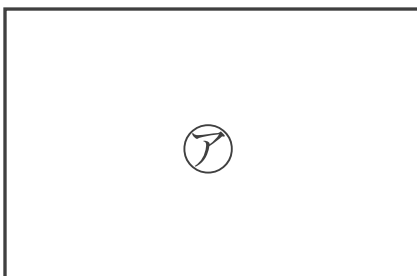
・どちらが広いかわらべましょう。

①



答え： _____

②



答え： _____





面積の
はかり方と表し方 |

3

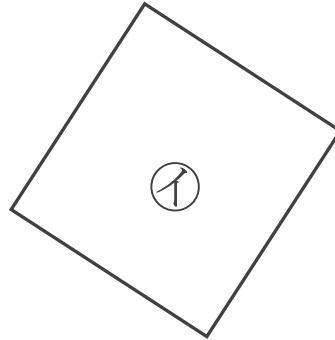
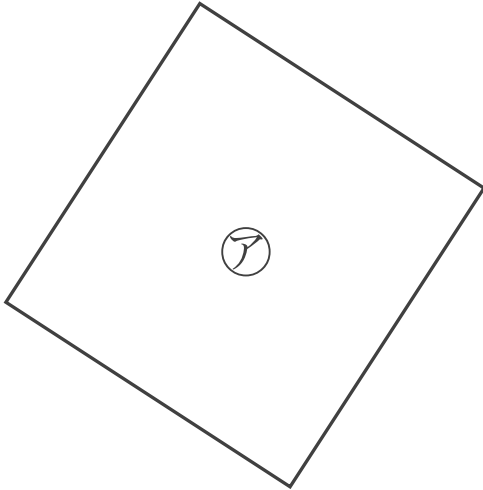
● 広さくらべ

日にち： 月 日

名まえ _____

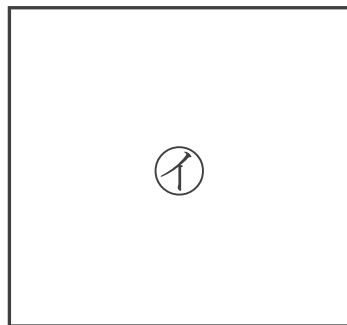
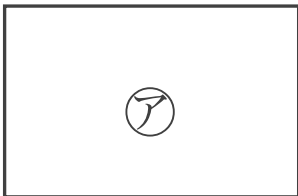
・どちらが広いかくらべましょう。

①



答え： _____

②



答え： _____

③ 確認



すらすらぷりんと



面積の
はかり方と表し方 ④

● 広さくらべ

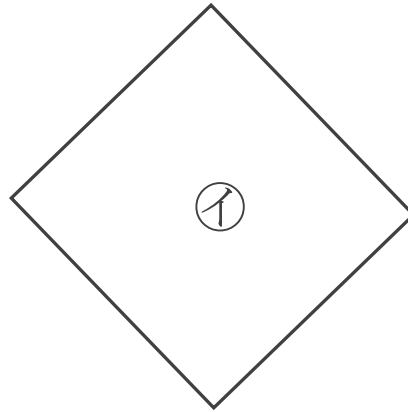
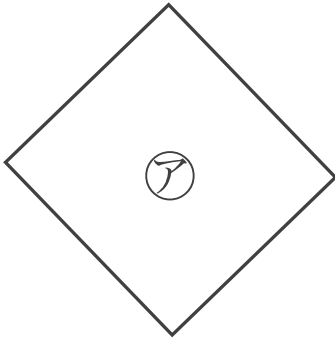


日にち： 月 日

名まえ _____

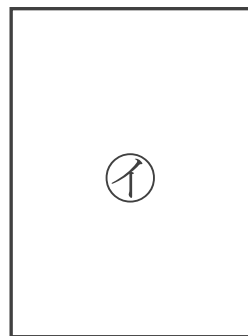
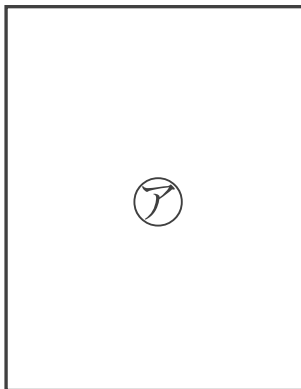
・どちらが広いかくらべましょう。

①



答え： _____

②



答え： _____





面積の はかり方と表し方

● 広さくらべ

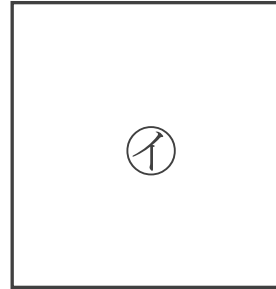



日にち： 月 日

名まえ _____


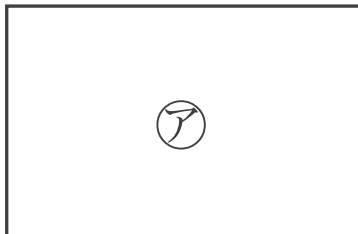
・どちらが広いかくらべましょう。(うすい字はなぞりましょう。)

①



答え： **ア**

②



答え： **イ**





面積の はかり方と表し方 ②

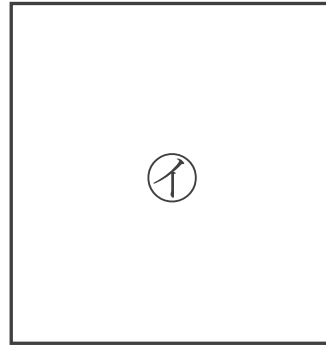
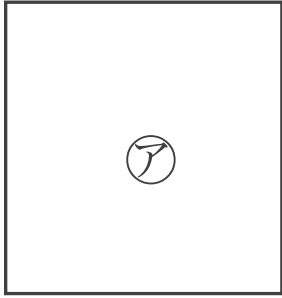
● 広さくらべ

日にち： 月 日

名まえ _____

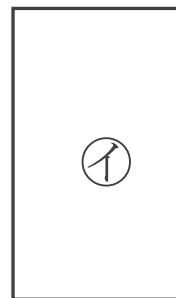
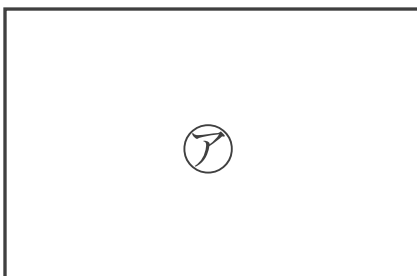
・どちらが広いかくらべましょう。

①



答え： イ

②



答え： ア





面積の
はかり方と表し方 ①

3

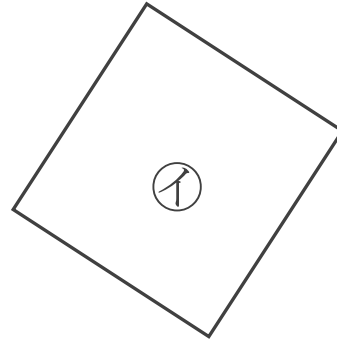
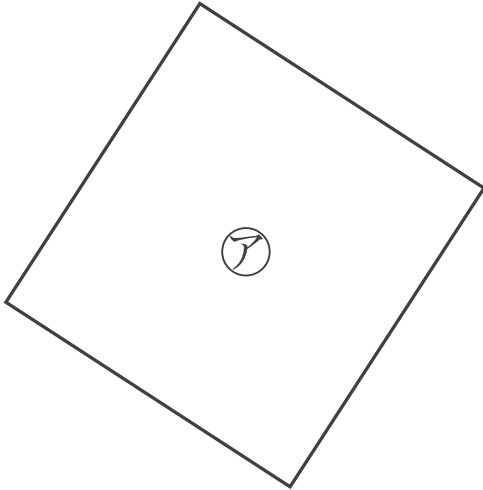
● 広さくらべ

日にち： 月 日

名まえ _____

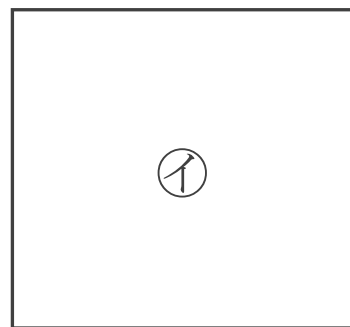
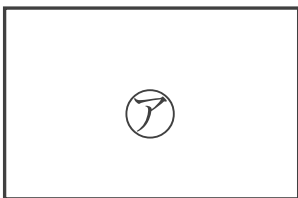
・どちらが広いかくらべましょう。

①



答え： ア

②



答え： イ

③ 確認 答え



すらすらぷりんと



面積の
はかり方と表し方 ④

● 広さくらべ

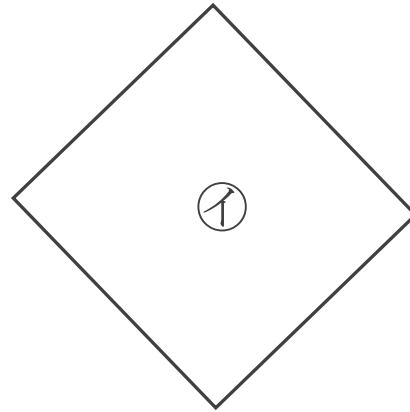
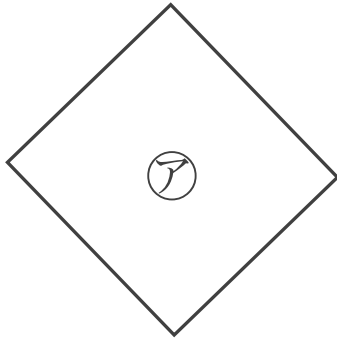


日にち： 月 日

名まえ _____

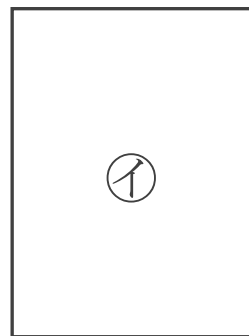
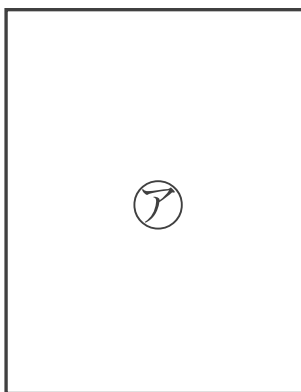
・どちらが広いかくらべましょう。

①



答え： イ

②



答え： ア

