



面積の  
はかり方と表し方 10

● 面積の単位変換

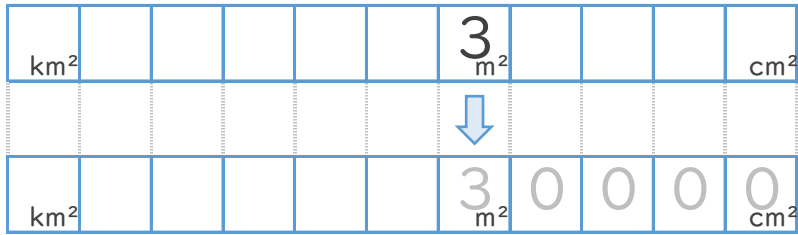


日にち：            月            日

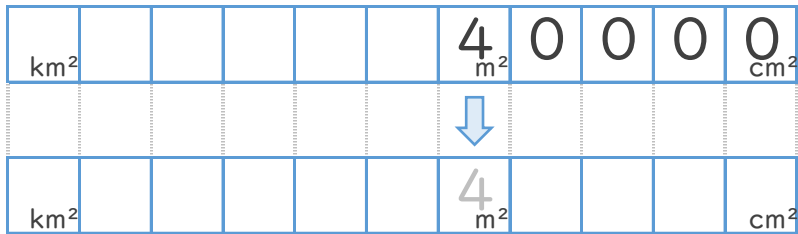
名まえ \_\_\_\_\_

・ 次の  にあてはまる数を答えなさい。(うすい字はなぞりましょう。)

①  $3 \text{ m}^2 =$    $\text{cm}^2$



②  $40000 \text{ cm}^2 =$    $\text{m}^2$





面積の  
はかり方と表し方 10



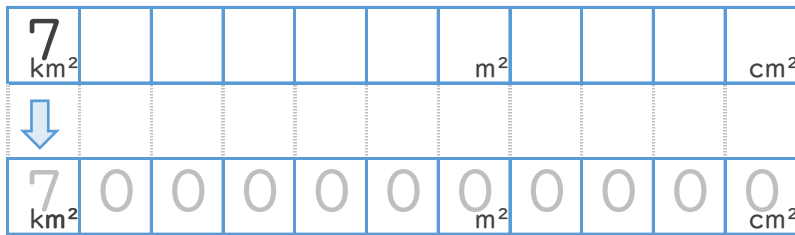
● 面積の単位変換

日にち：            月            日

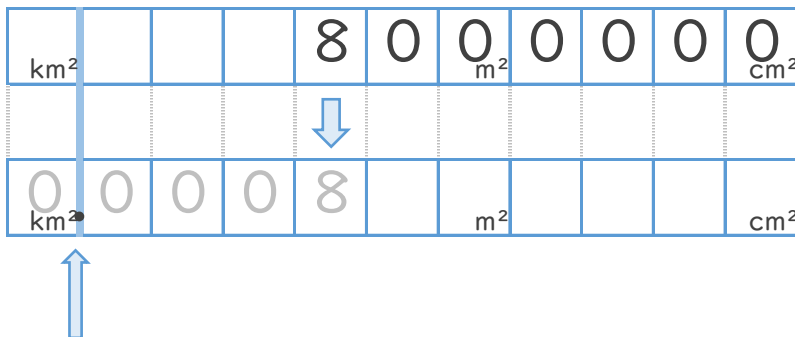
名まえ \_\_\_\_\_

・ 次の  にあてはまる数を答えなさい。(うすい字はなぞりましょう。)

①  $7 \text{ km}^2 =$    $\text{cm}^2$



②  $8000000 \text{ cm}^2 =$    $\text{km}^2$



求めたい単位の枠に小数点！



面積の  
はかり方と表し方 10

● 面積の単位変換



日にち：            月            日

名まえ \_\_\_\_\_

・ 次の  にあてはまる数を答えなさい。(うすい字はなぞりましょう。)

①  $60\text{m}^2 =$    $\text{cm}^2$

km <sup>2</sup>					6	0					cm <sup>2</sup>
km <sup>2</sup>											cm <sup>2</sup>

②  $5000000\text{cm}^2 =$    $\text{m}^2$

km <sup>2</sup>					5	0	0	0	0	0	0	cm <sup>2</sup>
km <sup>2</sup>												cm <sup>2</sup>



面積の  
はかり方と表し方 10

4

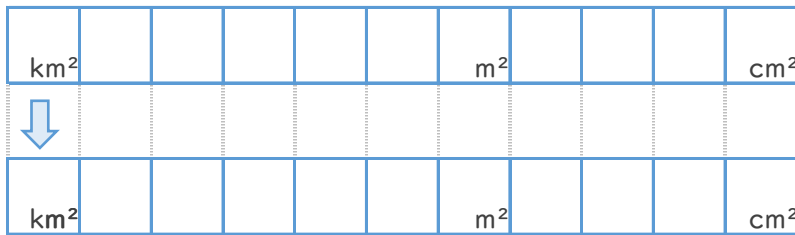
● 面積の単位変換

日にち：            月            日

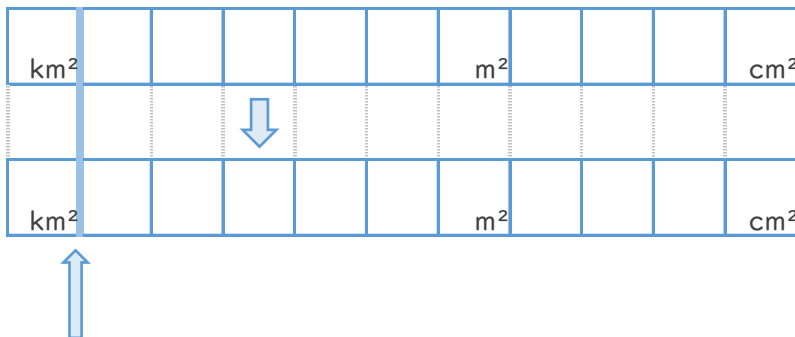
名まえ \_\_\_\_\_

・ 次の  にあてはまる数を答えなさい。

①  $2 \text{ km}^2 =$    $\text{ cm}^2$



②  $600000000 \text{ cm}^2 =$    $\text{ km}^2$



求めたい単位の枠に小数点！



面積の  
はかり方と表し方10

● 面積の単位変換



日にち：            月            日

名まえ \_\_\_\_\_

・ 次の  にあてはまる数を答えなさい。(うすい字はなぞりましょう。)

①  $4 \text{ m}^2 =$    $\text{cm}^2$

②  $6 \text{ km}^2 =$    $\text{cm}^2$

③  $90000 \text{ cm}^2 =$    $\text{m}^2$

④  $3000000 \text{ cm}^2 =$    $\text{km}^2$

⑤  $700000 \text{ cm}^2 =$    $\text{km}^2$

⑥  $200000 \text{ cm}^2 =$    $\text{m}^2$

⑦  $0.0002 \text{ km}^2 =$    $\text{cm}^2$





面積の  
はかり方と表し方10

● 面積の単位変換



日にち：            月            日

名まえ \_\_\_\_\_

・ 次の  にあてはまる数を答えなさい。(うすい字はなぞりましょう。)

①  $150000\text{cm}^2 =$    $\text{m}^2$

②  $9\text{km}^2 =$    $\text{cm}^2$

③  $5\text{m}^2 =$    $\text{cm}^2$

④  $600000\text{cm}^2 =$    $\text{km}^2$

⑤  $20000\text{cm}^2 =$    $\text{m}^2$

⑥  $0.004\text{km}^2 =$    $\text{cm}^2$

⑦  $30\text{m}^2 =$    $\text{cm}^2$





面積の  
はかり方と表し方10

● 面積の単位変換



日にち：            月            日

名まえ \_\_\_\_\_

・ 次の  にあてはまる数を答えなさい。

①  $2 \text{ m}^2 =$    $\text{cm}^2$

②  $8 \text{ km}^2 =$    $\text{cm}^2$

③  $10000 \text{ cm}^2 =$    $\text{m}^2$

④  $5000000 \text{ cm}^2 =$    $\text{km}^2$

⑤  $600000 \text{ cm}^2 =$    $\text{km}^2$

⑥  $300000 \text{ cm}^2 =$    $\text{m}^2$

⑦  $0.004 \text{ km}^2 =$    $\text{cm}^2$





面積の  
はかり方と表し方10

● 面積の単位変換



日にち：            月            日

名まえ \_\_\_\_\_

・ 次の  にあてはまる数を答えなさい。

①  $700000\text{cm}^2 =$    $\text{m}^2$

②  $1\text{km}^2 =$    $\text{cm}^2$

③  $7\text{m}^2 =$    $\text{cm}^2$

④  $300000\text{cm}^2 =$    $\text{km}^2$

⑤  $80000\text{cm}^2 =$    $\text{m}^2$

⑥  $0.005\text{km}^2 =$    $\text{cm}^2$

⑦  $15\text{m}^2 =$    $\text{cm}^2$







面積の  
はかり方と表し方10

● 面積の単位変換



日にち：            月            日

名まえ \_\_\_\_\_

・ 次の  にあてはまる数を答えなさい。

①  $8 \text{ m}^2 =$    $\text{cm}^2$

②  $4 \text{ km}^2 =$    $\text{cm}^2$

③  $60000 \text{ cm}^2 =$    $\text{m}^2$

④  $1500000 \text{ cm}^2 =$    $\text{km}^2$

⑤  $700000 \text{ cm}^2 =$    $\text{km}^2$

⑥  $3000000 \text{ cm}^2 =$    $\text{m}^2$

⑦  $0.02 \text{ km}^2 =$    $\text{cm}^2$



面積の  
はかり方と表し方10

● 面積の単位変換



日にち：            月            日

名まえ \_\_\_\_\_

1 次の  にあてはまる数を答えなさい。

①  $9000\text{cm}^2 =$    $\text{m}^2$

②  $40000\text{cm}^2 =$    $\text{km}^2$

③  $20\text{m}^2 =$    $\text{cm}^2$

④  $0.0005\text{km}^2 =$    $\text{cm}^2$

2 たて10km、横5kmのうめたて地の面積は、何 $\text{km}^2$ でしょう。

式：

答え： \_\_\_\_\_



面積の  
はかり方と表し方 10

● 面積の単位変換



日にち：            月            日

名まえ \_\_\_\_\_

1 次の  にあてはまる数を答えなさい。

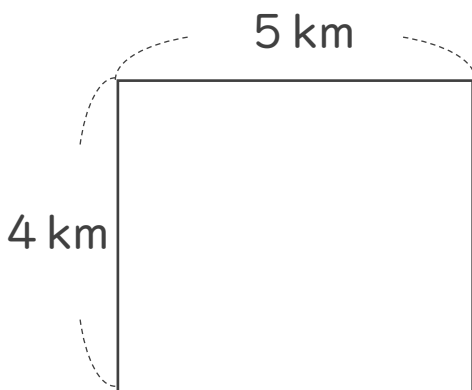
①  $500000\text{cm}^2 =$    $\text{m}^2$

②  $200\text{m}^2 =$    $\text{cm}^2$

③  $0.007\text{km}^2 =$    $\text{cm}^2$

④  $600000000000\text{cm}^2 =$    $\text{km}^2$

2 次の図形の面積を求めましょう。



式：

答え： \_\_\_\_\_



面積の  
はかり方と表し方10

● 面積の単位変換

12

日にち：            月            日

名まえ \_\_\_\_\_

1 次の  にあてはまる数を答えなさい。

①  $7000\text{cm}^2 =$    $\text{m}^2$

②  $20000\text{cm}^2 =$    $\text{km}^2$

③  $60\text{m}^2 =$    $\text{cm}^2$

④  $0.00008\text{km}^2 =$    $\text{cm}^2$

2 たて6 km、横3kmの土地の面積は、何 $\text{km}^2$ でしょう。

式：

答え： \_\_\_\_\_



面積の  
はかり方と表し方10

13

● 面積の単位変換

日にち：            月            日

名まえ \_\_\_\_\_

1 次の  にあてはまる数を答えなさい。

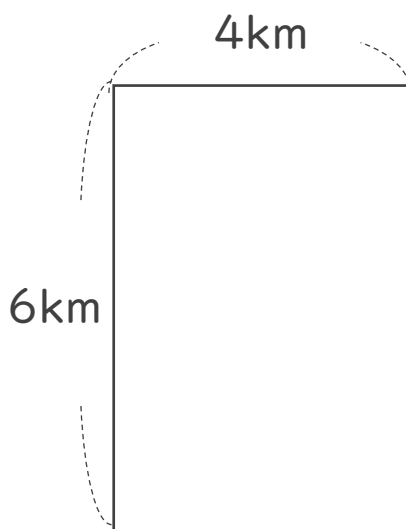
①  $900000\text{cm}^2 =$    $\text{m}^2$

②  $15\text{m}^2 =$    $\text{cm}^2$

③  $0.0005\text{km}^2 =$    $\text{cm}^2$

④  $700000000000\text{cm}^2 =$    $\text{km}^2$

2 次の図形の面積を求めましょう。



式：

答え： \_\_\_\_\_



面積の  
はかり方と表し方10

● 面積の単位変換

14

日にち：            月            日

名まえ \_\_\_\_\_

1 次の  にあてはまる数を答えなさい。

①  $800\text{cm}^2 =$    $\text{m}^2$

②  $60000\text{cm}^2 =$    $\text{km}^2$

③  $50\text{m}^2 =$    $\text{cm}^2$

④  $0.0007\text{km}^2 =$    $\text{cm}^2$

2 たて9km、横7kmの埋め立て地の面積は、何 $\text{km}^2$ でしょう。

式：

答え： \_\_\_\_\_




面積の  
はかり方と表し方 10

15

● 面積の単位変換

目指せ80点!



名まえ \_\_\_\_\_

1 次の  にあてはまる数を答えなさい。(各20点)

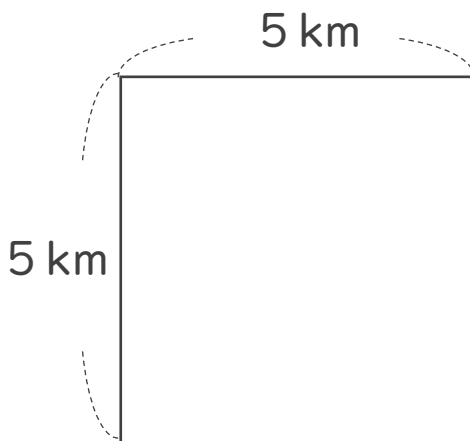
①  $100000\text{cm}^2 =$    $\text{m}^2$

②  $200\text{m}^2 =$    $\text{cm}^2$

③  $0.007\text{km}^2 =$    $\text{cm}^2$

④  $400000000000\text{cm}^2 =$    $\text{km}^2$

2 次の図形の面積を求めましょう。(20点)



式：

答え： \_\_\_\_\_




面積の  
はかり方と表し方10

● 面積の単位変換

16

目指せ80点!



名まえ

---

1 次の  にあてはまる数を答えなさい。

(各20点)

①  $70000\text{cm}^2 =$    $\text{km}^2$

②  $12\text{m}^2 =$    $\text{cm}^2$

③  $0.0005\text{km}^2 =$    $\text{cm}^2$

④  $600\text{cm}^2 =$    $\text{m}^2$

2 たて10km、横3kmの埋め立て地の面積は、何 $\text{km}^2$ でしょう。(20点)

式：

答え：

---





面積の  
はかり方と表し方 10

● 面積の単位変換

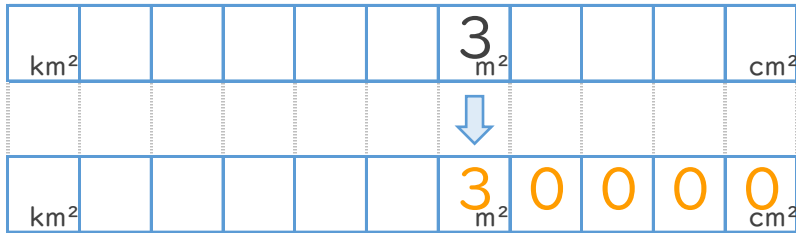


日にち：            月            日

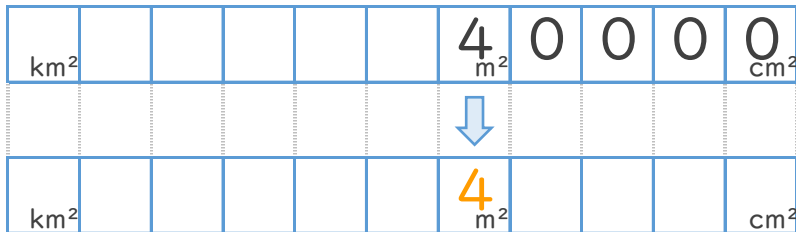
名まえ \_\_\_\_\_

・ 次の  にあてはまる数を答えなさい。(うすい字はなぞりましょう。)

①  $3 \text{ m}^2 =$    $\text{ cm}^2$



②  $40000 \text{ cm}^2 =$    $\text{ m}^2$





面積の  
はかり方と表し方 10

2

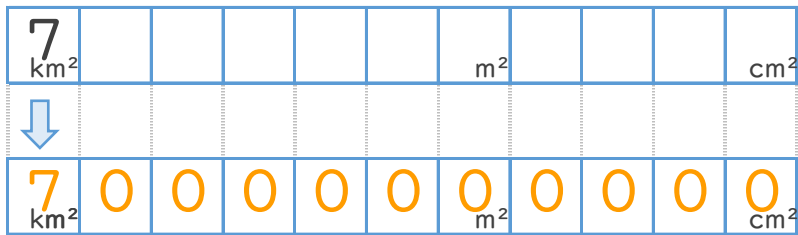
● 面積の単位変換

日にち：            月            日

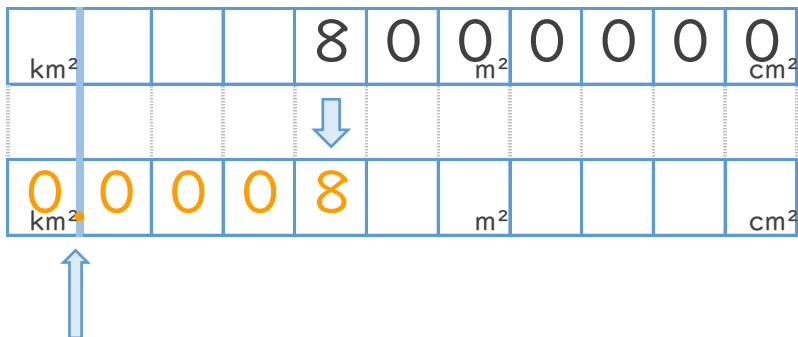
名まえ \_\_\_\_\_

・ 次の  にあてはまる数を答えなさい。(うすい字はなぞりましょう。)

①  $7 \text{ km}^2 =$    $\text{ cm}^2$



②  $8000000 \text{ cm}^2 =$    $\text{ km}^2$



求めたい単位の枠に小数点！



面積の  
はかり方と表し方 10

● 面積の単位変換

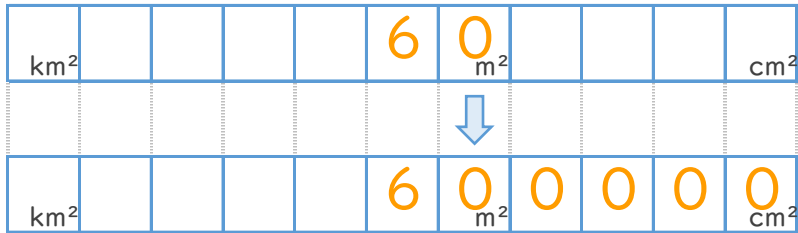


日にち：            月            日

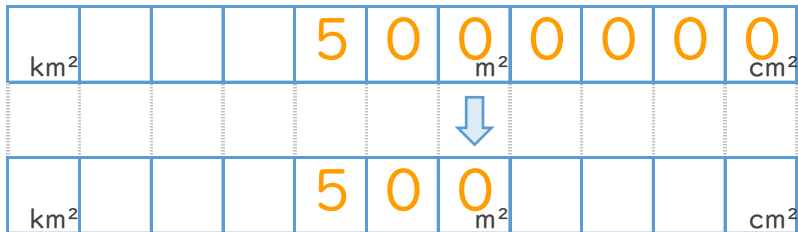
名まえ \_\_\_\_\_

・ 次の  にあてはまる数を答えなさい。(うすい字はなぞりましょう。)

①  $60\text{m}^2 =$    $\text{cm}^2$



②  $5000000\text{cm}^2 =$    $\text{m}^2$





面積の  
はかり方と表し方 10

4

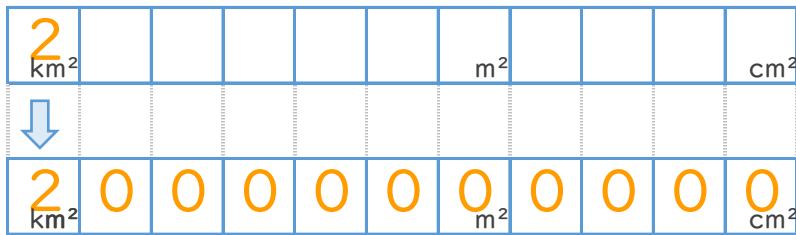
● 面積の単位変換

日にち：            月            日

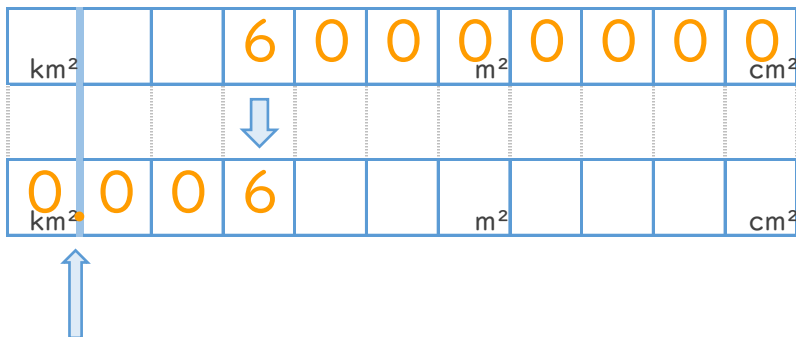
名まえ \_\_\_\_\_

・ 次の  にあてはまる数を答えなさい。(うすい字はなぞりましょう。)

①  $2 \text{ km}^2 =$    $\text{cm}^2$



②  $600000000 \text{ cm}^2 =$    $\text{km}^2$



求めたい単位の枠に小数点！



面積の  
はかり方と表し方 10

● 面積の単位変換



日にち：            月            日

名まえ \_\_\_\_\_

・ 次の  にあてはまる数を答えなさい。(うすい字はなぞりましょう。)

①  $4 \text{ m}^2 =$    $\text{ cm}^2$

②  $6 \text{ km}^2 =$    $\text{ cm}^2$

③  $90000 \text{ cm}^2 =$    $\text{ m}^2$

④  $3000000 \text{ cm}^2 =$    $\text{ km}^2$

⑤  $700000 \text{ cm}^2 =$    $\text{ km}^2$

⑥  $200000 \text{ cm}^2 =$    $\text{ m}^2$

⑦  $0.0002 \text{ km}^2 =$    $\text{ cm}^2$





面積の  
はかり方と表し方10

● 面積の単位変換



日にち：            月            日

名まえ \_\_\_\_\_

・ 次の  にあてはまる数を答えなさい。(うすい字はなぞりましょう。)

①  $150000\text{cm}^2 =$    $\text{m}^2$

②  $9\text{km}^2 =$    $\text{cm}^2$

③  $5\text{m}^2 =$    $\text{cm}^2$

④  $600000\text{cm}^2 =$    $\text{km}^2$

⑤  $20000\text{cm}^2 =$    $\text{m}^2$

⑥  $0.004\text{km}^2 =$    $\text{cm}^2$

⑦  $30\text{m}^2 =$    $\text{cm}^2$





面積の  
はかり方と表し方10

● 面積の単位変換

7

日にち：            月            日

名まえ \_\_\_\_\_

・ 次の  にあてはまる数を答えなさい。

①  $2 \text{ m}^2 =$    $\text{cm}^2$

②  $8 \text{ km}^2 =$    $\text{cm}^2$

③  $10000 \text{ cm}^2 =$    $\text{m}^2$

④  $5000000 \text{ cm}^2 =$    $\text{km}^2$

⑤  $600000 \text{ cm}^2 =$    $\text{km}^2$

⑥  $300000 \text{ cm}^2 =$    $\text{m}^2$

⑦  $0.004 \text{ km}^2 =$    $\text{cm}^2$



面積の  
はかり方と表し方 10

● 面積の単位変換



日にち：            月            日

名まえ \_\_\_\_\_

・ 次の  にあてはまる数を答えなさい。

①  $700000\text{cm}^2 =$    $\text{m}^2$

②  $1\text{km}^2 =$    $\text{cm}^2$

③  $7\text{m}^2 =$    $\text{cm}^2$

④  $300000\text{cm}^2 =$    $\text{km}^2$

⑤  $80000\text{cm}^2 =$    $\text{m}^2$

⑥  $0.005\text{km}^2 =$    $\text{cm}^2$

⑦  $15\text{m}^2 =$    $\text{cm}^2$







面積の  
はかり方と表し方 10

● 面積の単位変換



日にち：            月            日

名まえ \_\_\_\_\_

・ 次の  にあてはまる数を答えなさい。

①  $8 \text{ m}^2 =$    $\text{cm}^2$

②  $4 \text{ km}^2 =$    $\text{cm}^2$

③  $60000 \text{ cm}^2 =$    $\text{m}^2$

④  $1500000 \text{ cm}^2 =$    $\text{km}^2$

⑤  $700000 \text{ cm}^2 =$    $\text{km}^2$

⑥  $3000000 \text{ cm}^2 =$    $\text{m}^2$

⑦  $0.02 \text{ km}^2 =$    $\text{cm}^2$





面積の  
はかり方と表し方10

● 面積の単位変換



日にち：            月            日

名まえ \_\_\_\_\_

1 次の  にあてはまる数を答えなさい。

①  $9000\text{cm}^2 =$    $\text{m}^2$

②  $40000\text{cm}^2 =$    $\text{km}^2$

③  $20\text{m}^2 =$    $\text{cm}^2$

④  $0.0005\text{km}^2 =$    $\text{cm}^2$

2 たて10km、横5kmのうめたて地の面積は、何 $\text{km}^2$ でしょう。

式： $10 \times 5 = 50$

答え：50  $\text{km}^2$



面積の  
はかり方と表し方10

● 面積の単位変換



日にち：            月            日

名まえ \_\_\_\_\_

1 次の  にあてはまる数を答えなさい。

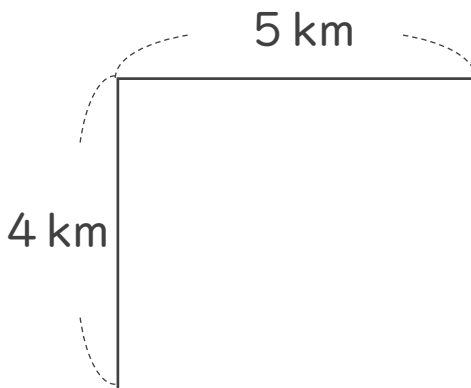
①  $500000\text{cm}^2 =$    $\text{m}^2$

②  $200\text{m}^2 =$    $\text{cm}^2$

③  $0.007\text{km}^2 =$    $\text{cm}^2$

④  $600000000000\text{cm}^2 =$    $\text{km}^2$

2 次の図形の面積を求めましょう。



式：  $4 \times 5 = 20$

答え： 20  $\text{km}^2$



面積の  
はかり方と表し方10

● 面積の単位変換

12

日にち：            月            日

名まえ \_\_\_\_\_

1 次の  にあてはまる数を答えなさい。

①  $7000\text{cm}^2 =$    $\text{m}^2$

②  $20000\text{cm}^2 =$    $\text{km}^2$

③  $60\text{m}^2 =$    $\text{cm}^2$

④  $0.00008\text{km}^2 =$    $\text{cm}^2$

2 たて6km、横3kmの土地の面積は、何 $\text{km}^2$ でしょう。

式： $6 \times 3 = 18$

答え：18  $\text{km}^2$



面積の  
はかり方と表し方10

● 面積の単位変換

13

日にち：      月      日

名まえ \_\_\_\_\_

1 次の  にあてはまる数を答えなさい。

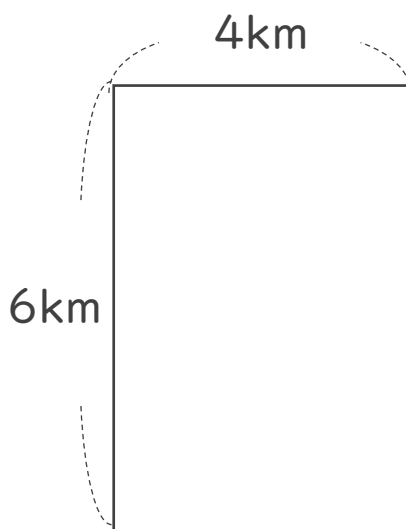
①  $900000\text{cm}^2 =$    $\text{m}^2$

②  $15\text{m}^2 =$    $\text{cm}^2$

③  $0.0005\text{km}^2 =$    $\text{cm}^2$

④  $700000000000\text{cm}^2 =$    $\text{km}^2$

2 次の図形の面積を求めましょう。



式： $6 \times 4 = 24$

答え：24  $\text{km}^2$



面積の  
はかり方と表し方10

● 面積の単位変換

14

日にち：            月            日

名まえ \_\_\_\_\_

1 次の  にあてはまる数を答えなさい。

①  $800\text{cm}^2 =$    $\text{m}^2$

②  $60000\text{cm}^2 =$    $\text{km}^2$

③  $50\text{m}^2 =$    $\text{cm}^2$

④  $0.0007\text{km}^2 =$    $\text{cm}^2$

2 たて9km、横7kmの埋め立て地の面積は、何 $\text{km}^2$ でしょう。

式： $9 \times 7 = 63$

答え：63  $\text{km}^2$



面積の  
はかり方と表し方 10

15

● 面積の単位変換

目指せ80点!



名まえ \_\_\_\_\_

1 次の  にあてはまる数を答えなさい。(各20点)

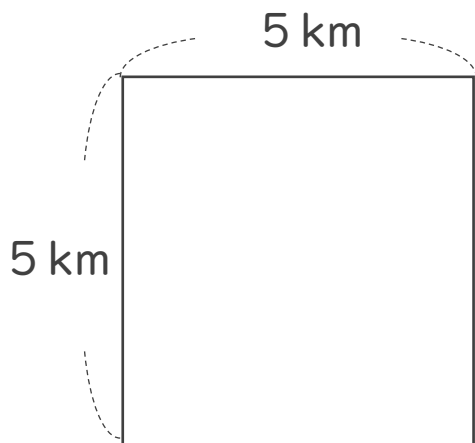
①  $100000\text{cm}^2 =$    $\text{m}^2$

②  $200\text{m}^2 =$    $\text{cm}^2$

③  $0.007\text{km}^2 =$    $\text{cm}^2$

④  $400000000000\text{cm}^2 =$    $\text{km}^2$

2 次の図形の面積を求めましょう。(20点)



式： $5 \times 5 = 25$

答え：25  $\text{km}^2$




面積の  
はかり方と表し方10

● 面積の単位変換

16

目指せ80点!



名まえ \_\_\_\_\_

1 次の  にあてはまる数を答えなさい。

(各20点)

①  $70000\text{cm}^2 =$    $\text{km}^2$

②  $12\text{m}^2 =$    $\text{cm}^2$

③  $0.0005\text{km}^2 =$    $\text{cm}^2$

④  $600\text{cm}^2 =$    $\text{m}^2$

2 たて10km、横3kmの埋め立て地の面積は、何 $\text{km}^2$ でしょう。(20点)

式： $10 \times 3 = 30$

答え：30  $\text{km}^2$