



面積の
はかり方と表し方

いろいろな面積の単位



日にち： 月 日

名まえ _____

1 にあてはまる面積の単位を書きましょう。

(うすい字はなぞりましょう。)

① 1辺が10mの正方形の面積 … | = 100m²

② 1辺が100mの正方形の面積 … | = 10000m²

2 次の にあてはまる数を答えなさい。

① 2 a = m²

km ²	ha	2 a	m ²				cm ²
		↓					
km ²	ha	2 a	0 m ²	0 m ²			cm ²

② 40000 m² = a

km ²	4 ha	0 a	0 a	0 m ²			cm ²
	↓						
km ²	4 ha	0 a	0 a	m ²			cm ²





面積の
はかり方と表し方 11

● いろいろな面積の単位



日にち： 月 日

名まえ _____

1 にあてはまる面積の単位を書きましょう。

(うすい字はなぞりましょう。)

① 1辺が100mの正方形の面積 … | = 10000m²

② 1辺が10mの正方形の面積 … | = 100m²

2 次の にあてはまる数を答えなさい。

① 5 ha = m²

km ²	<input type="text" value="5"/>	ha	<input type="text"/>	a	<input type="text"/>	m ²	<input type="text"/>	<input type="text"/>	<input type="text"/>	cm ²
		↓								
km ²	<input type="text" value="5"/>	ha	<input type="text" value="0"/>	<input type="text" value="0"/>	<input type="text" value="0"/>	<input type="text" value="0"/>	<input type="text"/>	<input type="text"/>	<input type="text"/>	cm ²

② 60000 m² = ha

km ²	<input type="text" value="6"/>	ha	<input type="text" value="0"/>	<input type="text" value="0"/>	<input type="text" value="0"/>	<input type="text" value="0"/>	<input type="text"/>	<input type="text"/>	<input type="text"/>	cm ²
		↓								
km ²	<input type="text"/>	ha	<input type="text"/>	<input type="text"/>	<input type="text"/>	<input type="text"/>	<input type="text"/>	<input type="text"/>	<input type="text"/>	cm ²



面積の
はかり方と表し方 11

いろいろな面積の単位



日にち： 月 日

名まえ _____

1 にあてはまる面積の単位を書きましょう。

① 1辺が10mの正方形の面積 ... | = 100m²

② 1辺が100mの正方形の面積 ... | = 10000m²

2 次の にあてはまる数を答えなさい。
(うすい字はなぞりましょう。)

① 5 a = m²

km ²	ha	5 a	m ²				cm ²
		↓					
km ²	ha	a	m ²				cm ²

② 1000 m² = a

km ²	ha	1 0 0 0 a	m ²				cm ²
		↓					
km ²	ha	a	m ²				cm ²





面積の
はかり方と表し方

いろいろな面積の単位



日にち： 月 日

名まえ _____

1 にあてはまる面積の単位を書きましょう。

① 1辺が10mの正方形の面積 … | = 100m²

② 1辺が100mの正方形の面積 … | = 10000m²

2 次の にあてはまる数を答えなさい。
(うすい字はなぞりましょう。)

① 80ha m²

km ²	8	0		a		m ²				cm ²
		↓								
km ²		ha		a		m ²				cm ²

② 40000 m² = ha

km ²		ha		a		m ²				cm ²
		↓								
km ²		ha		a		m ²				cm ²





面積の
はかり方と表し方 Ⅱ

◎ いろいろな面積の単位



日にち： 月 日

名まえ _____

・ 次の にあてはまる数を答えなさい。(うすい字はなぞりましょう。)

① $50000 \text{ m}^2 =$ ha

② $25 \text{ a} =$ m^2

③ $3 \text{ ha} =$ m^2

④ $3000 \text{ m}^2 =$ a

⑤ $400000 \text{ m}^2 =$ ha

⑥ $700 \text{ m}^2 =$ a

⑦ $40 \text{ ha} =$ m^2





面積の
はかり方と表し方 ⑥

いろいろな面積の単位



日にち： 月 日

名まえ _____

・ 次の にあてはまる数を答えなさい。(うすい字はなぞりましょう。)

① $2000 \text{ m}^2 = \text{ } \text{ a}$

② $15 \text{ a} = \text{ } \text{ m}^2$

③ $80000 \text{ m}^2 = \text{ } \text{ ha}$

④ $2 \text{ ha} = \text{ } \text{ m}^2$

⑤ $800000 \text{ m}^2 = \text{ } \text{ ha}$

⑥ $6 \text{ a} = \text{ } \text{ m}^2$

⑦ $17 \text{ ha} = \text{ } \text{ m}^2$





面積の
はかり方と表し方 11

いろいろな面積の単位



日にち： 月 日

名まえ _____

・ 次の にあてはまる数を答えなさい。

① $70000 \text{ m}^2 =$ ha

② $40 \text{ a} =$ m^2

③ $8 \text{ ha} =$ m^2

④ $6000 \text{ m}^2 =$ a

⑤ $9 \text{ a} =$ m^2

⑥ $600 \text{ m}^2 =$ a

⑦ $20 \text{ ha} =$ m^2





面積の
はかり方と表し方 ⑧

いろいろな面積の単位



日にち： 月 日

名まえ _____

・ 次の にあてはまる数を答えなさい。

① $2500 \text{ m}^2 = \text{ a}$

② $100 \text{ a} = \text{ m}^2$

③ $20000 \text{ m}^2 = \text{ ha}$

④ $5 \text{ ha} = \text{ m}^2$

⑤ $600000 \text{ m}^2 = \text{ ha}$

⑥ $8 \text{ a} = \text{ m}^2$

⑦ $22 \text{ ha} = \text{ m}^2$





面積の
はかり方と表し方 ⑨

いろいろな面積の単位



日にち： 月 日

名まえ _____

・ 次の にあてはまる数を答えなさい。

① $60 \text{ a} = \text{ } \text{ m}^2$

② $50000 \text{ m}^2 = \text{ } \text{ ha}$

③ $9 \text{ ha} = \text{ } \text{ m}^2$

④ $1000 \text{ m}^2 = \text{ } \text{ a}$

⑤ $8 \text{ a} = \text{ } \text{ m}^2$

⑥ $700000 \text{ m}^2 = \text{ } \text{ ha}$

⑦ $200 \text{ m}^2 = \text{ } \text{ a}$





面積の
はかり方と表し方

いろいろな面積の単位



日にち： 月 日

名まえ _____

・ 次の にあてはまる数を答えなさい。

① $17 \text{ a} = \text{ } \text{ m}^2$

② $90000 \text{ m}^2 = \text{ } \text{ ha}$

③ $2200 \text{ m}^2 = \text{ } \text{ a}$

④ $21 \text{ ha} = \text{ } \text{ m}^2$

⑤ $4 \text{ m}^2 = \text{ } \text{ cm}^2$

⑥ $6 \text{ km}^2 = \text{ } \text{ cm}^2$

⑦ $90000 \text{ cm}^2 = \text{ } \text{ m}^2$





面積の
はかり方と表し方

いろいろな面積の単位



日にち： 月 日

名まえ _____

・ 次の にあてはまる数を答えなさい。

① $6 \text{ a} = \text{ } \text{ m}^2$

② $80000 \text{ cm}^2 = \text{ } \text{ m}^2$

③ $1000 \text{ m}^2 = \text{ } \text{ a}$

④ $55 \text{ ha} = \text{ } \text{ m}^2$

⑤ $700000 \text{ cm}^2 = \text{ } \text{ km}^2$

⑥ $500000 \text{ cm}^2 = \text{ } \text{ m}^2$

⑦ $20000 \text{ m}^2 = \text{ } \text{ ha}$





面積の
はかり方と表し方

いろいろな面積の単位

12

日にち： 月 日

名まえ _____

・ 次の にあてはまる数を答えなさい。

① $40\text{ha} = \text{ } \text{m}^2$

② $60000\text{cm}^2 = \text{ } \text{m}^2$

③ $9\text{km}^2 = \text{ } \text{cm}^2$

④ $5\text{a} = \text{ } \text{m}^2$

⑤ $2000000\text{cm}^2 = \text{ } \text{km}^2$

⑥ $4000\text{m}^2 = \text{ } \text{a}$

⑦ $70000\text{m}^2 = \text{ } \text{ha}$



面積の
はかり方と表し方

13

いろいろな面積の単位

日にち： 月 日

名まえ _____

・ 次の にあてはまる数を答えなさい。

① $30 \text{ a} = \text{ } \text{ m}^2$

② $50000 \text{ m}^2 = \text{ } \text{ ha}$

③ $1700 \text{ m}^2 = \text{ } \text{ a}$

④ $5 \text{ m}^2 = \text{ } \text{ cm}^2$

⑤ $40 \text{ ha} = \text{ } \text{ m}^2$

⑥ $7 \text{ km}^2 = \text{ } \text{ cm}^2$

⑦ $10000 \text{ cm}^2 = \text{ } \text{ m}^2$



面積の
はかり方と表し方 11

いろいろな面積の単位



日にち： 月 日

名まえ _____

・ 次の にあてはまる数を答えなさい。

① $9 \text{ a} = \text{ } \text{ m}^2$

② $0.0002 \text{ km}^2 = \text{ } \text{ cm}^2$

③ $4000 \text{ m}^2 = \text{ } \text{ a}$

④ $70 \text{ ha} = \text{ } \text{ m}^2$

⑤ $300000 \text{ cm}^2 = \text{ } \text{ km}^2$

⑥ $2000000 \text{ cm}^2 = \text{ } \text{ km}^2$

⑦ $60000 \text{ m}^2 = \text{ } \text{ ha}$






面積の
はかり方と表し方

いろいろな面積の単位

15

目指せ80点!



名まえ

1 にあてはまる数を答えなさい。(各20点)

① $17 \text{ a} = \text{ } \text{ m}^2$

② $21 \text{ ha} = \text{ } \text{ m}^2$

③ $2200 \text{ m}^2 = \text{ } \text{ a}$

④ $90000 \text{ m}^2 = \text{ } \text{ ha}$

2 にあてはまる数を答えなさい。(各10点)

① $250000 \text{ cm}^2 = \text{ } \text{ km}^2$

② $150000 \text{ cm}^2 = \text{ } \text{ m}^2$




面積の
はかり方と表し方

いろいろな面積の単位

16

目指せ80点!



名まえ _____

1 にあてはまる数を答えなさい。(各20点)

① $4 \text{ a} = \text{ } \text{ m}^2$

② $90000 \text{ m}^2 = \text{ } \text{ ha}$

③ $8000 \text{ m}^2 = \text{ } \text{ a}$

④ $7 \text{ ha} = \text{ } \text{ m}^2$

2 にあてはまる数を答えなさい。(各10点)

① $60000 \text{ cm}^2 = \text{ } \text{ m}^2$

② $3000000 \text{ cm}^2 = \text{ } \text{ km}^2$





面積の
はかり方と表し方

いろいろな面積の単位



日にち： 月 日

名まえ _____

1 にあてはまる面積の単位を書きましょう。
(うすい字はなぞりましょう。)

① 1辺が10mの正方形の面積 … | = 100m²

② 1辺が100mの正方形の面積 … | = 10000m²

2 次の にあてはまる数を答えなさい。

① 2 a = m²

km ²	ha	2 a	m ²				cm ²
		↓					
km ²	ha	2 a	0 m ²	0 m ²			cm ²

② 40000 m² = a

km ²	4 ha	0 a	0 a	0 m ²			cm ²
	↓						
km ²	4 ha	0 a	0 a	m ²			cm ²



面積の
はかり方と表し方 ②

いろいろな面積の単位



日にち： 月 日

名まえ _____

1 にあてはまる面積の単位を書きましょう。

(うすい字はなぞりましょう。)

① 1辺が10mの正方形の面積 … | = 100m²

② 1辺が100mの正方形の面積 … | = 10000m²

2 次の にあてはまる数を答えなさい。

① 5 ha = m²

km ²	<input type="text" value="5"/> ha	<input type="text"/>	<input type="text"/>	<input type="text"/>	<input type="text"/>	<input type="text"/>	<input type="text"/>	<input type="text"/>	cm ²
	↓								
km ²	<input type="text" value="5"/> ha	<input type="text" value="0"/> a	<input type="text" value="0"/> m ²	<input type="text" value="0"/> cm ²	<input type="text"/>	<input type="text"/>	<input type="text"/>	<input type="text"/>	<input type="text"/>

② 60000 m² = ha

km ²	<input type="text" value="6"/> ha	<input type="text" value="0"/> a	<input type="text" value="0"/> m ²	<input type="text" value="0"/> cm ²	<input type="text"/>	<input type="text"/>	<input type="text"/>	<input type="text"/>	<input type="text"/>
	↓								
km ²	<input type="text" value="6"/> ha	<input type="text"/>	<input type="text"/>	<input type="text"/>	<input type="text"/>	<input type="text"/>	<input type="text"/>	<input type="text"/>	<input type="text"/>



面積の
はかり方と表し方 11

いろいろな面積の単位



日にち： 月 日

名まえ _____

1 にあてはまる面積の単位を書きましょう。

① 1辺が10mの正方形の面積 … | = 100m²

② 1辺が100mの正方形の面積 … | = 10000m²

2 次の にあてはまる数を答えなさい。
(うすい字はなぞりましょう。)

① 5 a = m²

km ²	ha	5	a	m ²				cm ²
			↓					
km ²	ha	5	0	0	m ²			cm ²

② 1000 m² = a

km ²	ha	1	0	0	0	m ²		cm ²
			↓					
km ²	ha	1	0	a	m ²			cm ²

③ 確認 答え



すらすらぷりんと



面積の
はかり方と表し方

いろいろな面積の単位



日にち： 月 日

名まえ _____

1 にあてはまる面積の単位を書きましょう。

① 1辺が10mの正方形の面積 … | = 100m²

② 1辺が100mの正方形の面積 … | = 10000m²

2 次の にあてはまる数を答えなさい。
(うすい字はなぞりましょう。)

① 80ha m²

km ²	8	0			ha	a	m ²			cm ²
km ²	8	0	0	0	0	0	0			cm ²

② 40000m² = ha

km ²		4	0	0	0	0				cm ²
km ²		4					m ²			cm ²



面積の
はかり方と表し方 ①①

◎ いろいろな面積の単位



日にち： 月 日

名まえ _____

・ 次の にあてはまる数を答えなさい。(うすい字はなぞりましょう。)

① $50000 \text{ m}^2 =$ ha

② $25 \text{ a} =$ m^2

③ $3 \text{ ha} =$ m^2

④ $3000 \text{ m}^2 =$ a

⑤ $400000 \text{ m}^2 =$ ha

⑥ $700 \text{ m}^2 =$ a

⑦ $40 \text{ ha} =$ m^2





面積の
はかり方と表し方 ⑥

いろいろな面積の単位



日にち： 月 日

名まえ _____

・ 次の にあてはまる数を答えなさい。(うすい字はなぞりましょう。)

① $2000 \text{ m}^2 = \boxed{20} \text{ a}$

② $15 \text{ a} = \boxed{1500} \text{ m}^2$

③ $80000 \text{ m}^2 = \boxed{8} \text{ ha}$

④ $2 \text{ ha} = \boxed{20000} \text{ m}^2$

⑤ $800000 \text{ m}^2 = \boxed{80} \text{ ha}$

⑥ $6 \text{ a} = \boxed{600} \text{ m}^2$

⑦ $17 \text{ ha} = \boxed{170000} \text{ m}^2$





面積の
はかり方と表し方 ⑦

いろいろな面積の単位



日にち： 月 日

名まえ _____

・ 次の にあてはまる数を答えなさい。

① $70000 \text{ m}^2 =$ ha

② $40 \text{ a} =$ m^2

③ $8 \text{ ha} =$ m^2

④ $6000 \text{ m}^2 =$ a

⑤ $9 \text{ a} =$ m^2

⑥ $600 \text{ m}^2 =$ a

⑦ $20 \text{ ha} =$ m^2





面積の
はかり方と表し方 ⑧

いろいろな面積の単位



日にち： 月 日

名まえ _____

・ 次の にあてはまる数を答えなさい。

① $2500 \text{ m}^2 = \text{25} \text{ a}$

② $100 \text{ a} = \text{10000} \text{ m}^2$

③ $20000 \text{ m}^2 = \text{2} \text{ ha}$

④ $5 \text{ ha} = \text{50000} \text{ m}^2$

⑤ $600000 \text{ m}^2 = \text{60} \text{ ha}$

⑥ $8 \text{ a} = \text{800} \text{ m}^2$

⑦ $22 \text{ ha} = \text{220000} \text{ m}^2$



面積の
はかり方と表し方 ⑨

◎ いろいろな面積の単位



日にち： 月 日

名まえ _____

・ 次の にあてはまる数を答えなさい。

① $60 \text{ a} = \text{6000} \text{ m}^2$

② $50000 \text{ m}^2 = \text{5} \text{ ha}$

③ $9 \text{ ha} = \text{90000} \text{ m}^2$

④ $1000 \text{ m}^2 = \text{10} \text{ a}$

⑤ $8 \text{ a} = \text{800} \text{ m}^2$

⑥ $700000 \text{ m}^2 = \text{70} \text{ ha}$

⑦ $200 \text{ m}^2 = \text{2} \text{ a}$





面積の
はかり方と表し方 10

いろいろな面積の単位



日にち： 月 日

名まえ _____

・ 次の にあてはまる数を答えなさい。

① $17 \text{ a} =$ m^2

② $90000 \text{ m}^2 =$ ha

③ $2200 \text{ m}^2 =$ a

④ $21 \text{ ha} =$ m^2

⑤ $4 \text{ m}^2 =$ cm^2

⑥ $6 \text{ km}^2 =$ cm^2

⑦ $90000 \text{ cm}^2 =$ m^2





面積の
はかり方と表し方

いろいろな面積の単位



日にち： 月 日

名まえ _____

・ 次の にあてはまる数を答えなさい。

① $6 \text{ a} =$ m^2

② $80000 \text{ cm}^2 =$ m^2

③ $1000 \text{ m}^2 =$ a

④ $55 \text{ ha} =$ m^2

⑤ $700000 \text{ cm}^2 =$ km^2

⑥ $500000 \text{ cm}^2 =$ m^2

⑦ $20000 \text{ m}^2 =$ ha





面積の
はかり方と表し方

いろいろな面積の単位

12

日にち： 月 日

名まえ

・ 次の にあてはまる数を答えなさい。

① $40\text{ha} =$ m^2

② $60000\text{cm}^2 =$ m^2

③ $9\text{km}^2 =$ cm^2

④ $5\text{a} =$ m^2

⑤ $2000000\text{cm}^2 =$ km^2

⑥ $4000\text{m}^2 =$ a

⑦ $70000\text{m}^2 =$ ha





面積の
はかり方と表し方

いろいろな面積の単位

13

日にち： 月 日

名まえ _____

・ 次の にあてはまる数を答えなさい。

① $30 \text{ a} =$ m^2

② $50000 \text{ m}^2 =$ ha

③ $1700 \text{ m}^2 =$ a

④ $5 \text{ m}^2 =$ cm^2

⑤ $40 \text{ ha} =$ m^2

⑥ $7 \text{ km}^2 =$ cm^2

⑦ $10000 \text{ cm}^2 =$ m^2



面積の
はかり方と表し方 11

いろいろな面積の単位



日にち： 月 日

名まえ _____

・ 次の にあてはまる数を答えなさい。

① $9 \text{ a} =$ m^2

② $0.0002 \text{ km}^2 =$ cm^2

③ $4000 \text{ m}^2 =$ a

④ $70 \text{ ha} =$ m^2

⑤ $300000 \text{ cm}^2 =$ km^2

⑥ $2000000 \text{ cm}^2 =$ km^2

⑦ $60000 \text{ m}^2 =$ ha






面積の
はかり方と表し方 11

いろいろな面積の単位

15

目指せ80点!



名まえ _____

1 にあてはまる数を答えなさい。(各20点)

① $17 \text{ a} =$ m^2

② $21 \text{ ha} =$ m^2

③ $2200 \text{ m}^2 =$ a

④ $90000 \text{ m}^2 =$ ha

2 にあてはまる数を答えなさい。(各10点)

① $250000 \text{ cm}^2 =$ km^2

② $150000 \text{ cm}^2 =$ m^2




面積の
はかり方と表し方 16

いろいろな面積の単位

16

目指せ80点!



名まえ

1 にあてはまる数を答えなさい。(各20点)

① $4 \text{ a} =$ m^2

② $90000 \text{ m}^2 =$ ha

③ $8000 \text{ m}^2 =$ a

④ $7 \text{ ha} =$ m^2

2 にあてはまる数を答えなさい。(各10点)

① $60000 \text{ cm}^2 =$ m^2

② $3000000 \text{ cm}^2 =$ km^2

