



面積の
はかり方と表し方 2

◎ マス目の数で広さくらべ




日にち： 月 日

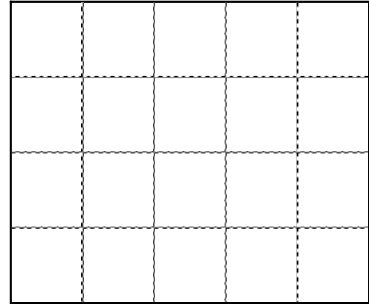
名まえ _____

・ 次の図形は1マスが1cm²です。次の問いに答えましょう。
(うすい字はなぞりましょう。)

ア



イ



① 図形はそれぞれ何マスですか。

ア： 12 マス イ： 20 マス

② 図形はそれぞれ何cm²ですか。

1マスが1cm²なので、面積はマスの数！

ア： 12 cm² イ： _____

③ どちらが広いでしょう。

答え： _____





面積の はかり方と表し方 2

● マス目の数で広さくらべ

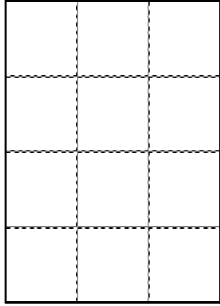


日にち： 月 日

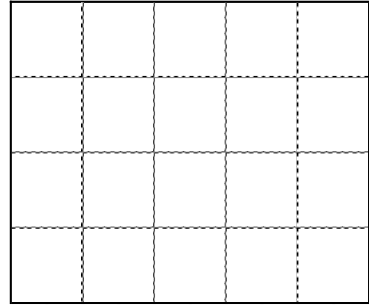
名まえ _____

・ 次の図形は1マスが1cm²です。次の問いに答えましょう。
(うすい字はなぞりましょう。)

ア



イ



① 図形はそれぞれ何マスですか。

ア： 12 マス イ： 20 マス

② 図形はそれぞれ何cm²ですか。

1マスが1cm²なので、面積はマスの数！

ア： 12 cm² イ： 20 cm²

③ どちらが広いでしょう。

答え：

イ

