



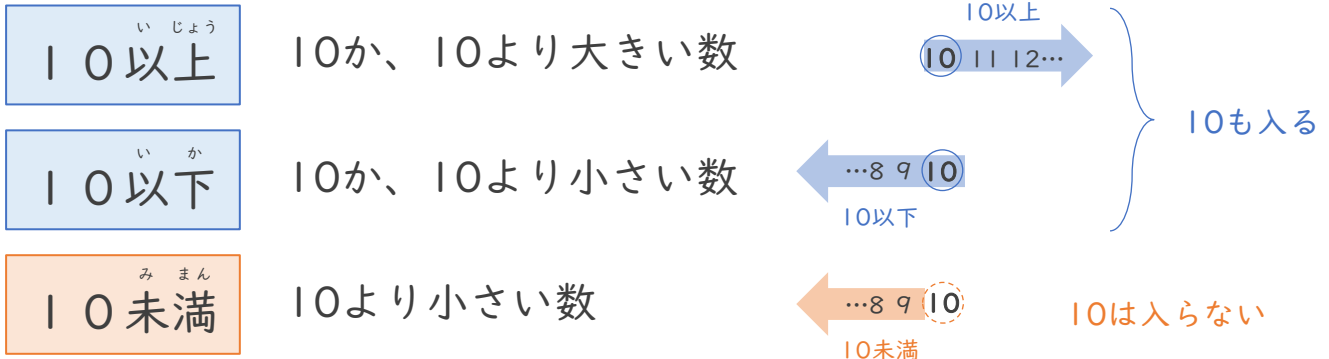
# がい数の 使い方と表し方 12

● 以上・以下・未満と  
四捨五入のはんい



日にち： 月 日

名まえ \_\_\_\_\_



1 次のはんいにあてはまる整数を、下の  からえらんですべて書きましょう。

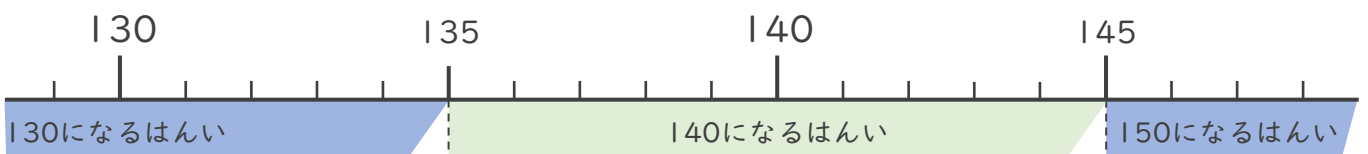
- ① 5以上10以下 ( 5, 6, 7, 8, 9, 10 )
- ② 5以上10未満 (  )

4, 5, 6, 7, 8, 9, 10

2 一の位で四捨五入して140になる整数のはんいを考えます。  にあてはまる数を書きましょう。

以上  以下の整数 または、

以上  未満の整数



135から144までの整数  
が入ればいいだね





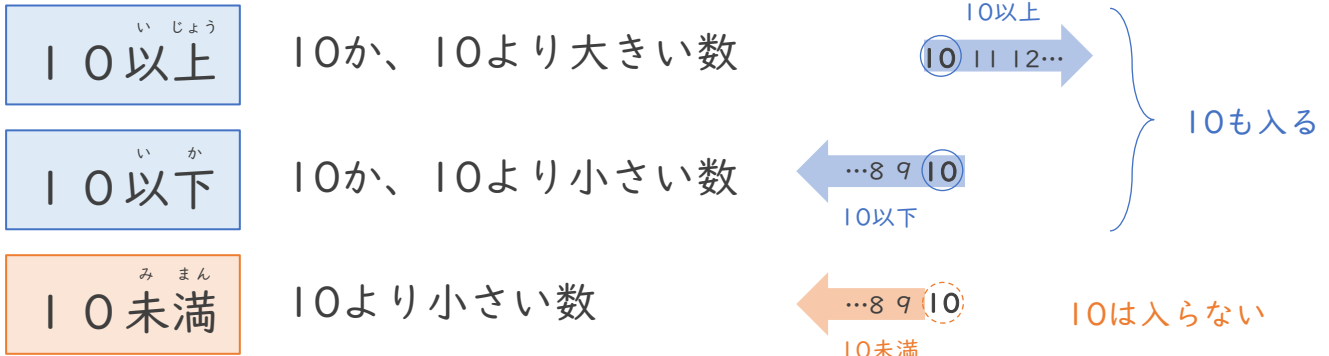
# がい数の 使い方と表し方 12

● 以上・以下・未満と  
四捨五入のはんい



日にち：            月            日

名まえ \_\_\_\_\_



1 次のはんいにあてはまる整数を、下の  からえらんですべて書きましょう。

① 5以上10以下      ( 5, 6, 7, 8, 9, 10 )

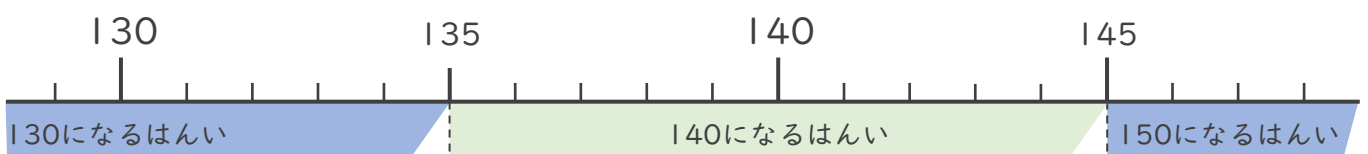
② 5以上10未満      ( 5, 6, 7, 8, 9 )

4, 5, 6, 7, 8, 9, 10

2 一の位で四捨五入して140になる整数のはんいを考えます。  にあてはまる数を書きましょう。

135 以上 144 以下の整数 または、

135 以上 145 未満の整数



135から144までの整数  
が入ればいいだね

