



角の大きさ 3

● 分度器で角度をはかる
(時計回り)



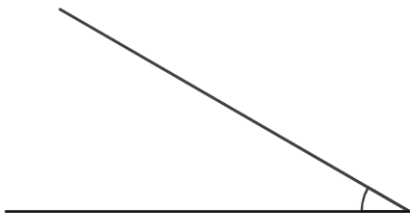
日にち： 月 日

名まえ _____

ぶん ど き

・ 分度器を使って角度をはかりましょう。(うすい字はなぞりましょう。)

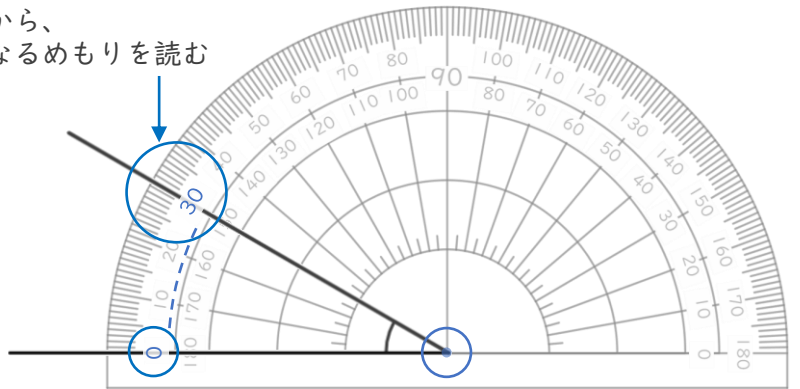
①



答え (30°)

<分度器の使い方>

0の方から、
線と重なるめもりを読む

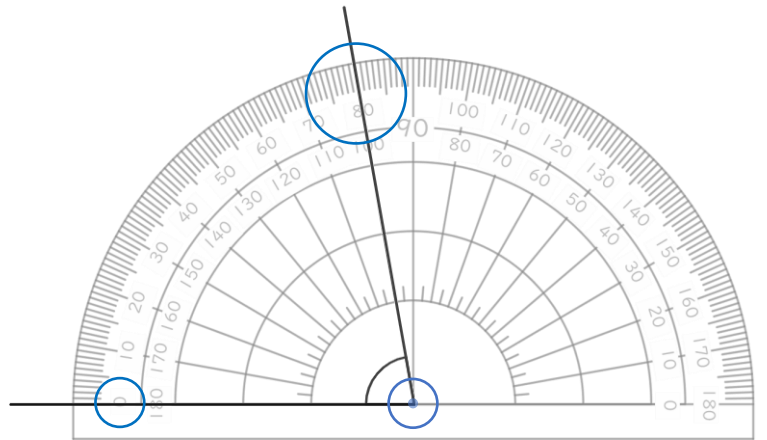


0に合わせる ちょう点を中心に合わせる

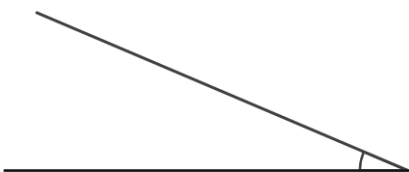
②



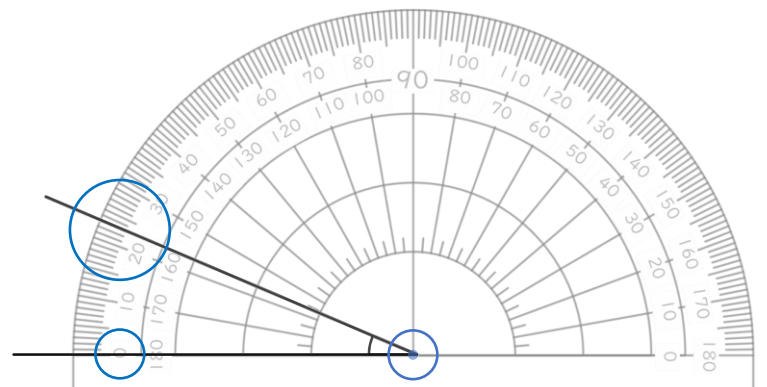
答え ()



③



答え ()





角の大きさ 3

● 分度器で角度をはかる
(時計回り)



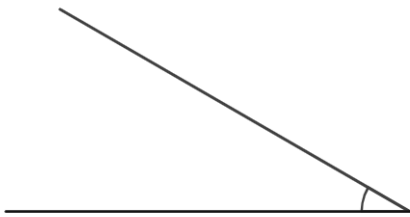
日にち： 月 日

名まえ _____

ぶん ど き

・ 分度器を使って角度をはかりましょう。(うすい字はなぞりましょう。)

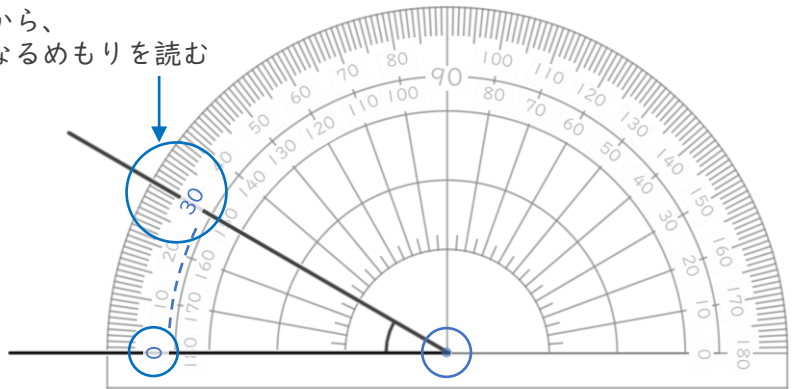
①



答え (**30°**)

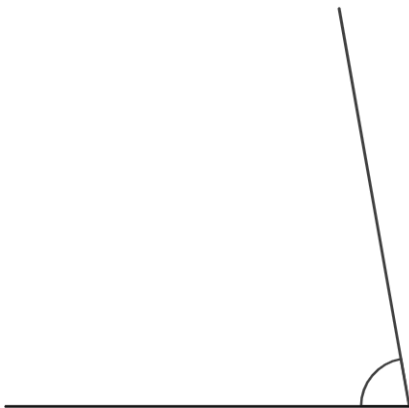
<分度器の使い方>

0の方から、
線と重なるめもりを読む

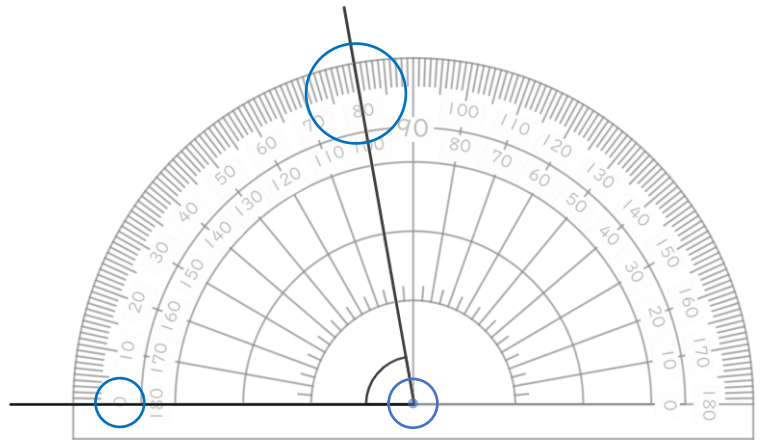


0に合わせる ちょう点を中心に合わせる

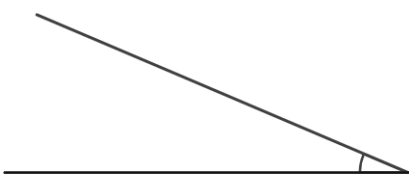
②



答え (**80°**)



③



答え (**23°**)

