



分数9

分数どうしのたし算・ひき算



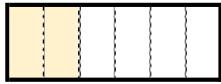
日にち： 月 日

名まえ _____

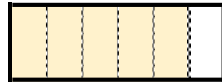
1 $\frac{2}{6}$ mと $\frac{5}{6}$ mのリボンがあります。

あわせると、何mになるでしょうか。(うすい字はなぞりましょう。)

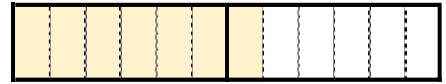
① $\frac{2}{6}$, $\frac{5}{6}$ は、それぞれ $\frac{1}{6}$ の何こ分ですか。



$\frac{1}{6}$ の 2 こ分



$\frac{1}{6}$ の 5 こ分



$\frac{1}{6}$ の 7 こ分

② $\frac{2}{6} + \frac{5}{6} = \frac{7}{6}$ 答え： $\frac{7}{6}$ m

2 次の計算をしましょう。(うすい字はなぞりましょう。)

① $\frac{5}{4} + \frac{1}{4} = \frac{6}{4}$

② $\frac{3}{5} + \frac{4}{5} =$

③ $\frac{7}{8} - \frac{4}{8} = \frac{3}{8}$

④ $\frac{5}{7} - \frac{1}{7} =$



分数9

分数どうしのたし算・ひき算



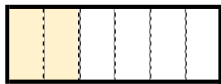
日にち： 月 日

名まえ _____

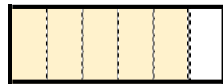
1 $\frac{2}{6}$ mと $\frac{5}{6}$ mのリボンがあります。

あわせると、何mになるでしょうか。(うすい字はなぞりましょう。)

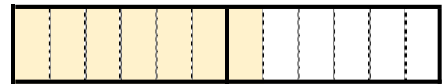
① $\frac{2}{6}$, $\frac{5}{6}$ は、それぞれ $\frac{1}{6}$ の何こ分ですか。



$\frac{1}{6}$ の **2**こ分



$\frac{1}{6}$ の **5**こ分



$\frac{1}{6}$ の **7**こ分

② $\frac{2}{6} + \frac{5}{6} = \frac{7}{6}$ 答え： $\frac{7}{6}$ m

2 次の計算をしましょう。(うすい字はなぞりましょう。)

① $\frac{5}{4} + \frac{1}{4} = \frac{6}{4}$

② $\frac{3}{5} + \frac{4}{5} = \frac{7}{5}$

③ $\frac{7}{8} - \frac{4}{8} = \frac{3}{8}$

④ $\frac{5}{7} - \frac{1}{7} = \frac{4}{7}$

