

分数 8

分母で大きさをくらべ

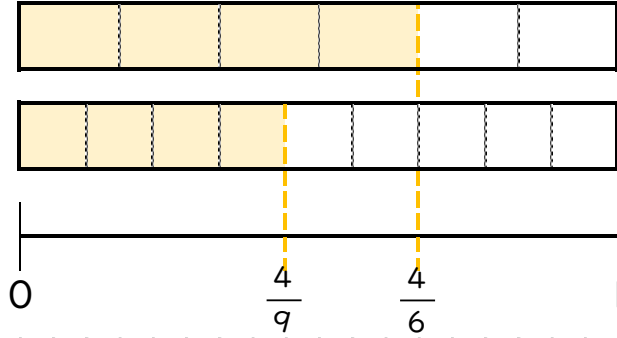


日にち： 月 日

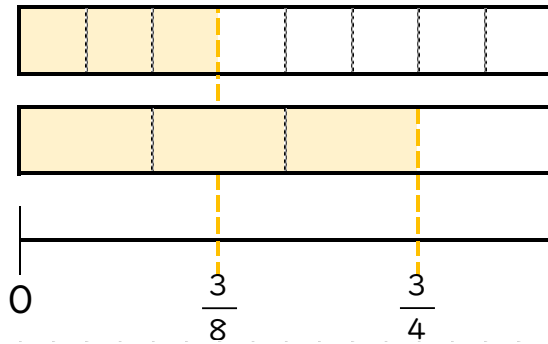
名まえ _____

・ 図を見て、 にあてはまる不等号を書きましょう。

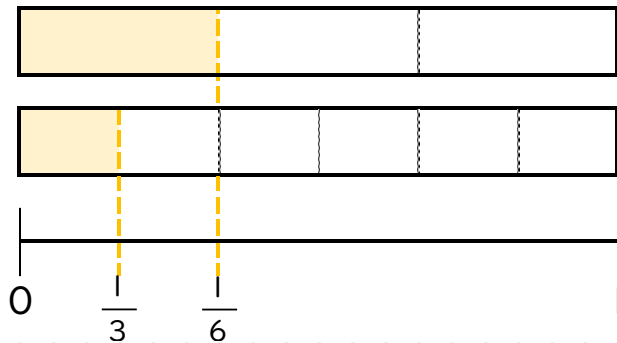
① $\frac{4}{6}$ $\frac{4}{9}$




② $\frac{3}{8}$ $\frac{3}{4}$



③ $\frac{1}{3}$ $\frac{1}{6}$





分数 8

分母で大きさをくらべ

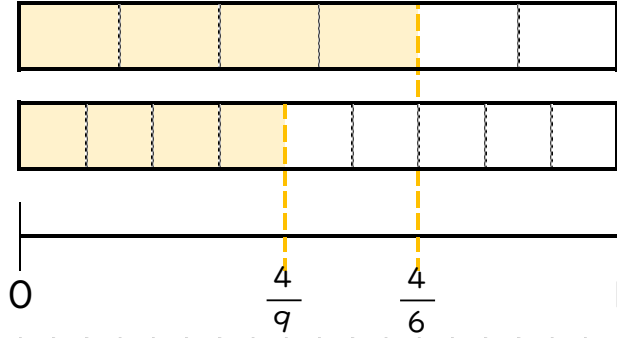


日にち： 月 日

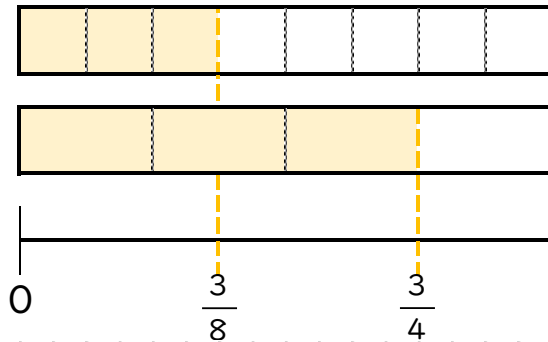
名まえ _____

・ 図を見て、 にあてはまる不等号を書きましょう。

① $\frac{4}{6} > \frac{4}{9}$



② $\frac{3}{8} < \frac{3}{4}$



③ $\frac{1}{3} > \frac{1}{6}$

