



# 分数 8

分母で大きさをくらべ

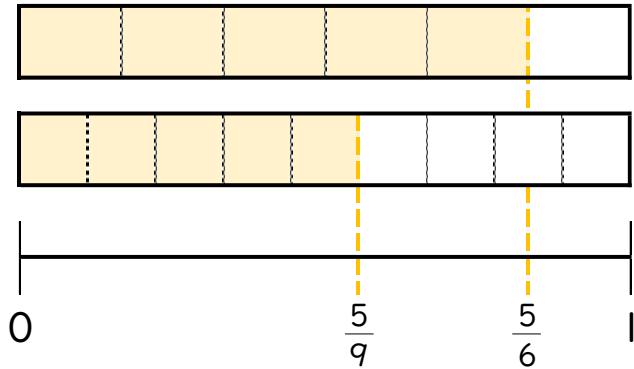


日にち：      月      日

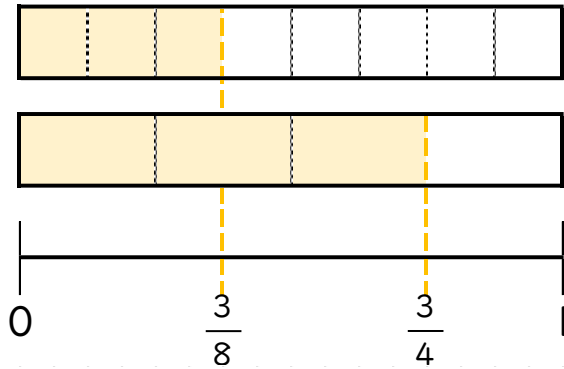
名まえ \_\_\_\_\_

- 図を見て、 にあてはまる不等号を書きましょう。  
(うすい字はなぞりましょう。)

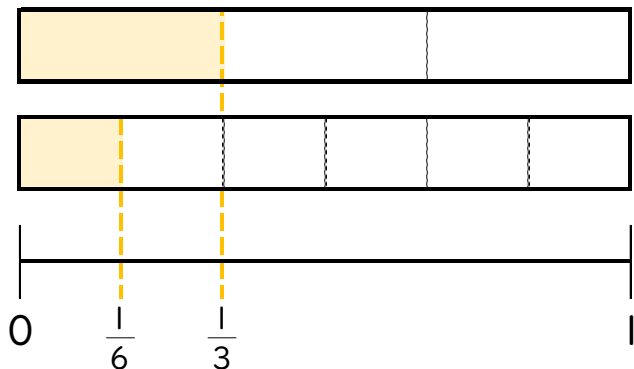
①  $\frac{5}{6} > \frac{5}{9}$



②  $\frac{3}{8} \square \frac{3}{4}$



③  $\frac{1}{3} \square \frac{1}{6}$





# 分数 8

分母で大きさをくらべ

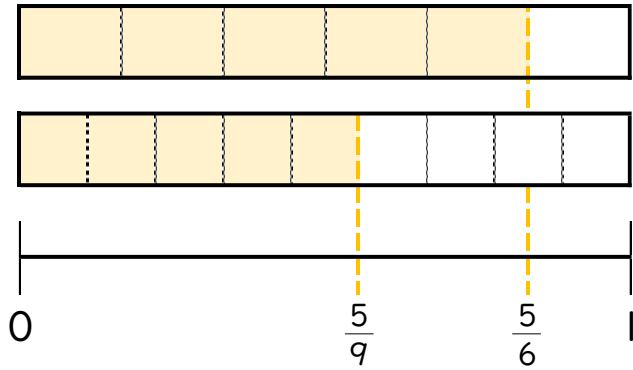


日にち： 月 日

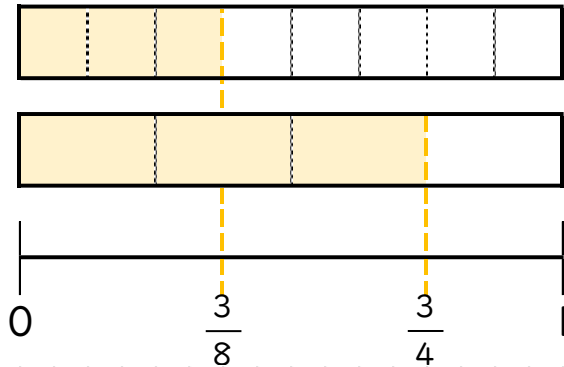
名まえ \_\_\_\_\_

- 図を見て、 にあてはまる不等号を書きましょう。  
(うすい字はなぞりましょう。)

①  $\frac{5}{6} > \frac{5}{9}$



②  $\frac{3}{8} < \frac{3}{4}$



③  $\frac{1}{3} > \frac{1}{6}$

