



分数 8

分母で大きさをくらべ

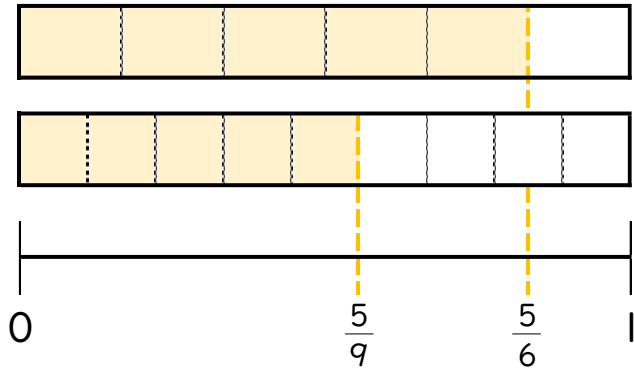


日にち： 月 日

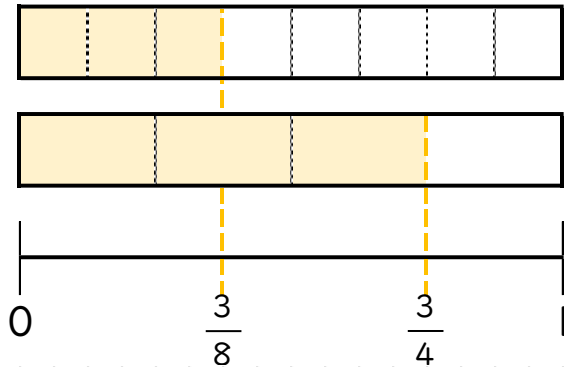
名まえ _____

- 図を見て、 にあてはまる不等号を書きましょう。
(うすい字はなぞりましょう。)

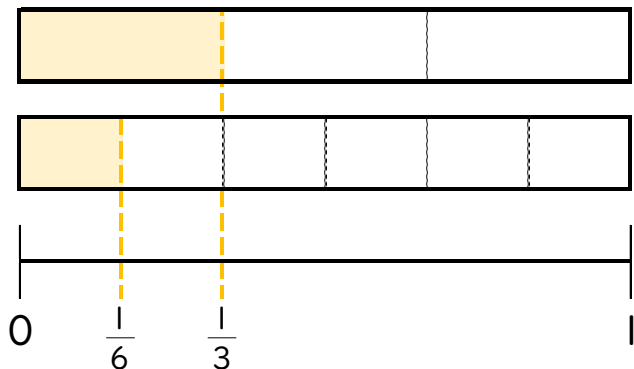
① $\frac{5}{6} > \frac{5}{9}$



② $\frac{3}{8} \square \frac{3}{4}$



③ $\frac{1}{3} \square \frac{1}{6}$





分数 8

分母で大きさをくらべ

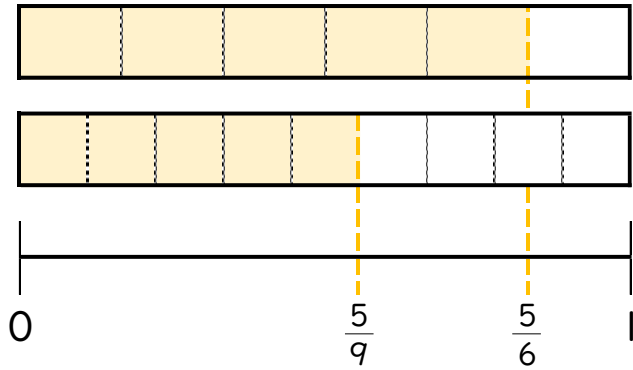


日にち： 月 日

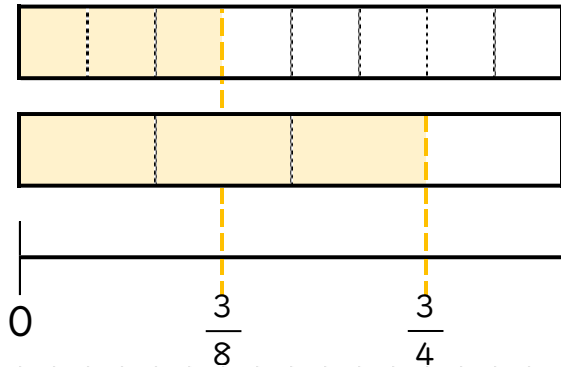
名まえ _____

- 図を見て、 にあてはまる不等号を書きましょう。
(うすい字はなぞりましょう。)

① $\frac{5}{6} > \frac{5}{9}$



② $\frac{3}{8} < \frac{3}{4}$



③ $\frac{1}{3} > \frac{1}{6}$

