



角の大きさ 10

● 反時計回りの角の作図

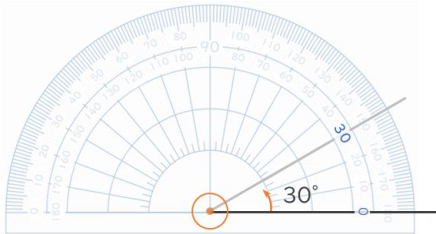


日にち： 月 日

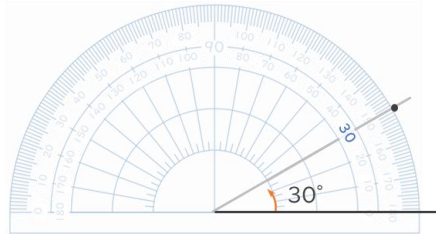
名まえ _____

・ 次の角をかきましょう。(うすい点や線はなぞりましょう。)

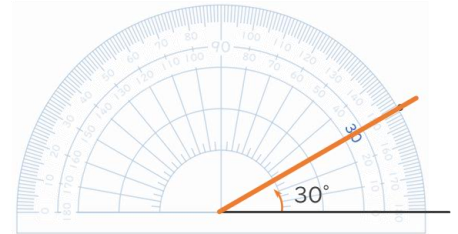
角のかきかた



分度器の中心と0の線を
合わせる



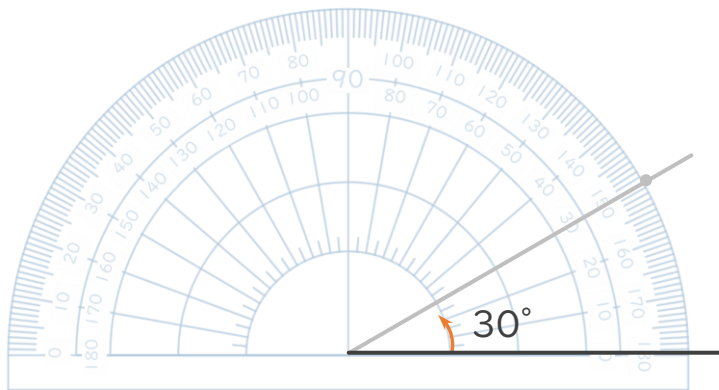
30° のメモリのそばに
点をうつ



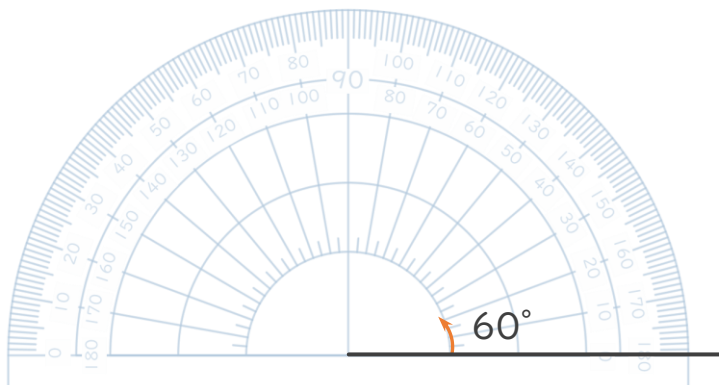
点と中心を通る直線を引く



① 30°



② 60°





角の大きさ 10

● 反時計回りの角の作図

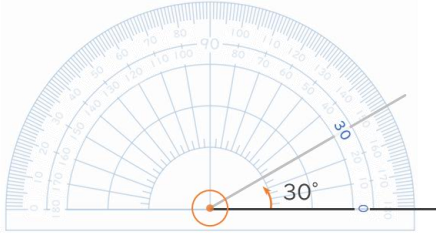


日にち： 月 日

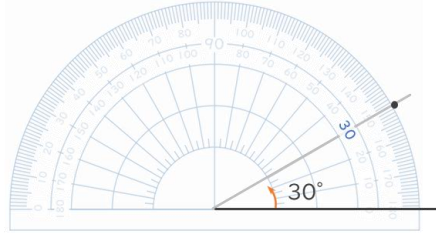
名まえ _____

・ 次の角をかきましょう。(うすい点や線はなぞりましょう。)

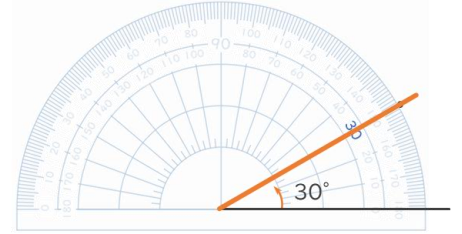
角のかきかた



分度器の中心と0の線を
合わせる



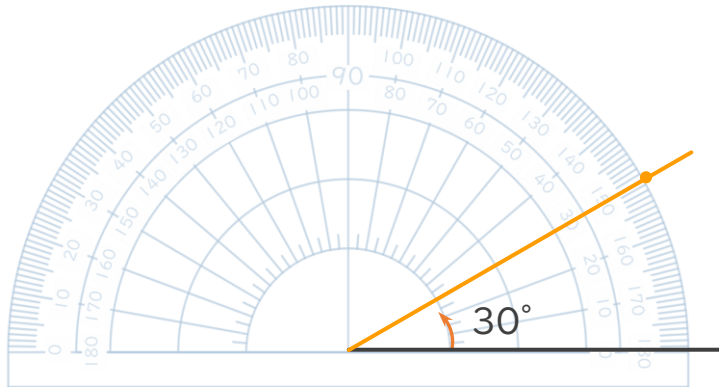
30° のメモリのそばに
点をうつ



点と中心を通る直線を引く



① 30°



② 60°

