



垂直, 平行と
四角形 12

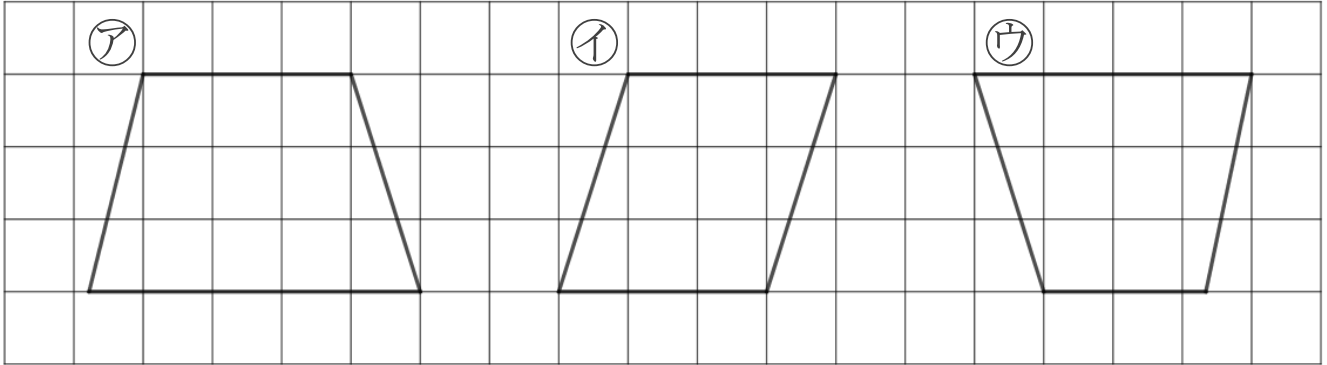
◎ 台形と平行四辺形



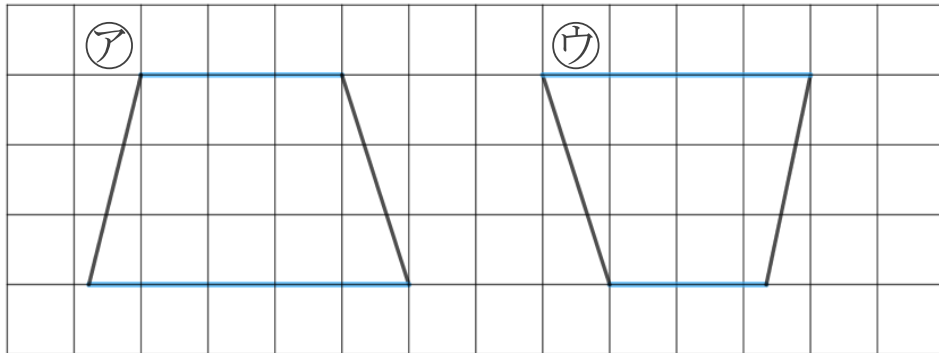
日にち： 月 日

名まえ _____

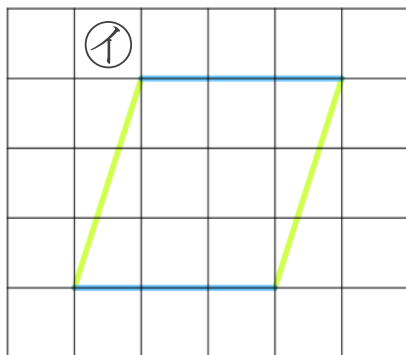
・ 次の四角形を、台形と平行四辺形に分けましょう。(うすい字はなぞろう。)



台形は、平行な辺が 1 組



平行四辺形は、平行な辺が 2 組



答え 台形 ... ア , ウ

平行四辺形...



垂直, 平行と
四角形 12

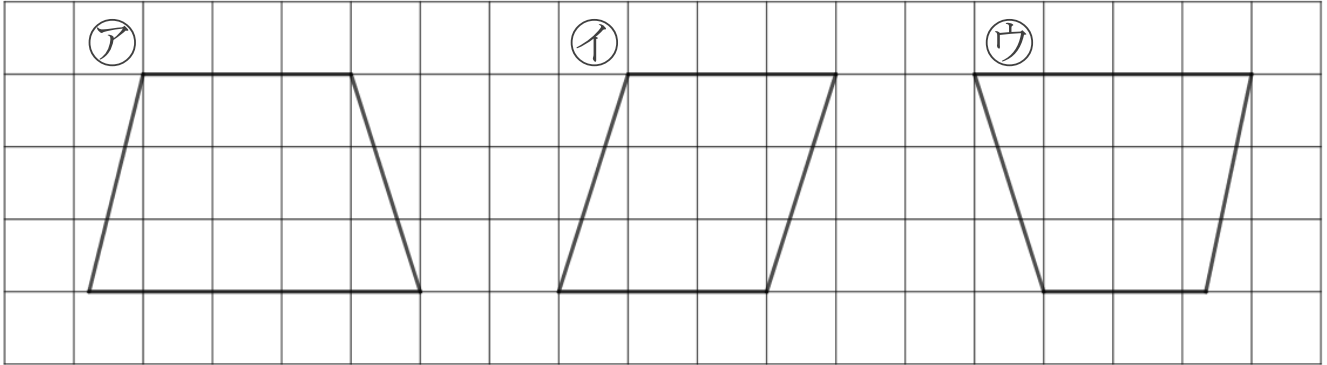
◎ 台形と平行四辺形



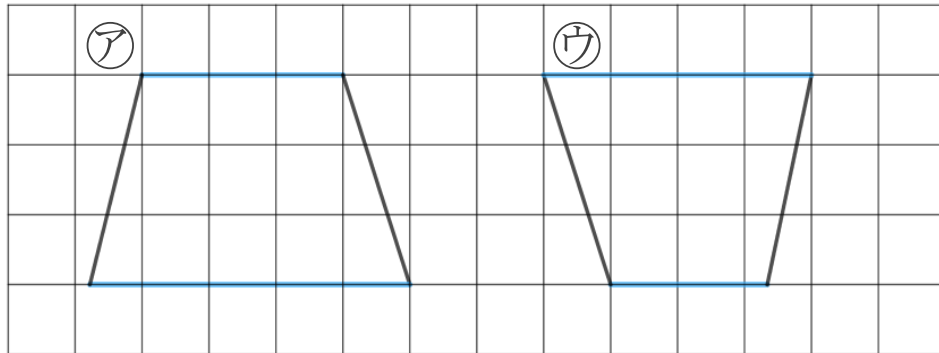
日にち： 月 日

名まえ _____

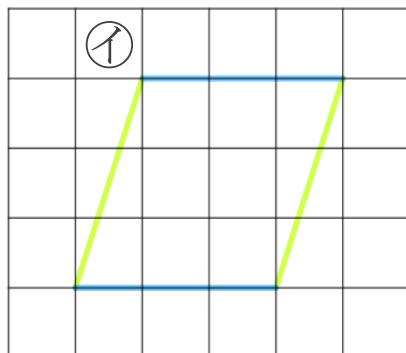
・ 次の四角形を、台形と平行四辺形に分けましょう。(うすい字はなぞろう。)



台形は、平行な辺が 1 組



平行四辺形は、平行な辺が 2 組



答え 台形 ... ア , ウ

平行四辺形... イ