

垂直, 平行と 四角形 4

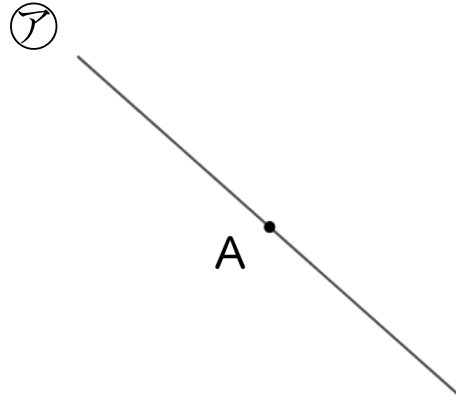
● 垂直な直線をひく



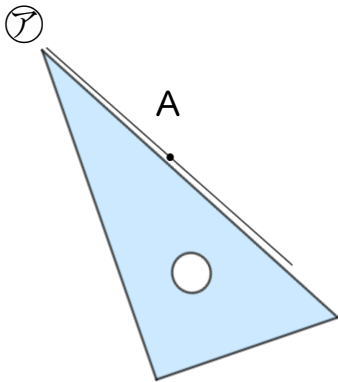
日にち： 月 日

名まえ _____

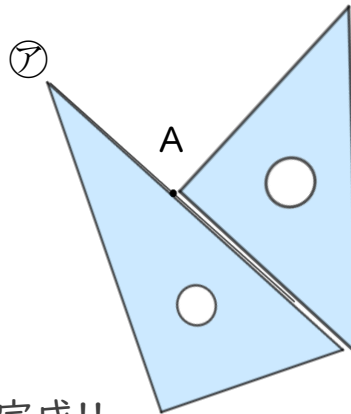
- ・ 2まいの三角じょうぎを使って、点Aを通り、㊦の直線に垂直な直線をひきましょう。(うすい線はしっかりなぞりましょう。)



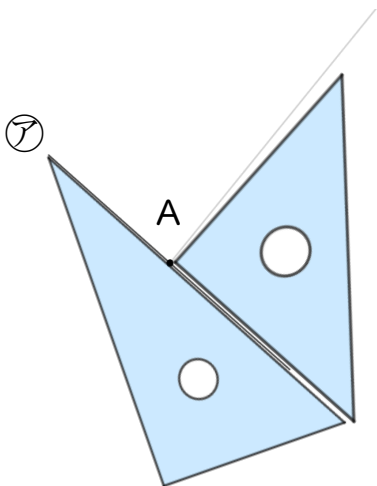
① ㊦に三角じょうぎをあてる



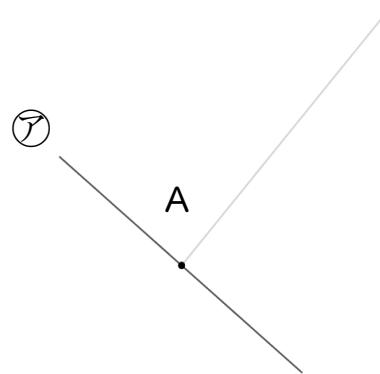
② もう1まいの三角じょうぎの直角を㊦にあてる



③ 線を引く



④ 完成!!





垂直, 平行と 四角形 4

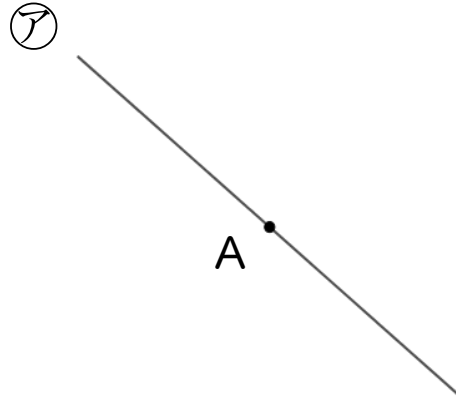


● 垂直な直線をひく

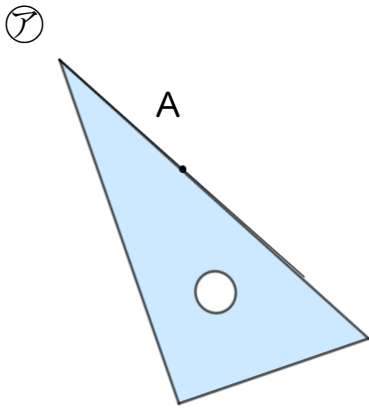
日にち： 月 日

名まえ _____

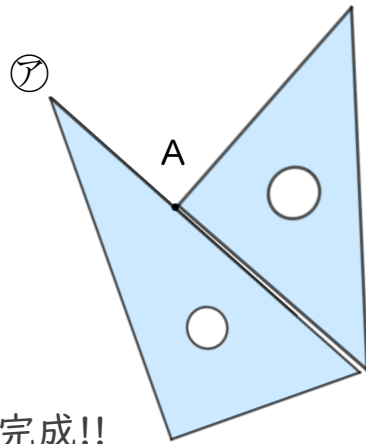
- ・ 2まいの三角じょうぎを使って、点Aを通り、㊦の直線に垂直な直線をひきましょう。(うすい線はしっかりなぞりましょう。)



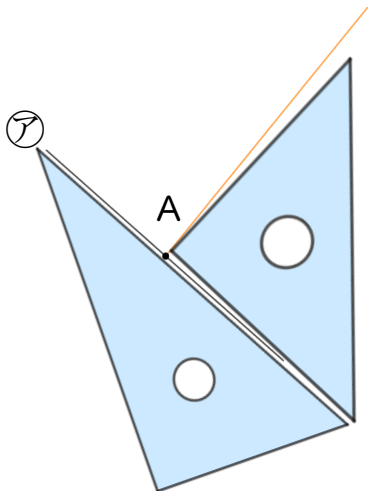
① ㊦に三角じょうぎをあてる



② もう1まいの三角じょうぎの直角を㊦にあてる



③ 線を引く



④ 完成!!

