



# 垂直、平行と 四角形5

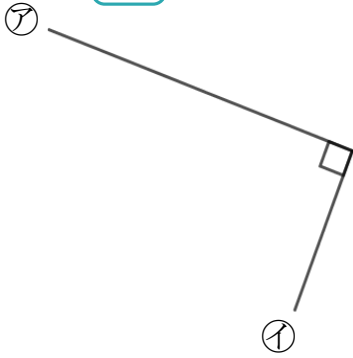
● 垂直な線を探す  
(ヒントの点あり)



日にち：      月      日

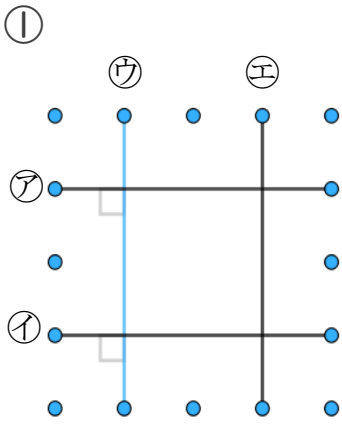
名まえ \_\_\_\_\_

1 次の  に当てはまる言葉を答えましょう(うすい字はなぞろう)

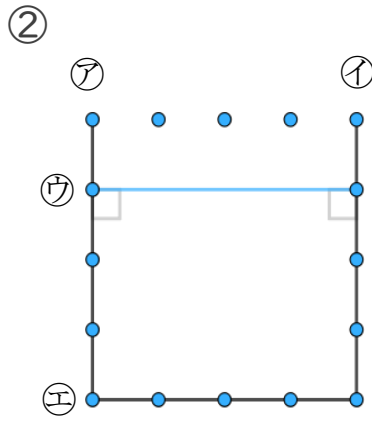


アとイの直線の並び方は  です。

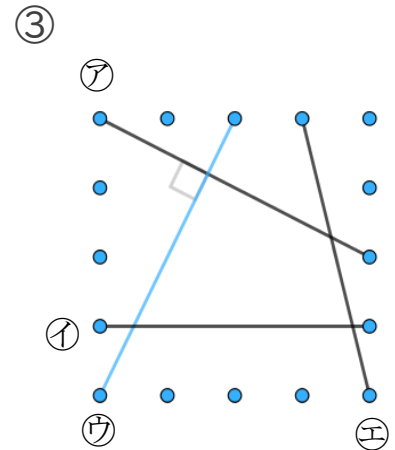
2 次の図で、アの直線に垂直な直線はどれですか(うすい字はなぞろう)



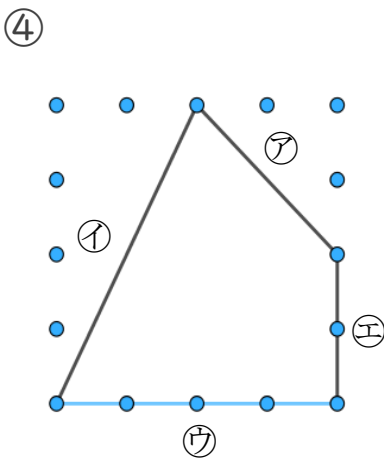
答え：  ,



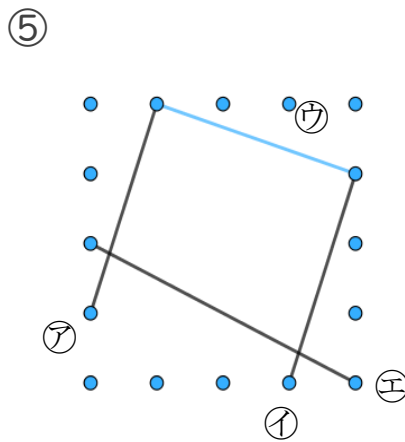
答え：  ,



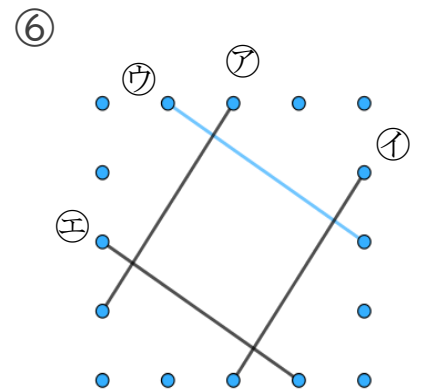
答え：



答え： \_\_\_\_\_



答え： \_\_\_\_\_



答え： \_\_\_\_\_



# 垂直, 平行と 四角形5

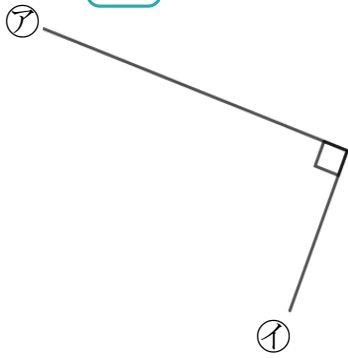
● 垂直な線を探す  
(ヒントの点あり)



日にち：      月      日

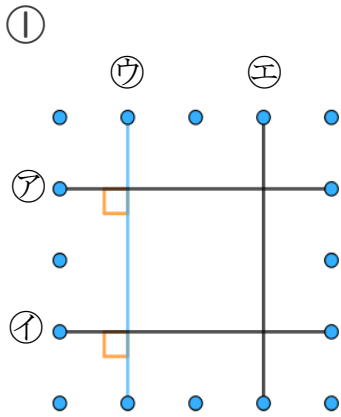
名まえ \_\_\_\_\_

1 次の  に当てはまる言葉を答えましょう(うすい字はなぞろう)

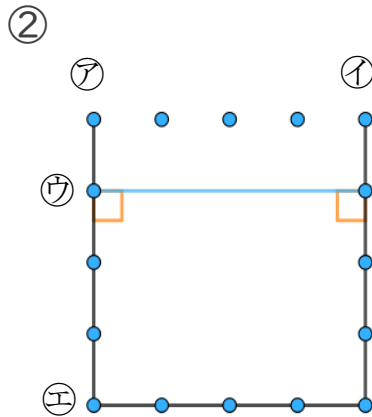


アとイの直線の並び方は **垂直** です。

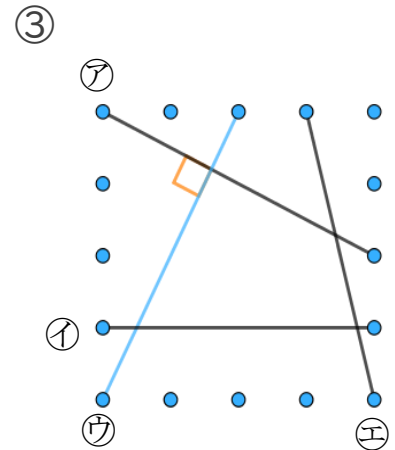
2 次の図で、ウの直線に垂直な直線はどれですか(うすい字はなぞろう)



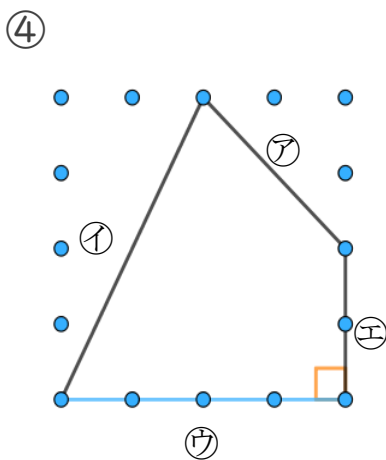
答え： **ア** , **イ**



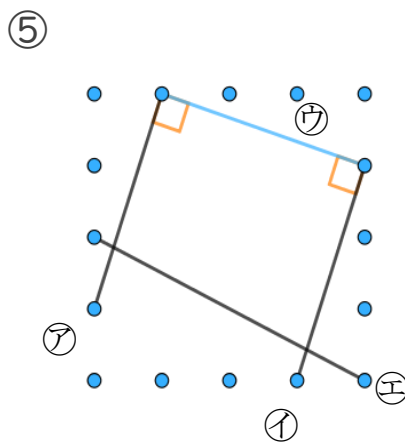
答え： **ア** , **イ**



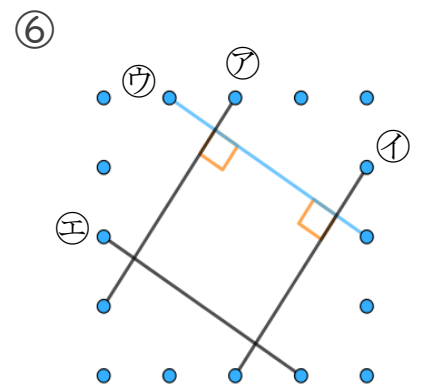
答え： **ア**



答え： **イ**



答え： **ア** , **イ**



答え： **ア** , **イ**

