



垂直, 平行と四角形5

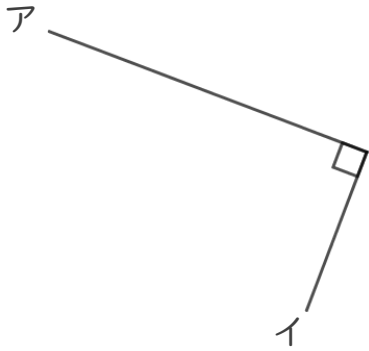
● 垂直な線を探す
(ヒントの点あり)



日にち： 月 日

名まえ _____

1 次の に当てはまる言葉を答えましょう。
(うすい字はなぞりましょう。)

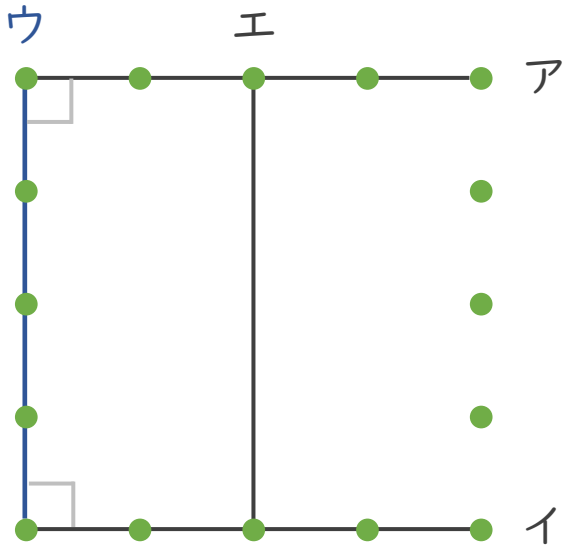


すいちよく

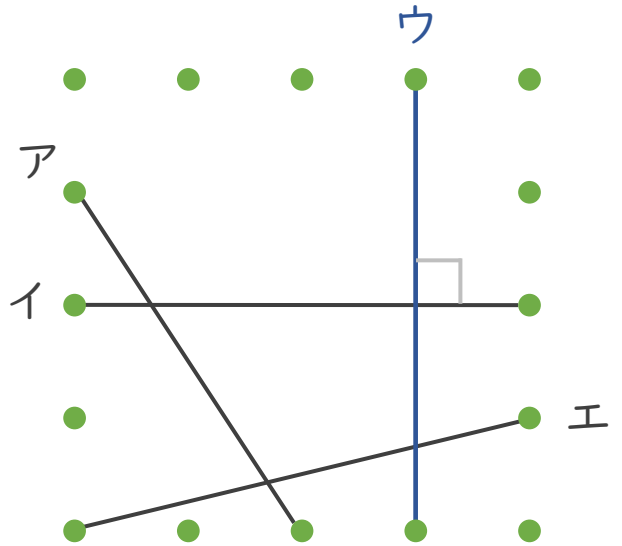
アとイの2本の直線は です。

2 次の図で、ウの直線に垂直な直線を全て選びましょう。
(うすい字はなぞりましょう。)

①



②



答え： ア, イ

答え： _____



垂直、平行と
四角形5

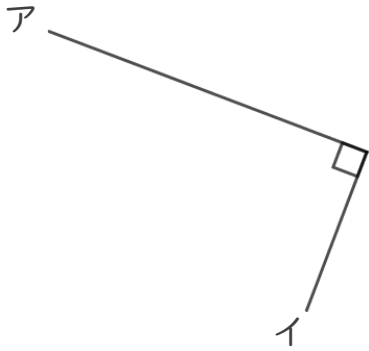
● 垂直な線を探す
(ヒントの点あり)



日にち： 月 日

名まえ _____

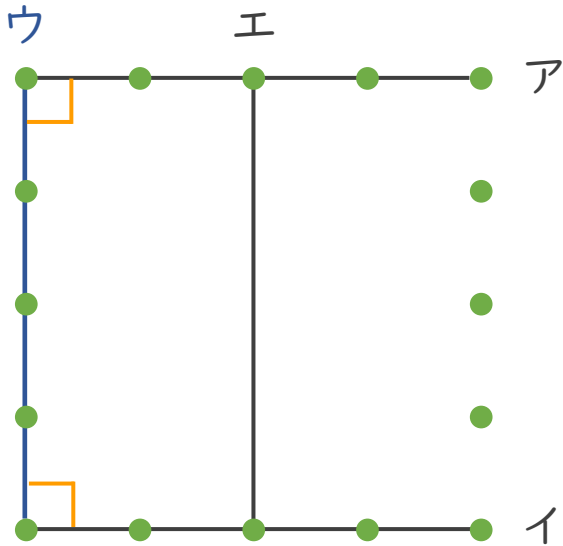
1 次の に当てはまる言葉を答えましょう。
(うすい字はなぞりましょう。)



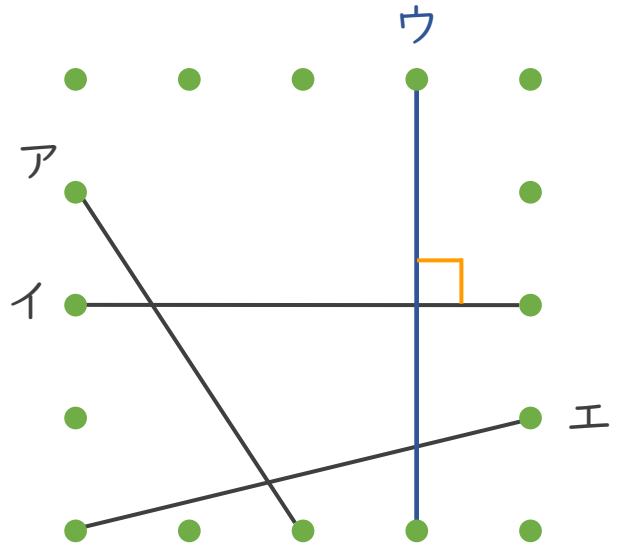
アとイの2本の直線は すいちよく **垂直** です。

2 次の図で、ウの直線に垂直な直線を全て選びましょう。
(うすい字はなぞりましょう。)

①



②



答え： **ア, イ**

答え： **イ**

