



分数 13

帯分数どうしのひき算

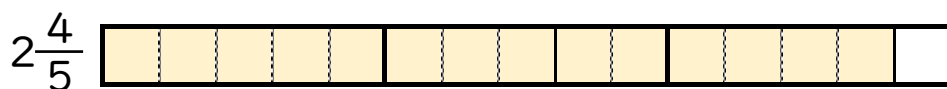


日にち： 月 日

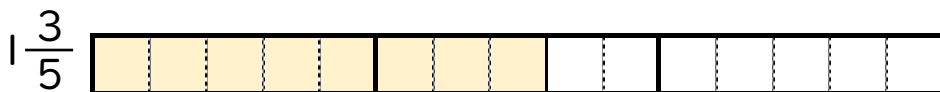
名まえ _____

1 $2\frac{4}{5} - 1\frac{3}{5}$ の計算をして、答えは仮分数で表しましょう。

① $2\frac{4}{5}$ と $1\frac{3}{5}$ は、それぞれ $\frac{1}{5}$ の何こ分ですか。



$\frac{1}{5}$ の こ分




$\frac{1}{5}$ の こ分

② $2\frac{4}{5} - 1\frac{3}{5} = \frac{14}{5} - \frac{8}{5} =$

2 次の計算をして、答えは仮分数で表しましょう。

① $5\frac{2}{3} - 1\frac{1}{3} = \frac{17}{3} - \frac{4}{3} = \frac{13}{3}$

② $3\frac{6}{7} - 1\frac{4}{7} =$



分数 13

帯分数どうしのひき算

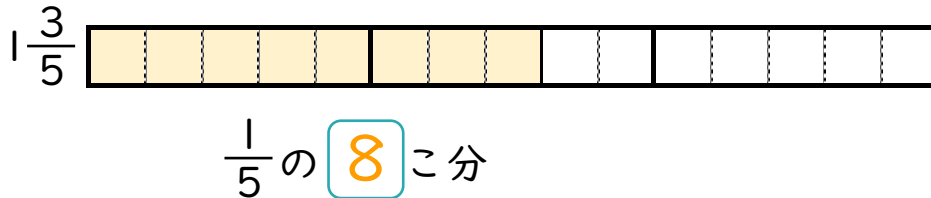


日にち： 月 日

名まえ _____

1 $2\frac{4}{5} - 1\frac{3}{5}$ の計算をして、答えは仮分数で表しましょう。

① $2\frac{4}{5}$ と $1\frac{3}{5}$ は、それぞれ $\frac{1}{5}$ の何こ分ですか。



② $2\frac{4}{5} - 1\frac{3}{5} = \frac{14}{5} - \frac{8}{5} = \frac{6}{5}$

2 次の計算をして、答えは仮分数で表しましょう。

① $5\frac{2}{3} - 1\frac{1}{3} = \frac{17}{3} - \frac{4}{3} = \frac{13}{3}$

② $3\frac{6}{7} - 1\frac{4}{7} = \frac{27}{7} - \frac{11}{7} = \frac{16}{7}$