



面積の  
はかり方と表し方 9

◎ 平方キロメートルの面積

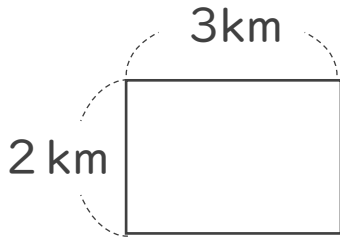


日にち：            月            日

名まえ \_\_\_\_\_

・ 次の問いに答えましょう。(うすい字はなぞりましょう。)

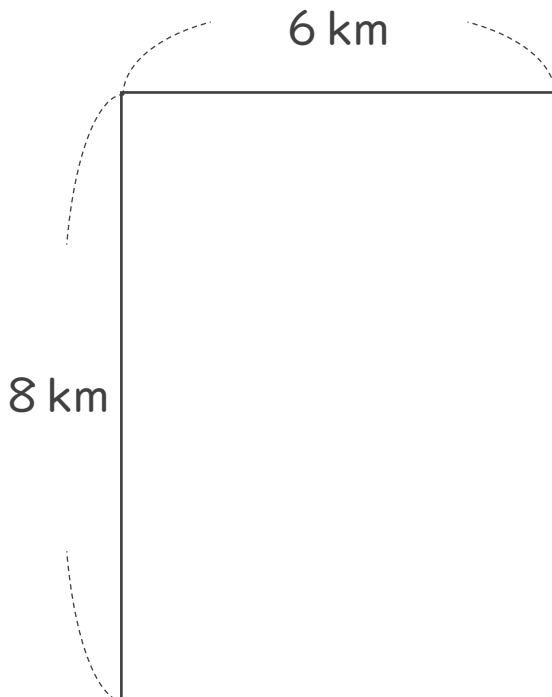
1 たて2 km、横3 kmのうめたて地の面積は、何 $\text{km}^2$ でしょう。



式： $2 \times 3 = 6$

答え：6  $\text{km}^2$

2 次の図形の面積を求めましょう。



式： $8 \times 6 =$

答え：



面積の  
はかり方と表し方 9

◎ 平方キロメートルの面積

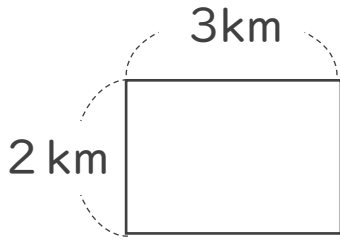


日にち：            月            日

名まえ \_\_\_\_\_

・ 次の問いに答えましょう。(うすい字はなぞりましょう。)

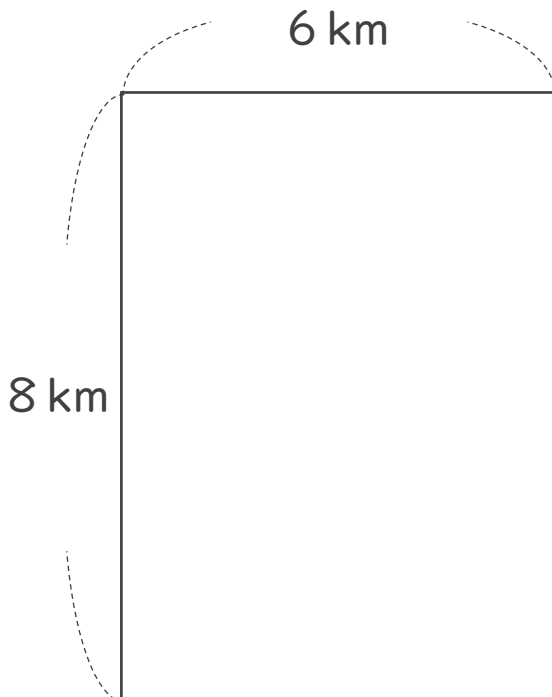
1 たて2 km、横3 kmのうめたて地の面積は、何 $\text{km}^2$ でしょう。



式： $2 \times 3 = 6$

答え：6  $\text{km}^2$

2 次の図形の面積を求めましょう。



式： $8 \times 6 = 48$

答え：48  $\text{km}^2$