



面積の
はかり方と表し方

● 広さくらべ

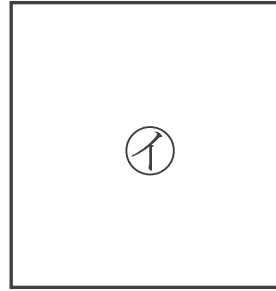



日にち： 月 日

名まえ _____

・どちらが広いかわらべましょう。(うすい字はなぞりましょう。)


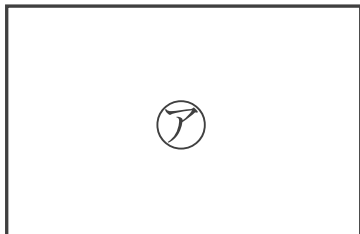
①



答え：



②



答え：





面積の はかり方と表し方

● 広さくらべ

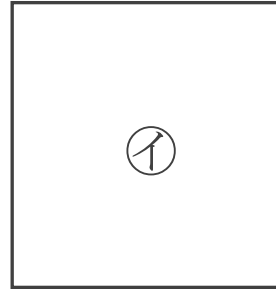



日にち： 月 日

名まえ _____


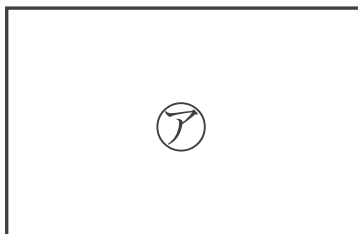
・どちらが広いかくらべましょう。(うすい字はなぞりましょう。)

①



答え： ア

②



答え： イ