



# 小数の表し方5

## ⑤ 数直線の読みとり

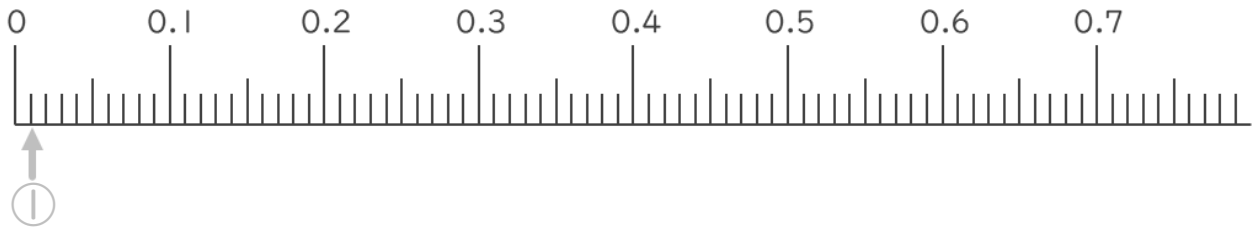


日にち：      月      日

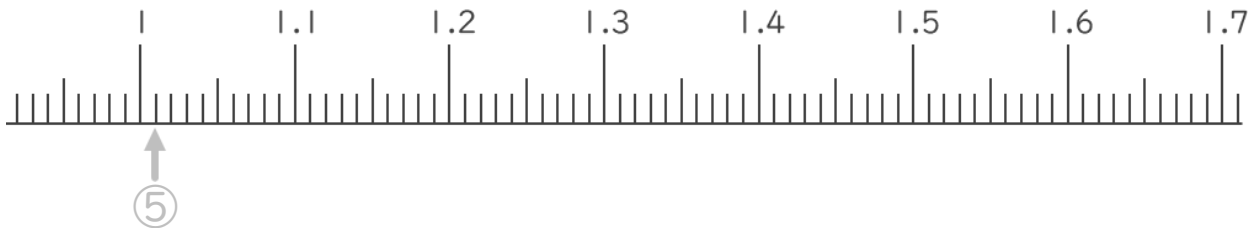
名まえ \_\_\_\_\_

1. 次の小数を表すめもりに ↑ を書きましょう。  
(うすい字はなぞりましょう。)

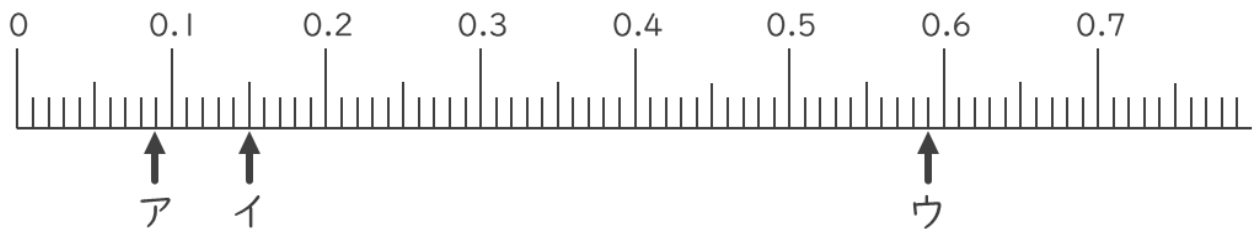
- ① 0.01      ② 0.05      ③ 0.25      ④ 0.68



- ⑤ 1.01      ⑥ 1.05      ⑦ 1.35      ⑧ 1.58



2. 次の数直線でア～オが表す数を答えましょう。  
(うすい字はなぞりましょう。)



ア 0.09

イ

ウ





# 小数の表し方5

## ⑤ 数直線の読みとり



日にち：      月      日

名まえ \_\_\_\_\_

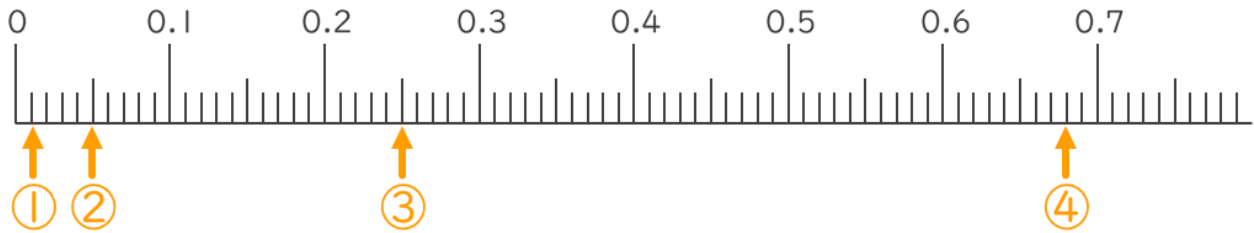
1. 次の小数を表すめもりに ↑ を書きましょう。  
(うすい字はなぞりましょう。)

① 0.01

② 0.05

③ 0.25

④ 0.68

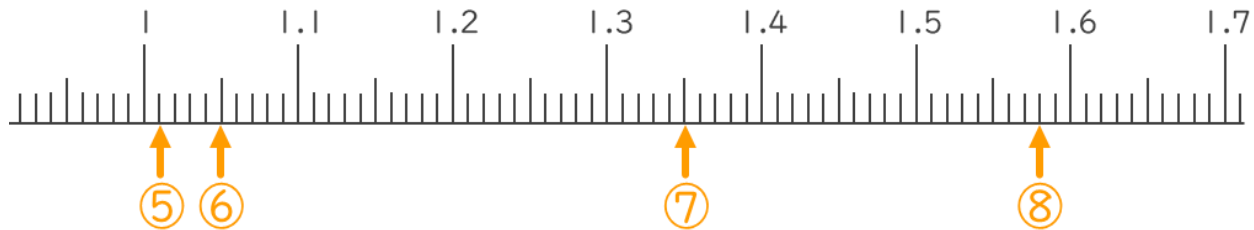


⑤ 1.01

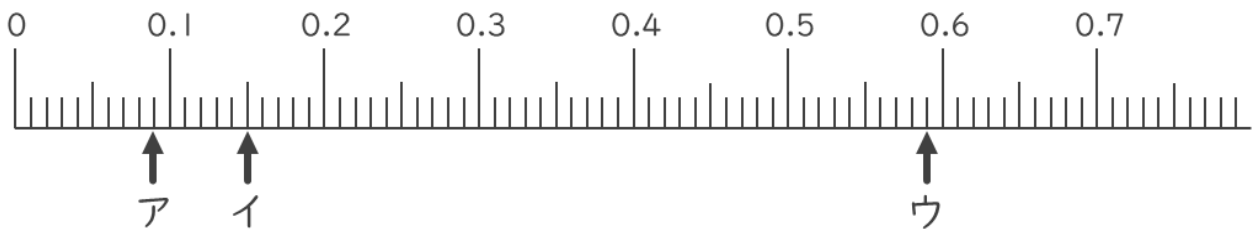
⑥ 1.05

⑦ 1.35

⑧ 1.58



2. 次の数直線でア～オが表す数を答えましょう。  
(うすい字はなぞりましょう。)



ア 0.09

イ 0.15

ウ 0.59

