



小数の表し方5

◎ 数直線の読みとり

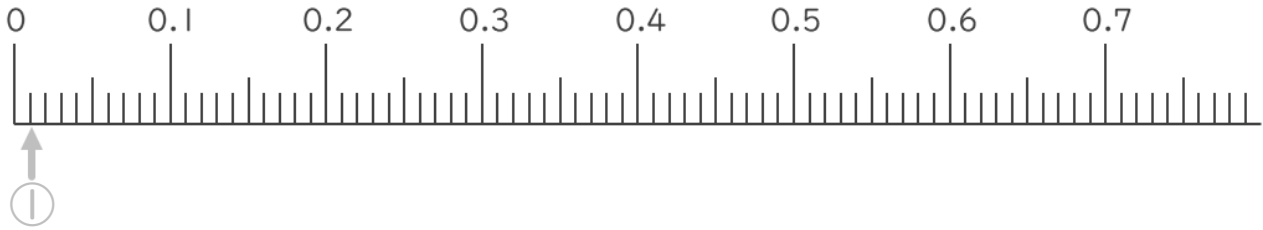


日にち： 月 日

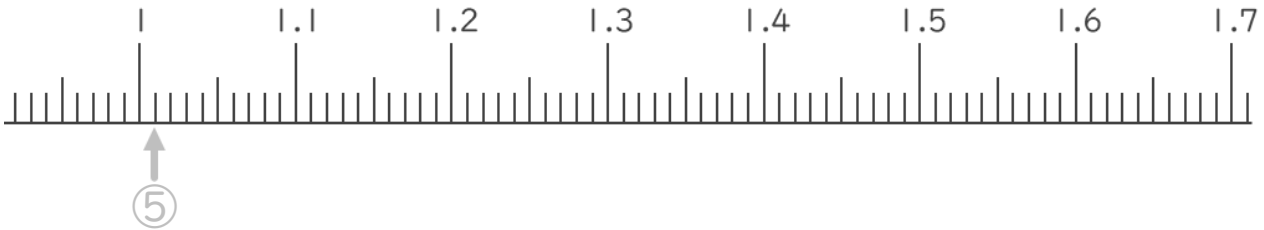
名まえ _____

1. 次の小数を表すめもりに ↑ を書きましょう。
(うすい字はなぞりましょう。)

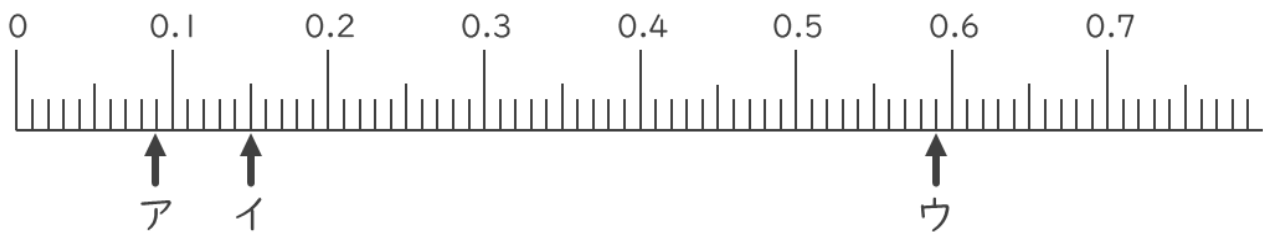
- ① 0.01 ② 0.05 ③ 0.25 ④ 0.68



- ⑤ 1.01 ⑥ 1.05 ⑦ 1.35 ⑧ 1.58



2. 次の数直線でア～ウが表す数を答えましょう。
(うすい字はなぞりましょう。)



ア 0.09 イ ウ





小数の表し方5

◎ 数直線の読みとり

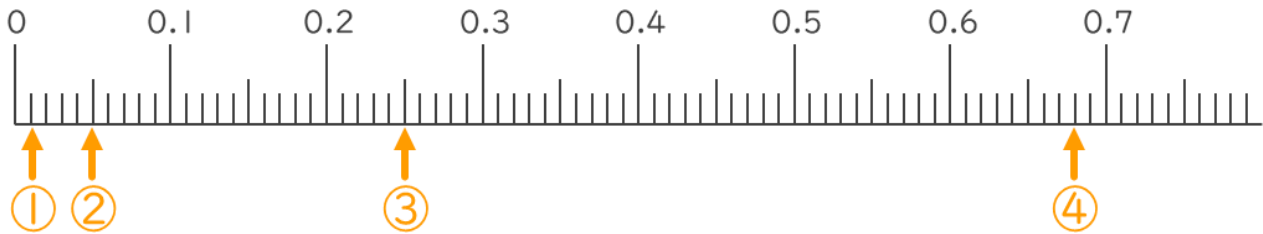


日にち： 月 日

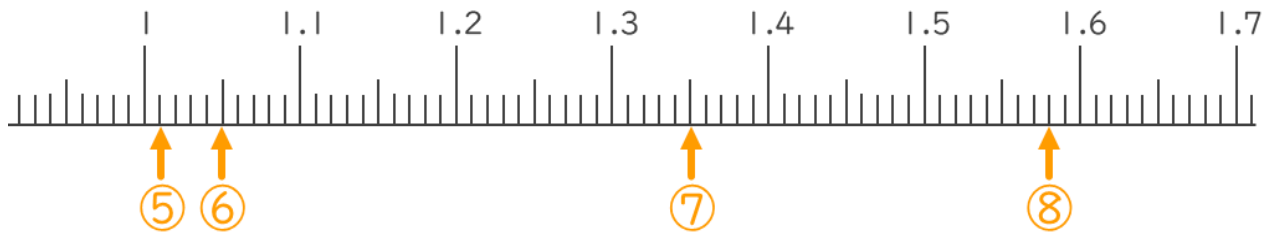
名まえ _____

1. 次の小数を表すめもりに ↑ を書きましょう。
(うすい字はなぞりましょう。)

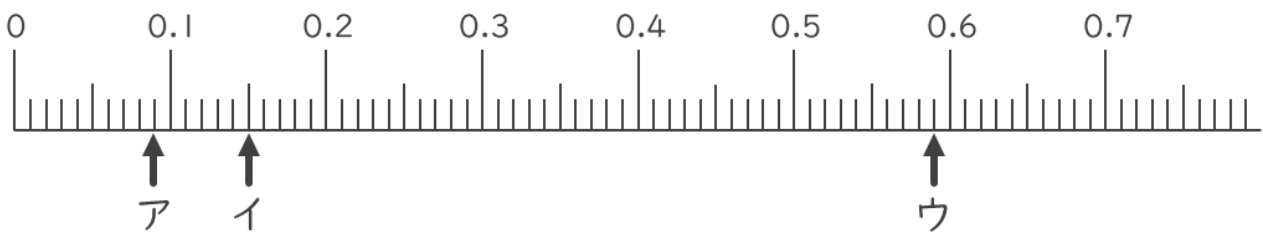
- ① 0.01 ② 0.05 ③ 0.25 ④ 0.68



- ⑤ 1.01 ⑥ 1.05 ⑦ 1.35 ⑧ 1.58



2. 次の数直線でア～ウが表す数を答えましょう。
(うすい字はなぞりましょう。)



ア 0.09

イ 0.15

ウ 0.59

