



# 小数の表し方8

◎ 数直線の読みとり  
(小数第三位)



日にち： 月 日

名まえ \_\_\_\_\_

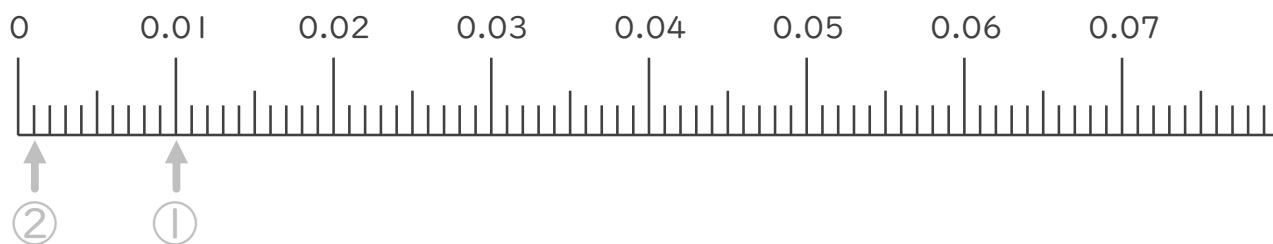
1. 次の小数を表すめもりに ↑ を書きましょう。

① 0.01

② 0.001

③ 0.005

④ 0.058

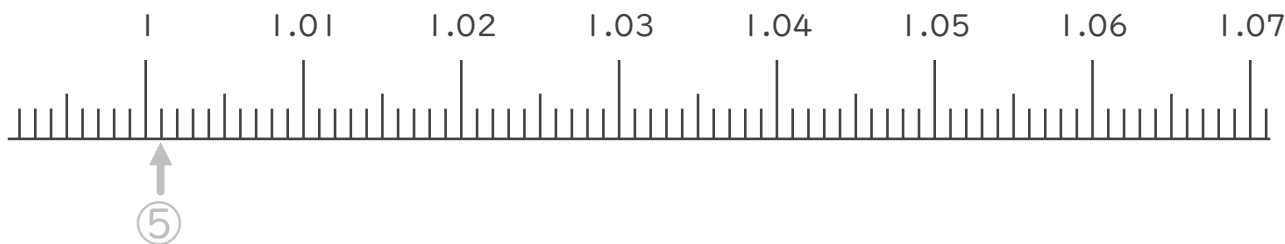


⑤ 1.001

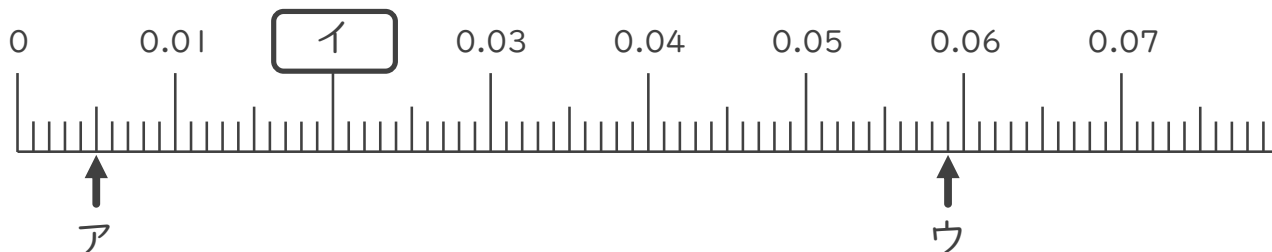
⑥ 1.005

⑦ 1.025

⑧ 1.068



2. 次の数直線でア～ウが表す数を答えましょう。



ア 0.005

イ \_\_\_\_\_

ウ \_\_\_\_\_





# 小数の表し方 8

◎ 数直線の読みとり  
(小数第三位)

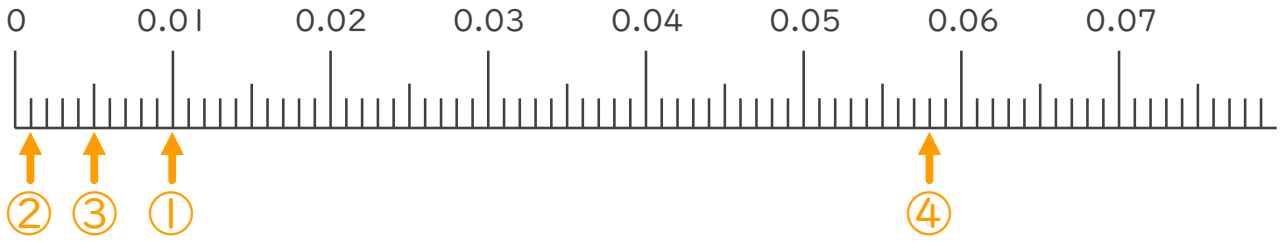


日にち： 月 日

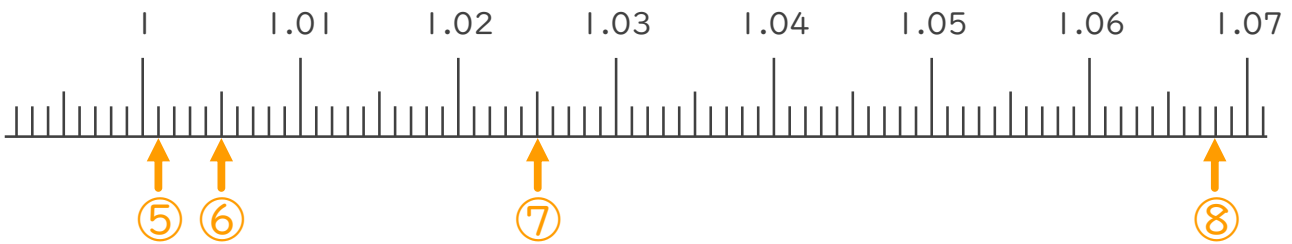
名まえ \_\_\_\_\_

1. 次の小数を表すめもりに ↑ を書きましょう。

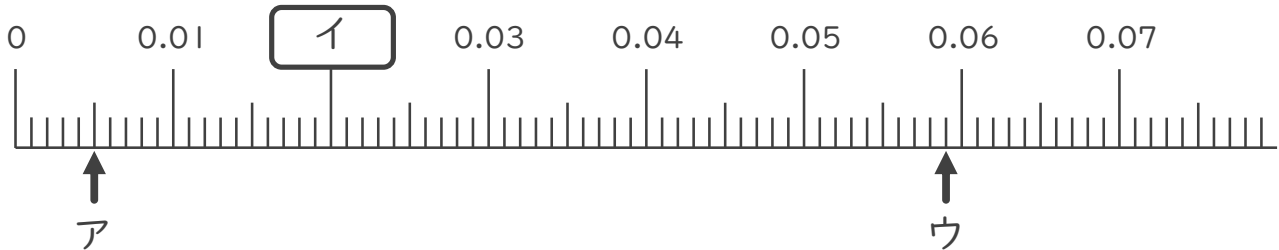
- ① 0.01      ② 0.001      ③ 0.005      ④ 0.058



- ⑤ 1.001      ⑥ 1.005      ⑦ 1.025      ⑧ 1.068



2. 次の数直線でア～ウが表す数を答えましょう。



ア 0.005

イ 0.02

ウ 0.059

