



小数の表し方8

㉞ 数直線の読みとり
(小数第三位)

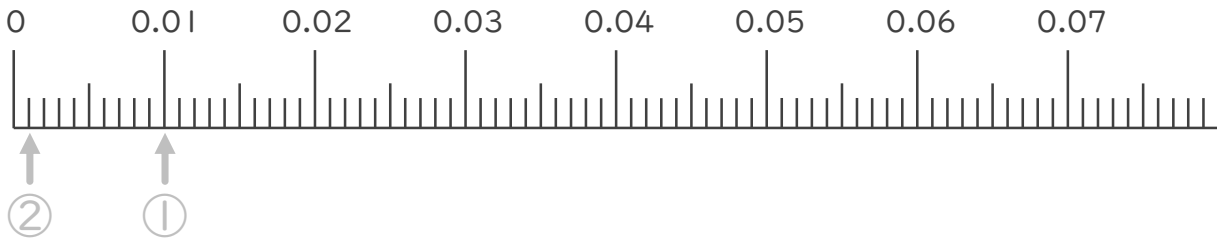


日にち： 月 日

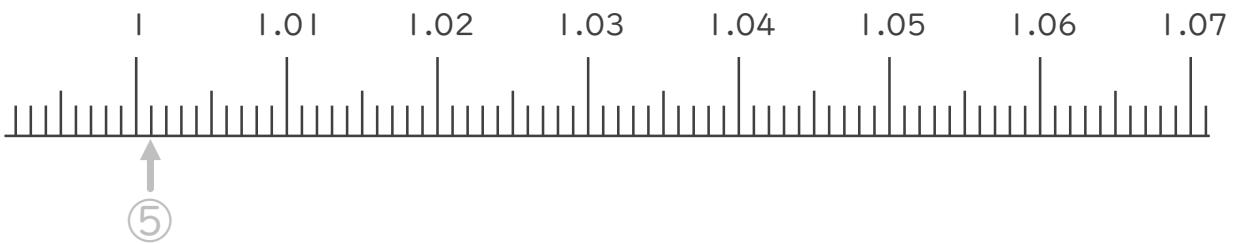
名まえ _____

1. 次の小数を表すめもりに ↑ を書きましょう。(うすい字はなぞりましょう。)

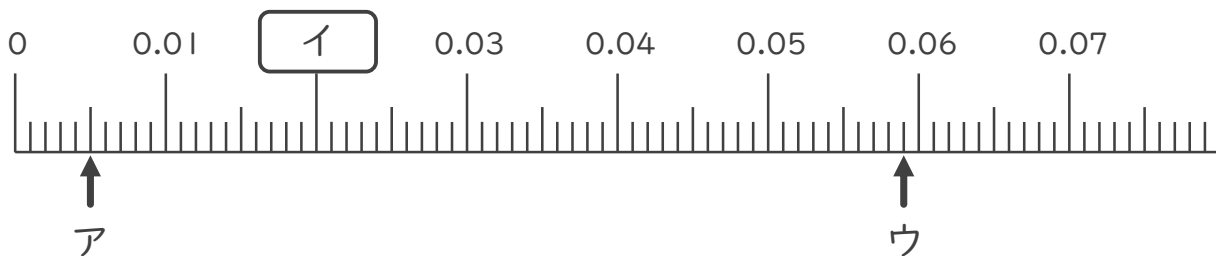
- ① 0.01
- ② 0.001
- ③ 0.005
- ④ 0.058



- ⑤ 1.001
- ⑥ 1.005
- ⑦ 1.025
- ⑧ 1.068



2. 次の数直線でア～ウが表す数を答えましょう。(うすい字はなぞりましょう。)



ア 0.005

イ _____

ウ _____





小数の表し方⑧

㉞ 数直線の読みとり
(小数第三位)

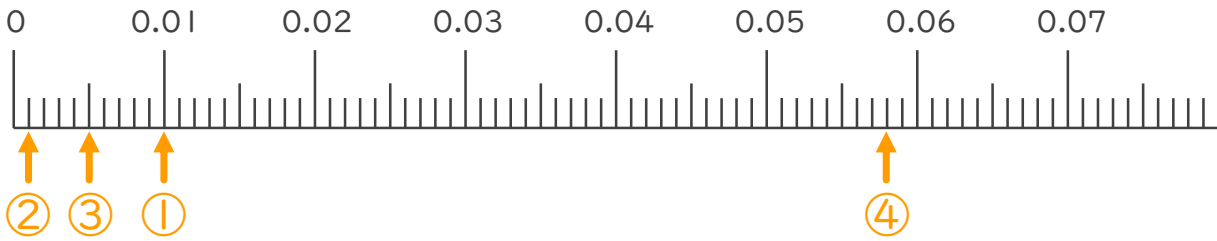


日にち： 月 日

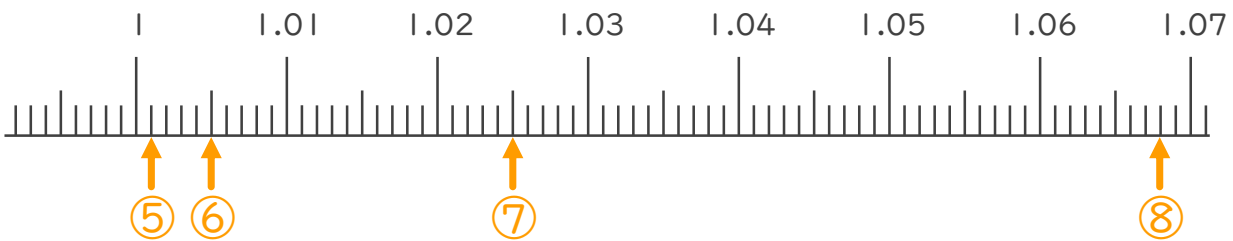
名まえ _____

1. 次の小数を表すめもりに ↑ を書きましょう。(うすい字はなぞりましょう。)

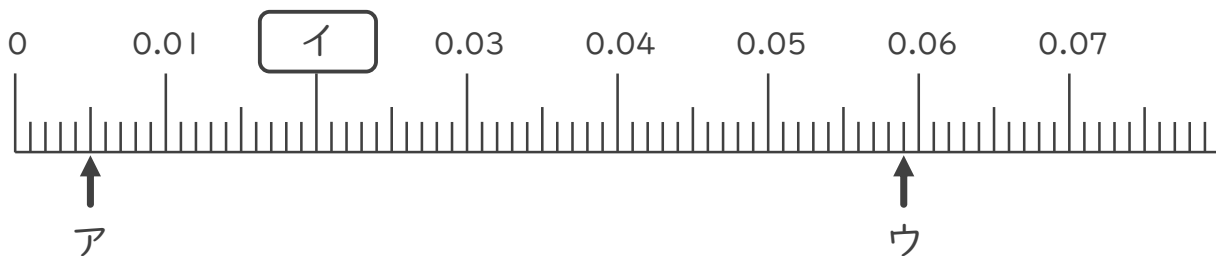
- ① 0.01 ② 0.001 ③ 0.005 ④ 0.058



- ⑤ 1.001 ⑥ 1.005 ⑦ 1.025 ⑧ 1.068



2. 次の数直線でア～ウが表す数を答えましょう。(うすい字はなぞりましょう。)



ア 0.005

イ 0.02

ウ 0.059

