



分数 12

● 整数と分数のひき算



日にち： 月 日

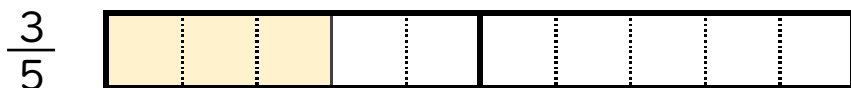
名まえ _____

1 $2 - \frac{3}{5}$ の計算をして、答えは仮分数で表しましょう。
(うすい字はなぞりましょう。)

① 2 と $\frac{3}{5}$ は、それぞれ $\frac{1}{5}$ の何こ分ですか。



$\frac{1}{5}$ の こ分



$\frac{1}{5}$ の こ分

② $2 - \frac{3}{5} = \frac{10}{5} - \frac{3}{5} =$

2 次の計算をして、答えは仮分数で表しましょう。

① $5 - \frac{2}{3} = \frac{15}{3} - \frac{2}{3} = \frac{13}{3}$

② $4 - \frac{1}{2} =$



分数 12

● 整数と分数のひき算

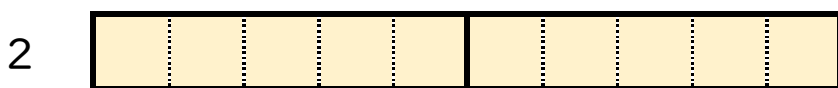


日にち： 月 日

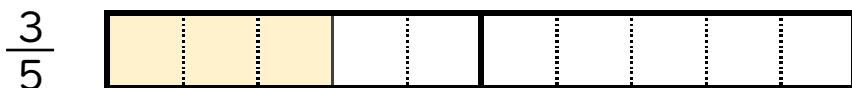
名まえ _____

1 $2 - \frac{3}{5}$ の計算をして、答えは仮分数で表しましょう。
(うすい字はなぞりましょう。)

① 2 と $\frac{3}{5}$ は、それぞれ $\frac{1}{5}$ の何こ分ですか。



$\frac{1}{5}$ の **10** こ分



$\frac{1}{5}$ の **3** こ分

② $2 - \frac{3}{5} = \frac{10}{5} - \frac{3}{5} = \frac{7}{5}$

2 次の計算をして、答えは仮分数で表しましょう。

① $5 - \frac{2}{3} = \frac{15}{3} - \frac{2}{3} = \frac{13}{3}$

② $4 - \frac{1}{2} = \frac{8}{2} - \frac{1}{2} = \frac{7}{2}$