



小数のたし算とひき算 II

● 文章問題の練習

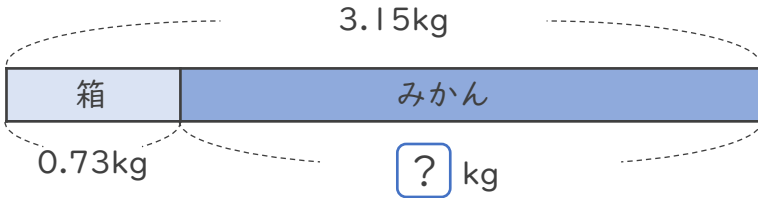


日にち： 月 日

名まえ _____

- 1 0.73kgの箱にみかんを入れて重さをはかったら、全部で3.15kgありました。みかんだけの重さは何kgですか。

(うすい字はなぞりましょう。)

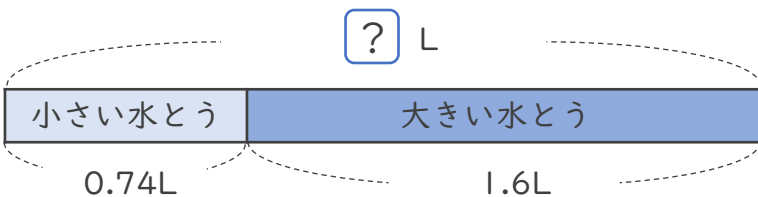


筆算スペース

式 $3.15 - 0.73 =$

答え ()

- 2 水が小さい水とうに0.74L、大きい水とうに1.6L入っています。水は、あわせて何Lありますか。(うすい字はなぞりましょう。)



筆算スペース

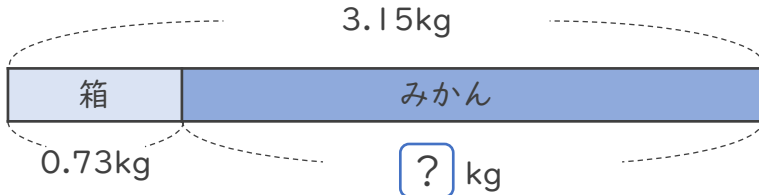
式 $0.74 +$ $=$

答え ()



- 1 0.73kgの箱にみかんを入れて重さをはかったら、全部で3.15kgありました。みかんだけの重さは何kgですか。

(うすい字はなぞりましょう。)

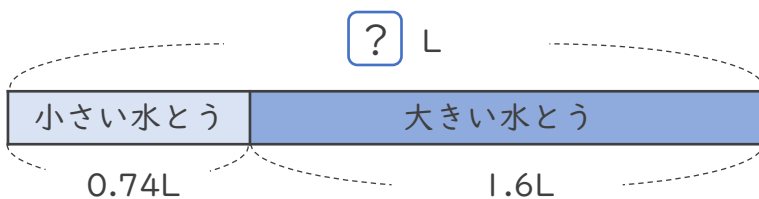


筆算スペース

式 $3.15 - 0.73 = 2.42$

答え (2.42kg)

- 2 水が小さい水とうに0.74L、大きい水とうに1.6L入っています。水は、あわせて何Lありますか。(うすい字はなぞりましょう。)



筆算スペース

式 $0.74 + 1.6 = 2.34$

答え (2.34L)

