



# 角の大きさ 〇〇

● 時計回りの角の作図

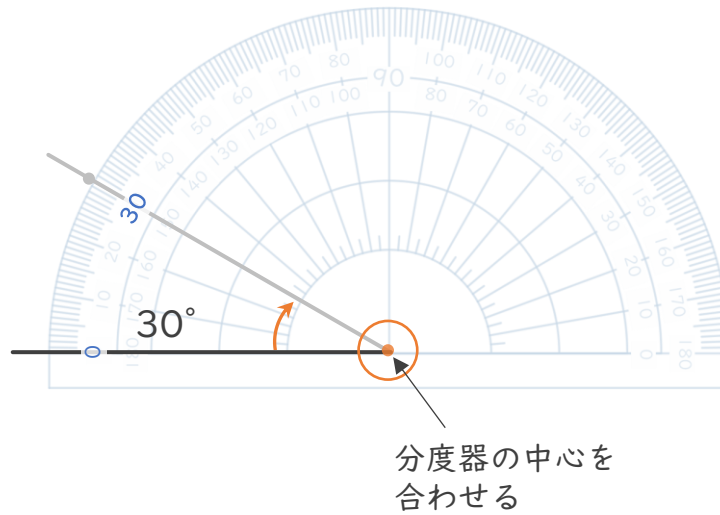


日にち：            月            日

名まえ \_\_\_\_\_

・ 次の角をかきましょう。(うすい点や線はなぞりましょう。)


①  $30^\circ$



②  $60^\circ$



③  $120^\circ$





# 角の大きさ 〇〇

● 時計回りの角の作図

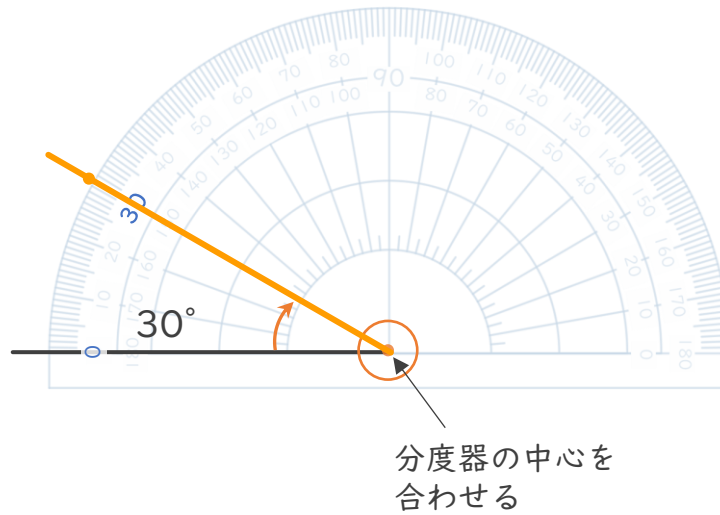


日にち：            月            日

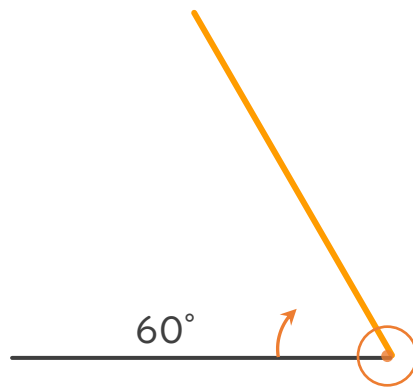
名まえ \_\_\_\_\_

・ 次の角をかきましょう。(うすい点や線はなぞりましょう。)

①  $30^\circ$



②  $60^\circ$



③  $120^\circ$

