



分数 (分数の表し方) 2

● 水のかさを帯分数と仮分数で表す

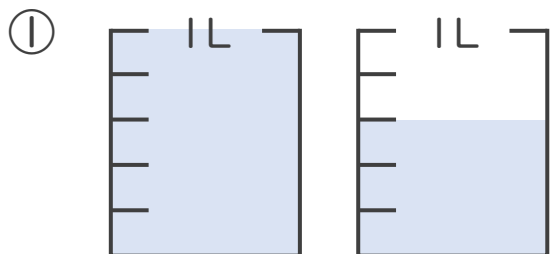


日にち： 月 日

名まえ _____

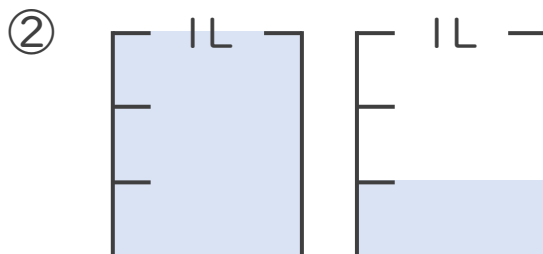
1 水のかさは何Lですか。仮分数と帯分数の両方で表しましょう。

(うすい字はなぞりましょう。)



答え：仮分数… $\frac{8}{5}$ L

帯分数… $1\frac{3}{5}$ L



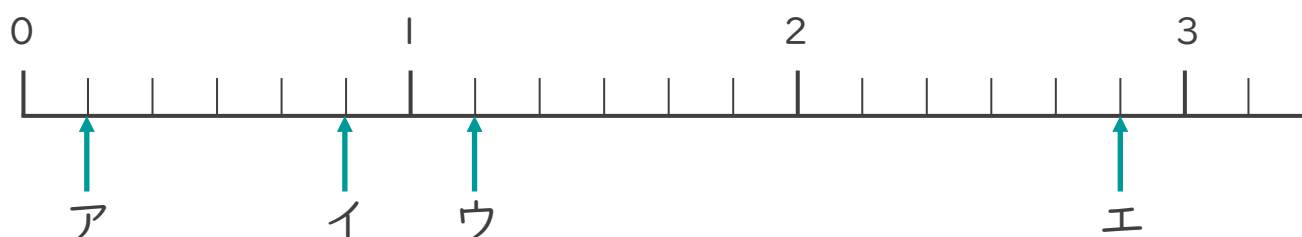
答え：仮分数… $\frac{4}{3}$ L

帯分数… $1\frac{1}{3}$ L

2 ア～エのめもりが表す分数はいくつですか。

1より大きい分数は、仮分数と帯分数の両方で表しましょう。

(うすい字はなぞりましょう。)



答え：ア $\frac{1}{6}$

イ $\frac{5}{6}$

ウ $\frac{7}{6}$, $1\frac{1}{6}$

エ $\frac{17}{6}$, $2\frac{5}{6}$

