



垂直、平行と
四角形 18

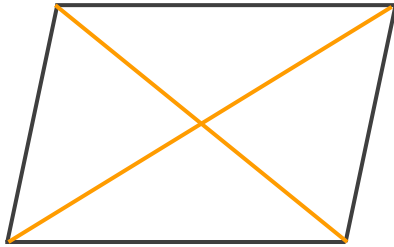
● 色々な四角形と対角線



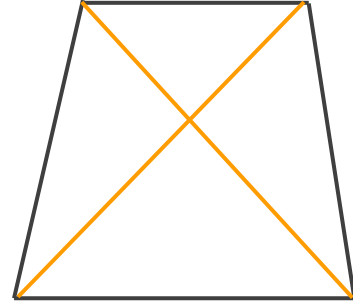
日にち： 月 日

名まえ _____

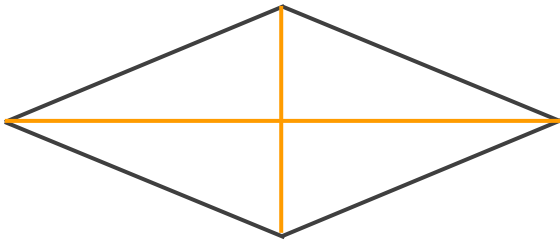
- ・ 次の四角形の名前を〔 〕に書きましょう。
また、対角線をかきましょう。(うすい線はなぞりましょう。)



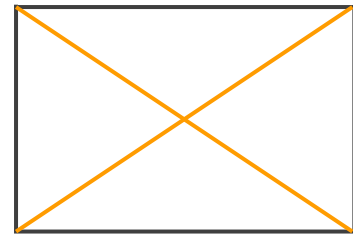
〔 平行四辺形 〕




〔 台形 〕



〔 ひし形 〕



〔 長方形 〕



〔 正方形 〕