



倍の見方！

◎ 長さは何倍？

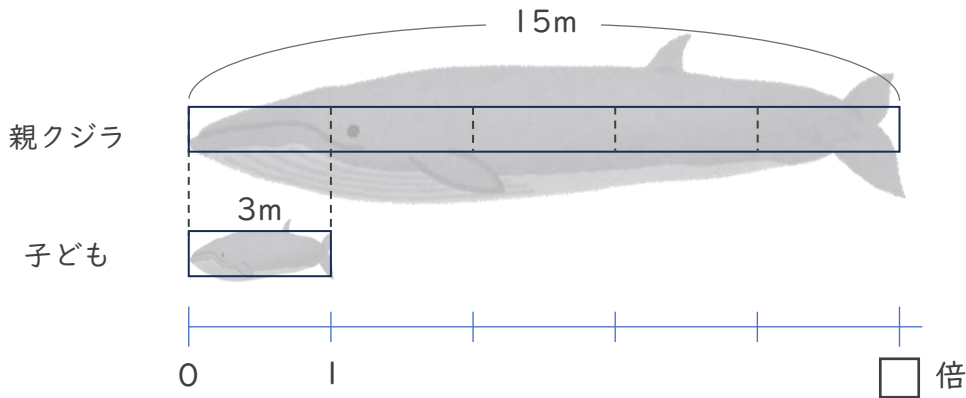


日にち： 月 日

名まえ _____

・ 次の問いに答えましょう。（うすい字はなぞりましょう。）

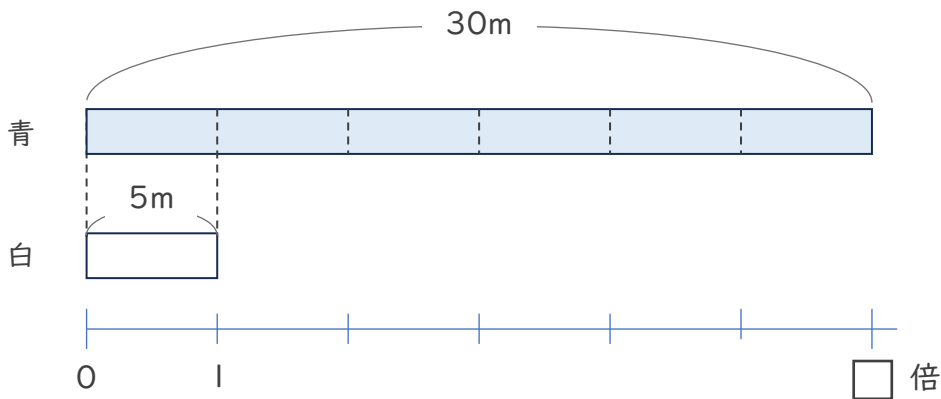
- ① 子どものクジラの体長は3 m、親クジラの体長は15 mです。親のクジラの体長は子どものクジラの体長の何倍ですか。



式： $15 \div 3 =$

答え（ 倍 ）

- ② 白のリボンの長さは5 mで、青のリボンの長さは30 mです。青のリボンは白のリボンの何倍の長さですか。



式：

答え（ ）



倍の見方！

◎ 長さは何倍？

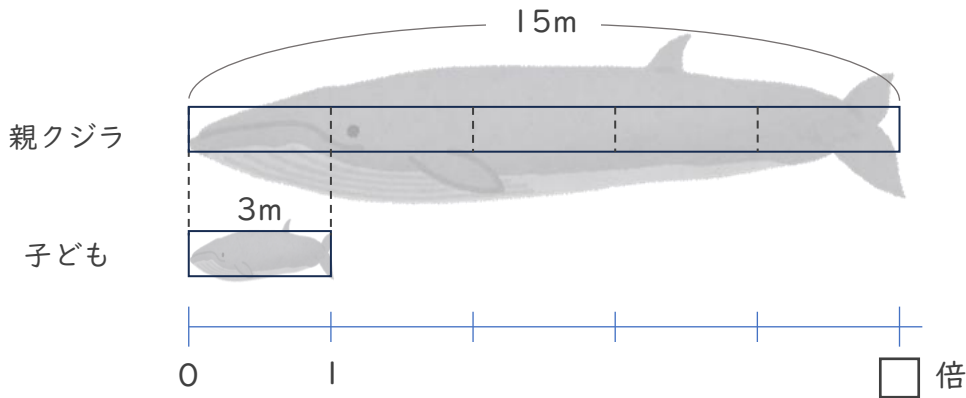


日にち： 月 日

名まえ _____

・ 次の問いに答えましょう。（うすい字はなぞりましょう。）

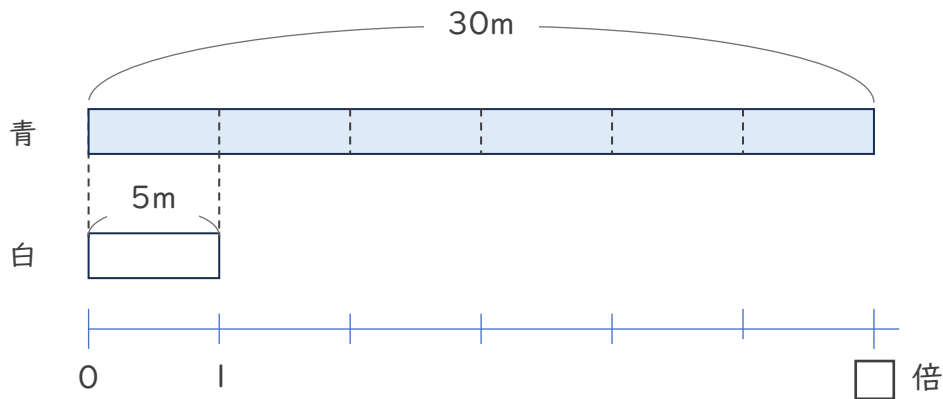
- ① 子どものクジラの体長は3 m、親クジラの体長は15 mです。親のクジラの体長は子どものクジラの体長の何倍ですか。



式： $15 \div 3 = 5$

答え（ **5倍** ）

- ② 白のリボンの長さは5 mで、青のリボンの長さは30 mです。青のリボンは白のリボンの何倍の長さですか。



式： $30 \div 5 = 6$

答え（ **6倍** ）

