



直方体や立方体 10

● 面と面の関係
(垂直と平行)



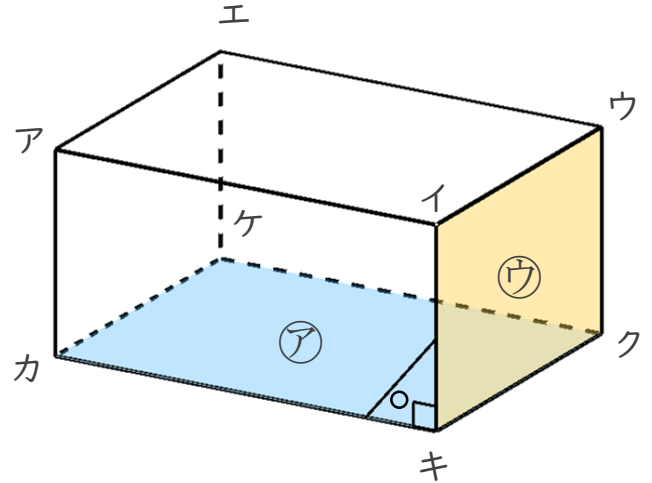
日にち： 月 日

名まえ

1 面と面の関係について調べましょう。(うすい字はなぞりましょう。)

面アと面ウは垂直です。

面ウ = 面イキクウ だよ!



☆ 面アと垂直な面を全部書きましょう。

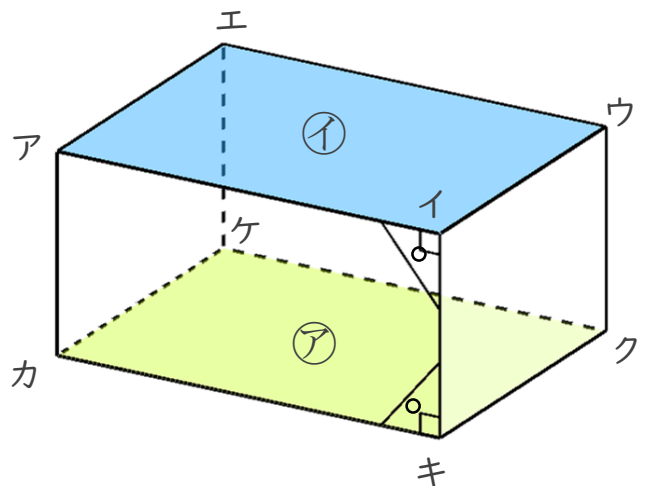
答え 面イキクウ, 面アカキイ, 面 _____, 面 _____

2 面と面の関係について調べましょう。(うすい字はなぞりましょう。)

面アと面イは平行です。

面ア = 面ケカキク

面イ = 面エアイウ だよ!



☆ 面アカキイと平行な面を書きましょう。

答え 面エケクウ



直方体や立方体 10

● 面と面の関係
(垂直と平行)



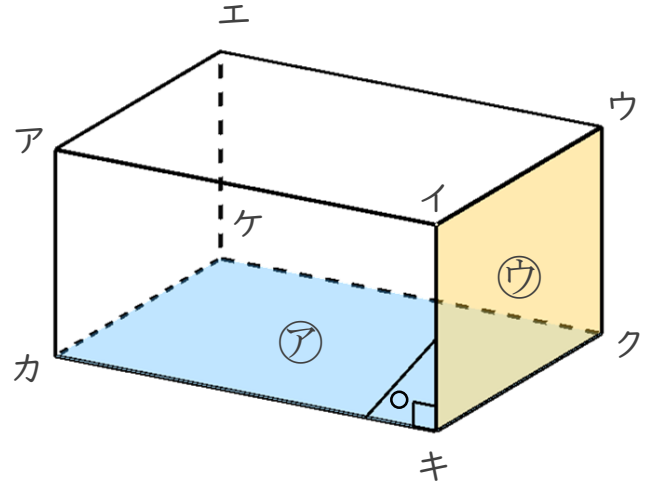
日にち： 月 日

名まえ

1 面と面の関係について調べましょう。(うすい字はなぞりましょう。)

面アと面ウは垂直です。

面ウ = 面イキクウ だよ!



☆ 面アと垂直な面を全部書きましょう。

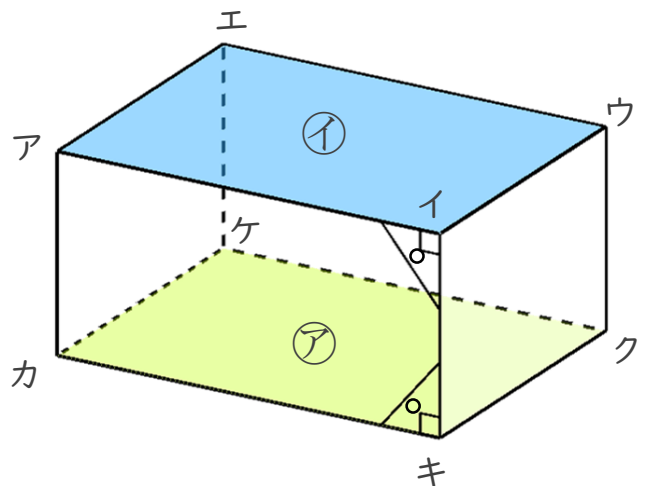
答え 面イキクウ, 面アカキイ, 面アカケエ, 面エケクウ

2 面と面の関係について調べましょう。(うすい字はなぞりましょう。)

面アと面イは平行です。

面ア = 面ケカキク

面イ = 面エアイウ だよ!



☆ 面アカキイと平行な面を書きましょう。

答え 面エケクウ