



わり算の筆算 22

◎ 2けたでわるわり算とは

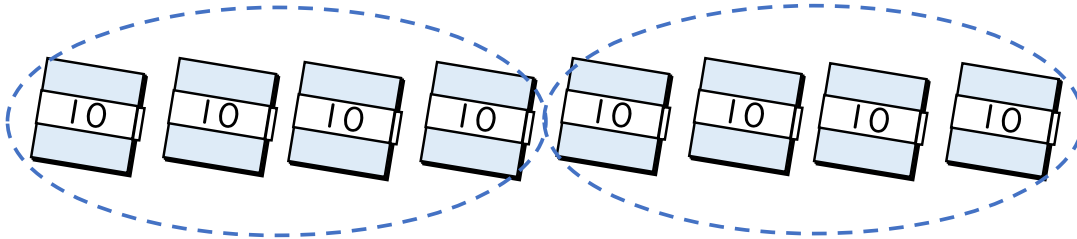


日にち： 月 日

名まえ _____

- ・ 折り紙が80まいあります。

この折り紙を1人に40まいずつ分けると、何人に分けられますか。
(うすい字はなぞりましょう。)



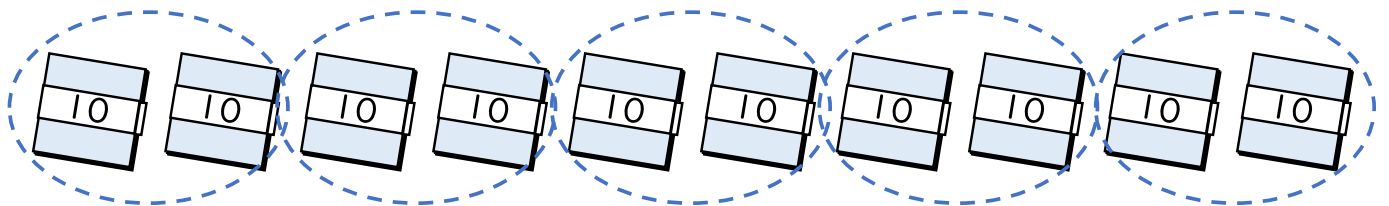
式: $80 \div 40 =$ 2

$8 \div 4 = 2$
 $80 \div 40 = 2$) 等しい

答え： _____ 人

- ・ 折り紙が100まいあります。

この折り紙を1人に20まいずつ分けると、何人に分けられますか。
(うすい字はなぞりましょう。)



式: $100 \div 20 =$ 5

$10 \div 2 = 5$
 $100 \div 20 = 5$) 等しい

答え： _____ 人



わり算の筆算 22

◎ 2けたでわるわり算とは

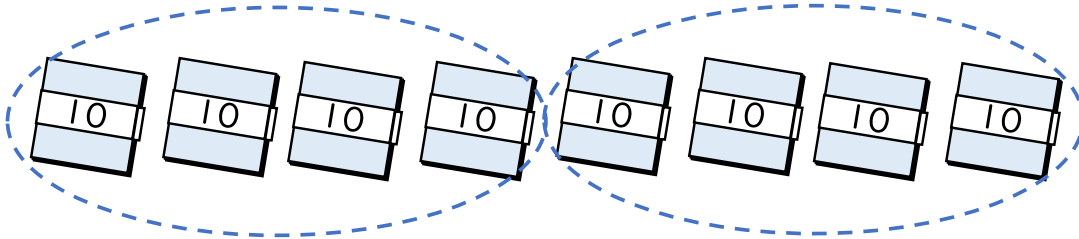


日にち： 月 日

名まえ _____

- ・ 折り紙が80まいあります。

この折り紙を1人に40まいずつ分けると、何人に分けられますか。
(うすい字はなぞりましょう。)



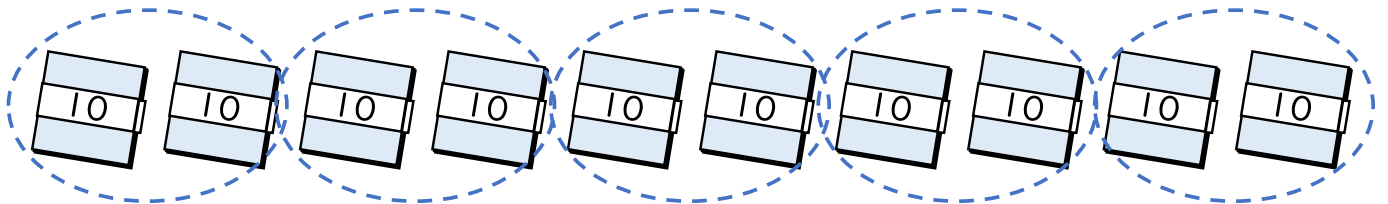
式: $80 \div 40 =$ 2

$8 \div 4 = 2$
 $80 \div 40 = 2$) 等しい

答え： 2人

- ・ 折り紙が100まいあります。

この折り紙を1人に20まいずつ分けると、何人に分けられますか。
(うすい字はなぞりましょう。)



式: $100 \div 20 =$ 5

$10 \div 2 = 5$
 $100 \div 20 = 5$) 等しい

答え： 5人