



小数のしくみ7

◎ 6より0.03小さい数



日にち： 月 日

名まえ _____

1. 下の数直線で、ア～エの数を表すめもりに ↑ をかきましょう。

また、↑ の下にア～エの記号とその数をかきましょう。

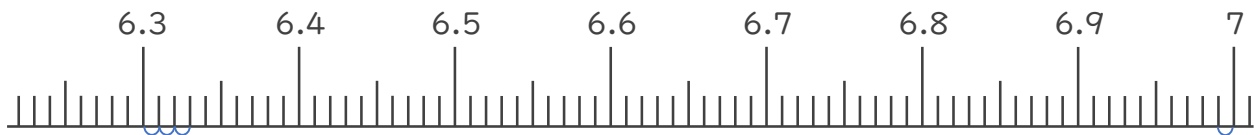
(うすい字はなぞりましょう。)

ア 5.5より0.02大きい数

イ 6より0.03小さい数

ウ 6.3より0.03大きい数

エ 7より0.01小さい数



2. 次の数はいくつですか。(うすい字はなぞりましょう。)

① 5と0.65をあわせた数

答え 5.65

② 1を5こ、0.1を1こ、0.01を4こあわせた数

答え 5.14

③ 1を3こ、0.1を8こ、0.01を2こあわせた数

答え _____





小数のしくみ7

© 6より0.03小さい数



日にち： 月 日

名まえ

1. 下の数直線で、ア～エの数を表すめもりに ↑ をかきましよう。

また、↑ の下にア～エの記号とその数をかきましよう。

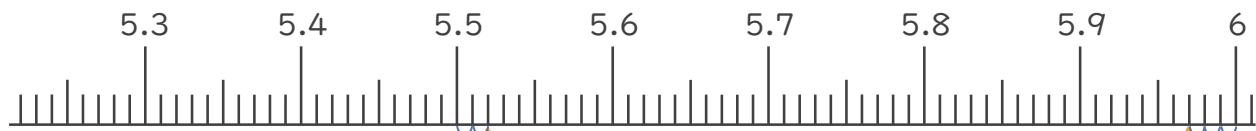
(うすい字はなぞりましよう。)

ア 5.5より0.02大きい数

イ 6より0.03小さい数

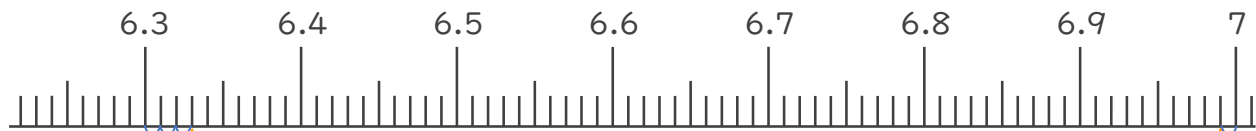
ウ 6.3より0.03大きい数

エ 7より0.01小さい数



ア 5.52

イ 5.97



ウ 6.33

エ 6.99

2. 次の数はいくつですか。(うすい字はなぞりましよう。)

① 5と0.65をあわせた数

答え 5.65

② 1を5こ、0.1を1こ、0.01を4こあわせた数

答え 5.14

③ 1を3こ、0.1を8こ、0.01を2こあわせた数

答え 3.82

