



# 垂直, 平行と 四角形2

2直線と垂直



日にち：      月      日

名まえ \_\_\_\_\_

次の図で、2本の直線が垂直であるものを㉠～㉤の中から全て選びましょう。(うすい字はなぞりましょう。)

㉠



㉡



㉢



㉣

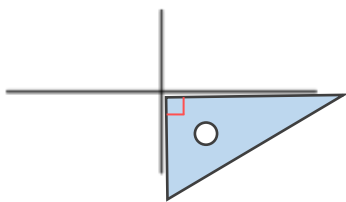


㉤

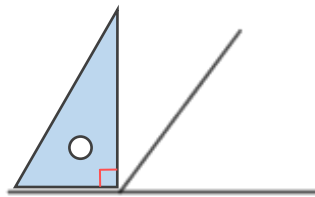


三角じょうぎの直角の部分をあててみよう!

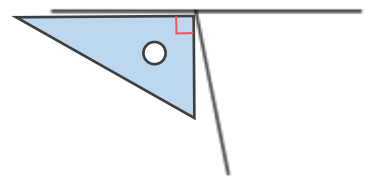
㉠



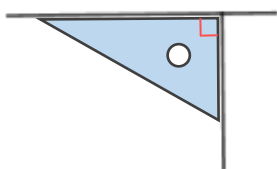
㉡



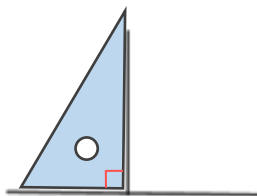
㉢



㉣



㉤



答え：      ㉠,      ,





# 垂直, 平行と 四角形2

2直線と垂直



日にち：      月      日

名まえ \_\_\_\_\_

次の図で、2本の直線が垂直であるものを㉠～㉤の中から全て選びましょう。(うすい字はなぞりましょう。)

㉠



㉡



㉢



㉣

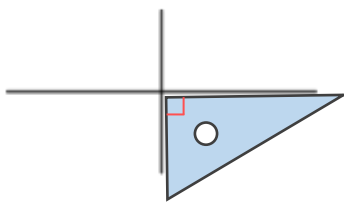


㉤

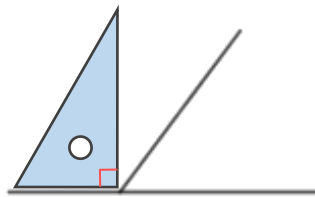


三角じょうぎの直角の部分をあててみよう!

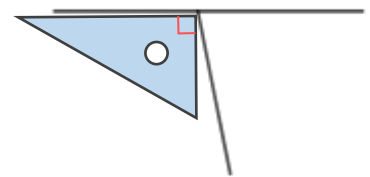
㉠



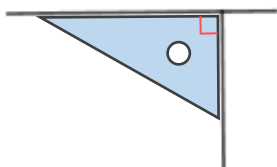
㉡



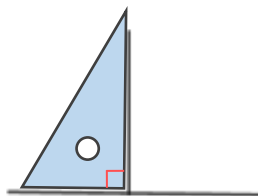
㉢



㉣



㉤



答え：      ㉠, ㉣, ㉤

