



小数の表し方⑨

◎ mをkmで, gをkgで表す

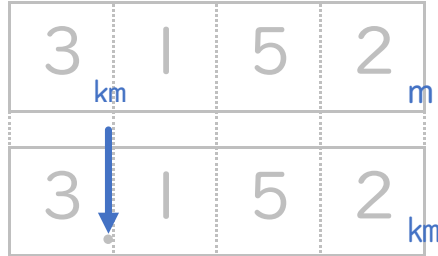


日にち： 月 日

名まえ

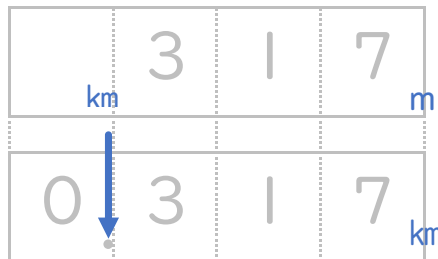
・ 次の長さを、小数を使ってkmで表しましょう。(うすい字はなぞりましょう。)

① 3 km | 5 2 m



答え 3.152 km

② 3 | 7 m



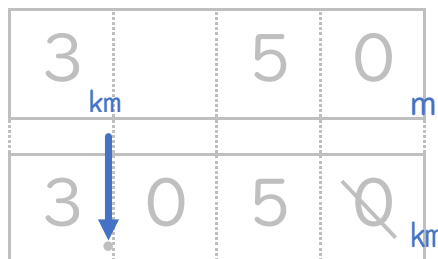
答え 0.317 km

③ 5 0 m



答え 0.05 km

④ 3 km 5 0 m



答え km





小数の表し方⑨

◎ mをkmで, gをkgで表す

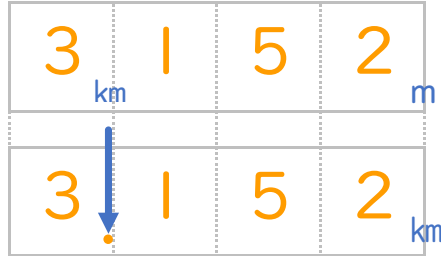


日にち： 月 日

名まえ

・ 次の長さを、小数を使ってkmで表しましょう。(うすい字はなぞりましょう。)

① 3 km | 5 2 m



答え 3.152 km

② 3 | 7 m



答え 0.317 km

③ 5 0 m



答え 0.05 km

④ 3 km 5 0 m



答え 3.05 km

