



垂直, 平行と 四角形 9

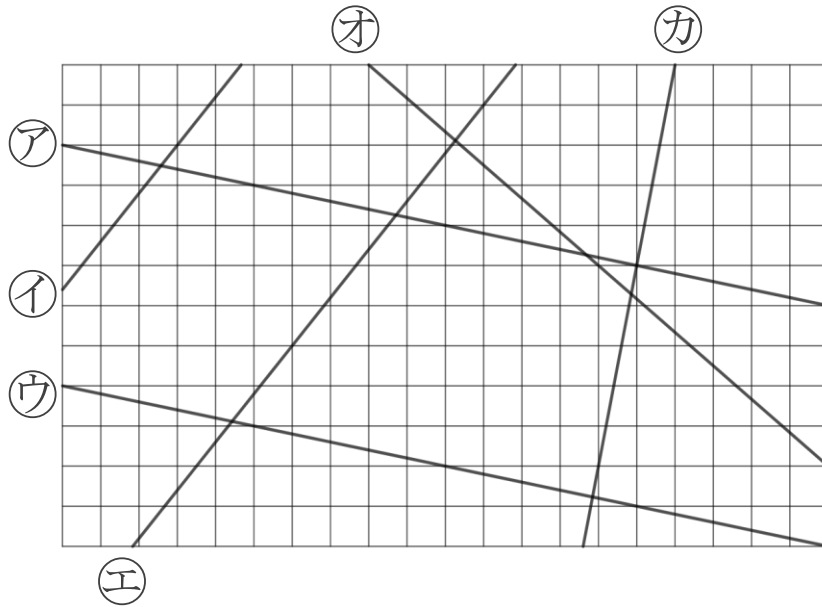
● 垂直, 平行な
組み合わせをさがす

10

日にち： 月 日

名まえ _____

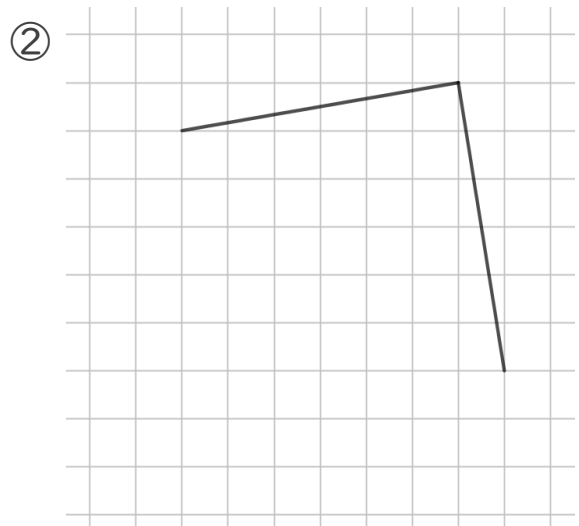
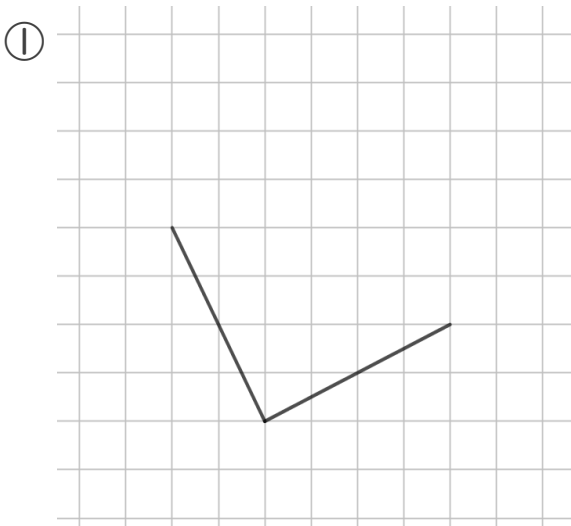
1 次の図で、垂直な直線はどれとどれですか。また、平行な直線は、どれとどれですか。



答え： 垂直な組み合わせ…

平行な組み合わせ…

2 次の図の続きをかいて、正方形を完成させましょう。





垂直, 平行と 四角形⑨

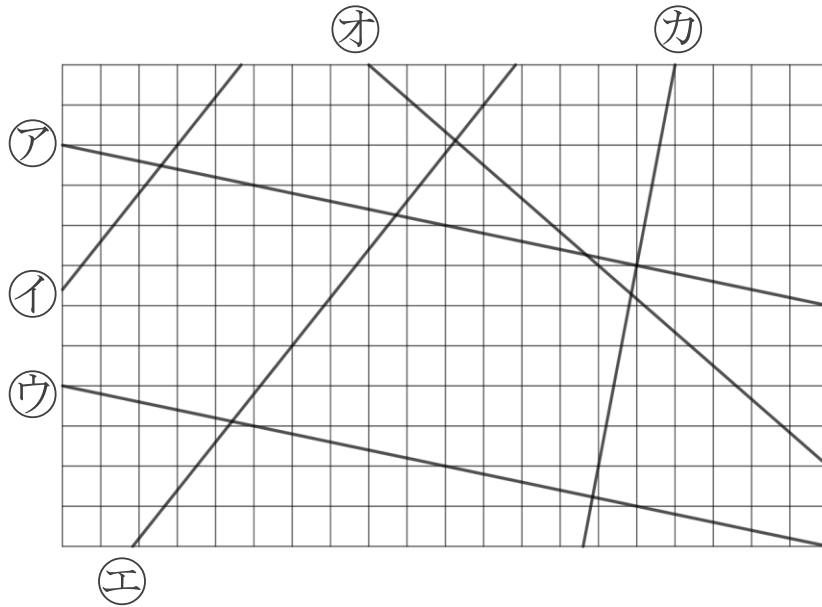
● 垂直, 平行な
組み合わせをさがす

10

日にち： 月 日

名まえ _____

1 次の図で、垂直な直線はどれとどれですか。また、平行な直線は、どれとどれですか。



答え： 垂直な組み合わせ… ア と カ, ウ と カ,
イ と オ, エ と オ

平行な組み合わせ… ア と ウ, イ と エ

2 次の図の続きをかいて、正方形を完成させましょう。

