



# 垂直, 平行と 四角形 9

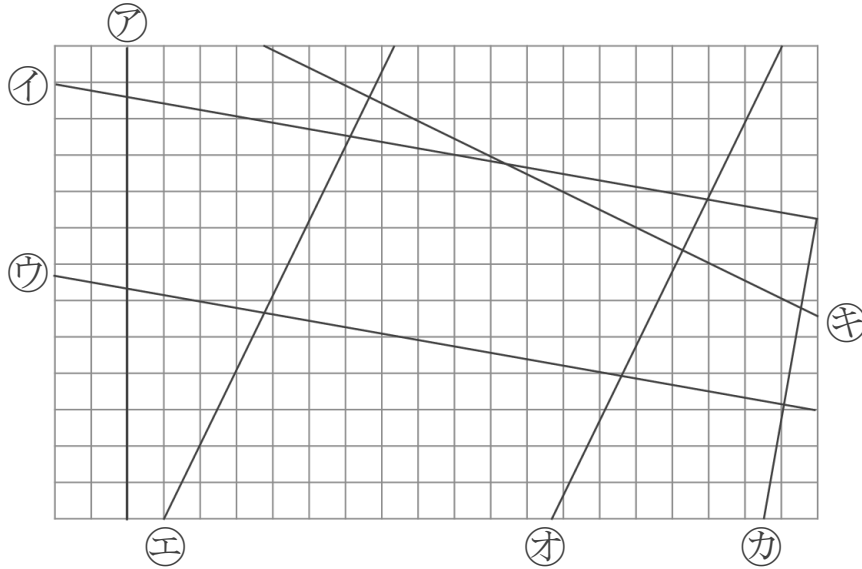
● 垂直, 平行な  
組み合わせをさがす

10

日にち：            月            日

名まえ \_\_\_\_\_

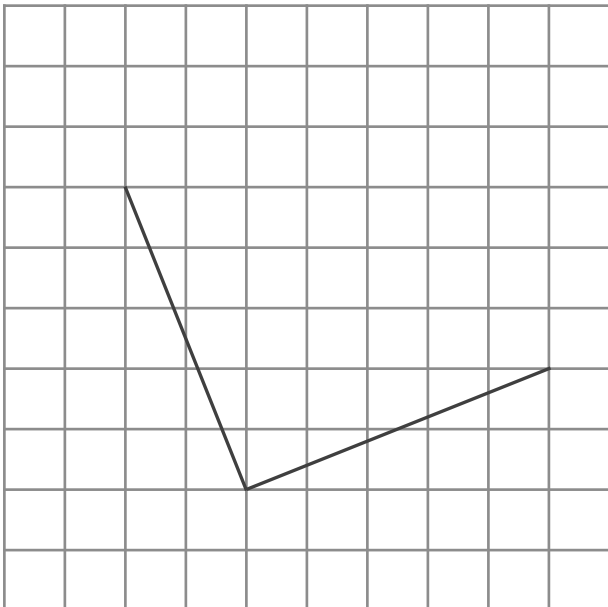
- 1 次の図で、垂直な直線はどれとどれですか。  
また、平行な直線はどれとどれですか。



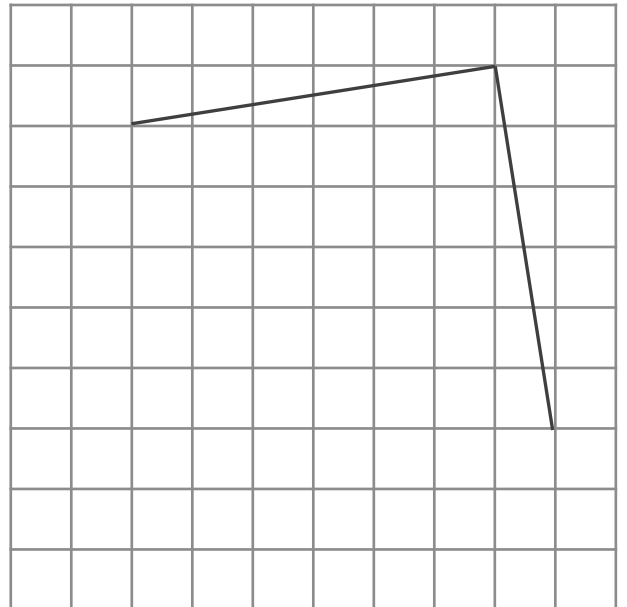
答え： 垂直…  
          平行…

- 2 次の図の続きをかいて、正方形を完成させましょう。

①



②





# 垂直, 平行と四角形9

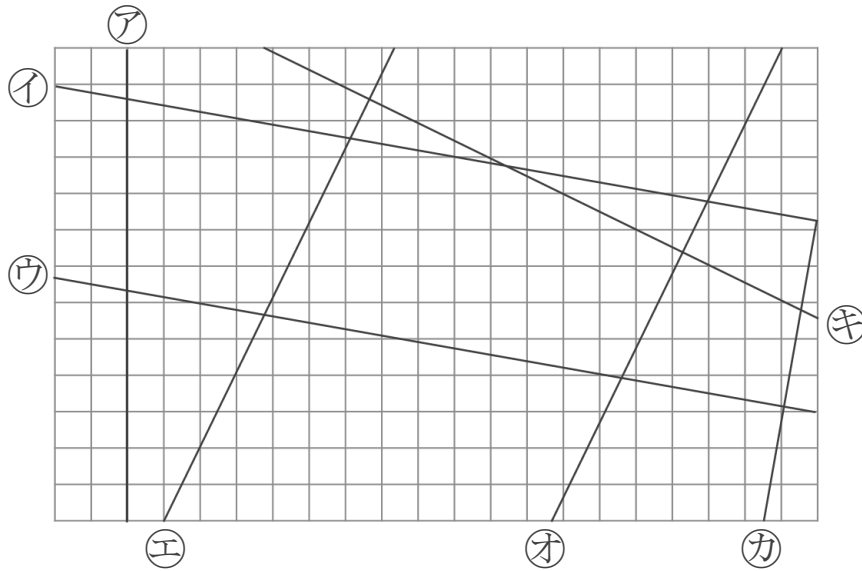
● 垂直, 平行な組み合わせをさがす



日にち：            月            日

名まえ \_\_\_\_\_

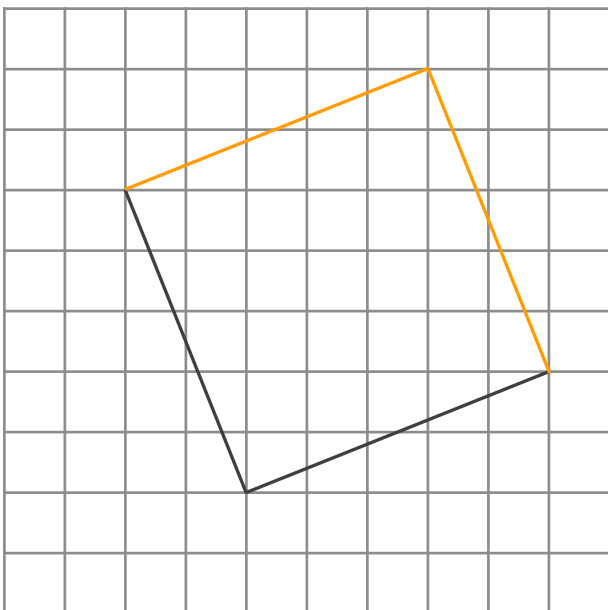
1 次の図で、垂直な直線はどれとどれですか。  
また、平行な直線はどれとどれですか。



答え： 垂直… イとカ, ウとカ, エとキ, オとキ  
 平行… イとウ, エとオ

2 次の図の続きをかいて、正方形を完成させましょう。

①



②

