



垂直、平行と
四角形 19

◎ 対角線の性質と
四角形の種類



日にち： 月 日

名まえ _____

1 次のせいしつがいつでもあてはまる四角形を、下からすべて選んで㉑から㉔で
答えましょう。

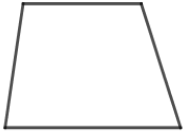
㉑ 台形

㉒ 正方形

㉓ ひし形

㉔ 平行四辺形

㉕ 長方形



① 向かい合った辺の長さが等しい。

()


② 向かい合った角の大きさが等しい。

()

③ 2本の対角線が垂直に交わる。

()

2 対角線の長さが10cmと4cmのひし形をかきましょう。





垂直、平行と
四角形 19

◎ 対角線の性質と
四角形の種類



日にち： 月 日

名まえ _____

1 次のせいしつがいつでもあてはまる四角形を、下からすべて選んで㉑から㉔で答えましょう。

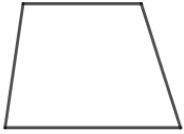
㉑ 台形

㉒ 正方形

㉓ ひし形

㉔ 平行四辺形

㉕ 長方形



① 向かい合った辺の長さが等しい。

(㉒, ㉓, ㉔, ㉕)

② 向かい合った角の大きさが等しい。

(㉑, ㉒, ㉓, ㉔)

③ 2本の対角線が垂直に交わる。

(㉑, ㉒)

2 対角線の長さが10cmと4cmのひし形をかきましょう。

