



小数のたし算とひき算4

◎ 計算のくふうと小数のたし算



日にち： 月 日

名まえ _____

1 エ夫して計算しましょう。

① $5.2 + 4.7 + 1.8 =$

=

=


② $5.49 + 2.3 + 2.51 =$

=


=

2 次の計算をしましょう。


① $18 + 1.34$




② $6.69 + 2.31$



③ $0.55 + 3.499$



④ $20.04 + 3.96$





小数のたし算とひき算4

◎ 計算のくふうと小数のたし算



日にち： 月 日

名まえ _____

1 エ夫して計算しましょう。

$$\begin{aligned} \textcircled{1} \quad 5.2 + 4.7 + 1.8 &= 5.2 + 1.8 + 4.7 \\ &= 7 + 4.7 \\ &= 11.7 \end{aligned}$$

$$\begin{aligned} \textcircled{2} \quad 5.49 + 2.3 + 2.51 &= 5.49 + 2.51 + 2.3 \\ &= 8 + 2.3 \\ &= 10.3 \end{aligned}$$

2 次の計算をしましょう。

① 18 + 1.34

	1	8	0	0
+		1	3	4
<hr/>				
	1	9	3	4

② 6.69 + 2.31

	6	6	9
+	2	3	1
<hr/>			
	9	0	0

③ 0.55 + 3.499

	0	5	5	0
+	3	4	9	9
<hr/>				
	4	0	4	9

④ 20.04 + 3.96

	2	0	0	4
+		3	9	6
<hr/>				
	2	4	0	0