



直方体や立方体 10

◎ 展開図と平行・垂直



日にち： 月 日

名まえ _____

1 下の立方体の展開図を組み立てます。

① 面㊸に平行な面はどれですか。

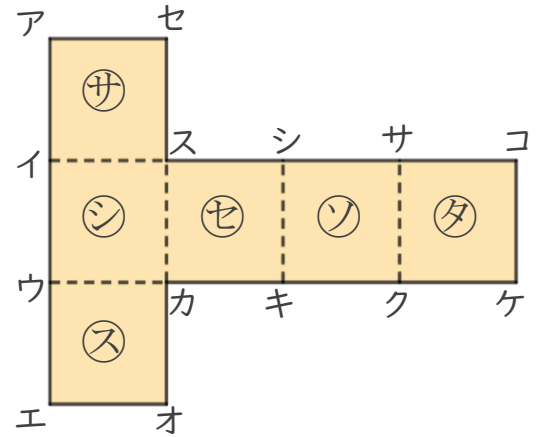
答え _____

② 面㊿に垂直な面はどれですか。

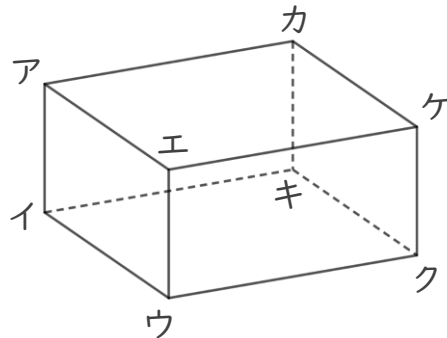
答え _____

③ 辺カキに垂直な面はどれですか。

答え _____



2 面と面の関係について調べましょう。



① 面アエケカと垂直な面を全部書きましょう。

答え _____

② 面イウクキと平行な面を書きましょう。

答え _____





直方体や立方体 10

◎ 展開図と平行・垂直



日にち： 月 日

名まえ _____

1 下の立方体の展開図を組み立てます。

① 面㊸に平行な面はどれですか。

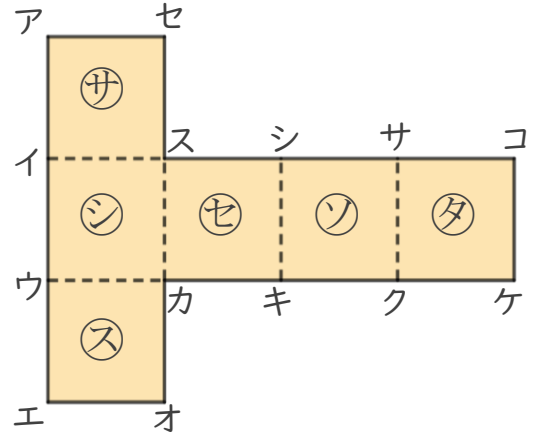
答え 面㊴

② 面㊶に垂直な面はどれですか。

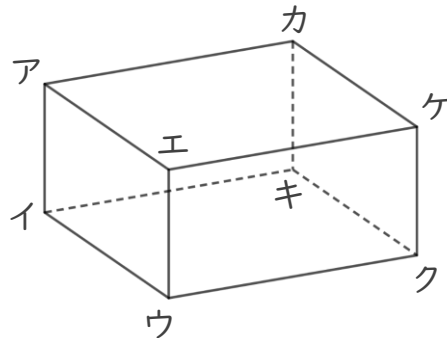
答え 面㊴, 面㊵, 面㊷, 面㊸

③ 辺カキに垂直な面はどれですか。

答え 面㊶, 面㊷



2 面と面の関係について調べましょう。



① 面アエケカと垂直な面を全部書きましょう。

答え 面アイキカ, 面アイウエ, 面エウクケ, 面カキクケ

② 面イウクキと平行な面を書きましょう。

答え 面アエケカ

