



# 小数のわり算12

● 帯小数の"あまり"を求める



日にち：          月          日

名まえ \_\_\_\_\_

1 次の筆算をしましょう。商は一の位まで求め、あまりもだしましょう。


①  $65.3 \div 8$



②  $21.9 \div 5$



③  $43.1 \div 6$




④  $44.7 \div 5$



⑤  $32.2 \div 9$




⑥  $39.3 \div 6$



2 次の計算を筆算でしましょう。

①  $3.04 \div 16$



②  $0.56 \div 8$



③  $0.36 \div 6$





# 小数のわり算12

◎ 帯小数の"あまり"を求める



日にち：            月            日

名まえ \_\_\_\_\_

1 次の筆算をしましょう。商は一の位まで求め、あまりもだしましょう。

①  $65.3 \div 8$

		8	
8	)	65.3	
		64	
		1	3

②  $21.9 \div 5$

		4	
5	)	21.9	
		20	
		1	9

③  $43.1 \div 6$

		7	
6	)	43.1	
		42	
		1	1

④  $44.7 \div 5$

		8	
5	)	44.7	
		40	
		4	7

⑤  $32.2 \div 9$

		3	
9	)	32.2	
		27	
		5	2

⑥  $39.3 \div 6$

		6	
6	)	39.3	
		36	
		3	3

2 次の計算を筆算でしましょう。

①  $3.04 \div 16$

		0.19	
16	)	3.04	
		16	
		144	
		144	
		0	

②  $0.56 \div 8$

		0.07	
8	)	0.56	
		56	
		0	

③  $0.36 \div 6$

		0.06	
6	)	0.36	
		36	
		0	