



面積の
はかり方と表し方 9

◎ 平方キロメートルの面積



日にち： 月 日

名まえ _____

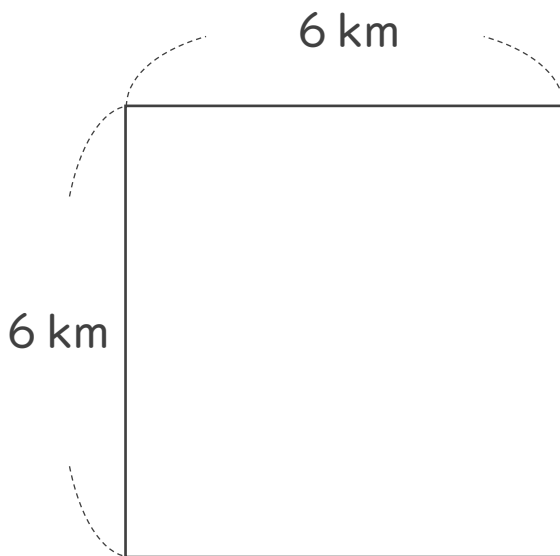
1 たて5 m、横4 mの部屋の面積は、何 m^2 でしょう。

式：

答え： _____

2 次の図形の面積を求めましょう。

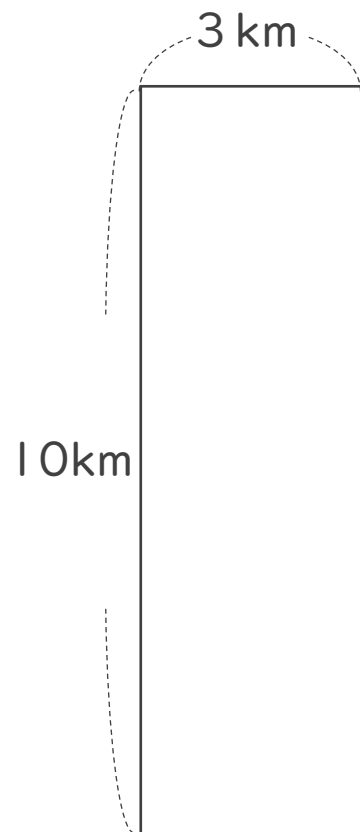
①



式：

答え： _____

②



式：

答え： _____



面積の
はかり方と表し方 9

◎ 平方キロメートルの面積



日にち： 月 日

名まえ _____

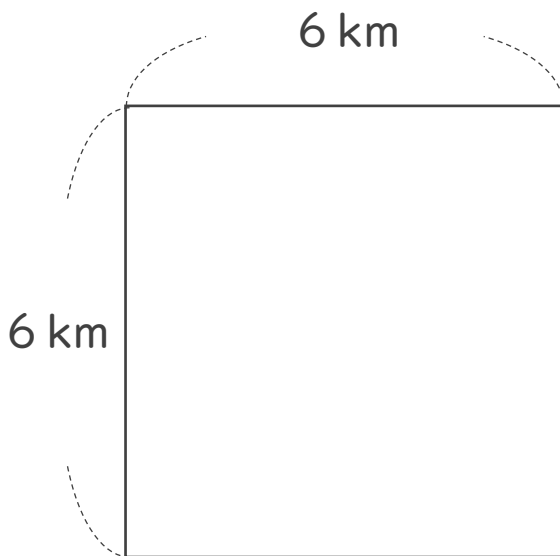
1 たて5 m、横4 mの部屋の面積は、何 m^2 でしょう。

式： $5 \times 4 = 20$

答え：20 m^2

2 次の図形の面積を求めましょう。

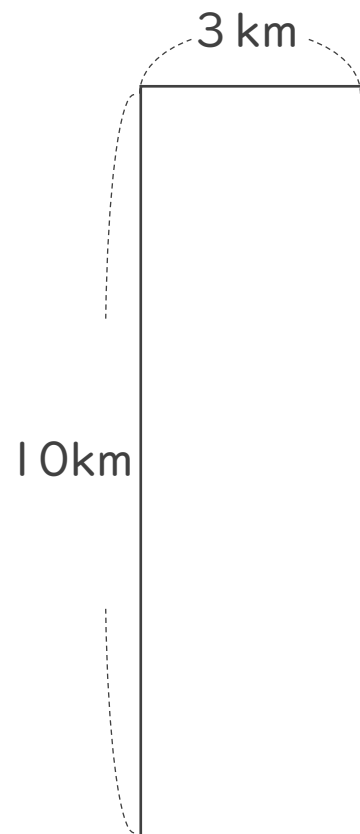
①



式： $6 \times 6 = 36$

答え：36 km^2

②



式： $10 \times 3 = 30$

答え：30 km^2

